



おうちで、やろう。

Study at home. 小学校受験の家庭学習教材

常識：なぞなぞ6

①～⑤の問題を聞いて、下の四角の中から正しいものを選びます。


①私は土の中に住んでいます。小さいけれど働き者です。私に○をつけてください。

②私は花の蜜が大好きです。危険なことがあるとお尻から針を出して敵を攻撃します。私に△をつけてください。

③私は夏によくいます。角が2つあります。私に□をつけてください。

④私は子どものころは水の中にいます。大きくなると空を飛ぶことができます。私に◎をつけてください。

⑤私は足が8本あります。糸で巣を作ります。私に×をつけてください。



※1. このプリントは、しながわ・目黒こどもスクールのウェブサイトでダウンロードができます。無断複写・引用はご遠慮ください。

※2. このプリントを活用したオンライン授業のスケジュールは、しながわ・目黒こどもスクールのウェブサイトでご確認ください。



おうちで、やろう。

Study at home. 小学校受験の家庭学習教材

常識：生き物5

左の花の種や球根を右から選んで点と点をむすびます。

Connections: The first box (footprints) connects to the girl box. The second box (sprouts) connects to the pig box. The third box (paw prints) connects to the cat box. The fourth box (handprints) connects to the frog box. The fifth box (bean seeds) connects to the chicken box.

※1. このプリントは、しながわ・目黒こどもスクールのウェブサイトでダウンロードができます。無断複写・引用はご遠慮ください。
 ※2. このプリントを活用したオンライン授業のスケジュールは、しながわ・目黒こどもスクールのウェブサイトでご確認ください。



おうちで、やろう。

Study at home. 小学校受験の家庭学習教材

図形：折り重ね 23

左のマスは透明です。このマスを真ん中の太い線で矢印の方向へ折り重ねます。
このとき、隠れないで見えているマスの数だけ右の四角に○をかきます。

	$\bigcirc \times 1$		$\bigcirc \times 1$
--	---------------------	--	---------------------

	$\bigcirc \times 2$		$\bigcirc \times 1$
--	---------------------	--	---------------------

	$\bigcirc \times 2$		$\bigcirc \times 1$
--	---------------------	--	---------------------

	$\bigcirc \times 1$		$\bigcirc \times 2$
--	---------------------	--	---------------------

	$\bigcirc \times 2$		$\bigcirc \times 1$
--	---------------------	--	---------------------

※1. このプリントは、しながわ・目黒こどもスクールのウェブサイトでダウンロードができます。無断複写・引用はご遠慮ください。
※2. このプリントを活用したオンライン授業のスケジュールは、しながわ・目黒こどもスクールのウェブサイトでご確認ください。



おうちで、やろう。

Study at home. 小学校受験の家庭学習教材

図形：折り重ね 24

左のマスは透明です。このマスを真ん中の太い線で矢印の方向へ折り重ねます。
このとき、隠れないで見えているマスの数だけ右の四角に○をかきます。

	○×3		○×4
	○×4		○×2
	○×4		○×4
	○×3		○×4
	○×4		○×6

※1. このプリントは、しながわ・目黒こどもスクールのウェブサイトでダウンロードができます。無断複写・引用はご遠慮ください。
※2. このプリントを活用したオンライン授業のスケジュールは、しながわ・目黒こどもスクールのウェブサイトでご確認ください。



おうちで、やろう。

Study at home. 小学校受験の家庭学習教材

図形：折り重ね 25

左のマスは透明です。このマスを真ん中の太い線で矢印の方向へ折り重ねます。
このとき、隠れないで見えているマスの数だけ右の四角に○をかきます。

	○×8		○×7
--	-----	--	-----

	○×7		○×6
--	-----	--	-----

	○×7		○×7
--	-----	--	-----

	○×7		○×7
--	-----	--	-----

	○×6		○×11
--	-----	--	------

※1. このプリントは、しながわ・目黒こどもスクールのウェブサイトでダウンロードができます。無断複写・引用はご遠慮ください。
 ※2. このプリントを活用したオンライン授業のスケジュールは、しながわ・目黒こどもスクールのウェブサイトでご確認ください。

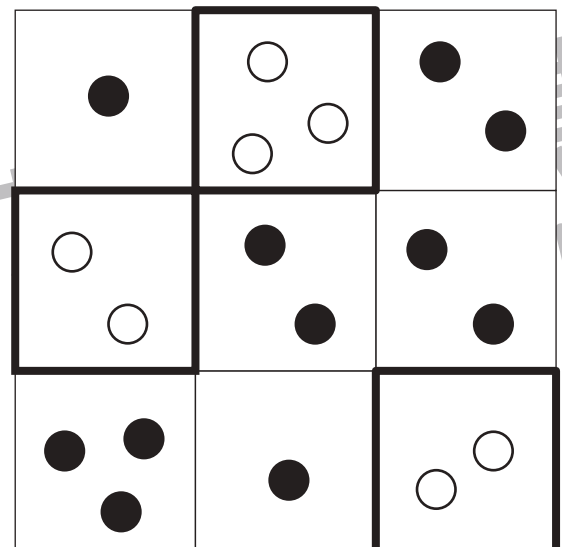
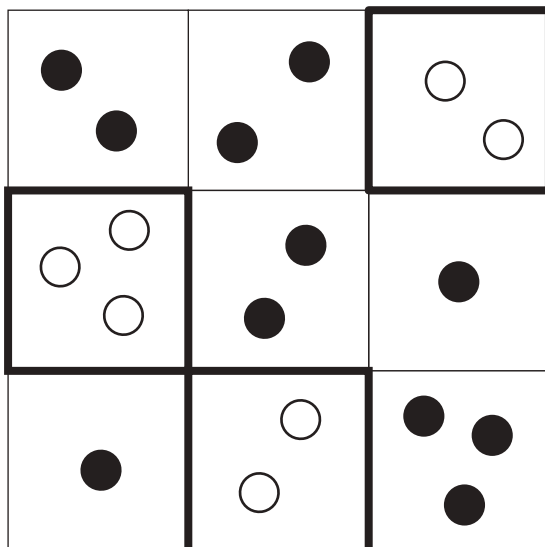

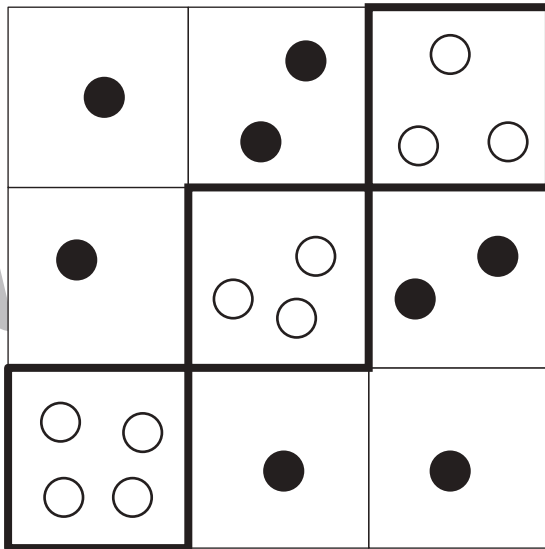




おうちで、やろう。

Study at home. 小学校受験の家庭学習教材

数量：条件推理 2

それぞれ縦と横に3つずつ四角が並んでいます。縦の3つ、横の3つの四角の中の丸を合わせると丸の数が6個になります。この約束のとき、空いている太い四角の中に丸が何個あればよいですか。その数だけ○をかきます。※斜めは考えません。



※1. このプリントは、しながわ・目黒こどもスクールのウェブサイトでダウンロードができます。無断複写・引用はご遠慮ください。

※2. このプリントを活用したオンライン授業のスケジュールは、しながわ・目黒こどもスクールのウェブサイトでご確認ください。


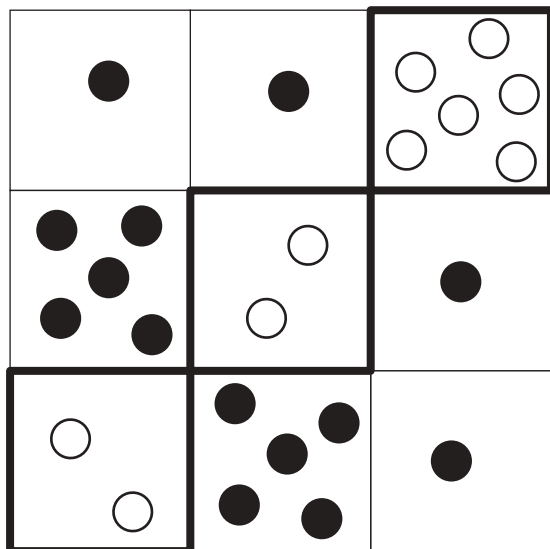






おうちで、やろう。

Study at home. 小学校受験の家庭学習教材

数量：条件推理 3

それぞれ縦と横に3つずつ四角が並んでいます。縦の3つ、横の3つの四角の中の丸を合わせると丸の数が8個になります。この約束のとき、空いている太い四角の中に丸が何個あればよいですか。その数だけ○をかきます。※斜めは考えません。



※1. このプリントは、しながわ・目黒こどもスクールのウェブサイトでダウンロードができます。無断複写・引用はご遠慮ください。
 ※2. このプリントを活用したオンライン授業のスケジュールは、しながわ・目黒こどもスクールのウェブサイトでご確認ください。











おうちで、やろう。

Study at home. 小学校受験の家庭学習教材

数量：条件推理 4

それぞれ縦と横に3つずつ四角が並んでいます。縦の3つ、横の3つの四角の中の丸を合わせると丸の数が8個になります。この約束のとき、空いている太い四角の中に丸が何個あればよいですか。その数だけ○をかきます。※斜めは考えません。



※1. このプリントは、しながわ・目黒こどもスクールのウェブサイトでダウンロードができます。無断複写・引用はご遠慮ください。

※2. このプリントを活用したオンライン授業のスケジュールは、しながわ・目黒こどもスクールのウェブサイトでご確認ください。