



おうちで、やろう。

Study at home. 小学校受験の家庭学習教材

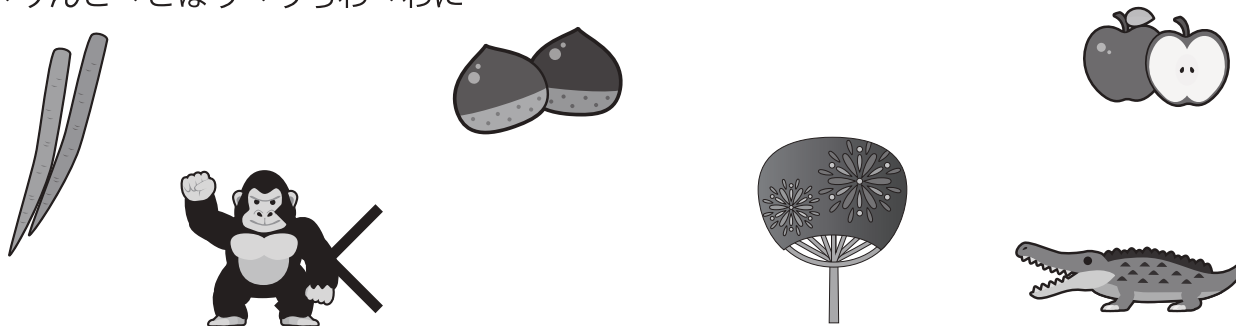
言語：しりとり 11

それぞれの四角の中の絵をつかってしりとりでつなげます。
このとき使わない絵を1つ見つけてその絵に×をつけます。


すいか→かもめ→めがね→ねこ→こいのぼり




くり→りんご→ごぼう→うちわ→わに



ばなな→なす→すみれ→れいぞうこ→こうもり



とけい→いす→すいとん→うま→まっち



※1. このプリントは、しながわ・目黒こどもスクールのウェブサイトからダウンロードできます。無断複写・引用はご遠慮ください。

※2. このプリントを活用したオンライン授業のスケジュールは、しながわ・目黒こどもスクールのウェブサイトでご確認ください。



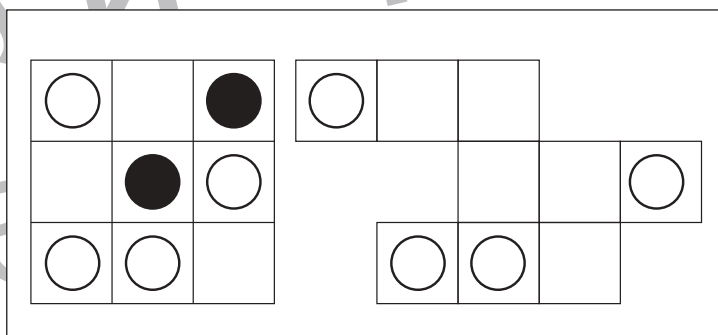
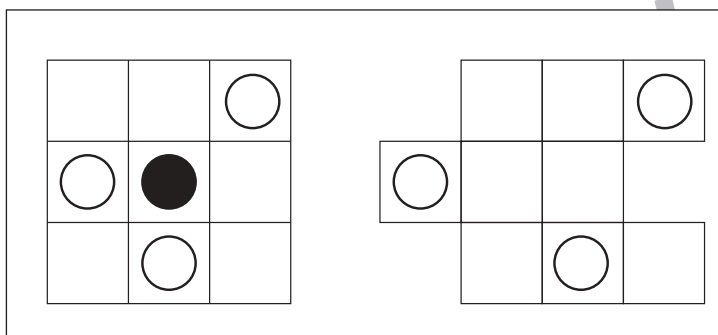
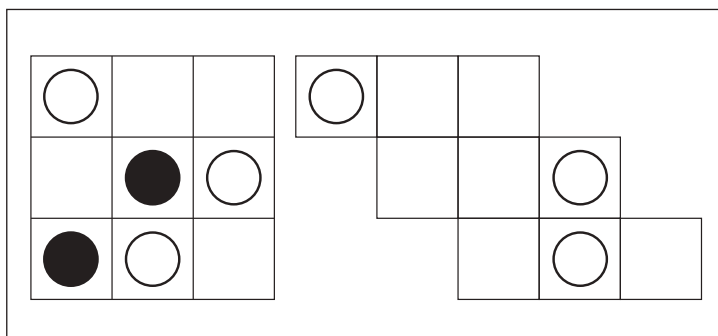
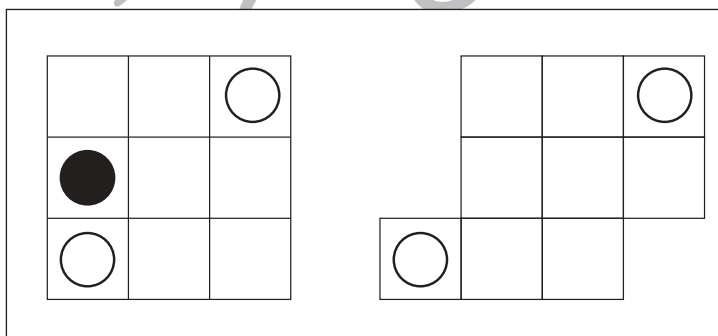
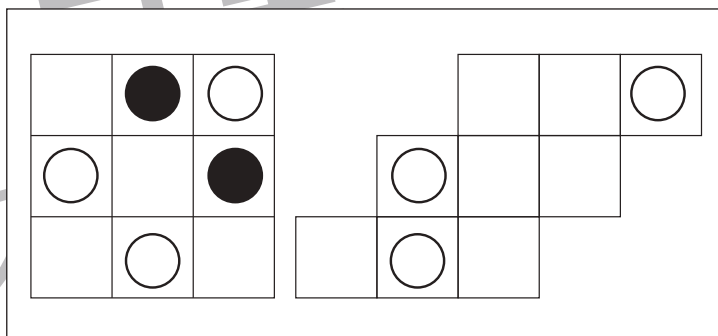
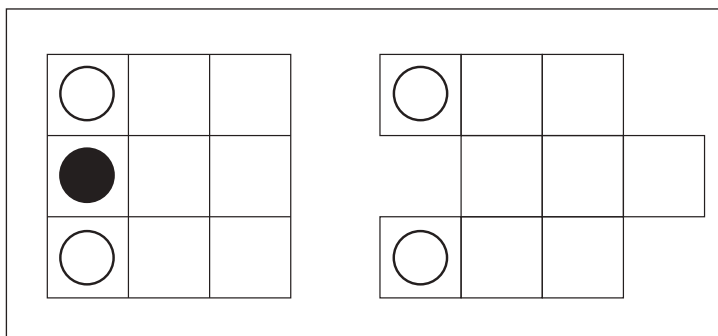
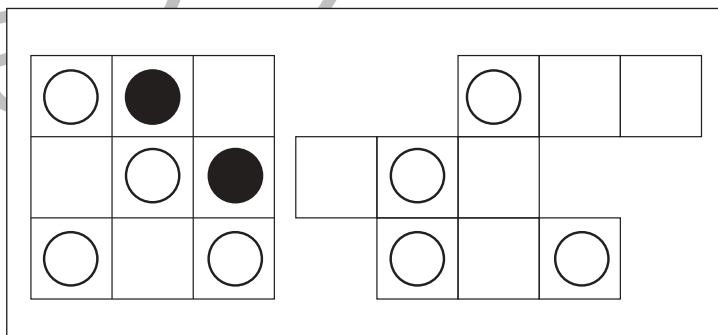
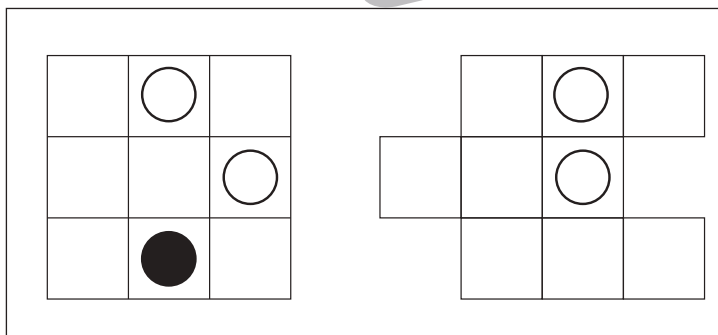
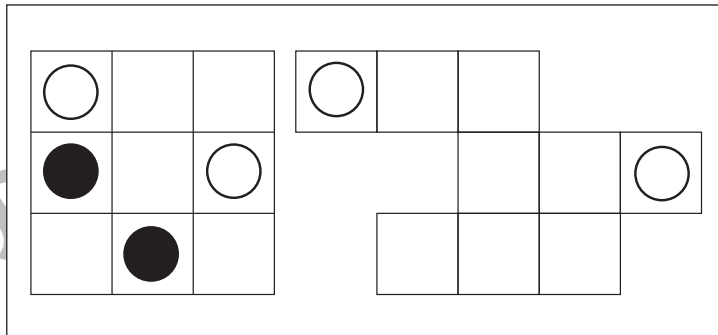
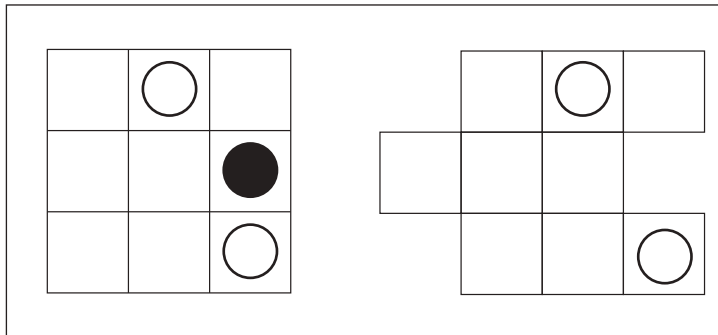


おうちで、やろう。

Study at home. 小学校受験の家庭学習教材

図形：移動 34

左の四角がお手本です。このお手本の白だけを右の四角の同じ場所にかきます。
ただし、右の四角はマスがずれています。どのマスにかけばよいのかを考えましょう。



※1. このプリントは、しながわ・目黒こどもスクールのウェブサイトでダウンロードができます。無断複写・引用はご遠慮ください。
※2. このプリントを活用したオンライン授業のスケジュールは、しながわ・目黒こどもスクールのウェブサイトでご確認ください。

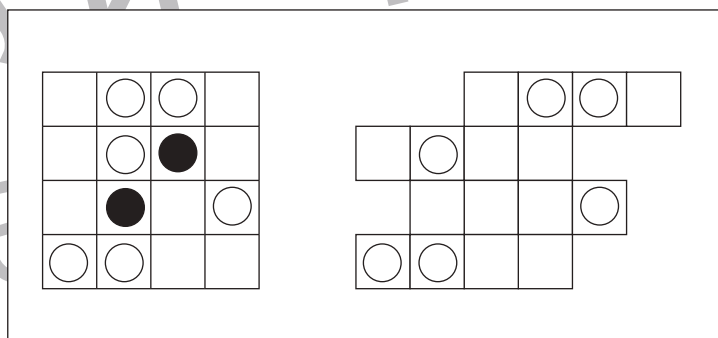
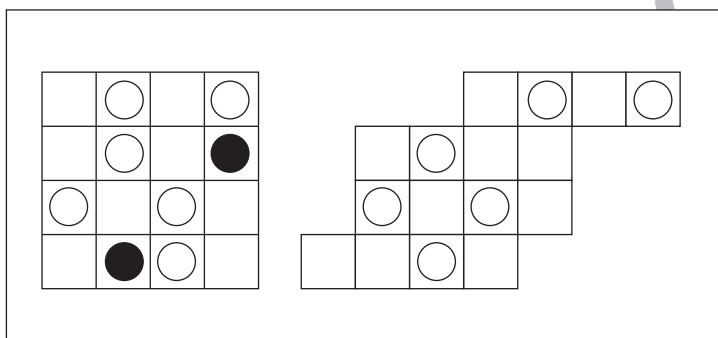
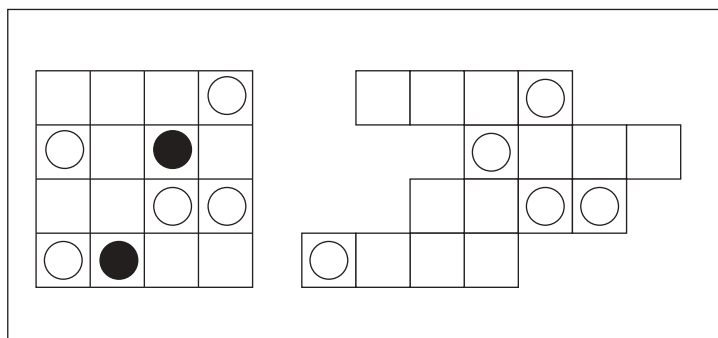
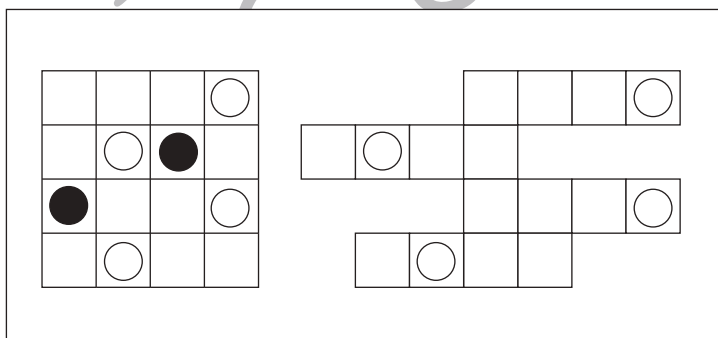
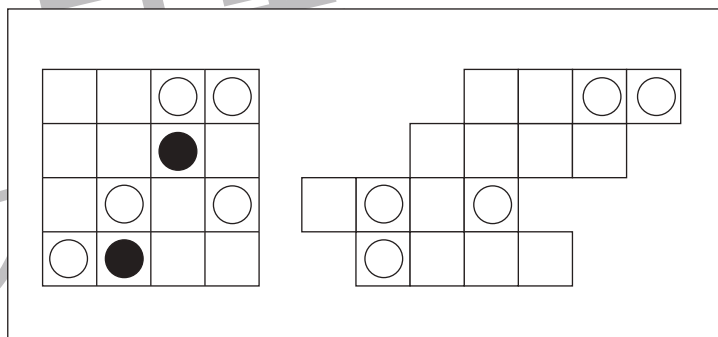
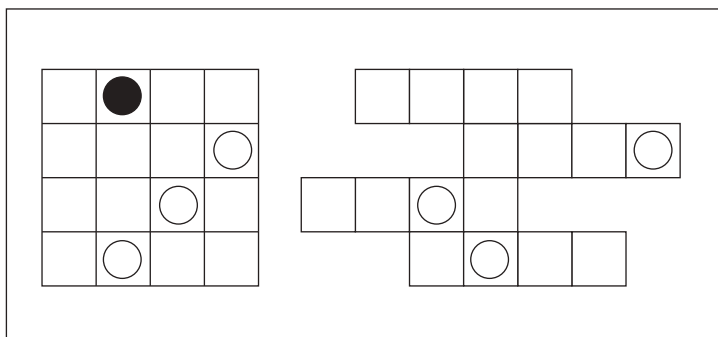
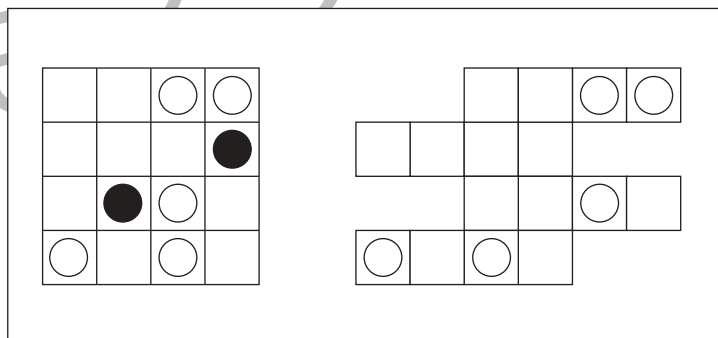
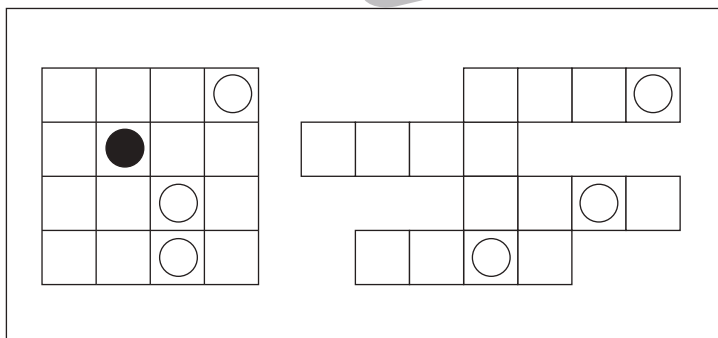
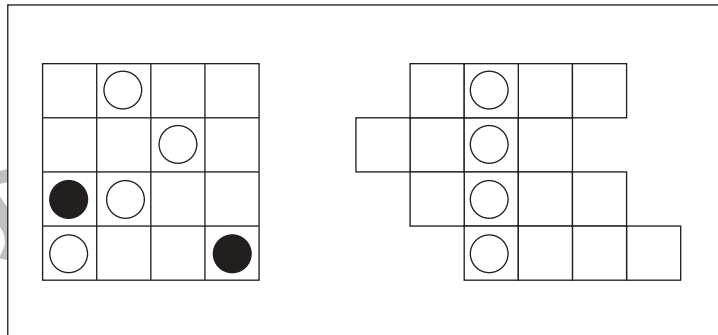
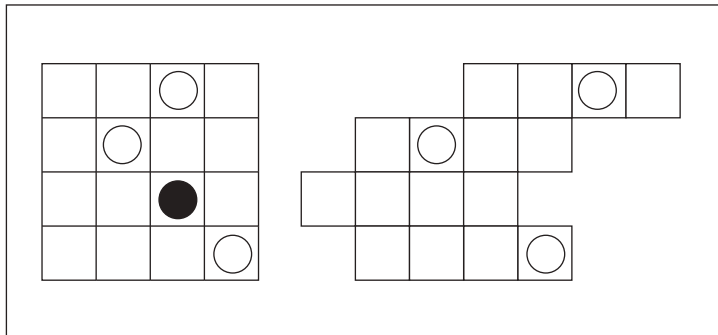


おうちで、やろう。

Study at home. 小学校受験の家庭学習教材

図形：移動 35

左の四角がお手本です。このお手本の白だけを右の四角の同じ場所にかきます。
ただし、右の四角はマスがずれています。どのマスにかけばよいのかを考えましょう。



※1. このプリントは、しながわ・目黒こどもスクールのウェブサイトでダウンロードができます。無断複写・引用はご遠慮ください。
※2. このプリントを活用したオンライン授業のスケジュールは、しながわ・目黒こどもスクールのウェブサイトでご確認ください。

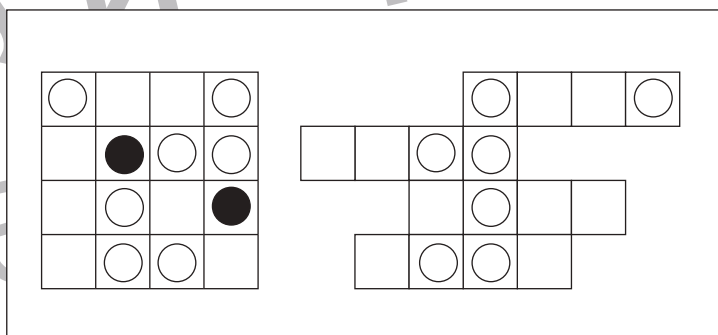
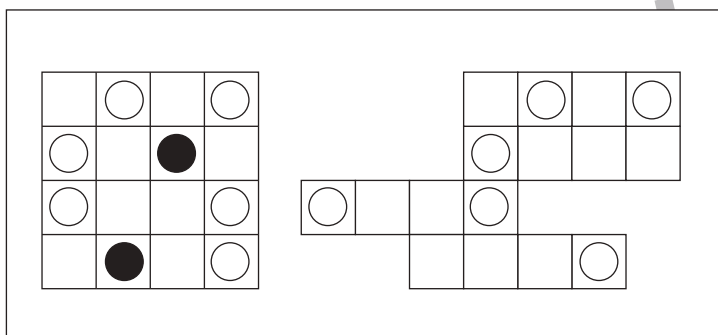
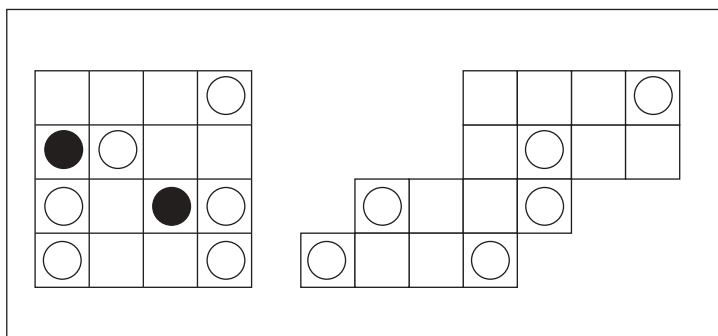
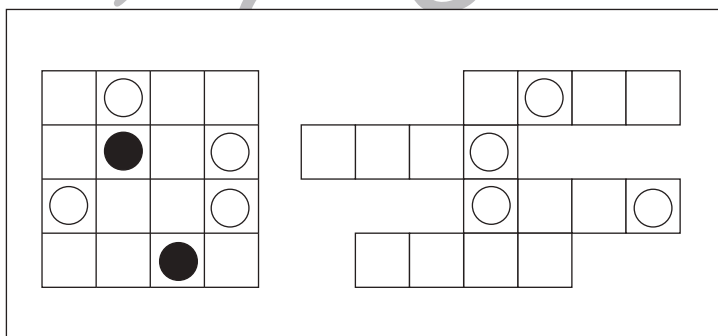
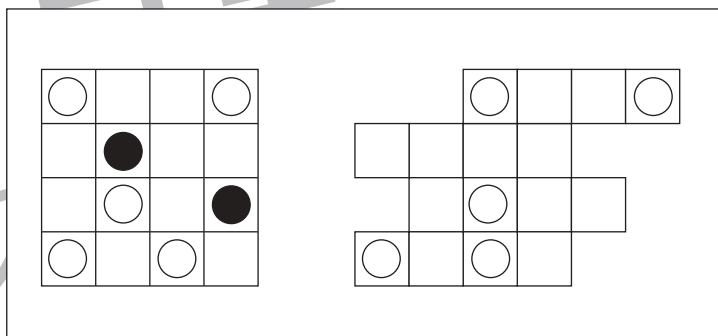
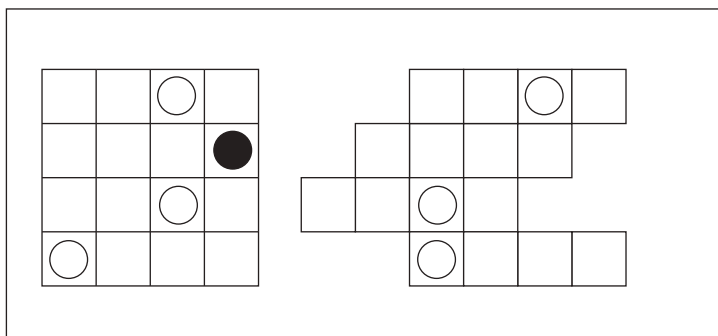
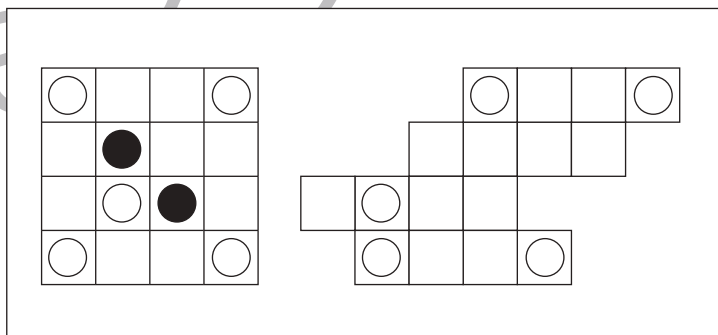
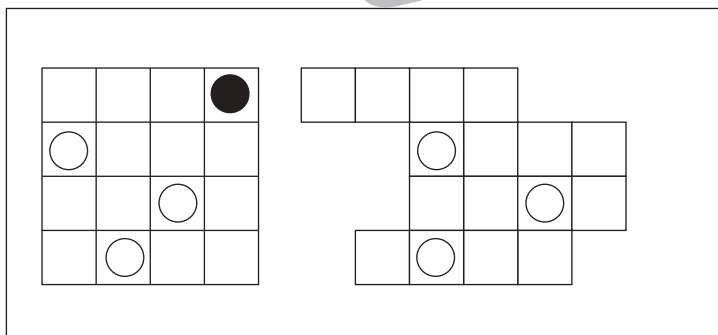
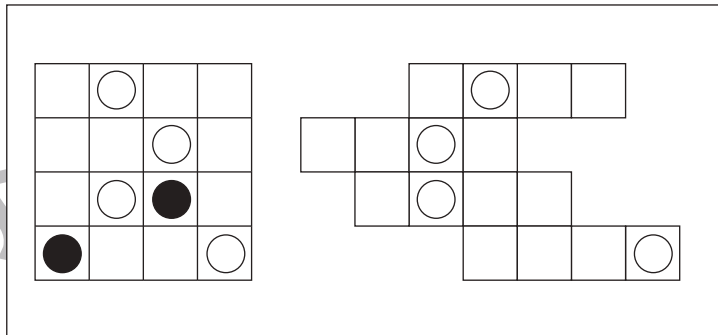
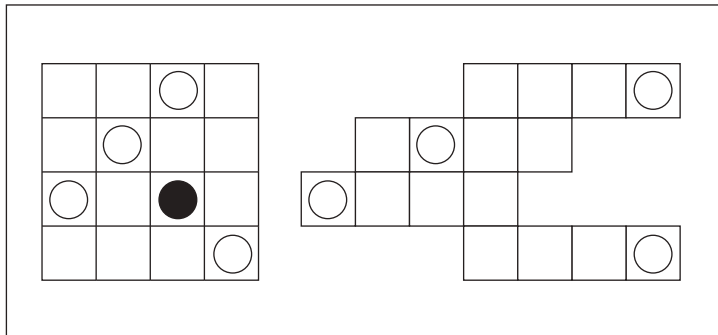


おうちで、やろう。

Study at home. 小学校受験の家庭学習教材

図形：移動 36

左の四角がお手本です。このお手本の白だけを右の四角の同じ場所にかきます。
ただし、右の四角はマスがずれています。どのマスにかけばよいのかを考えましょう。



※1. このプリントは、しながわ・目黒こどもスクールのウェブサイトでダウンロードができます。無断複写・引用はご遠慮ください。
※2. このプリントを活用したオンライン授業のスケジュールは、しながわ・目黒こどもスクールのウェブサイトでご確認ください。

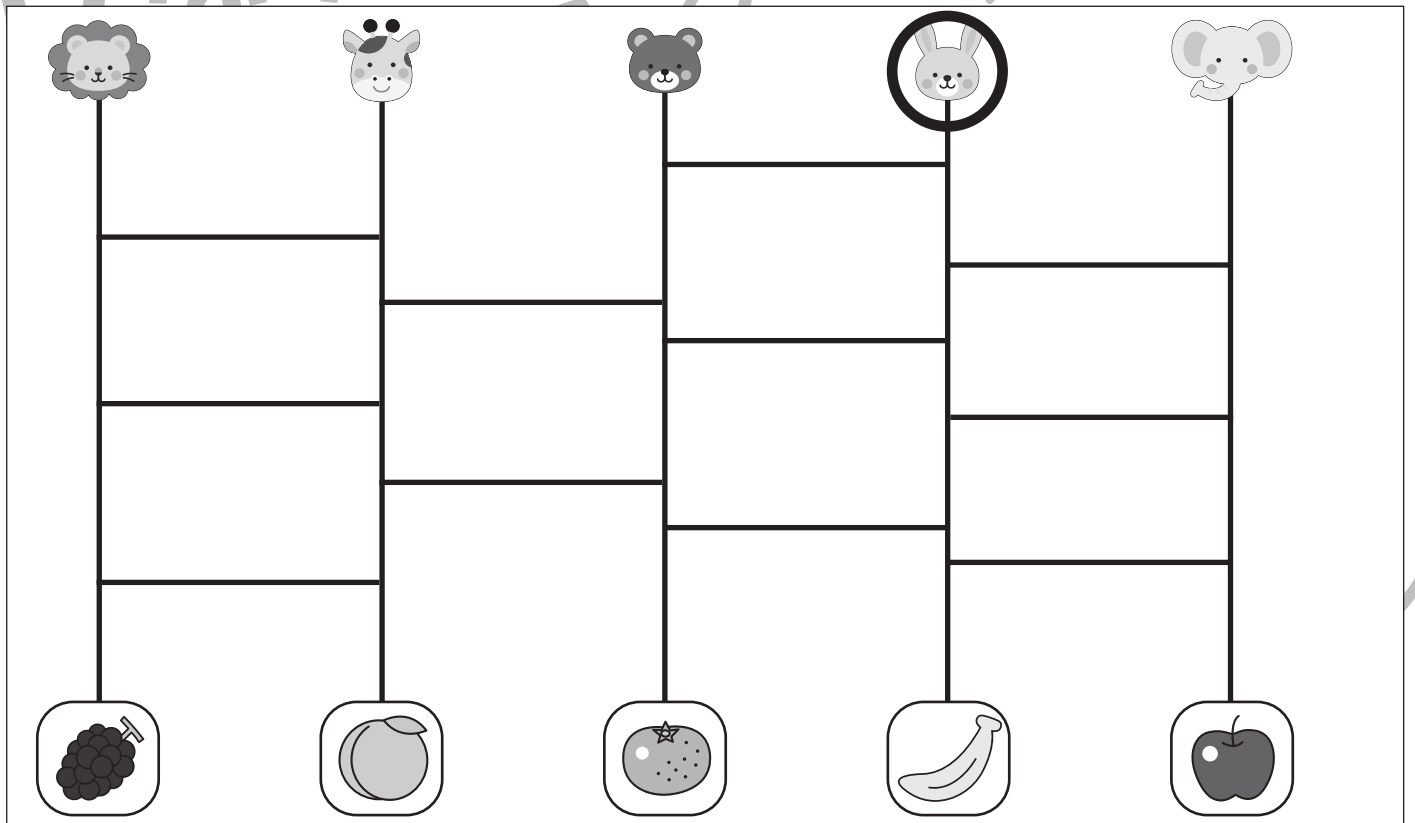
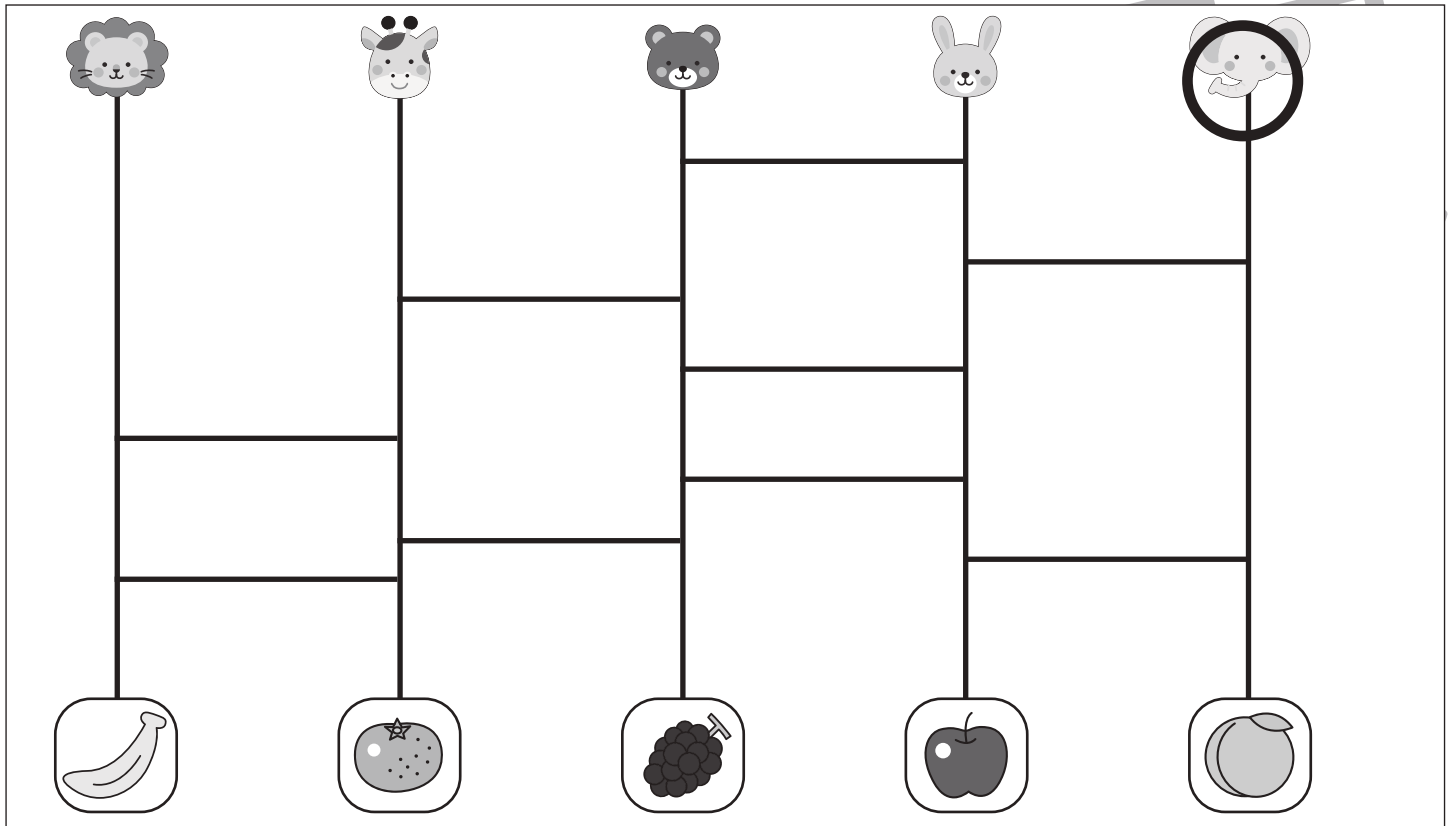


おうちで、やろう。

Study at home. 小学校受験の家庭学習教材

推理：あみだくじ 1

上の動物たちがあみだくじを進んでいくと下のどの果物に着きますか。ももにたどり着く動物の顔に○をつけます。
※あみだくじのルール：①上から下へ進みます。道は戻ってはいけません。②途中で曲がり角があったら必ず曲がります。



※1. このプリントは、しながわ・目黒こどもスクールのウェブサイトでダウンロードができます。無断複写・引用はご遠慮ください。
※2. このプリントを活用したオンライン授業のスケジュールは、しながわ・目黒こどもスクールのウェブサイトでご確認ください。



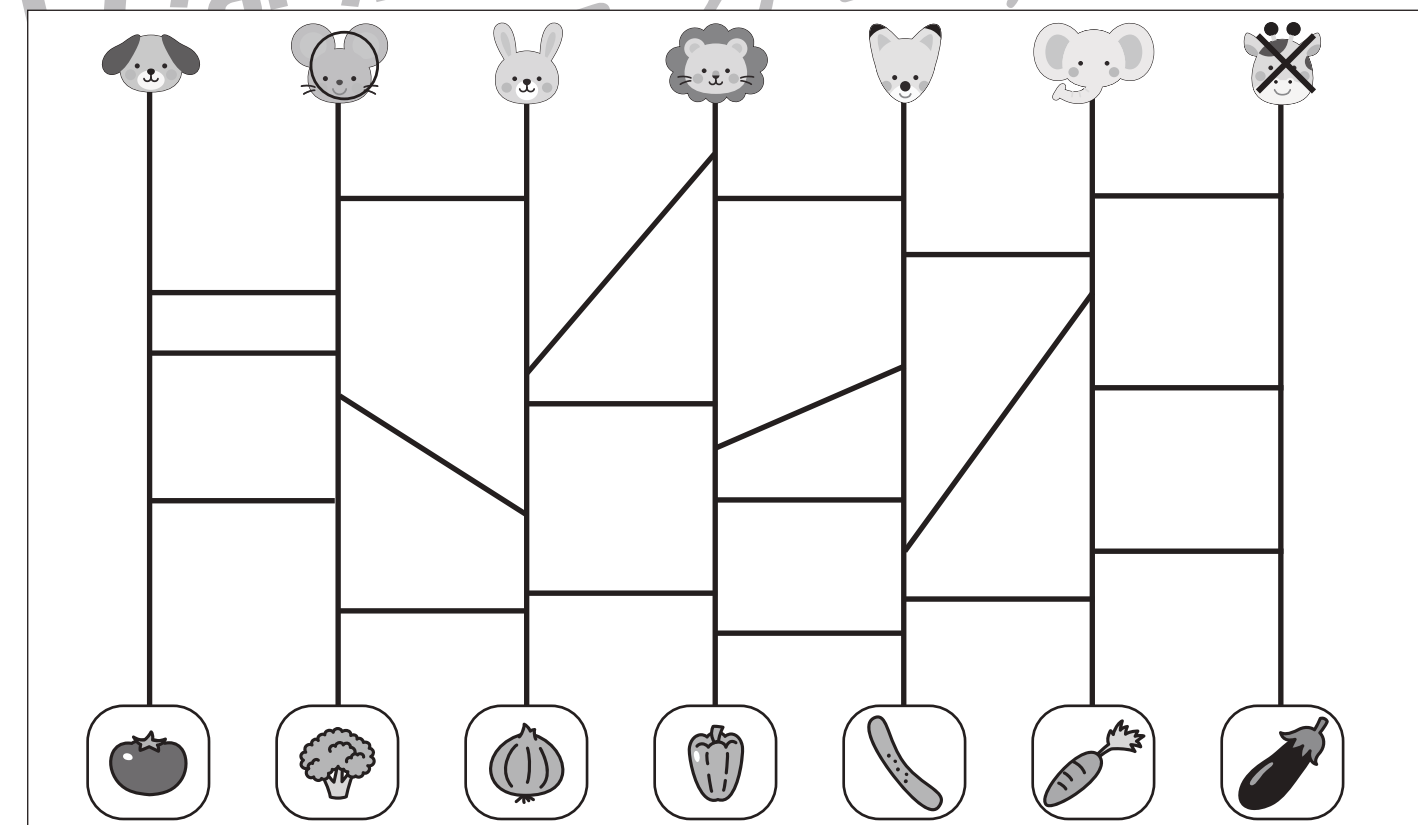
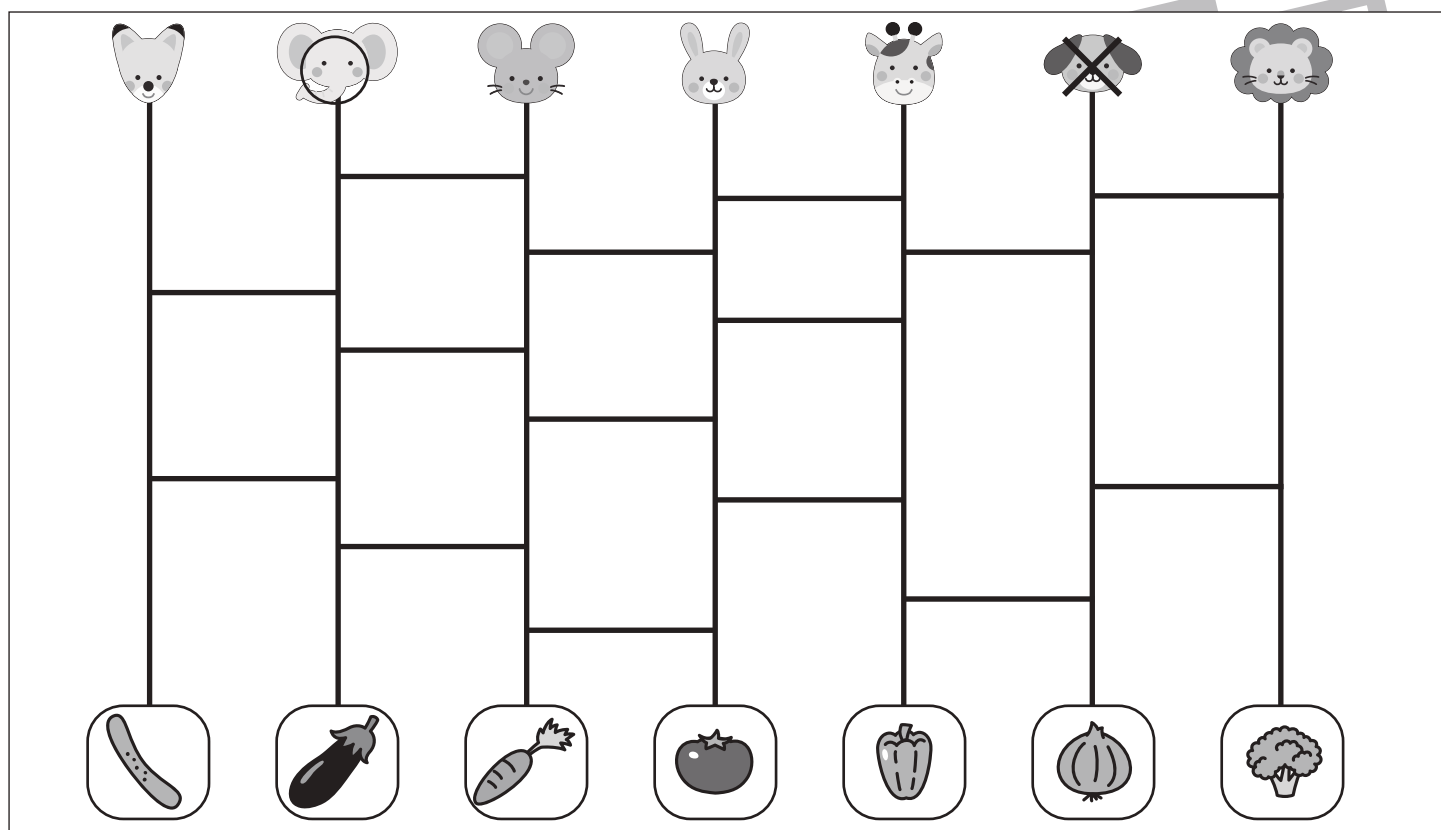
おうちで、やろう。

Study at home. 小学校受験の家庭学習教材

推理：あみだくじ2

上の動物たちがあみだくじを進んでいくと下のどの野菜に着きますか。ニンジンのところに着いた動物の顔に○を、ピーマンのところに着いた動物の顔に×をつけます。

※あみだくじのルール：①上から下へ進みます。道は戻ってはいけません。②途中で曲がり角があったら必ず曲がります。



※1. このプリントは、しながわ・目黒こどもスクールのウェブサイトでダウンロードができます。無断複写・引用はご遠慮ください。

※2. このプリントを活用したオンライン授業のスケジュールは、しながわ・目黒こどもスクールのウェブサイトでご確認ください。



おうちで、やろう。

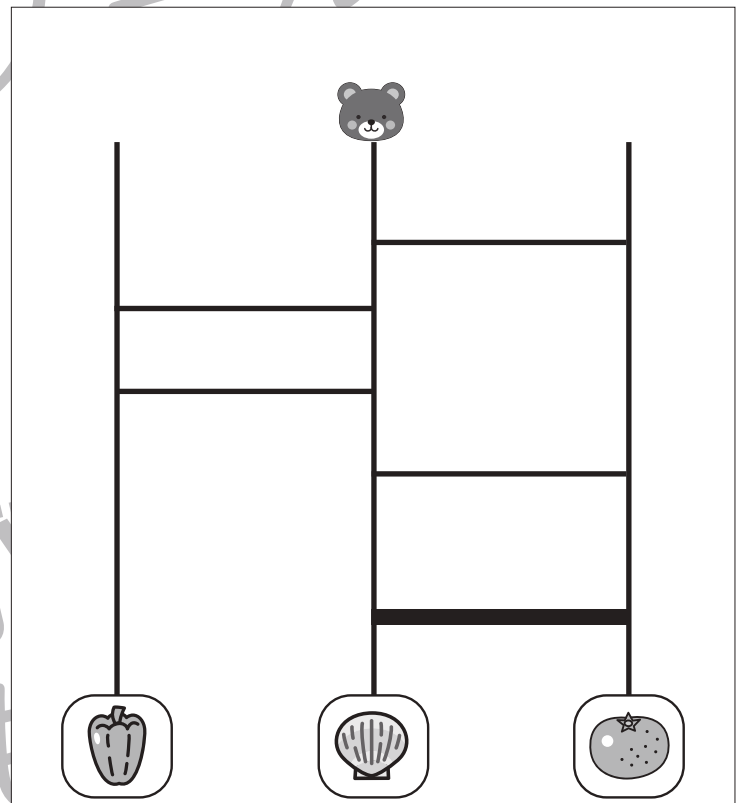
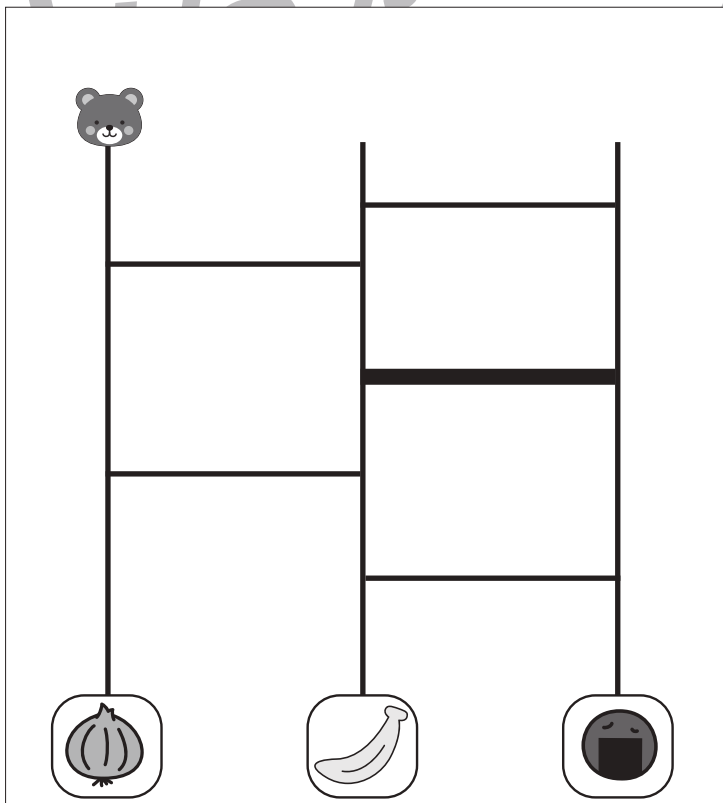
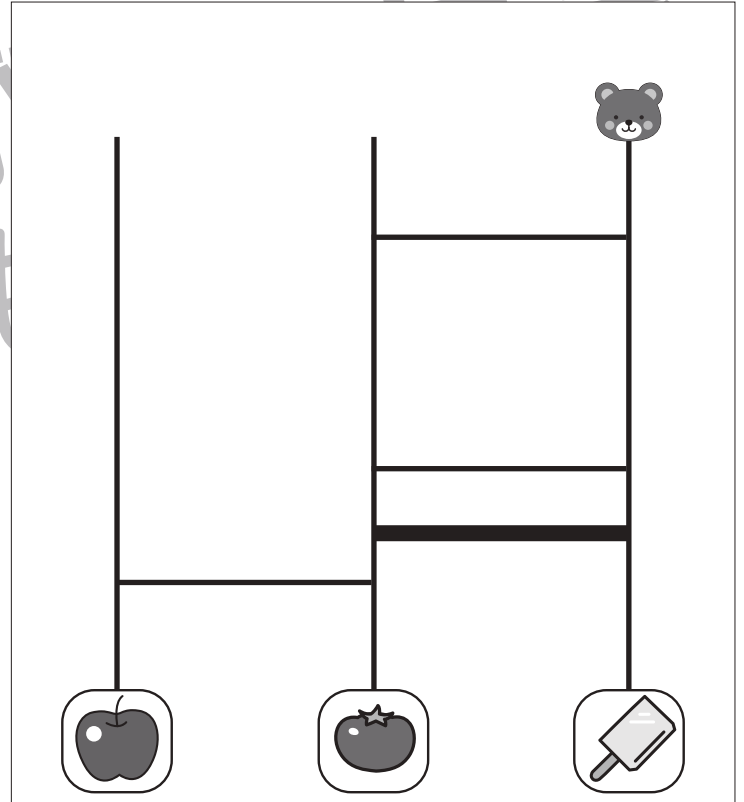
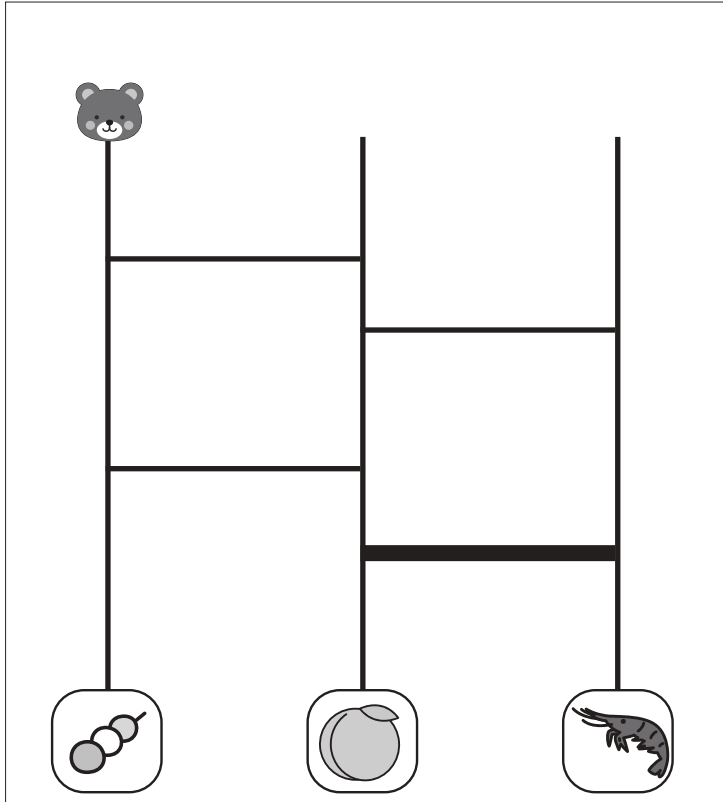
Study at home. 小学校受験の家庭学習教材

推理：あみだくじ3

上のクマさんがあみだくじを進んでいきます。果物のところにつくためにはどこかに線を1本かくと、果物につくことができます。どこに線をかけばよいのか考えて、線を1本かきたいましよう。

※あみだくじのルール：①上から下へ進みます。道は戻ってはいけません。②途中で曲がり角があったら必ず曲がります。

※解答は一例です。他の場所でも正しく進める場所がありますので、その場合は○をつけてあげてください。



※1. このプリントは、しながわ・目黒こどもスクールのウェブサイトからダウンロードできます。無断複写・引用はご遠慮ください。

※2. このプリントを活用したオンライン授業のスケジュールは、しながわ・目黒こどもスクールのウェブサイトでご確認ください。









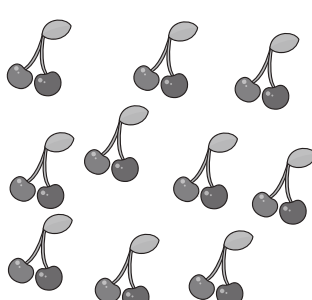
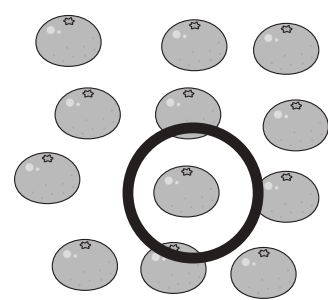
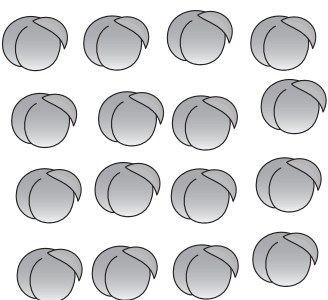






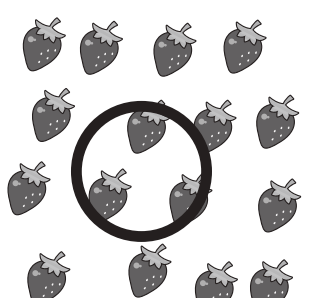
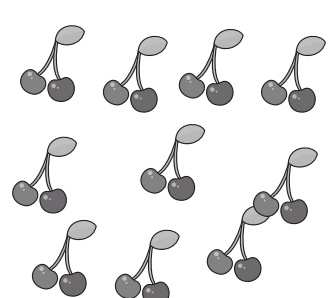


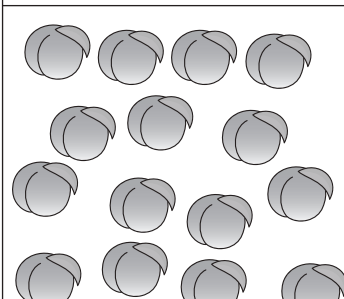


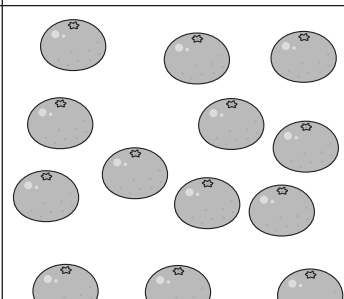
おうちで、やろう。

Study at home. 小学校受験の家庭学習教材

数量：対応 10

上の太い四角の中のお友だちで下の果物を仲良く分けます。仲良くぴったり分けられる果物をみつけて○をつけます。

| | | | |
|---|--|---|--|
|    | | | |
|  |  |  |  |
|  |  |  |  |

| | | | |
|--|---|--|---|
|     | | | |
|  |  |  |  |
|  |  |  |  |

※1. このプリントは、しながわ・目黒こどもスクールのウェブサイトでダウンロードができます。無断複写・引用はご遠慮ください。

※2. このプリントを活用したオンライン授業のスケジュールは、しながわ・目黒こどもスクールのウェブサイトでご確認ください。



おうちで、やろう。

Study at home. 小学校受験の家庭学習教材

数量：対応 11

上の太い四角の中のお友だちで下の果物を仲良く分けます。仲良くぴったり分けられる果物をみつけて○をつけます。

| | | | | |
|--|--|--|--|--|
| | | | | |
| | | | | |
| | | | | |
| | | | | |

| | | | | | |
|--|--|--|--|--|--|
| | | | | | |
| | | | | | |
| | | | | | |
| | | | | | |

※1. このプリントは、しながわ・目黒こどもスクールのウェブサイトでダウンロードができます。無断複写・引用はご遠慮ください。
 ※2. このプリントを活用したオンライン授業のスケジュールは、しながわ・目黒こどもスクールのウェブサイトでご確認ください。













おうちで、やろう。









Study at home. 小学校受験の家庭学習教材









処理能力：置き換え7

上の太い四角の中の絵がお手本です。上の絵の時に下の四角にそれぞれの記号をかきます。問題は一番上の段の左からはじめて、右端までやります。1段目ができたら2段目の左から右。次に3段目の左から右と順番に記号をかきます。この問題はできるだけ早く印をつけます。それぞれ1分以内を目指し取り組みましょう。









| | | | |
|---|---|---|---|
|  |  |  |  |
| 1 | 2 | 3 | 4 |









| | | | | | | | |
|---|---|---|---|---|---|---|---|
|  |  |  |  |  |  |  |  |
| 1 | 2 | 3 | 4 | 2 | 1 | 3 | 4 |









| | | | | | | | |
|---|---|---|---|---|---|---|---|
|  |  |  |  |  |  |  |  |
| 2 | 1 | 1 | 2 | 3 | 3 | 4 | 4 |

| | | | | | | | |
|---|---|---|---|---|---|---|---|
|  |  |  |  |  |  |  |  |
| 4 | 2 | 1 | 3 | 1 | 4 | 2 | 3 |

| | | | |
|---|---|---|---|
|  |  |  |  |
| 1 | 2 | 3 | 4 |

| | | | | | | | |
|---|---|---|---|---|---|---|---|
|  |  |  |  |  |  |  |  |
| 1 | 2 | 3 | 4 | 1 | 3 | 4 | 2 |

| | | | | | | | |
|---|---|---|---|---|---|---|---|
|  |  |  |  |  |  |  |  |
| 1 | 1 | 2 | 3 | 2 | 4 | 3 | 4 |

| | | | | | | | |
|---|---|---|---|---|---|---|---|
|  |  |  |  |  |  |  |  |
| 3 | 4 | 1 | 2 | 2 | 1 | 4 | 3 |

※1. このプリントは、しながわ・目黒こどもスクールのウェブサイトでダウンロードができます。無断複写・引用はご遠慮ください。
 ※2. このプリントを活用したオンライン授業のスケジュールは、しながわ・目黒こどもスクールのウェブサイトでご確認ください。