

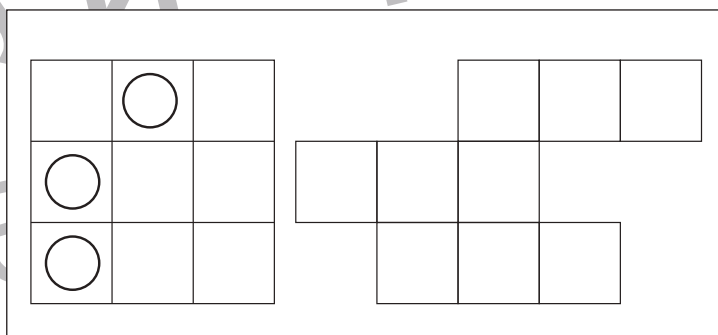
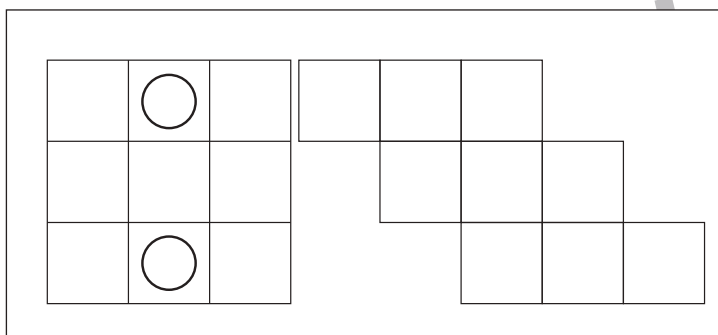
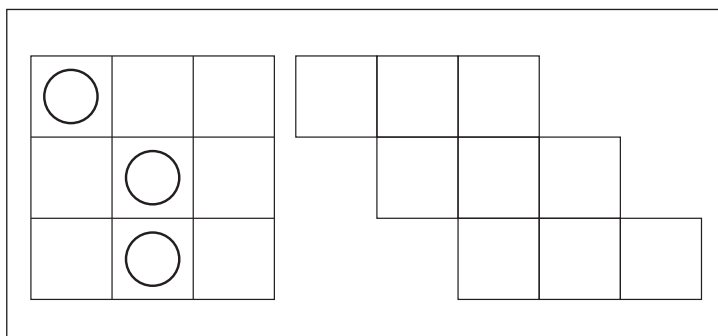
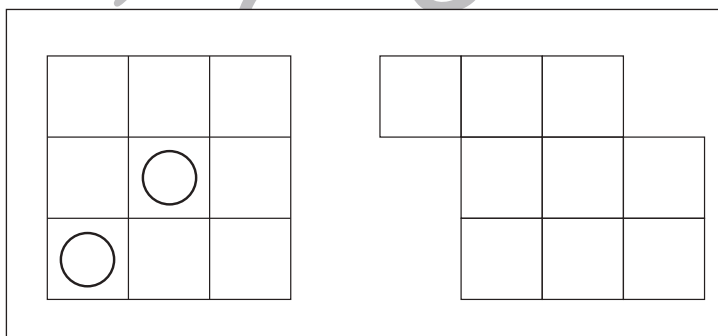

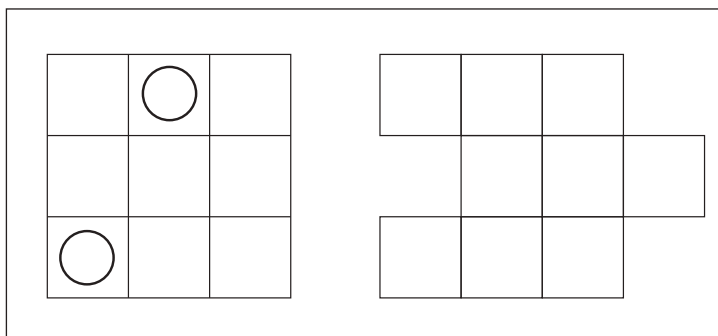
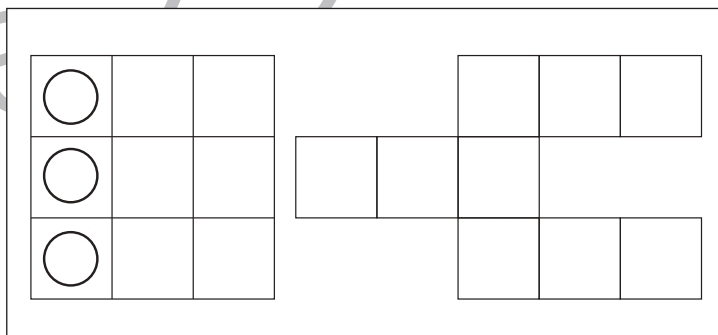
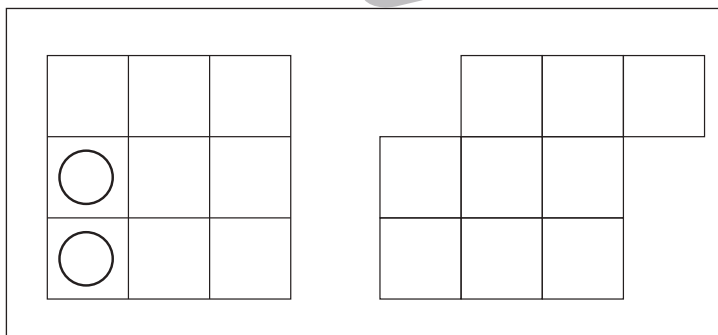
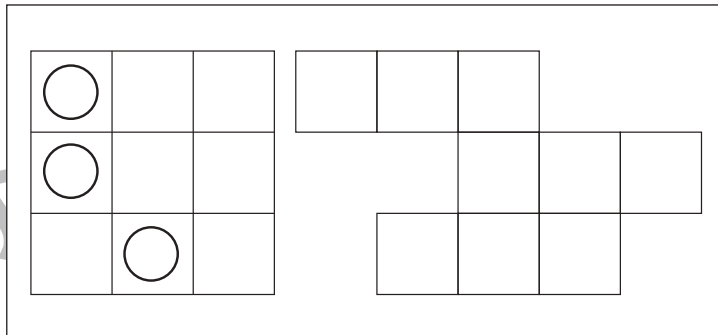
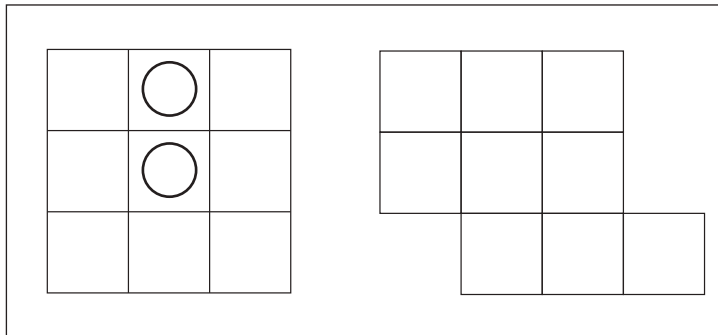


# おうちで、やろう。

Study at home. 小学校受験の家庭学習教材

## 図形：移動 37

左の四角がお手本です。このお手本の○を右へ 1 マス動かして右の四角のマスのマスにかきます。  
ただし、右の四角はマスがずれています。どのマスにかけばよいのかを考えましょう。



※1. このプリントは、しながわ・目黒こどもスクールのウェブサイトでダウンロードができます。無断複写・引用はご遠慮ください。  
※2. このプリントを活用したオンライン授業のスケジュールは、しながわ・目黒こどもスクールのウェブサイトでご確認ください。

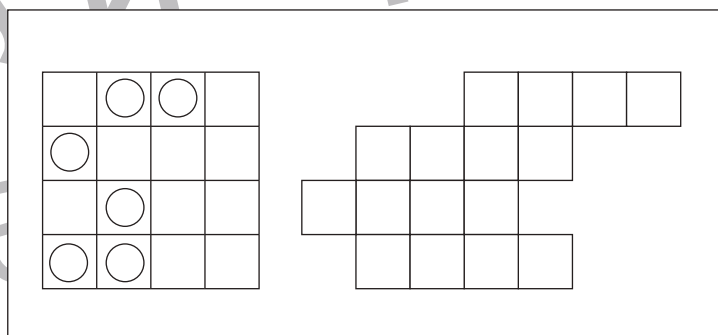
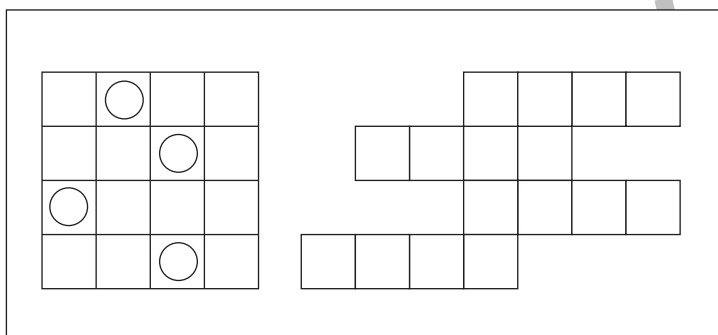
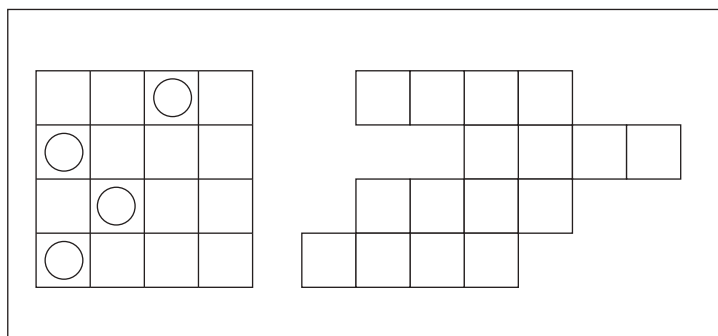
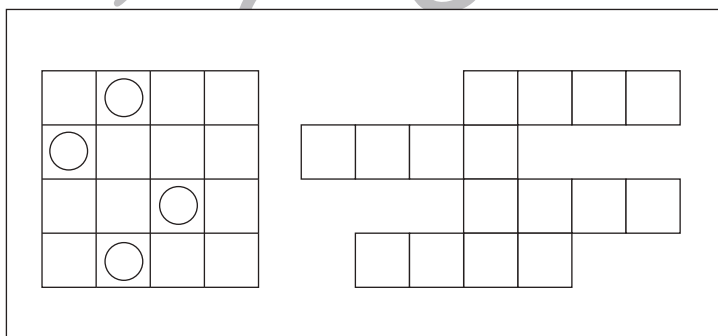
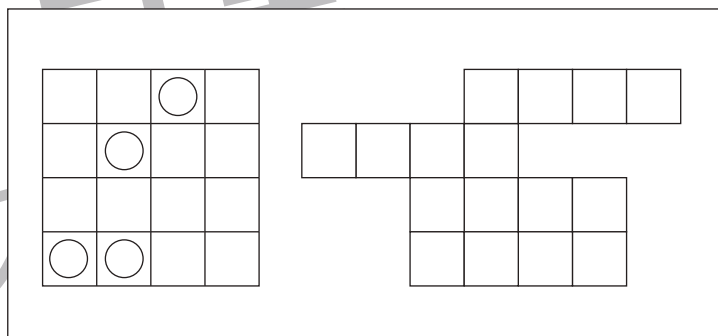
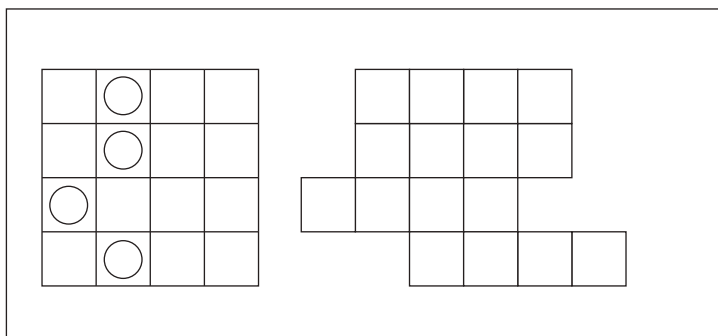
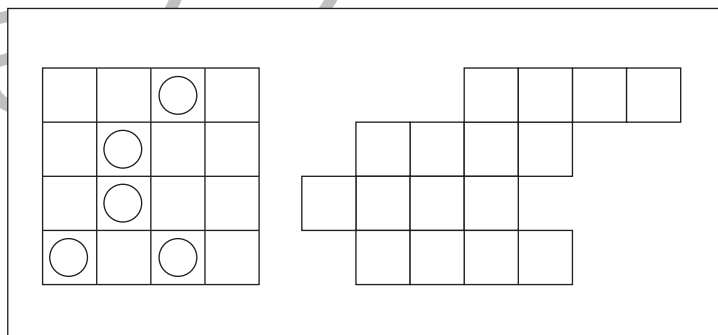
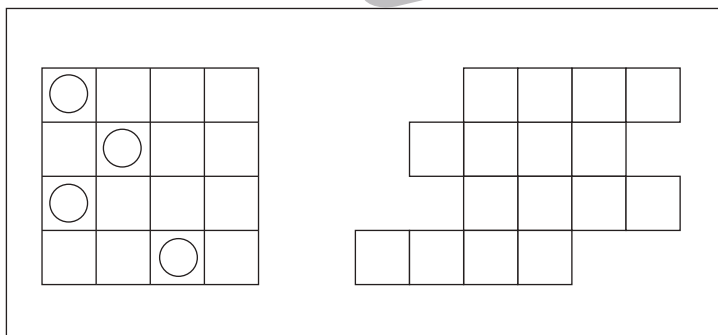
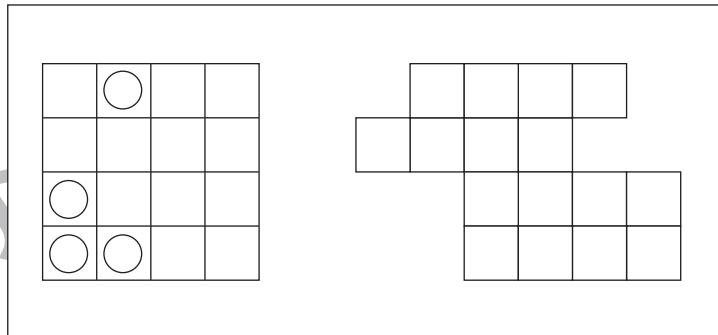
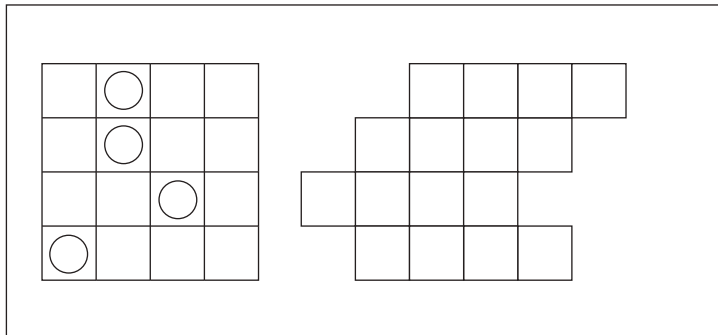


# おうちで、やろう。

Study at home. 小学校受験の家庭学習教材

## 図形：移動 38

左の四角がお手本です。このお手本の○を右へ 1 マス動かして右の四角のマスにかきます。  
ただし、右の四角はマスがずれています。どのマスにかけばよいのかを考えましょう。



※1. このプリントは、しながわ・目黒こどもスクールのウェブサイトでダウンロードができます。無断複写・引用はご遠慮ください。  
※2. このプリントを活用したオンライン授業のスケジュールは、しながわ・目黒こどもスクールのウェブサイトでご確認ください。

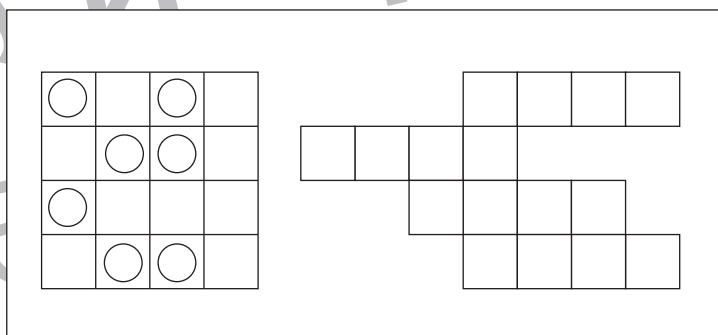
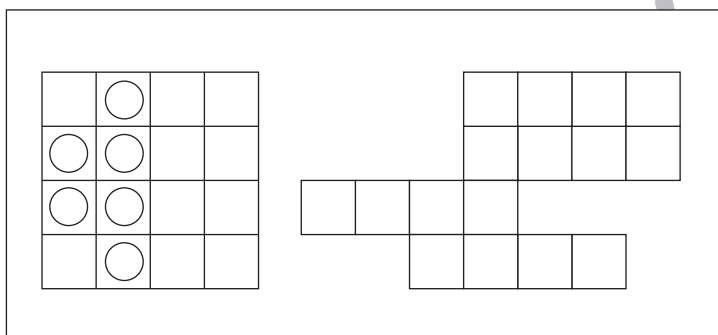
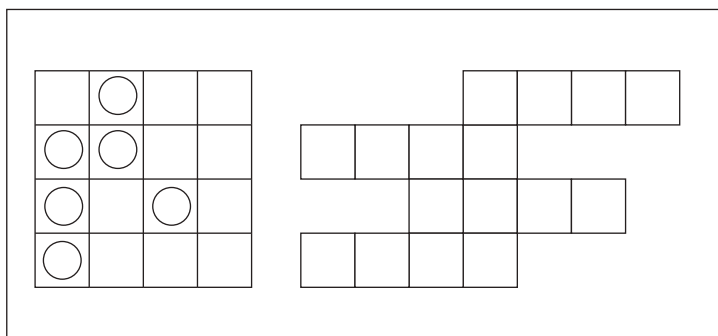
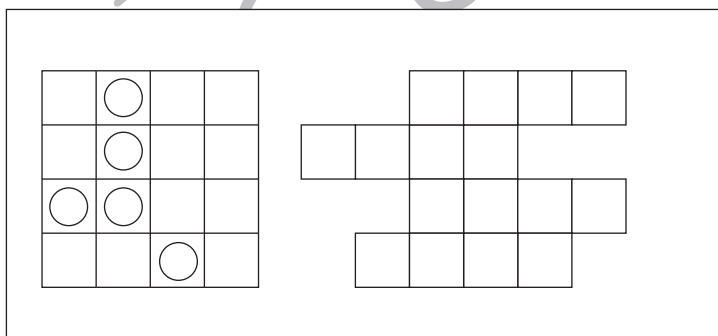
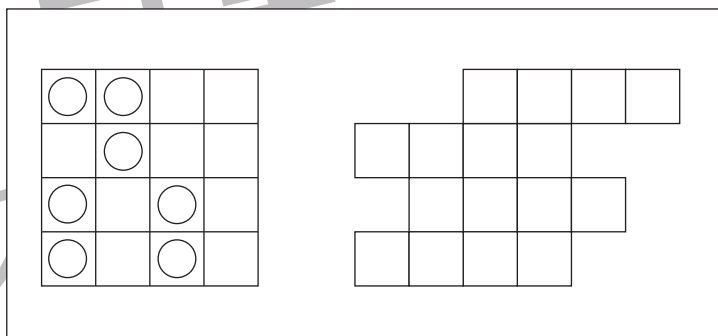
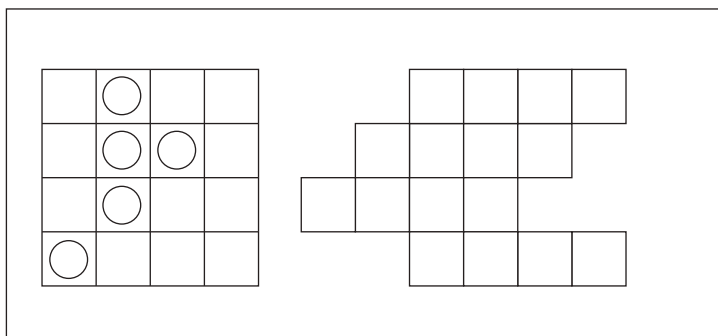
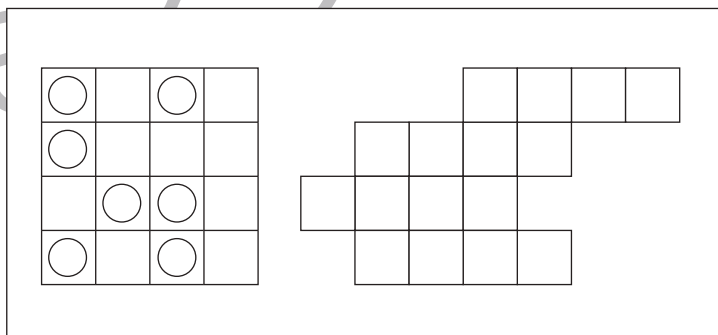
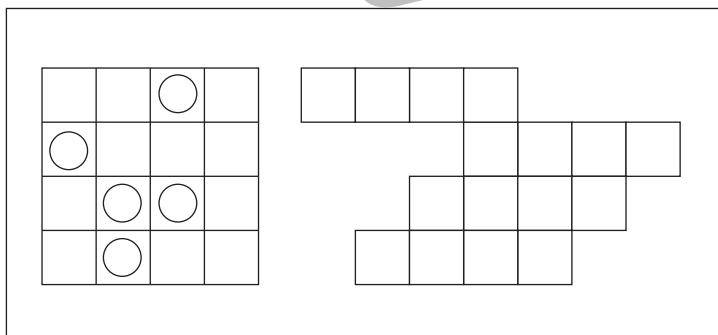
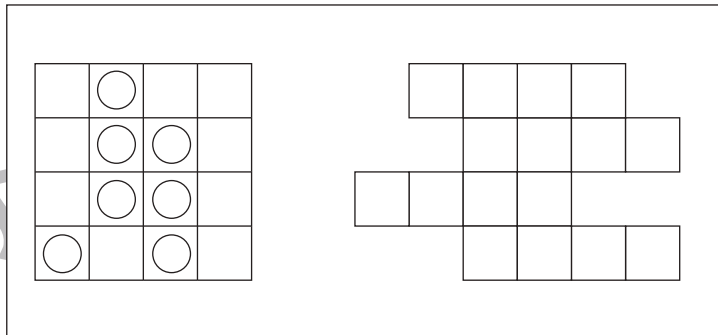
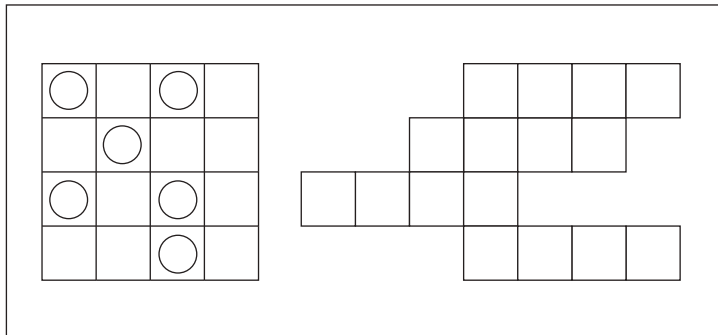


# おうちで、やろう。

Study at home. 小学校受験の家庭学習教材

## 図形：移動 39

左の四角がお手本です。このお手本の○を右へ 1 マス動かして右の四角のマスにかきます。ただし、右の四角はマスがずれています。どのマスにかけばよいのかを考えましょう。



※1. このプリントは、しながわ・目黒こどもスクールのウェブサイトでダウンロードができます。無断複写・引用はご遠慮ください。  
※2. このプリントを活用したオンライン授業のスケジュールは、しながわ・目黒こどもスクールのウェブサイトでご確認ください。




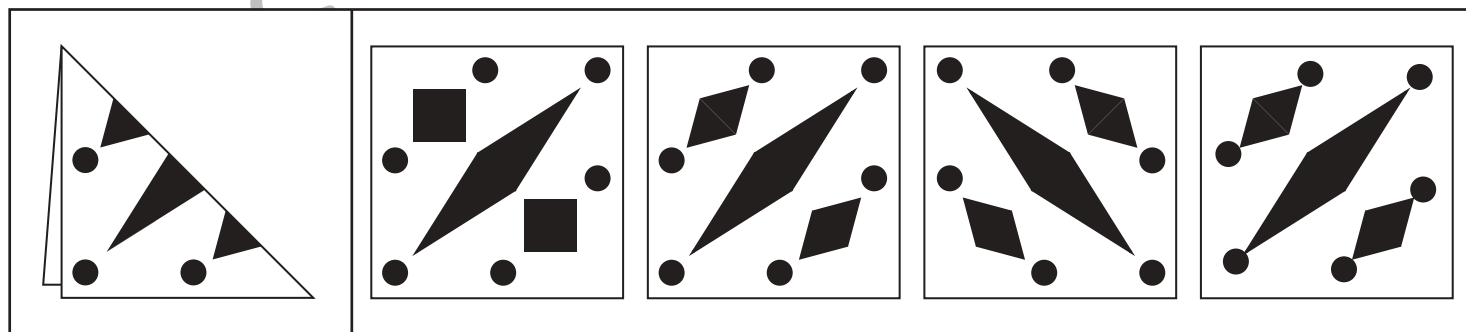



# おうちで、やろう。

Study at home. 小学校受験の家庭学習教材

## 図形：切り抜き8

左の四角の中は折り紙を半分に折ったものです。

この折り紙の黒い部分を切り抜いて広げたときの見え方を考えて右の四角の中から選んで○をつけます。



※1. このプリントは、しながわ・目黒こどもスクールのウェブサイトからダウンロードできます。無断複写・引用はご遠慮ください。

※2. このプリントを活用したオンライン授業のスケジュールは、しながわ・目黒こどもスクールのウェブサイトでご確認ください。

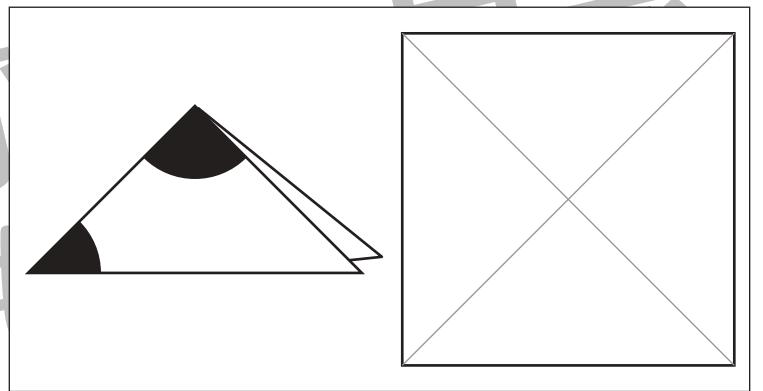
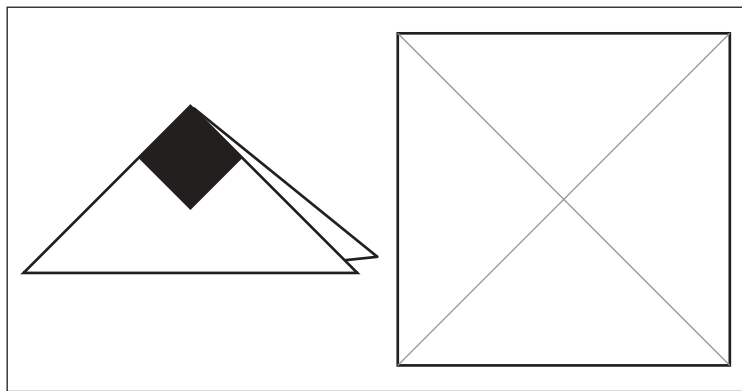
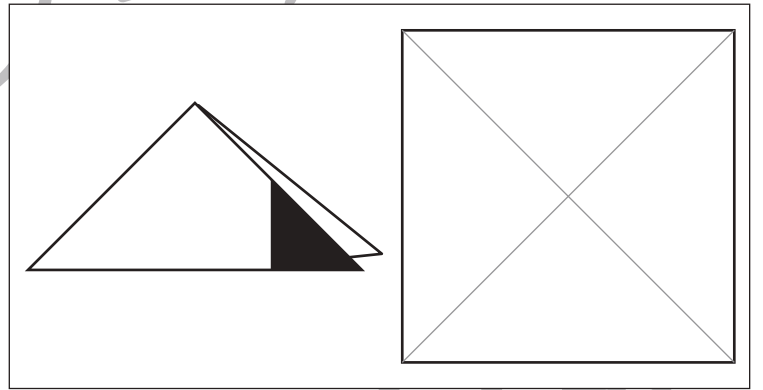
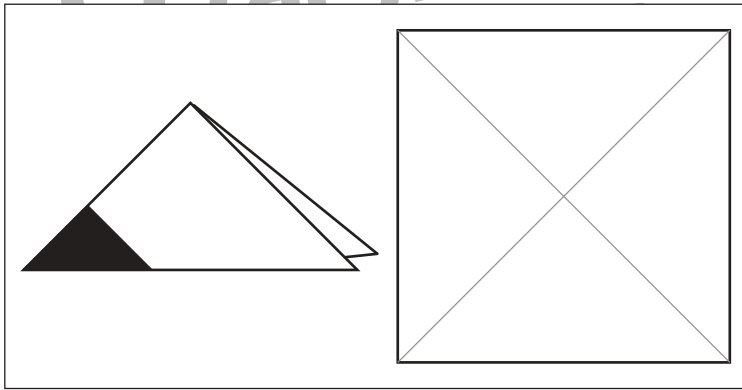
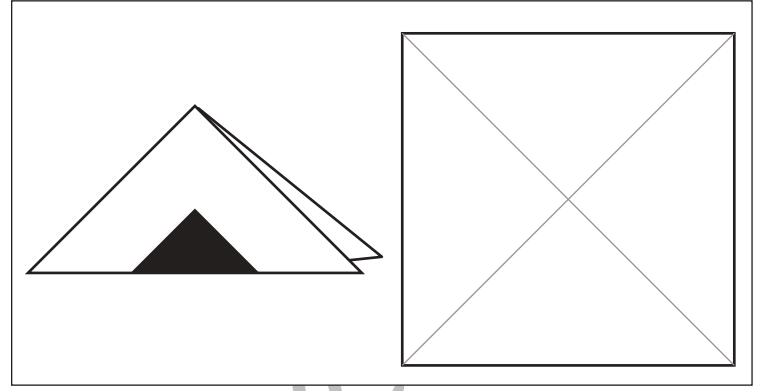
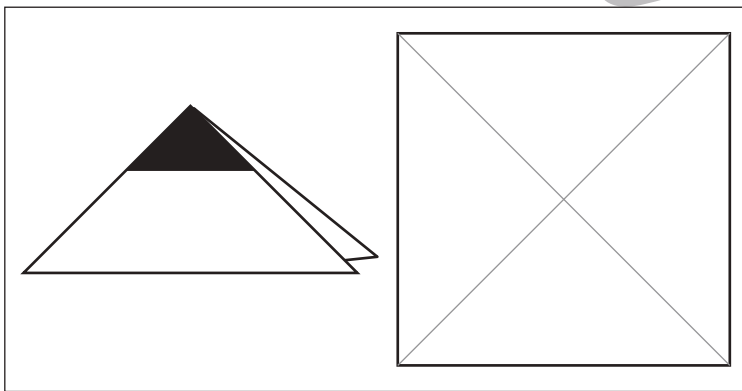
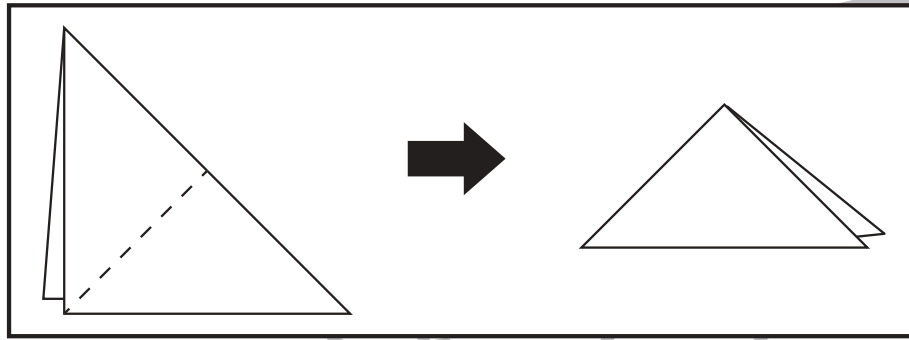


# おうちで、やろう。

Study at home. 小学校受験の家庭学習教材

## 図形：切り抜き9

それぞれの四角の中の左の形は上の四角の中のように折り紙を2回折ったものです。  
この折り紙の黒い部分を切り抜いて広げたときの見え方を考えて右の四角にかきます。



※1. このプリントは、しながわ・目黒こどもスクールのウェブサイトでダウンロードができます。無断複写・引用はご遠慮ください。  
※2. このプリントを活用したオンライン授業のスケジュールは、しながわ・目黒こどもスクールのウェブサイトでご確認ください。













# おうちで、やろう。

Study at home. 小学校受験の家庭学習教材








数量：条件推理 5








うさぎが道を歩いています。歩いている途中に大きな木や、おうちが立っています。道の途中の大きな木は2個リンゴが採れます。途中のおうちにはうさぎのお友達が住んでいて1個リンゴをお友達にあげます。最後にうさぎが持っているリンゴの数を考えて下の四角に○をつけます。

※1. このプリントは、しながわ・目黒こどもスクールのウェブサイトでダウンロードができます。無断複写・引用はご遠慮ください。

※2. このプリントを活用したオンライン授業のスケジュールは、しながわ・目黒こどもスクールのウェブサイトでご確認ください。














# おうちで、やろう。








Study at home. 小学校受験の家庭学習教材








数量：条件推理6

うさぎが道を歩いています。歩いている途中に木や、おうちが立っています。道の途中の大きな木は2個リンゴが採れ、小さな木からは1個リンゴが採れます。途中のおうちにはうさぎのお友達が住んでいて2個リンゴをお友達にあげます。最後にうさぎが持っているリンゴの数を考えて下の四角に○をつけます。

※1. このプリントは、しながわ・目黒こどもスクールのウェブサイトでダウンロードができます。無断複写・引用はご遠慮ください。  
※2. このプリントを活用したオンライン授業のスケジュールは、しながわ・目黒こどもスクールのウェブサイトでご確認ください。



# おうちで、やろう。

Study at home. 小学校受験の家庭学習教材

数量：条件推理7

うさぎが5個のリンゴをもって道を歩いています。歩いている途中に木や、おうちが立っています。道の途中の大きな木は3個リンゴが採れます。途中のおうちにはうさぎのお友達が住んでいて2個リンゴをお友達にあげます。最後にうさぎが持っているリンゴの数を考えて下の四角に○をつけます。

5 apples, rabbit, house, house, tree, house

Blank space for answer

5 apples, rabbit, tree, house, tree, tree, house

Blank space for answer

5 apples, rabbit, house, tree, house, tree, house

Blank space for answer

5 apples, rabbit, tree, tree, tree, tree, house, house

Blank space for answer

5 apples, rabbit, house, house, tree, house, tree, tree

Blank space for answer

※1. このプリントは、しながわ・目黒こどもスクールのウェブサイトでダウンロードができます。無断複写・引用はご遠慮ください。  
 ※2. このプリントを活用したオンライン授業のスケジュールは、しながわ・目黒こどもスクールのウェブサイトでご確認ください。



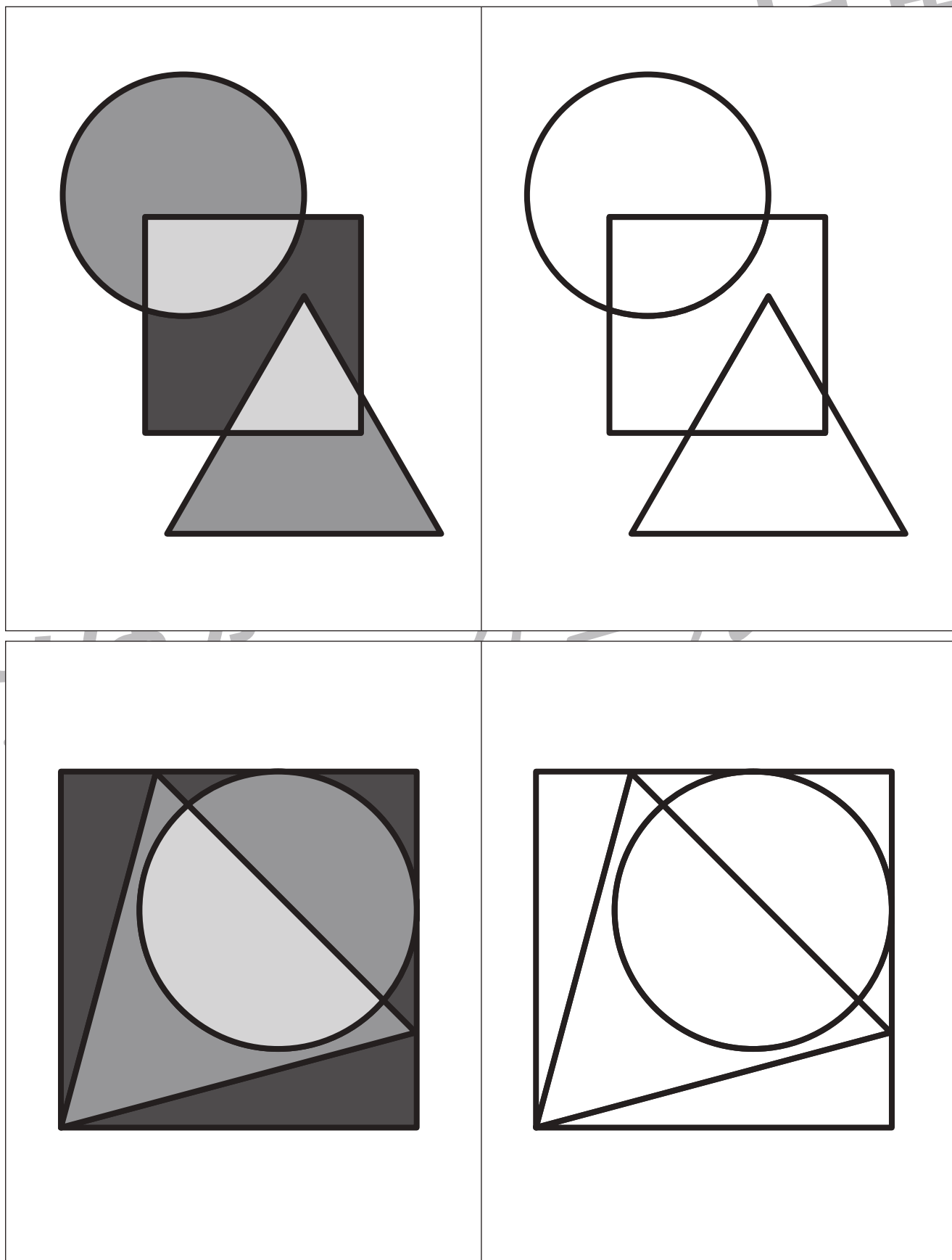


# おうちで、やろう。

Study at home. 小学校受験の家庭学習教材

運筆：濃淡7

左のお手本と同じ濃さになるように右の形を塗ります。この問題は鉛筆でやりましょう。  
※この問題に解答はありません。



※1. このプリントは、しながわ・目黒こどもスクールのウェブサイトでダウンロードができます。無断複写・引用はご遠慮ください。  
※2. このプリントを活用したオンライン授業のスケジュールは、しながわ・目黒こどもスクールのウェブサイトでご確認ください。





おうちで、やろう。

Study at home. 小学校受験の家庭学習教材

巧緻性：はさみ3

①点線をはさみで切ります。

②それぞれの絵の線をはさみで切ります。



※1. このプリントは、しながわ・目黒こどもスクールのウェブサイトでダウンロードができます。無断複写・引用はご遠慮ください。

※2. このプリントを活用したオンライン授業のスケジュールは、しながわ・目黒こどもスクールのウェブサイトでご確認ください。

