

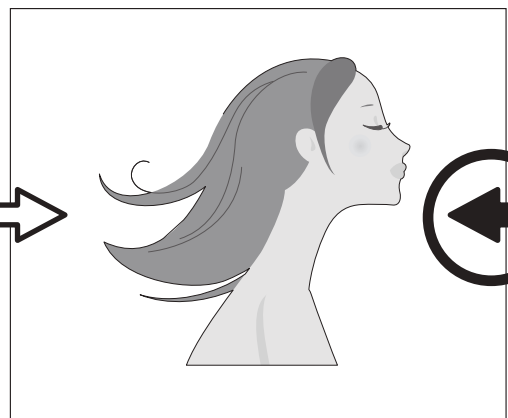



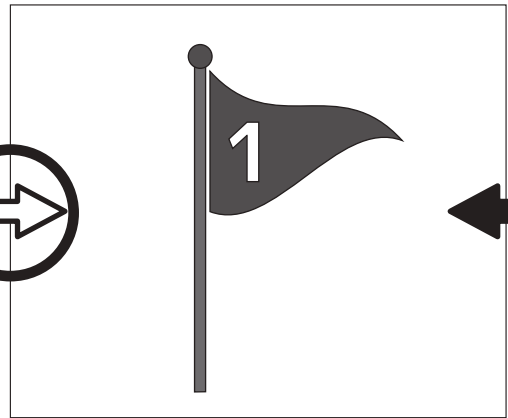




おうちで、やろう。

Study at home. 小学校受験の家庭学習教材

常識：風向き 3

それぞれの絵は風に吹かれている様子の絵です。どちらからどちらへ風が吹いていますか。
左から右へ風が吹いているときは白い矢印に、右から左へ風が吹いているときは黒い矢印に○をつけます。



※1. このプリントは、しながわ・目黒こどもスクールのウェブサイトでダウンロードができます。無断複写・引用はご遠慮ください。
※2. このプリントを活用したオンライン授業のスケジュールは、しながわ・目黒こどもスクールのウェブサイトでご確認ください。



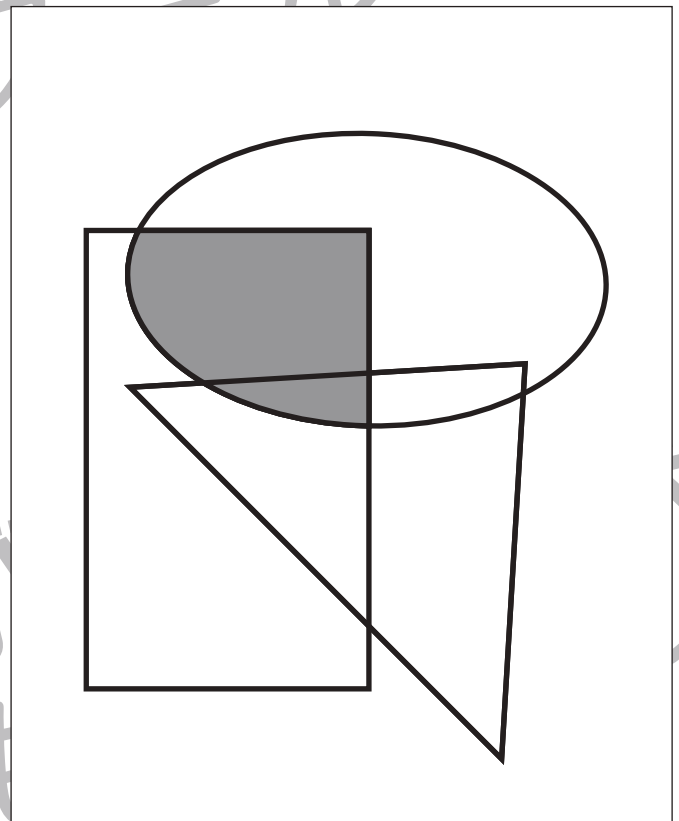
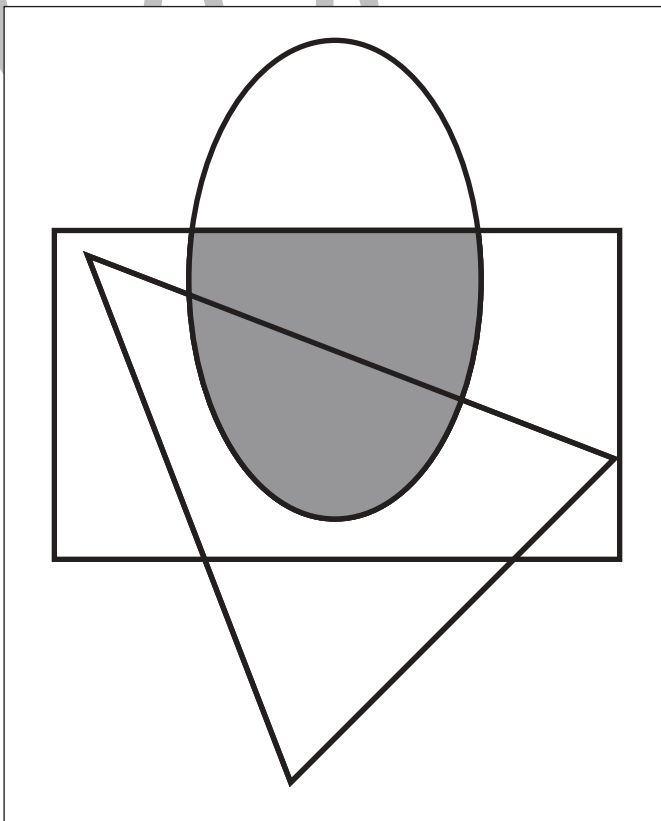
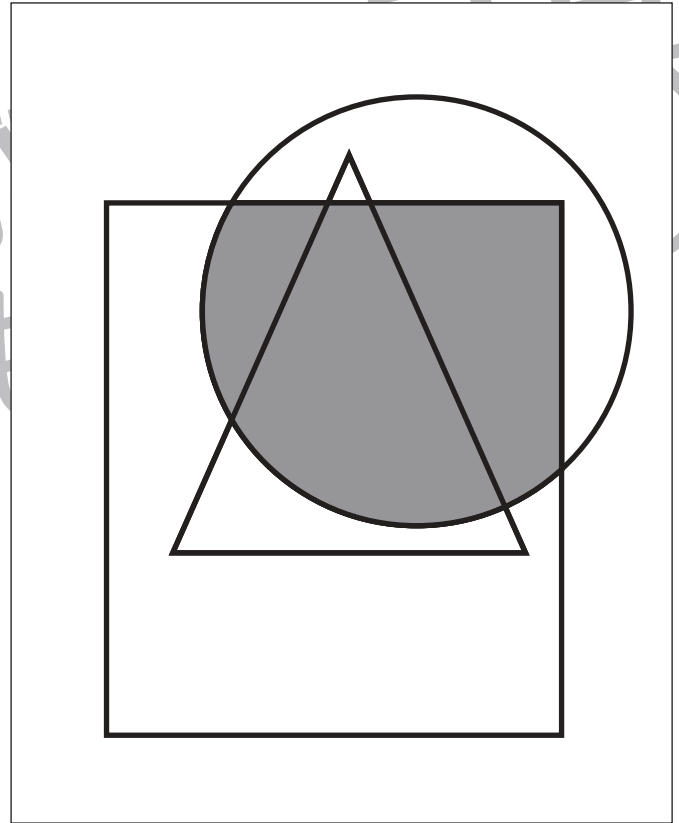
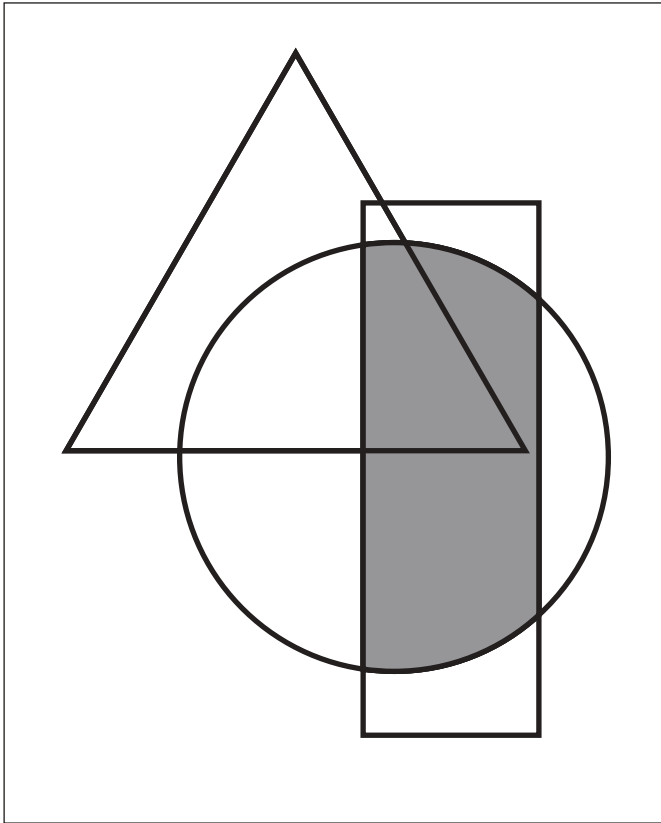


おうちで、やろう。

Study at home. 小学校受験の家庭学習教材

図形：重なり 15

四角の中には3つの形が重なったものがあります。丸と四角が重なっているところを見つけて色を塗ります。

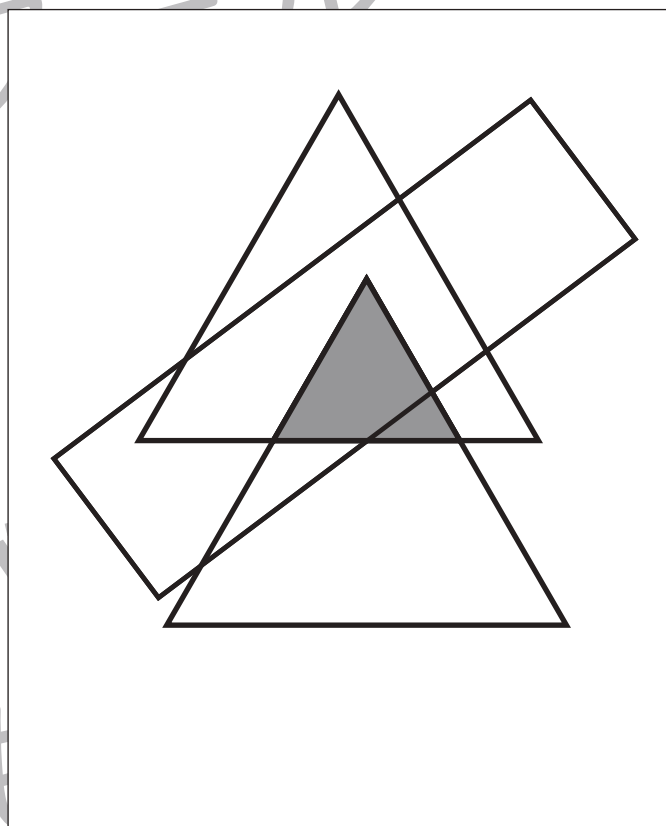
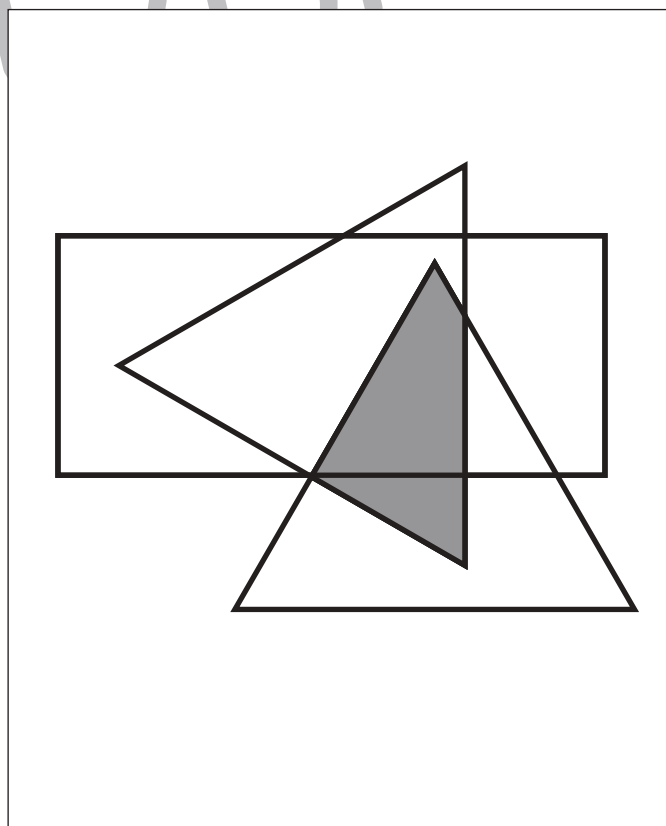
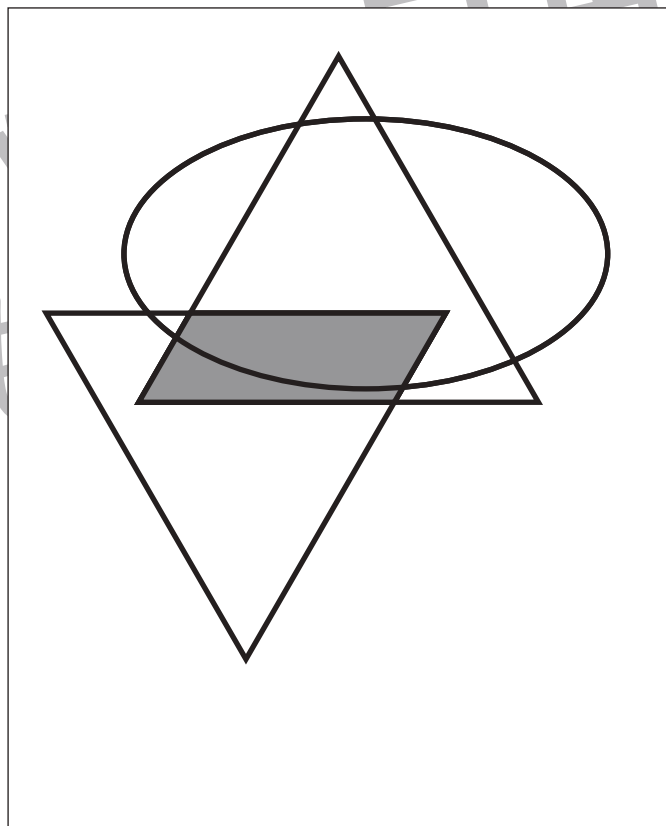
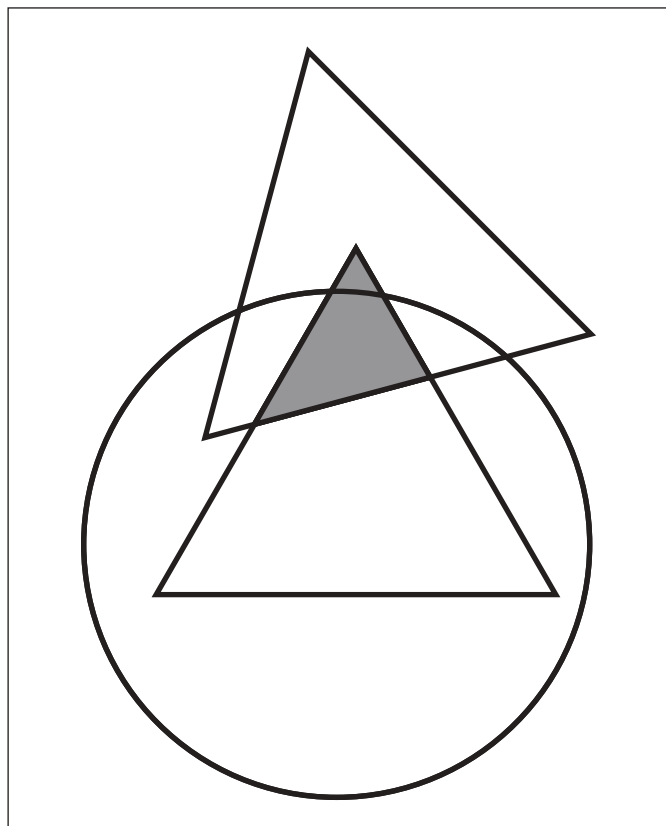


※1. このプリントは、しながわ・目黒こどもスクールのウェブサイトでダウンロードができます。無断複写・引用はご遠慮ください。
※2. このプリントを活用したオンライン授業のスケジュールは、しながわ・目黒こどもスクールのウェブサイトでご確認ください。





四角の中には3つの形が重なったものがあります。2つの三角が重なっているところを塗ります。





おうちで、やろう。

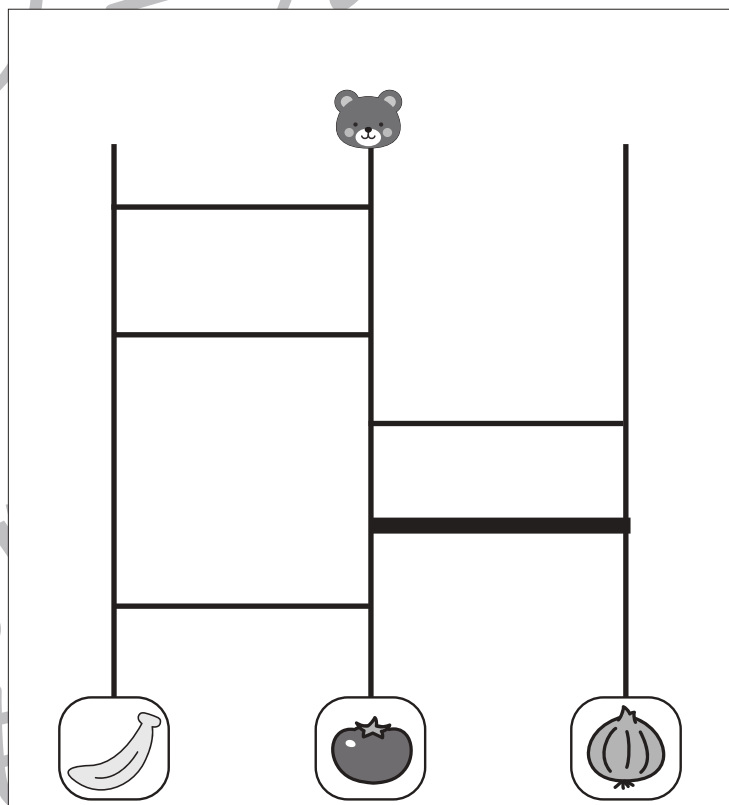
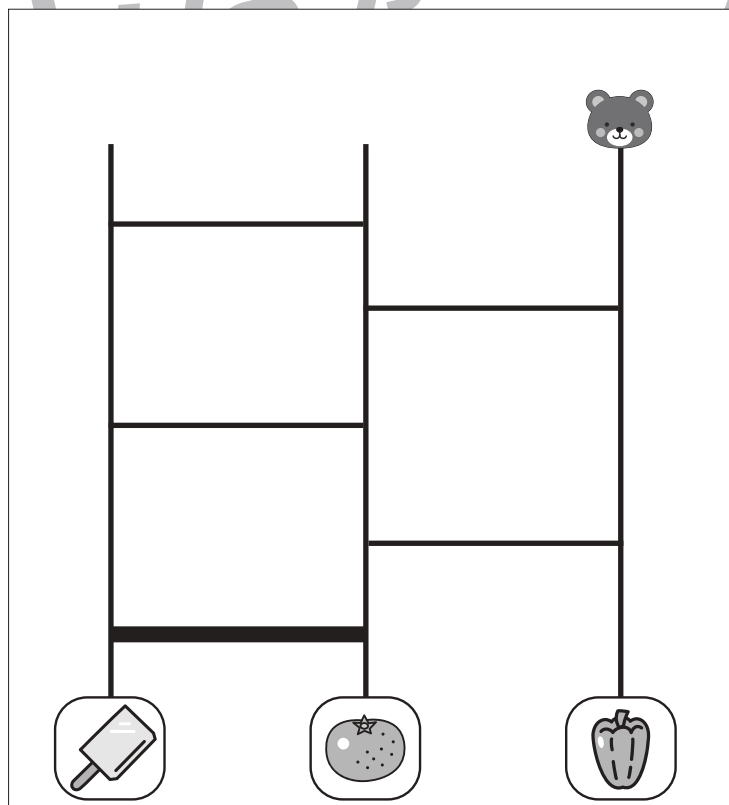
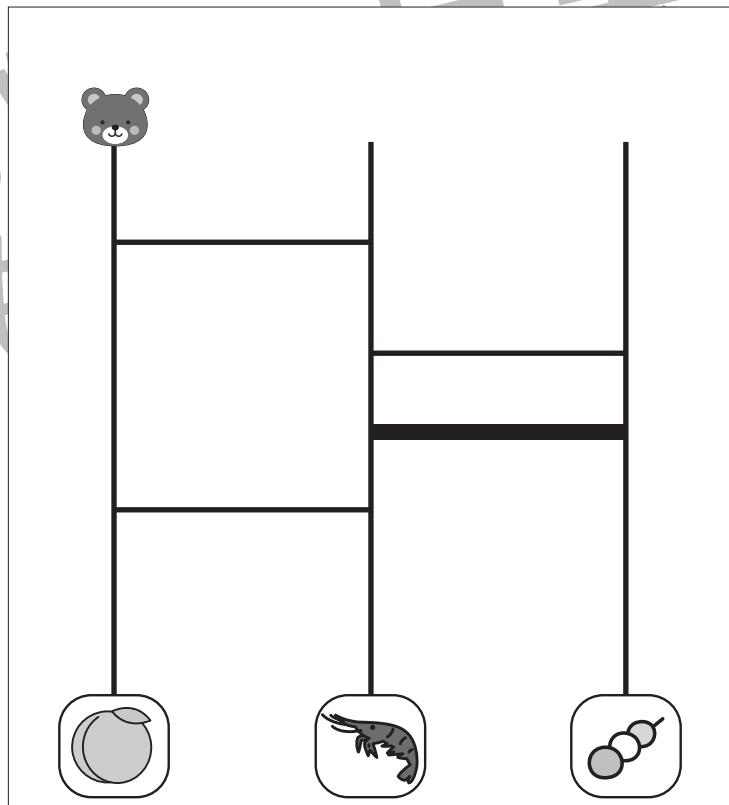
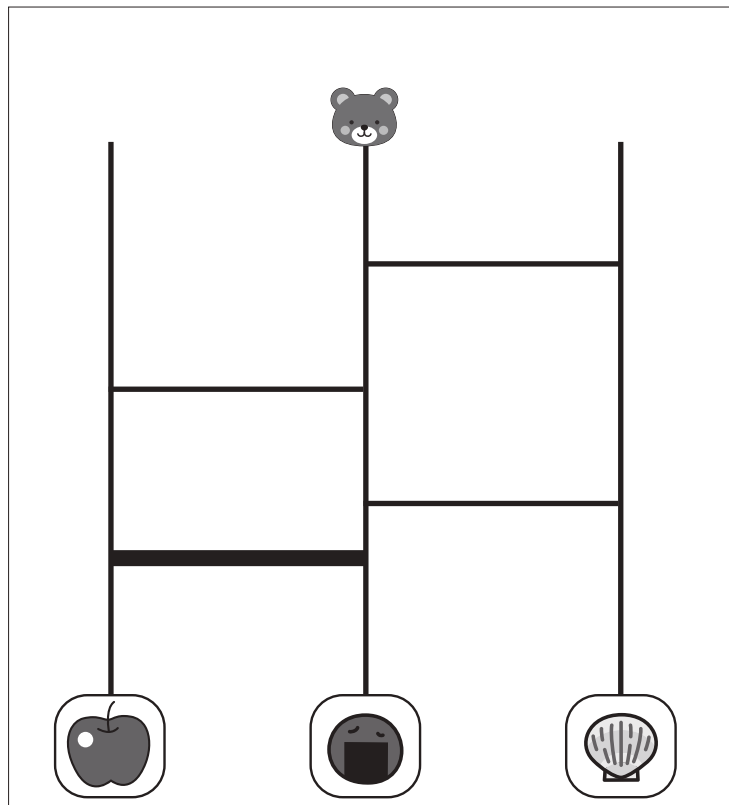
Study at home. 小学校受験の家庭学習教材

推理：あみだくじ 4

上のクマさんがあみだくじを進んでいきます。果物のところにつくためにはどこかに線を1本かくと、果物につくことができます。どこに線をかけばよいのか考えて、線を1本かきたいましよう。

※あみだくじのルール：①上から下へ進みます。道は戻ってはいけません。②途中で曲がり角があったら必ず曲がります。

※解答は一例です。他の場所でも正しく進める場所がありますので、その場合は○をつけてあげてください。



※1. このプリントは、しながわ・目黒こどもスクールのウェブサイトでダウンロードができます。無断複写・引用はご遠慮ください。

※2. このプリントを活用したオンライン授業のスケジュールは、しながわ・目黒こどもスクールのウェブサイトでご確認ください。



おうちで、やろう。

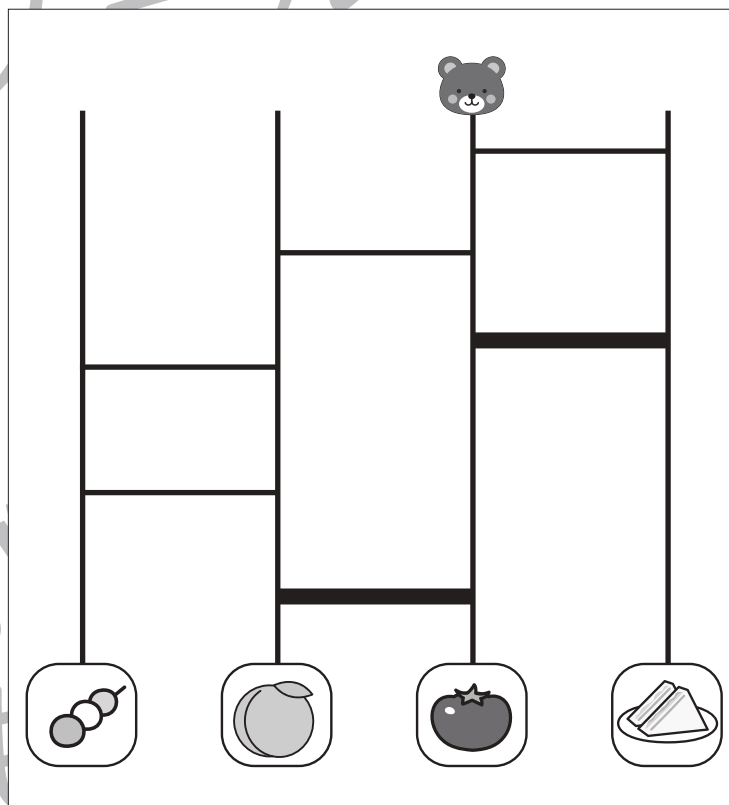
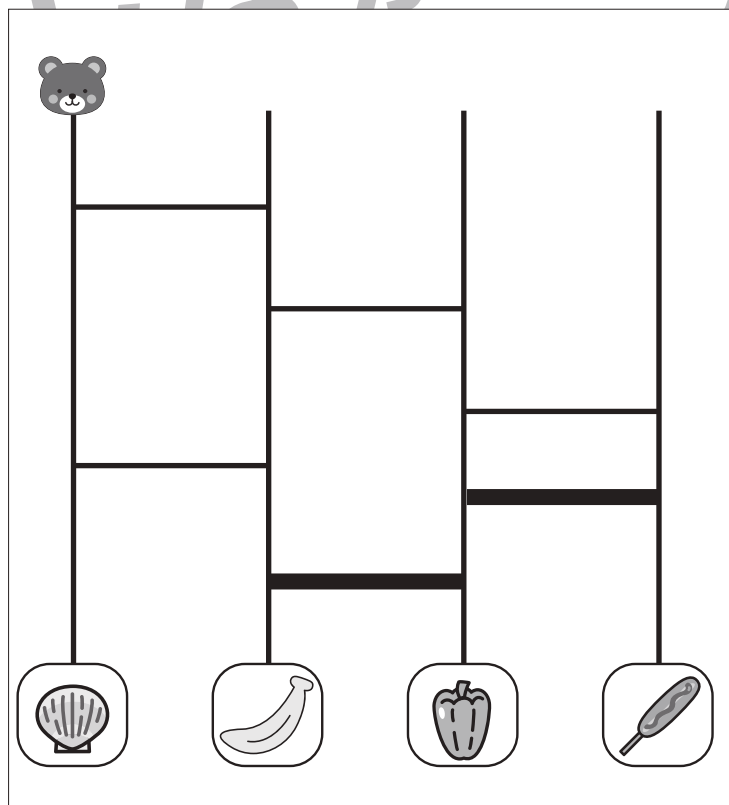
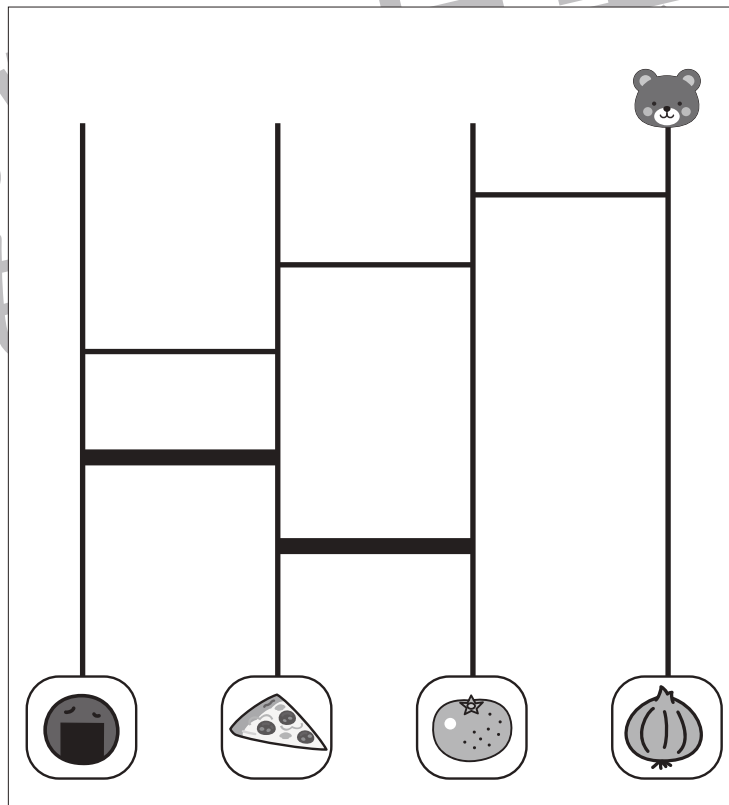
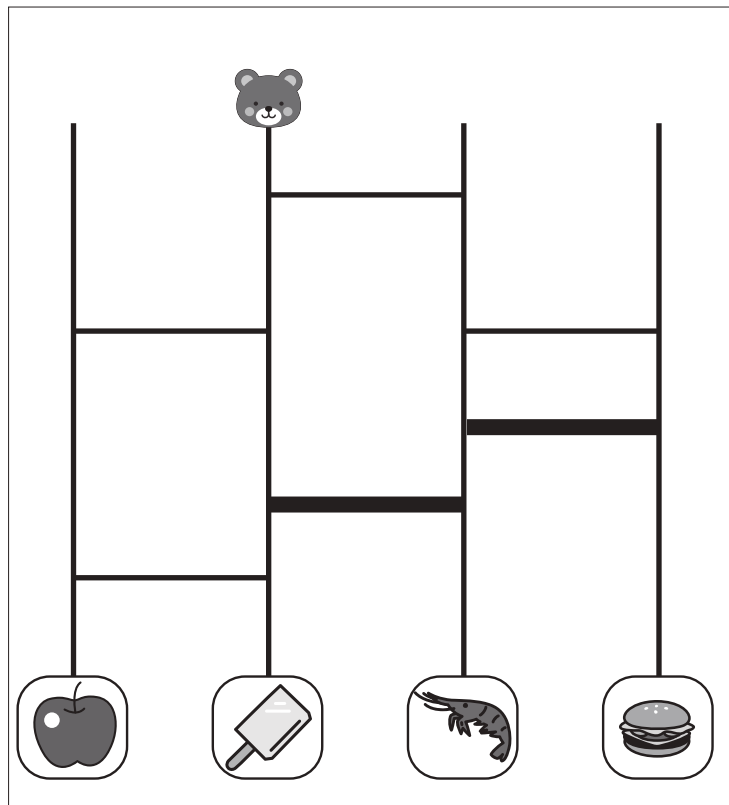
Study at home. 小学校受験の家庭学習教材

推理：あみだくじ5

上のクマさんがあみだくじを進んでいきます。果物につくように2本の横線をかき足しましょう。

※あみだくじのルール：①上から下へ進みます。道は戻ってはいけません。②途中で曲がり角があったら必ず曲がります。

※解答は一例です。他の場所でも正しく進める場所がありますので、その場合は○をつけてあげてください。



※1. このプリントは、しながわ・目黒こどもスクールのウェブサイトでダウンロードができます。無断複写・引用はご遠慮ください。

※2. このプリントを活用したオンライン授業のスケジュールは、しながわ・目黒こどもスクールのウェブサイトでご確認ください。



おうちで、やろう。

Study at home. 小学校受験の家庭学習教材

数量：違う数 11

左の四角の灰色の丸と右の四角の白い丸の数の違いが3になる組み合わせを見つけて点と点を線で結びます。

Left column boxes (Grey dots):

- Box 1: 4 dots
- Box 2: 7 dots
- Box 3: 5 dots
- Box 4: 6 dots

Right column boxes (White dots):

- Box 1: 8 dots
- Box 2: 5 dots
- Box 3: 9 dots
- Box 4: 10 dots

Connections (Grey to White):

- 4 to 7
- 7 to 5
- 5 to 9
- 6 to 10

※1. このプリントは、しながわ・目黒こどもスクールのウェブサイトでダウンロードができます。無断複写・引用はご遠慮ください。

※2. このプリントを活用したオンライン授業のスケジュールは、しながわ・目黒こどもスクールのウェブサイトでご確認ください。



おうちで、よろう。

Study at home. 小学校受験の家庭学習教材

数量：違う数 12

左の四角の灰色の丸と右の四角の白い丸の数の違いが4になる組み合わせを見つけて点と点を線で結びます。

| | |
|-------------|--------------|
| 7 grey dots | 6 white dots |
| 8 grey dots | 9 white dots |
| 6 grey dots | 7 white dots |
| 3 grey dots | 8 white dots |

※1. このプリントは、しながわ・目黒こどもスクールのウェブサイトでダウンロードができます。無断複写・引用はご遠慮ください。

※2. このプリントを活用したオンライン授業のスケジュールは、しながわ・目黒こどもスクールのウェブサイトでご確認ください。



おうちで、よろう。

Study at home. 小学校受験の家庭学習教材

数量：違う数 13

左の四角の灰色の丸と右の四角の白い丸の数の違いが5になる組み合わせを見つけて点と点を線で結びます。

| Left Box (Grey Dots) | Right Box (White Dots) |
|----------------------|------------------------|
| 7 | 12 |
| 4 | 9 |
| 2 | 7 |
| 6 | 11 |

※1. このプリントは、しながわ・目黒こどもスクールのウェブサイトでダウンロードができます。無断複写・引用はご遠慮ください。

※2. このプリントを活用したオンライン授業のスケジュールは、しながわ・目黒こどもスクールのウェブサイトでご確認ください。