

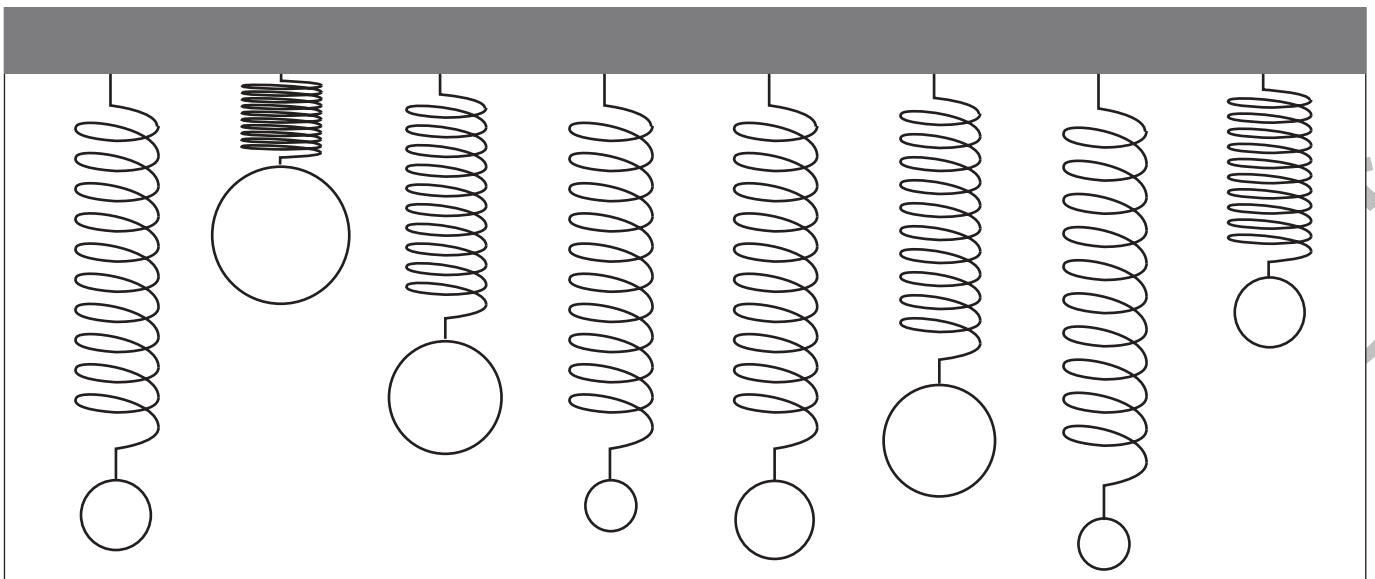
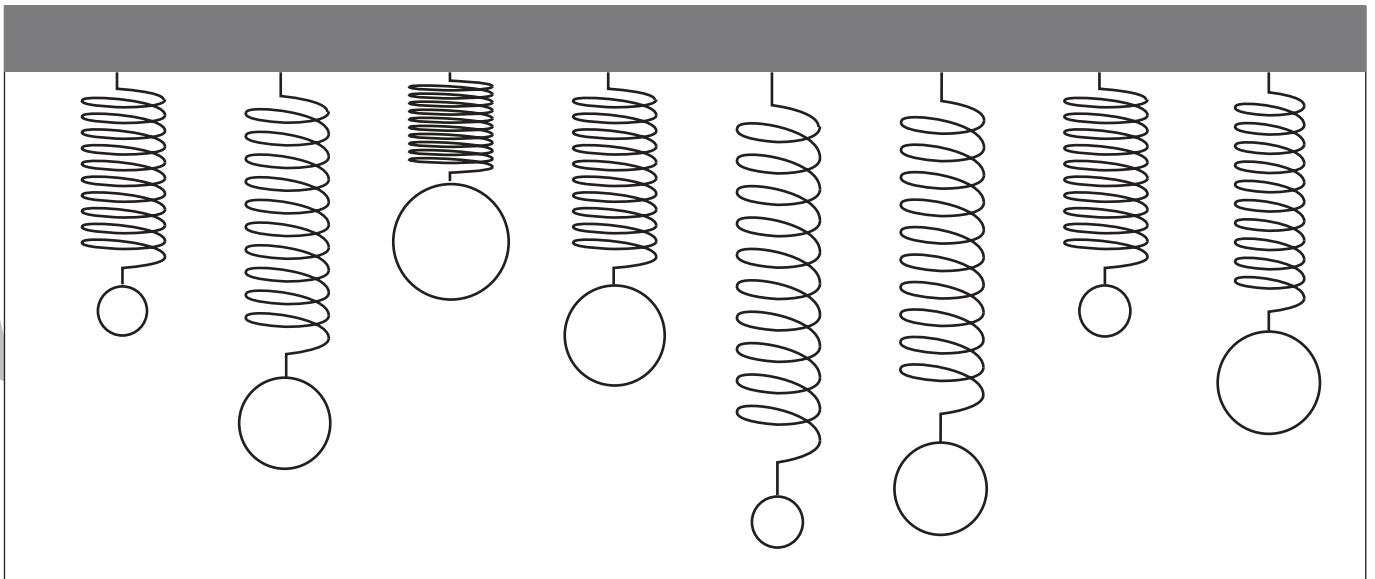
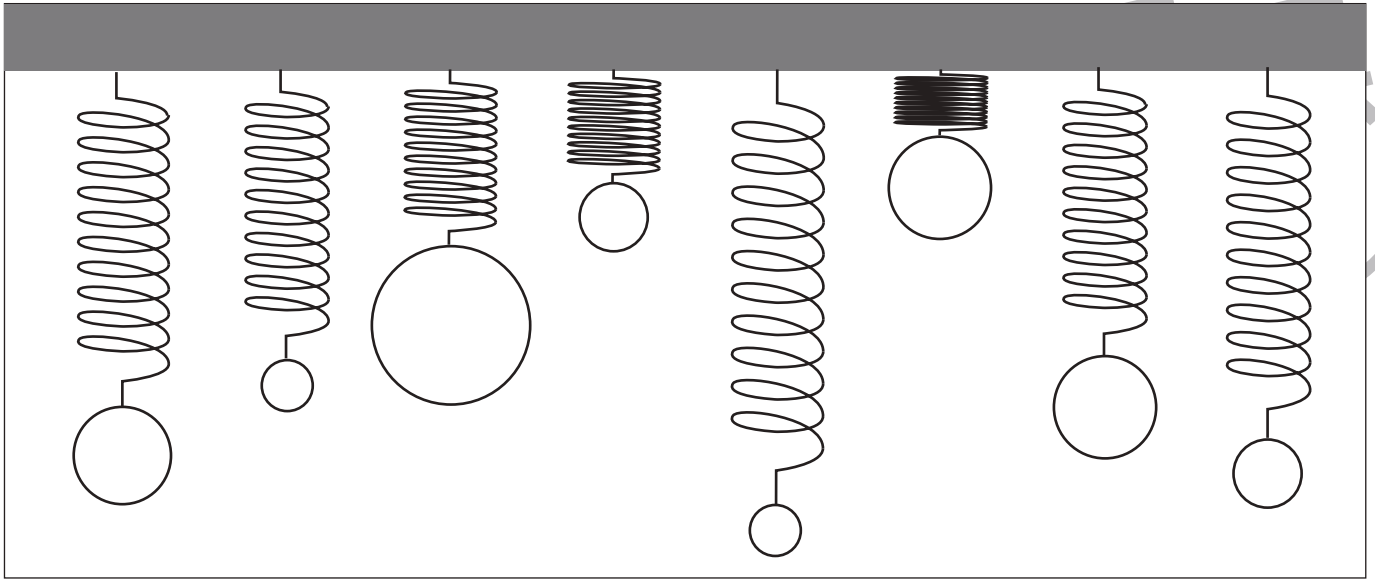


# おうちで、やろう。

Study at home. 小学校受験の家庭学習教材

推理：重さ 11

バネにボールをつるして重さ比べをしました。同じ重さのもののボールを塗ります。



※1. このプリントは、しながわ・目黒こどもスクールのウェブサイトでダウンロードができます。無断複写・引用はご遠慮ください。  
 ※2. このプリントを活用したオンライン授業のスケジュールは、しながわ・目黒こどもスクールのウェブサイトでご確認ください。

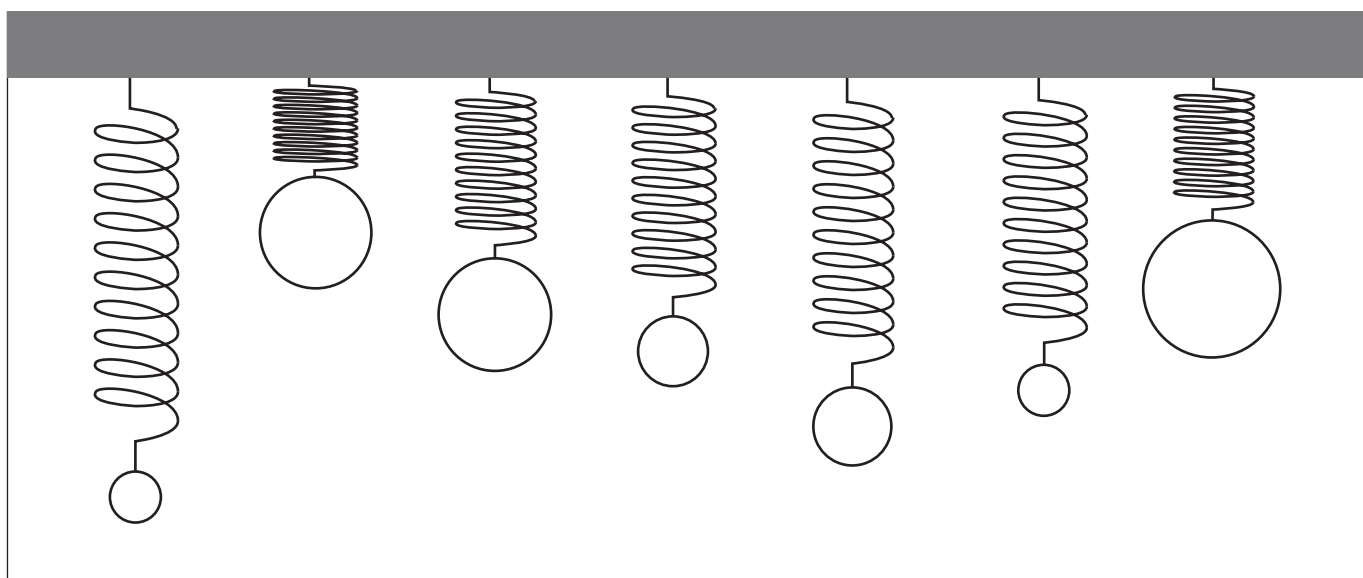
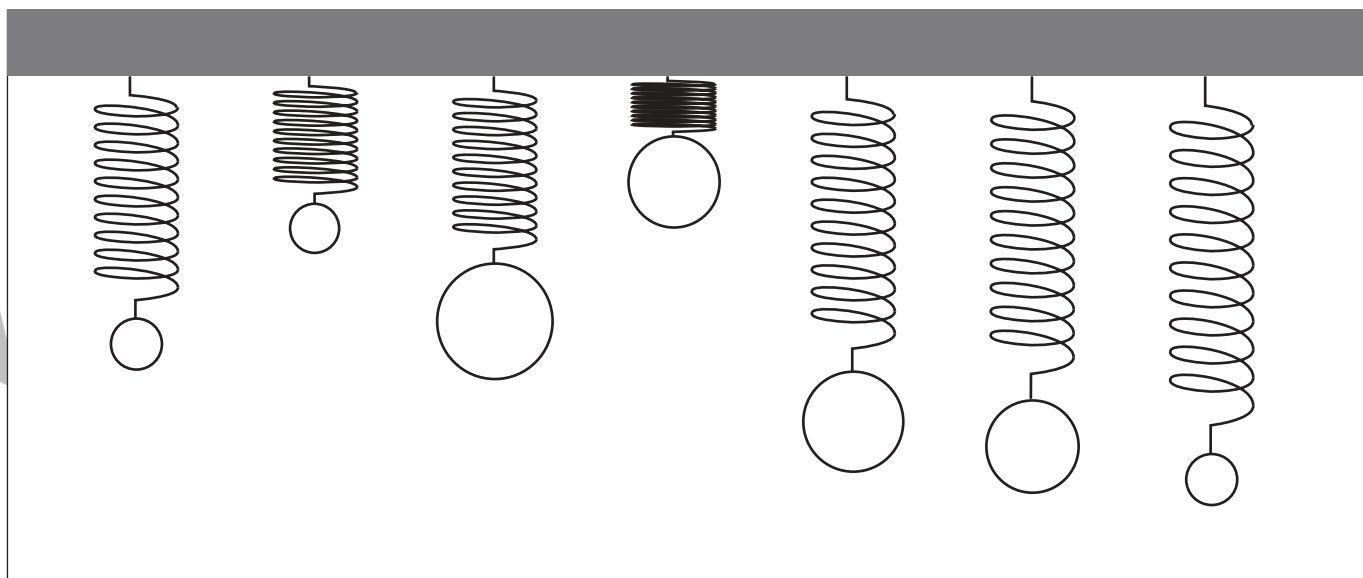
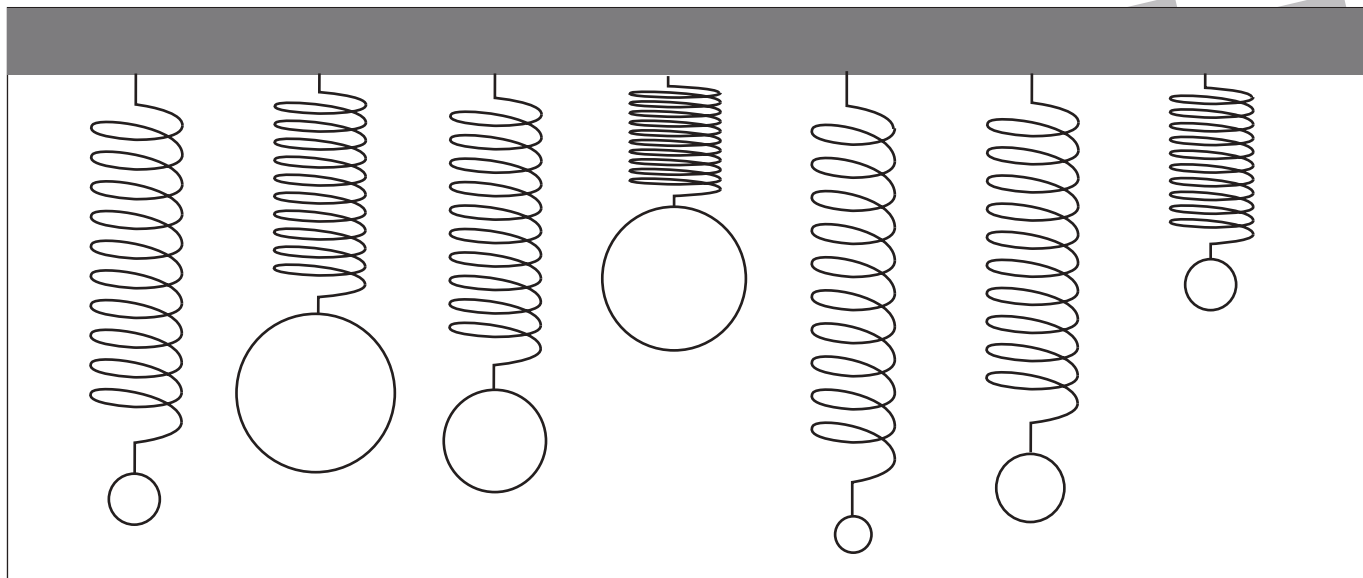


# おうちで、やろう。

Study at home. 小学校受験の家庭学習教材

推理：重さ 12

バネにボールをつるして重さ比べをしました。3番目に重いボールには青で、3番目に軽いボールには緑でボールを塗ります。



※1. このプリントは、しながわ・目黒こどもスクールのウェブサイトからダウンロードできます。無断複写・引用はご遠慮ください。

※2. このプリントを活用したオンライン授業のスケジュールは、しながわ・目黒こどもスクールのウェブサイトでご確認ください。



# おうちで、やろう。

Study at home. 小学校受験の家庭学習教材

## 図形：置き換え 10

上の四角の中がお手本の形です。このお手本の黒いマス場所には×を、灰色のマスの場所には○をすぐ下の四角の同じマスにかきます。もし、間違えてしまった場合は一番下の四角にやりなおしましょう。


※1. このプリントは、しながわ・目黒こどもスクールのウェブサイトからダウンロードできます。無断複写・引用はご遠慮ください。  
 ※2. このプリントを活用したオンライン授業のスケジュールは、しながわ・目黒こどもスクールのウェブサイトでご確認ください。



# おうちで、やろう。

Study at home. 小学校受験の家庭学習教材

## 図形：置き換え 11

上の四角の中がお手本の形です。このお手本の白いマスの場所には○を、黒のマスの場所には×を、灰色のマスの場所には/（斜め線）を下の四角の同じマスにかきます。もし、間違えてしまった場合は一番下の四角にやりなおしましょう。


※1. このプリントは、しながわ・目黒こどもスクールのウェブサイトでダウンロードができます。無断複写・引用はご遠慮ください。

※2. このプリントを活用したオンライン授業のスケジュールは、しながわ・目黒こどもスクールのウェブサイトでご確認ください。

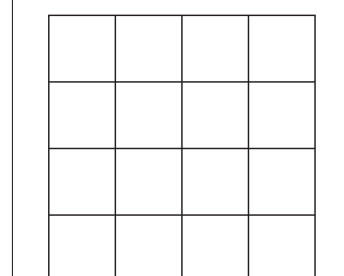

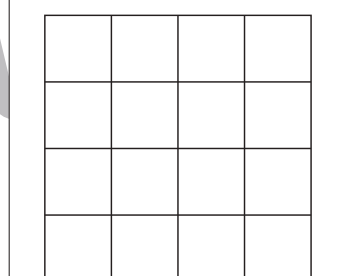

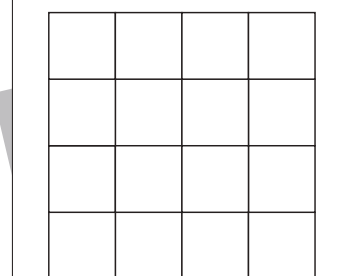
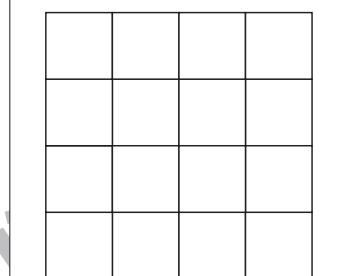
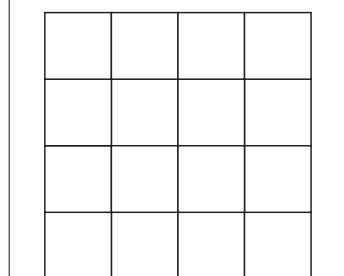

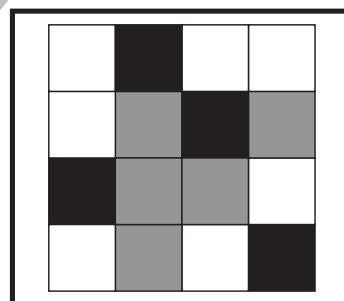

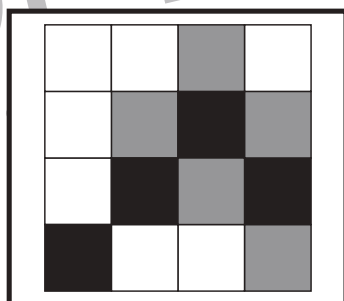

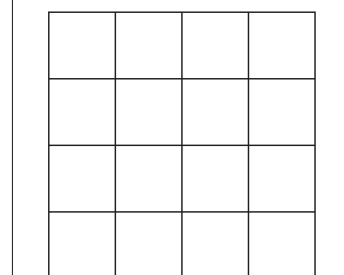
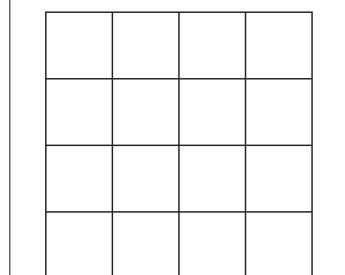
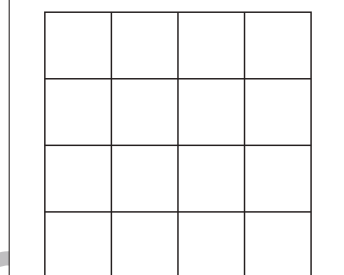
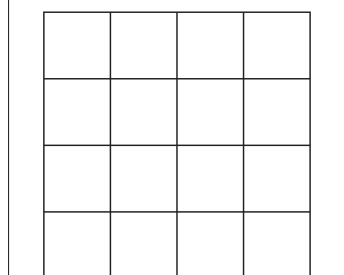
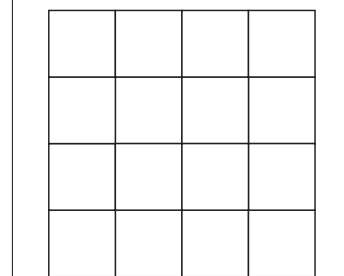
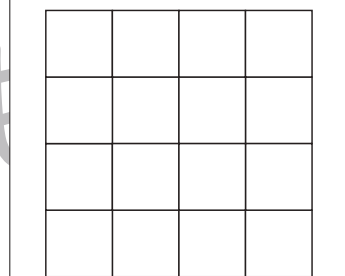
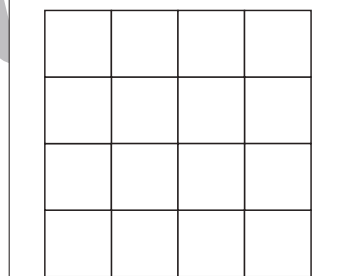

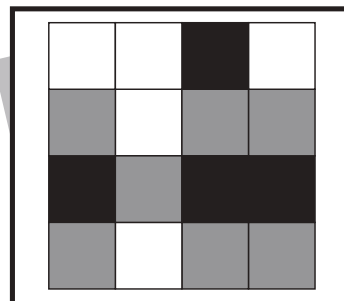





# おうちで、やろう。

Study at home. 小学校受験の家庭学習教材

## 図形：置き換え 12

上の四角の中がお手本の形です。このお手本の白いマス場所には○を、黒のマス場所には×を下の四角の同じマスにかきます。もし、間違えてしまった場合は一番下の四角にやりなおしましょう。



※1. このプリントは、しながわ・目黒こどもスクールのウェブサイトでダウンロードができます。無断複写・引用はご遠慮ください。  
※2. このプリントを活用したオンライン授業のスケジュールは、しながわ・目黒こどもスクールのウェブサイトでご確認ください。


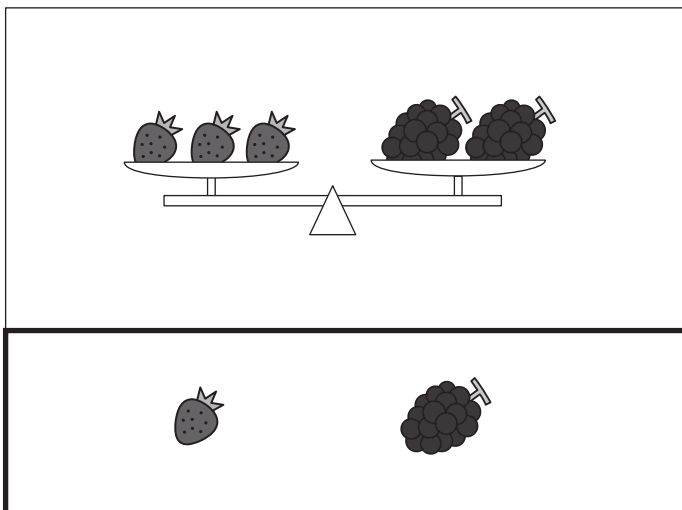






# おうちで、やろう。

Study at home. 小学校受験の家庭学習教材

推理：重さ 13

天秤に果物をのせて重さ比べをしました。それぞれの四角の中のシーソーはつり合っています。それぞれの四角の中のシーソーの果物を1つずつにしたとき、1つの果物の重さが重いものはどちらですか。重い果物を下の太い線の中から選んで○をつけます。



※1. このプリントは、しながわ・目黒こどもスクールのウェブサイトでダウンロードができます。無断複写・引用はご遠慮ください。  
 ※2. このプリントを活用したオンライン授業のスケジュールは、しながわ・目黒こどもスクールのウェブサイトでご確認ください。










# おうちで、やろう。

Study at home. 小学校受験の家庭学習教材

推理：重さ 14

天秤に果物をのせて重さ比べをしました。それぞれの四角の中のシーソーはつり合っています。それぞれの四角の中のシーソーの果物を一つずつにしたとき、1つの果物の重さが2番目に重いものはどちらですか。2番目に重い果物を下の太い線の中から選んで○をつけます。



※1. このプリントは、しながわ・目黒こどもスクールのウェブサイトでダウンロードができます。無断複写・引用はご遠慮ください。

※2. このプリントを活用したオンライン授業のスケジュールは、しながわ・目黒こどもスクールのウェブサイトでご確認ください。



# おうちで、やろう。

Study at home. 小学校受験の家庭学習教材

数量：同数7

上のミカンとサクランボの数をかぞえます。

それぞれの果物の数と星の数が同じ四角をみつけて、それぞれの果物の四角の左上にある記号をつけます。

--	--	--	--


※1. このプリントは、しながわ・目黒こどもスクールのウェブサイトでダウンロードができます。無断複写・引用はご遠慮ください。

※2. このプリントを活用したオンライン授業のスケジュールは、しながわ・目黒こどもスクールのウェブサイトでご確認ください。





# おうちで、やろう。

Study at home. 小学校受験の家庭学習教材

数量：同数8

上の果物の数をかぞえます。

それぞれの果物の数と星の数が同じ四角をみつけて、それぞれの果物の四角の左上にある記号をつけます。



※1. このプリントは、しながわ・目黒こどもスクールのウェブサイトでダウンロードができます。無断複写・引用はご遠慮ください。

※2. このプリントを活用したオンライン授業のスケジュールは、しながわ・目黒こどもスクールのウェブサイトでご確認ください。



# おうちで、やろう。

Study at home. 小学校受験の家庭学習教材

## 図形：点図形 38

左のお手本と同じになるように右の四角に足りない線をかきます。 ※このプリントに解答はありません。


※1. このプリントは、しながわ・目黒こどもスクールのウェブサイトでダウンロードができます。無断複写・引用はご遠慮ください。

※2. このプリントを活用したオンライン授業のスケジュールは、しながわ・目黒こどもスクールのウェブサイトでご確認ください。