




おうちで、やろう。

Study at home. 小学校受験の家庭学習教材

常識：なぞなぞ7

①～⑤の問題を聞いて、下の四角の中から正しいものを選びます。

- ①私は病気になった人を助ける仕事をしています。手術をしたり、注射をしたりします。私に○をつけてください。
- ②私は建物を作るのが得意です。木を使って家を建てます。私に△をつけてください。
- ③私はパトカーに乗ってみんなを守る仕事をしています。私に□をつけてください。
- ④私は消防車に乗って火事の場所へ行って火を消す仕事をしています。私に◎をつけてください。
- ⑤私はみんなに荷物を届ける仕事しています。私に×をつけてください。



※1. このプリントは、しながわ・目黒こどもスクールのウェブサイトでダウンロードができます。無断複写・引用はご遠慮ください。
 ※2. このプリントを活用したオンライン授業のスケジュールは、しながわ・目黒こどもスクールのウェブサイトでご確認ください。

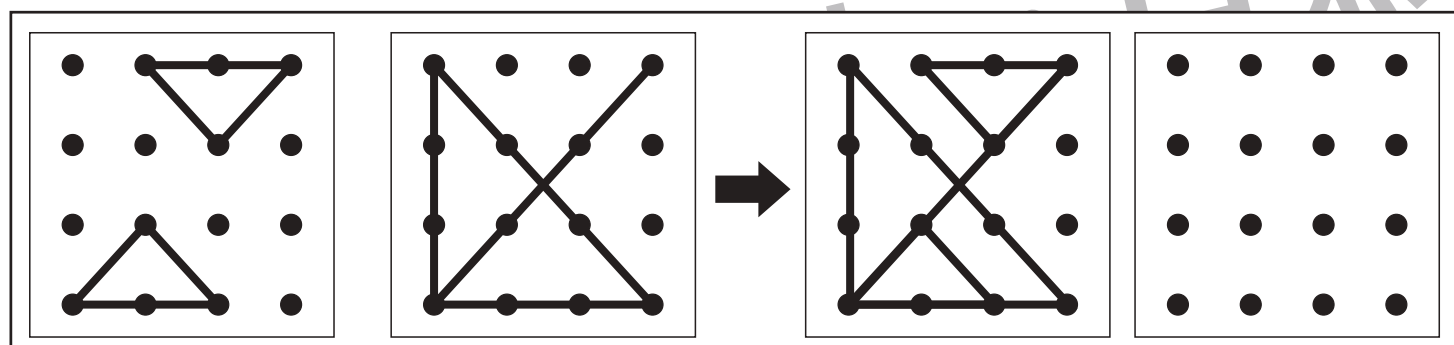
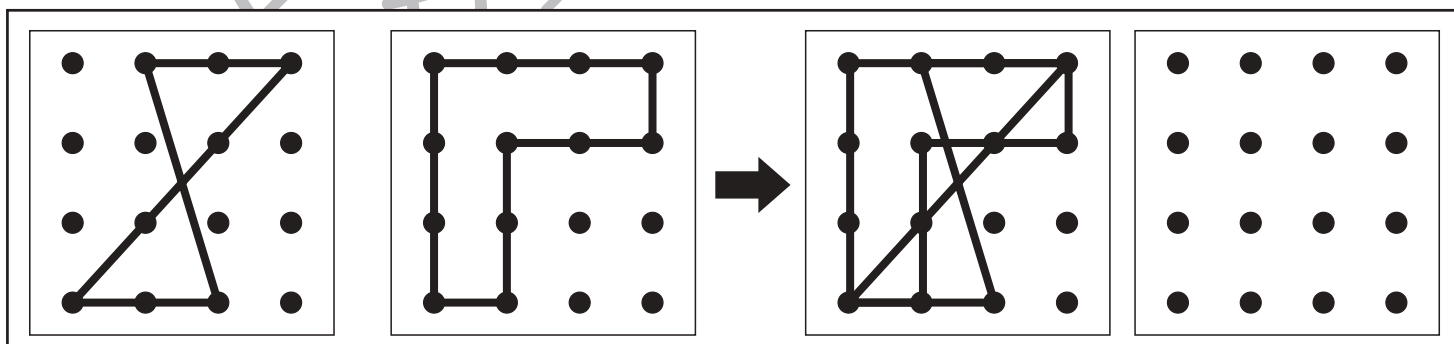
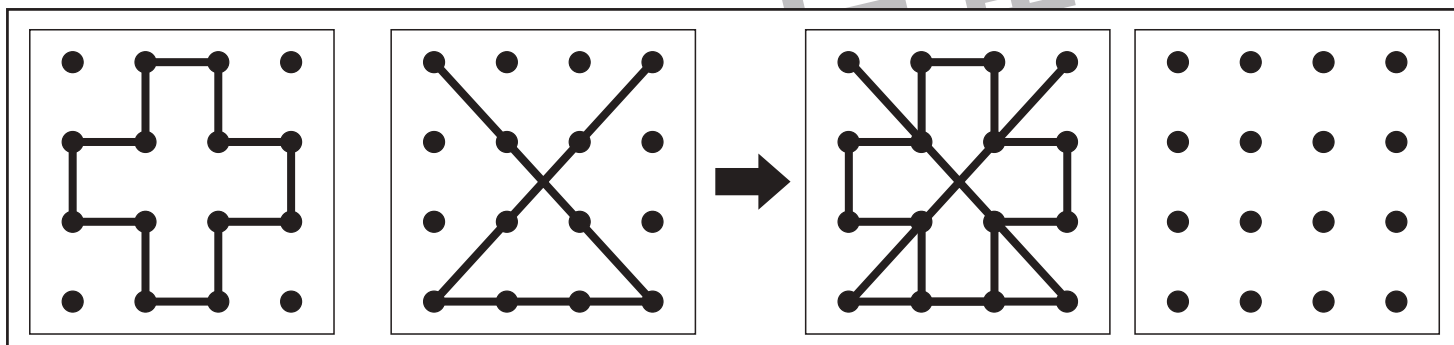
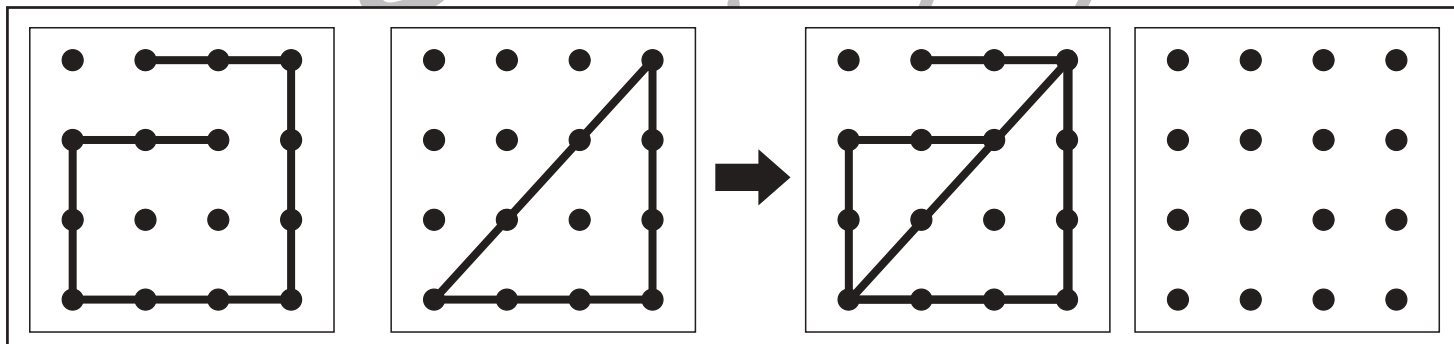
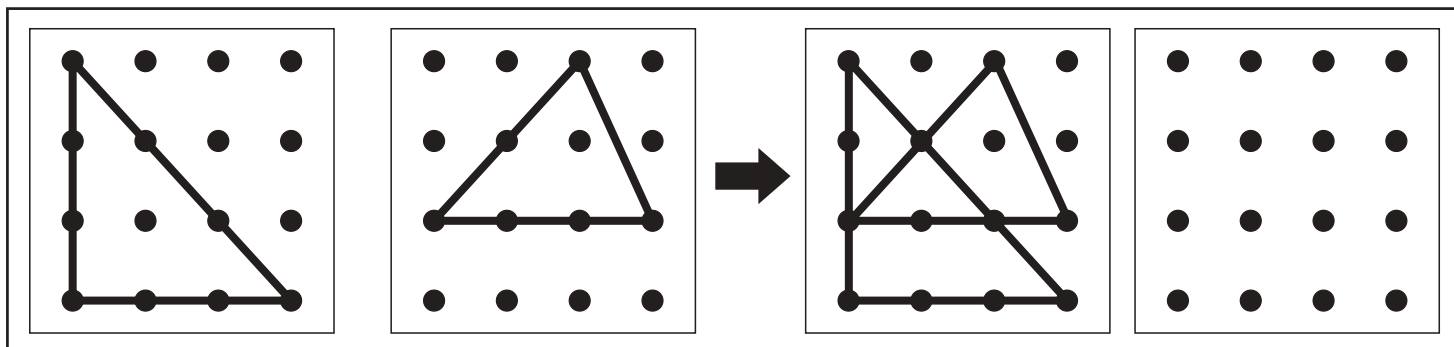


おうちで、やろう。

Study at home. 小学校受験の家庭学習教材

図形：重ね点図形 1

左の2つの四角は透明な板にかいたものです。この2つの四角をぴったり重ねたときの見え方を考えて矢印の右の四角にかきます。間違ってしまった場合は、一番右の四角にかきましょう。



※1. このプリントは、しながわ・目黒こどもスクールのウェブサイトからダウンロードできます。無断複写・引用はご遠慮ください。
 ※2. このプリントを活用したオンライン授業のスケジュールは、しながわ・目黒こどもスクールのウェブサイトでご確認ください。

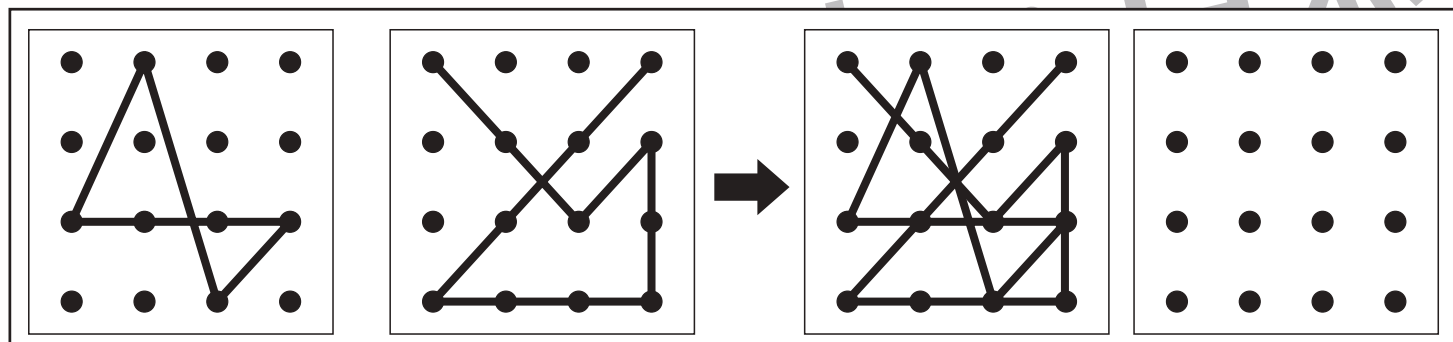
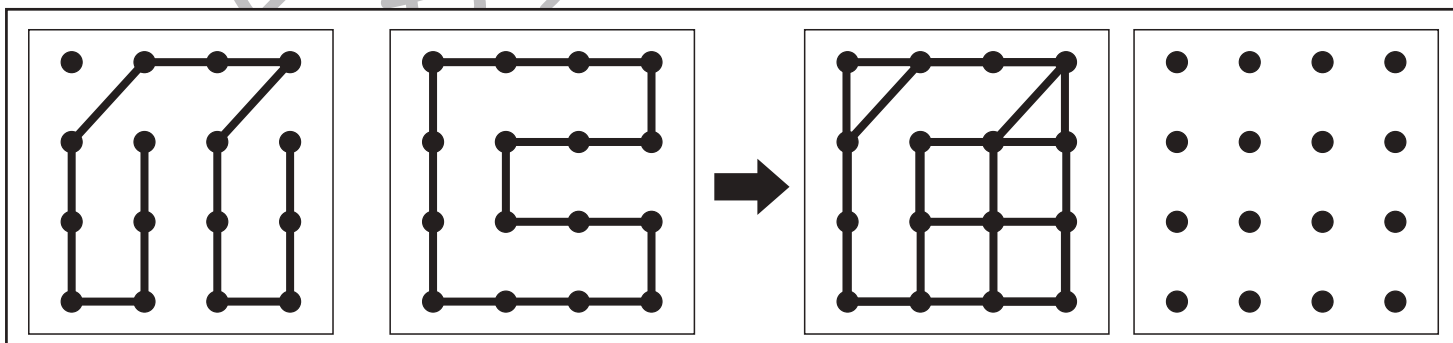
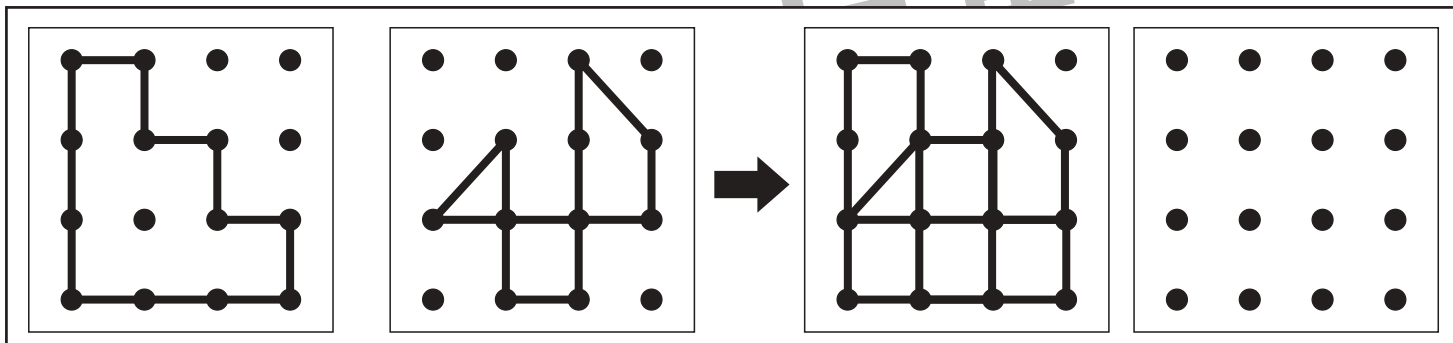
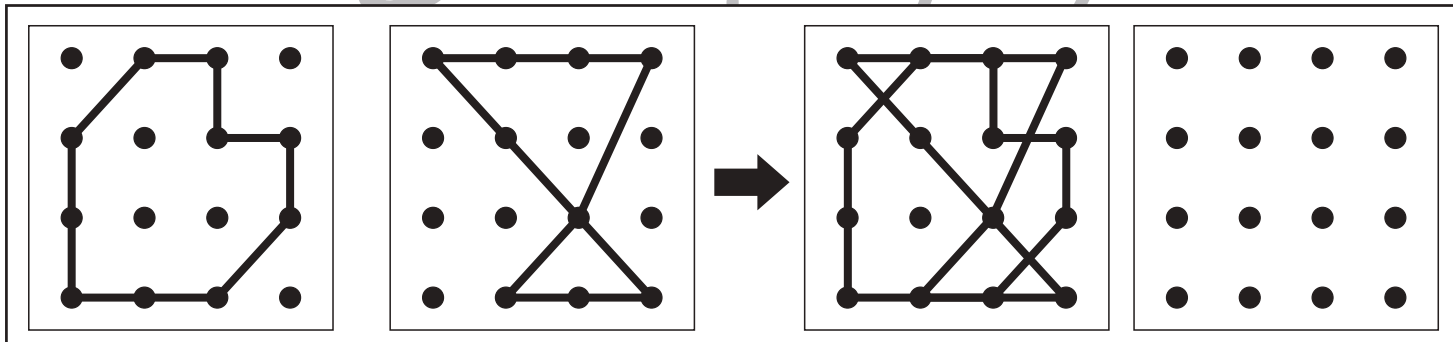
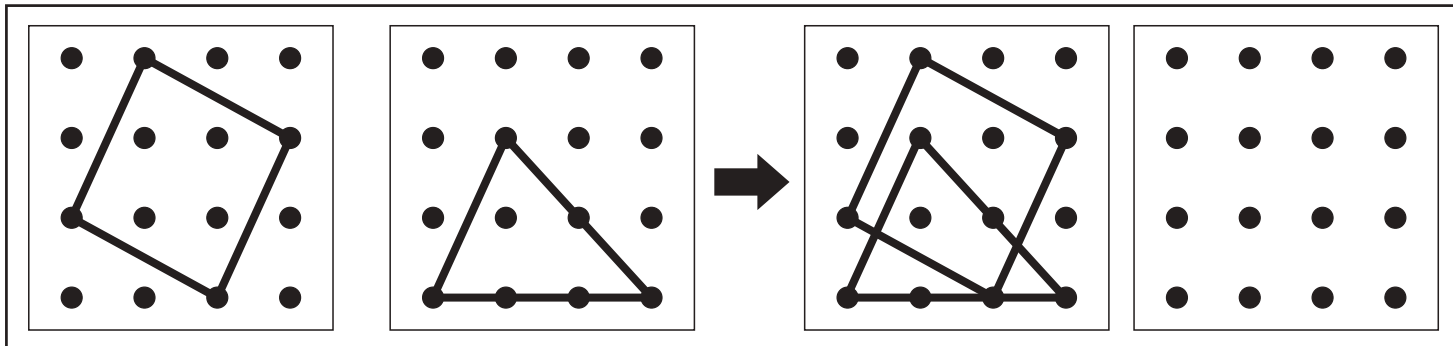


おうちで、やろう。

Study at home. 小学校受験の家庭学習教材

図形：重ね点図形2

左の2つの四角は透明な板にかいたものです。この2つの四角をぴったり重ねたときの見え方を考えて矢印の右の四角にかきます。間違えてしまった場合は、一番右の四角にかきましょう。



※1. このプリントは、しながわ・目黒こどもスクールのウェブサイトでダウンロードができます。無断複写・引用はご遠慮ください。

※2. このプリントを活用したオンライン授業のスケジュールは、しながわ・目黒こどもスクールのウェブサイトでご確認ください。

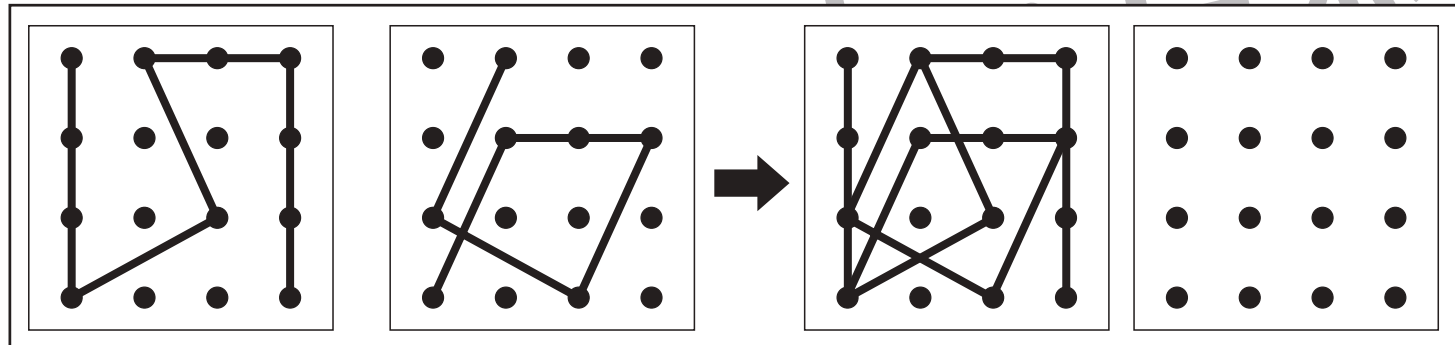
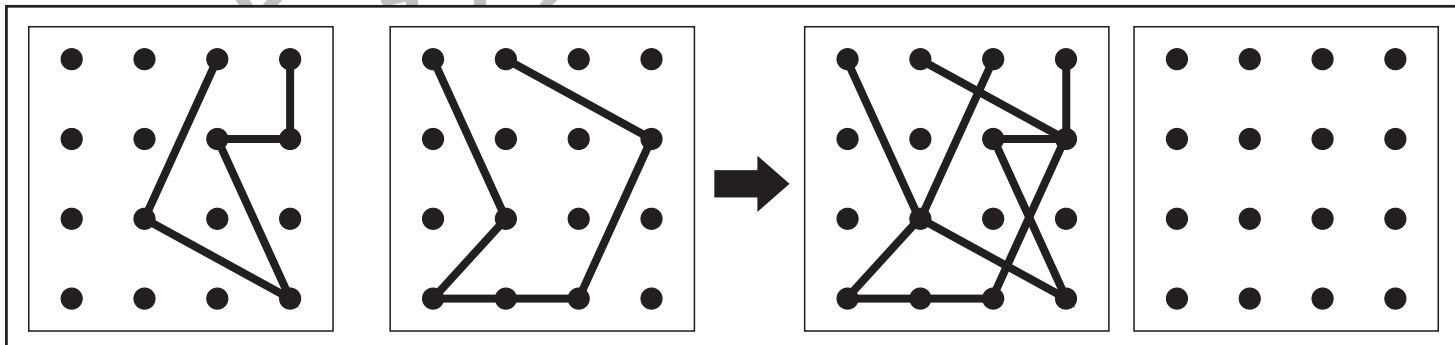
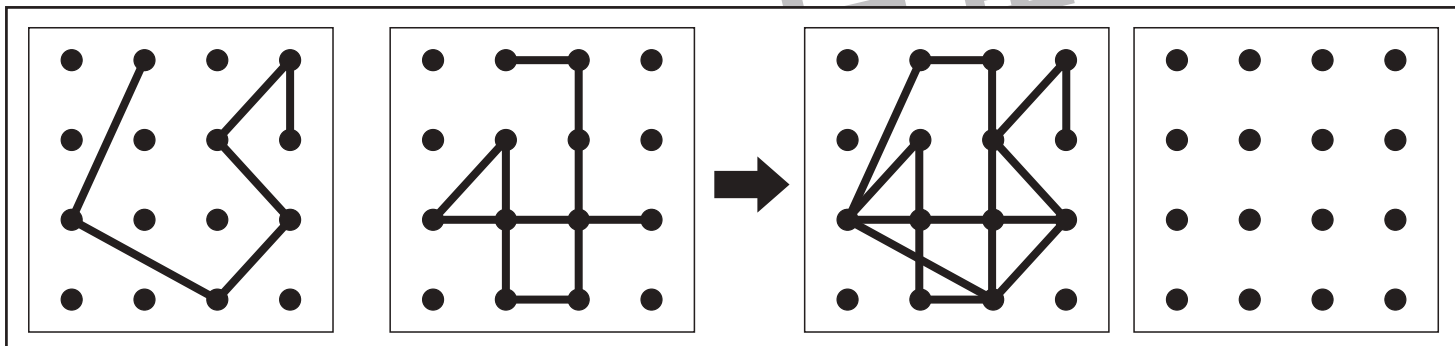
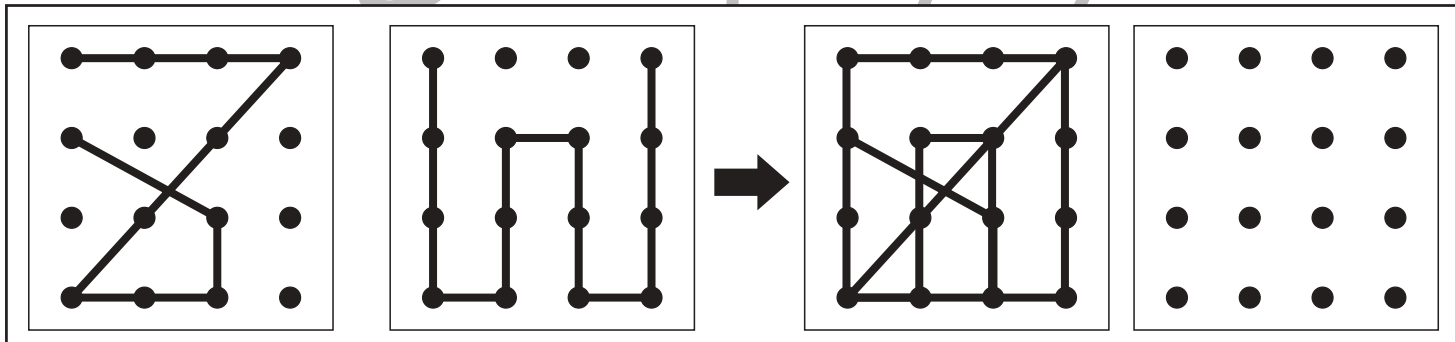
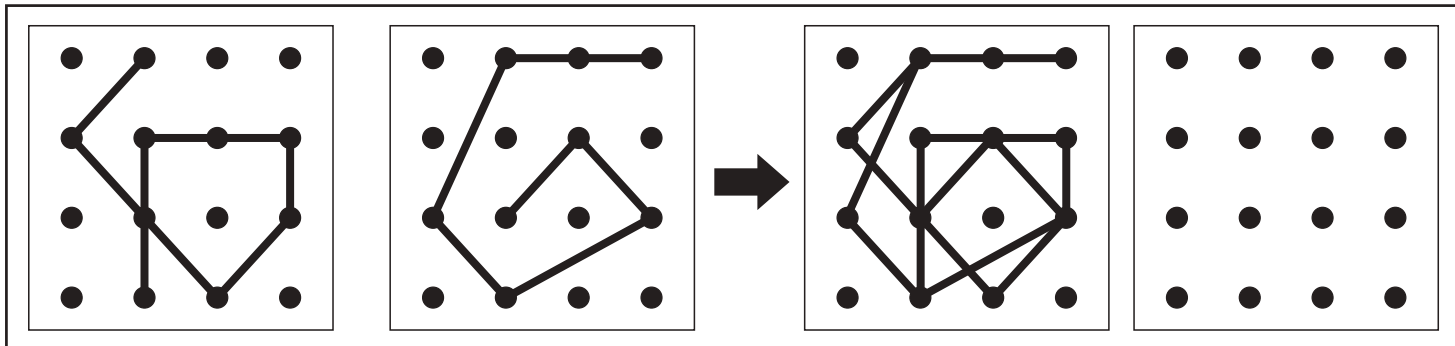


おうちで、やろう。

Study at home. 小学校受験の家庭学習教材

図形：重ね点図形3

左の2つの四角は透明な板にかいたものです。この2つの四角をぴったり重ねたときの見え方を考えて矢印の右の四角にかきます。間違えてしまった場合は、一番右の四角にかきましょう。



※1. このプリントは、しながわ・目黒こどもスクールのウェブサイトでダウンロードができます。無断複写・引用はご遠慮ください。

※2. このプリントを活用したオンライン授業のスケジュールは、しながわ・目黒こどもスクールのウェブサイトでご確認ください。



おうちで、やろう。

Study at home. 小学校受験の家庭学習教材

推理：系列完成 19

いろいろな記号が上の四角の中にある決まりにしたがって並んでいます。
?のところに入る組み合わせを下のから選んで○をつけます。

●	□
□	●
●	△
△	●
●	☆
?	?
●	☆
●	○
○	●

☆	△
△	☆
☆	△
?	?
☆	▲
▲	☆
☆	▲
▲	☆

□	●	△
△	□	●
●	△	□
□	●	△
△	□	●
●	△	□
?	?	?
△	□	●

○	☆	◆
?	?	?
◆	○	☆
○	☆	◆
☆	◆	○
◆	○	☆
○	☆	◆
☆	◆	○

●	○
☆	●
●	☆

△	☆
☆	△
▲	☆

●	△	□
△	□	●
□	●	△

○	☆	◆
☆	◆	○
◆	○	☆

※1. このプリントは、しながわ・目黒こどもスクールのウェブサイトでダウンロードができます。無断複写・引用はご遠慮ください。
※2. このプリントを活用したオンライン授業のスケジュールは、しながわ・目黒こどもスクールのウェブサイトでご確認ください。



おうちで、やろう。

Study at home. 小学校受験の家庭学習教材

推理：系列完成 20

いろいろな記号が上の四角の中にある決まりにしたがって並んでいます。
?のところに入る組み合わせを下のから選んで○をつけます。

					?	?	?				
		?	?	?							
								?	?	?	?
?	?										

※1. このプリントは、しながわ・目黒こどもスクールのウェブサイトでダウンロードができます。無断複写・引用はご遠慮ください。
※2. このプリントを活用したオンライン授業のスケジュールは、しながわ・目黒こどもスクールのウェブサイトでご確認ください。

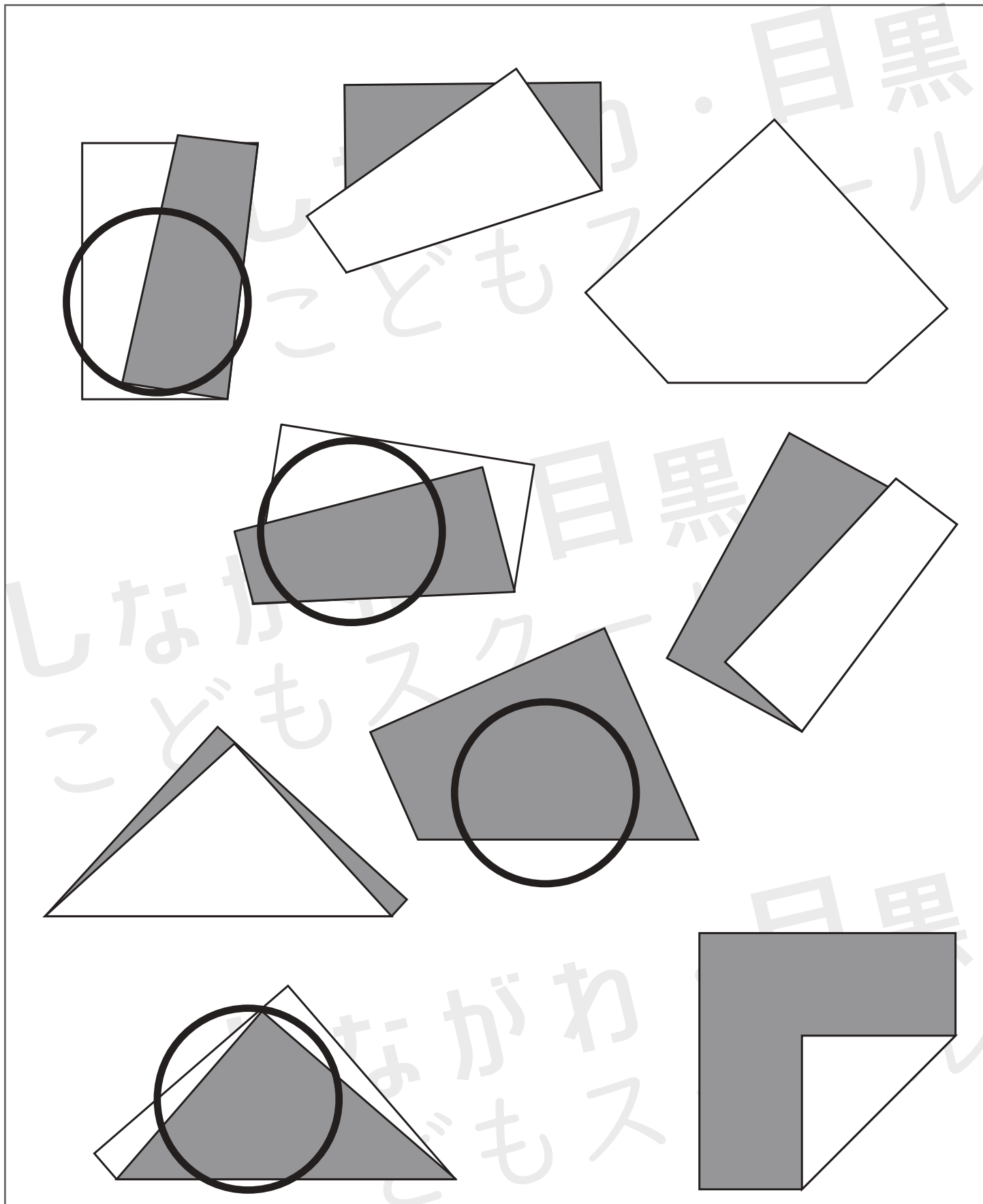


おうちで、やろう。

Study at home. 小学校受験の家庭学習教材

推理：折り紙 1

表が灰色、裏が白色の折り紙があります。この折り紙の灰色と灰色がくっつくように折りました。下の四角の中でこの約束で折れていないものを見つけて○をつけます。



※1. このプリントは、しながわ・目黒こどもスクールのウェブサイトでダウンロードができます。無断複写・引用はご遠慮ください。

※2. このプリントを活用したオンライン授業のスケジュールは、しながわ・目黒こどもスクールのウェブサイトでご確認ください。



おうちで、やろう。

Study at home. 小学校受験の家庭学習教材

数量：複合1

クッキーがそれぞれの四角の中にあります。左の太い四角の中のクッキーを右の4つ並んだ四角の灰色の四角の中に入れます。その後、4つの四角の中で2番目に数が少ない四角に○をつけます。

--	--	--	--	--

--	--	--	--	--

--	--	--	--	--

--	--	--	--	--

※1. このプリントは、しながわ・目黒こどもスクールのウェブサイトからダウンロードできます。無断複写・引用はご遠慮ください。
 ※2. このプリントを活用したオンライン授業のスケジュールは、しながわ・目黒こどもスクールのウェブサイトでご確認ください。



おうちで、やろう。

Study at home. 小学校受験の家庭学習教材

数量：複合2

クッキーがそれぞれの四角の中にあります。左の太い四角の中のクッキーを右の4つ並んだ四角の灰色の四角の中に入れます。その後、4つの四角の中で2番目に数が少ない四角に○をつけます。

※1. このプリントは、しながわ・目黒こどもスクールのウェブサイトでダウンロードができます。無断複写・引用はご遠慮ください。

※2. このプリントを活用したオンライン授業のスケジュールは、しながわ・目黒こどもスクールのウェブサイトでご確認ください。