



# おうちで、やろう。

Study at home. 小学校受験の家庭学習教材

常識：なぞなぞ8

①～⑤の問題を聞いて、下の四角の中から正しいものを選びます。

①私は夏になるとおいしくなる果物です。中に大きな種が1つ入っています。私に○をつけてください。

②私は夏になるとおいしくなる野菜です。黄色い体をしていますが、黄緑色の皮におおわれています。私に△をつけてください。

③私は夏になるとおいしくなる緑色の野菜です。切ってみるとなかがスカスカで種があります。私に□をつけてください。

④私は冬になるとおいしくなる野菜です。体は白いですが、土の中で育ちます。私に◎をつけてください。

⑤私は秋になるとおいしくなります。私にはイガという洋服をきています。私に×をつけてください。



※1. このプリントは、しながわ・目黒こどもスクールのウェブサイトからダウンロードできます。無断複写・引用はご遠慮ください。

※2. このプリントを活用したオンライン授業のスケジュールは、しながわ・目黒こどもスクールのウェブサイトでご確認ください。



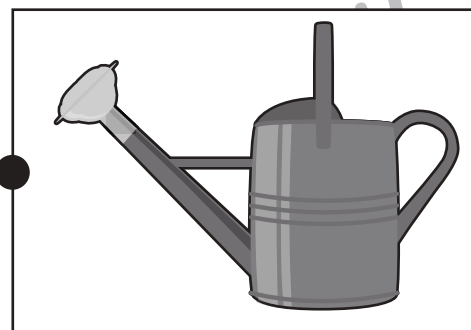
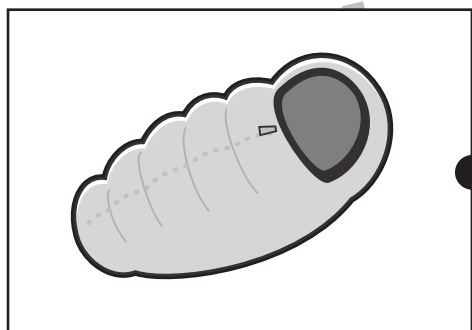


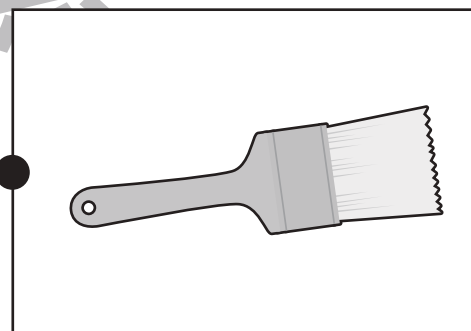

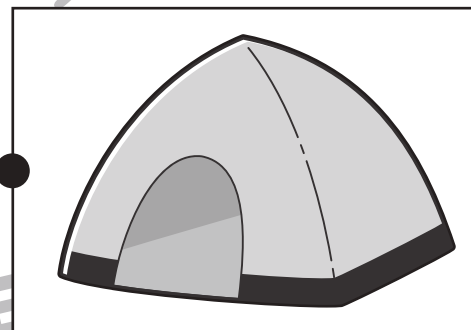
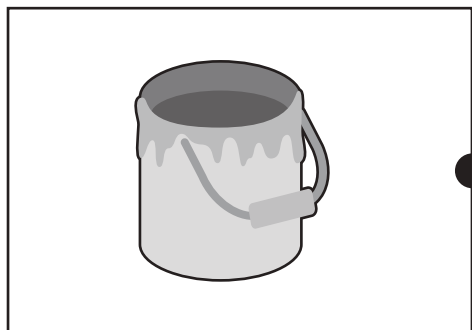
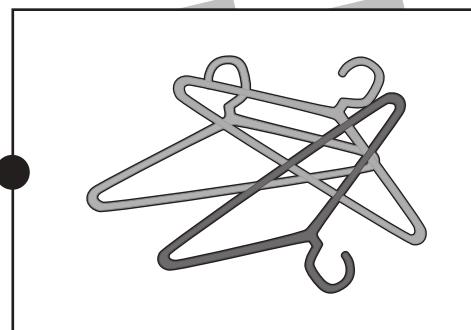



# おうちで、やろう。

Study at home. 小学校受験の家庭学習教材

常識：仲間8

左と右の四角の中の絵で仲間同士をみつけて点と点を線で結びます。



ながわ  
どもス

わ・目黒  
スクー

ながわ  
どもス

※1. このプリントは、しながわ・目黒こどもスクールのウェブサイトからダウンロードできます。無断複写・引用はご遠慮ください。

※2. このプリントを活用したオンライン授業のスケジュールは、しながわ・目黒こどもスクールのウェブサイトでご確認ください。





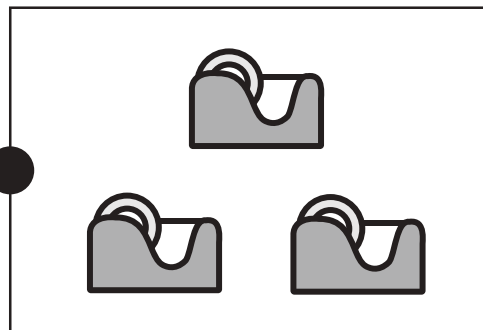







# おうちで、やろう。

Study at home. 小学校受験の家庭学習教材

数量：計数22

四角の中にある物の数を数えて数の少ない四角から順番に線で結びましょう。



※1. このプリントは、しながわ・目黒こどもスクールのウェブサイトでダウンロードができます。無断複写・引用はご遠慮ください。  
※2. このプリントを活用したオンライン授業のスケジュールは、しながわ・目黒こどもスクールウェブサイトでご確認ください。





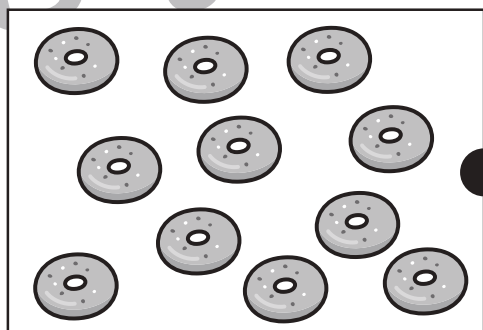
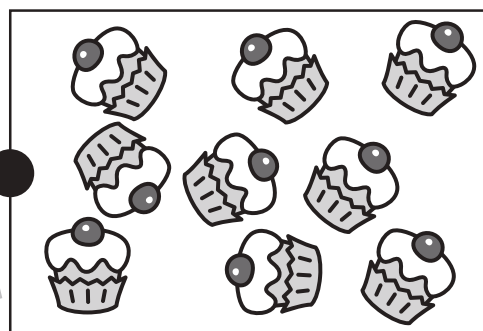
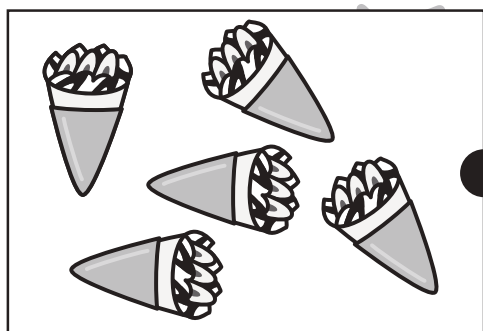

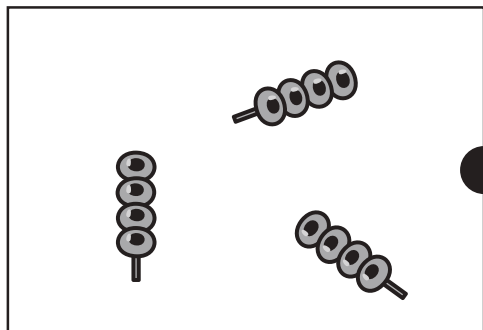


# おうちで、やろう。

Study at home. 小学校受験の家庭学習教材

数量：計数23

四角の中にある物の数を数えて数の多い四角から順番に線で結びましょう。



※1. このプリントは、しながわ・目黒こどもスクールのウェブサイトでダウンロードができます。無断複写・引用はご遠慮ください。  
※2. このプリントを活用したオンライン授業のスケジュールは、しながわ・目黒こどもスクールウェブサイトでご確認ください。





# おうちで、やろう。

Study at home. 小学校受験の家庭学習教材

数量：複合3

クッキーがそれぞれの四角の中にあります。左の太い四角の中のクッキーを右の4つ並んだ四角の灰色の四角の中に入れます。その後、4つの四角の中で2番目に数が多い四角に○、2番目に数が少ない四角に×をつけます。


※1. このプリントは、しながわ・目黒こどもスクールのウェブサイトでダウンロードができます。無断複写・引用はご遠慮ください。  
 ※2. このプリントを活用したオンライン授業のスケジュールは、しながわ・目黒こどもスクールのウェブサイトでご確認ください。



# おうちで、やろう。

Study at home. 小学校受験の家庭学習教材

数量：複合4

クッキーがそれぞれの四角の中にあります。左の太い四角の中のクッキーを右の4つ並んだ四角の灰色の四角の中に入れます。その後、4つの四角の中で2番目に数が多い四角に○、2番目に数が少ない四角に×をつけます。


※1. このプリントは、しながわ・目黒こどもスクールのウェブサイトからダウンロードできます。無断複写・引用はご遠慮ください。

※2. このプリントを活用したオンライン授業のスケジュールは、しながわ・目黒こどもスクールのウェブサイトでご確認ください。

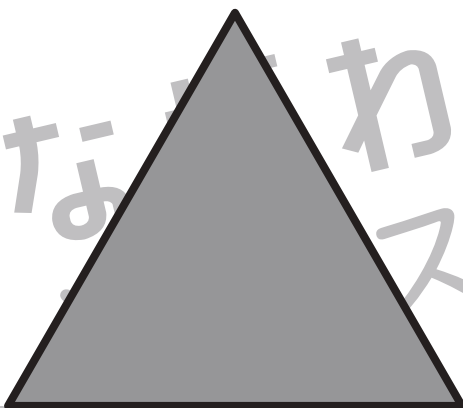



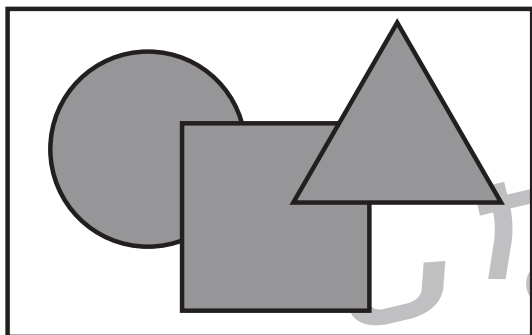


# おうちで、やろう。

Study at home. 小学校受験の家庭学習教材

巧緻性：はさみ4

- ①点線のところをはさみで切ります。
  - ②切った下の部分にある灰色の○、△、□をはさみで切ります。
  - ③切った上の部分にある形の中に左上のお手本と同じになるようにのりで貼ります。
- ※この問題に解答はありません。





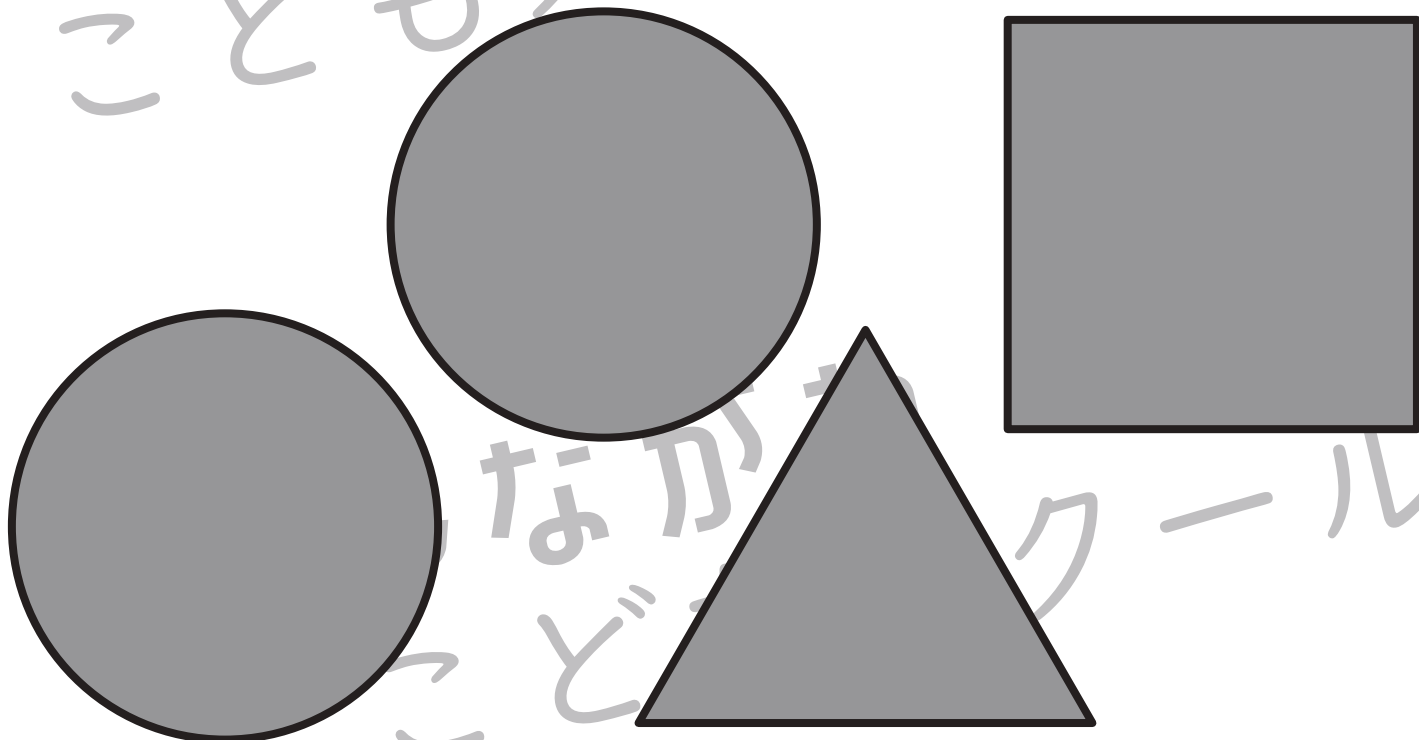

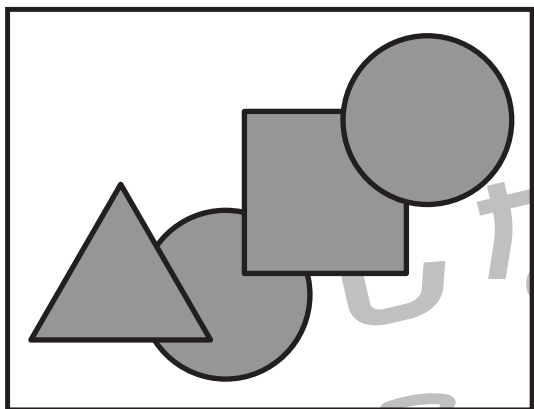


# おうちで、やろう。

Study at home. 小学校受験の家庭学習教材

巧緻性：はさみ5

- ①点線のところをはさみで切ります。
  - ②切った下の部分にある灰色の○、△、□をはさみで切ります。
  - ③切った上の部分にある形の中に左上のお手本と同じになるようにのりで貼ります。
- ※この問題に解答はありません。



※1. このプリントは、しながわ・目黒こどもスクールのウェブサイトでダウンロードができます。無断複写・引用はご遠慮ください。  
※2. このプリントを活用したオンライン授業のスケジュールは、しながわ・目黒こどもスクールのウェブサイトでご確認ください。



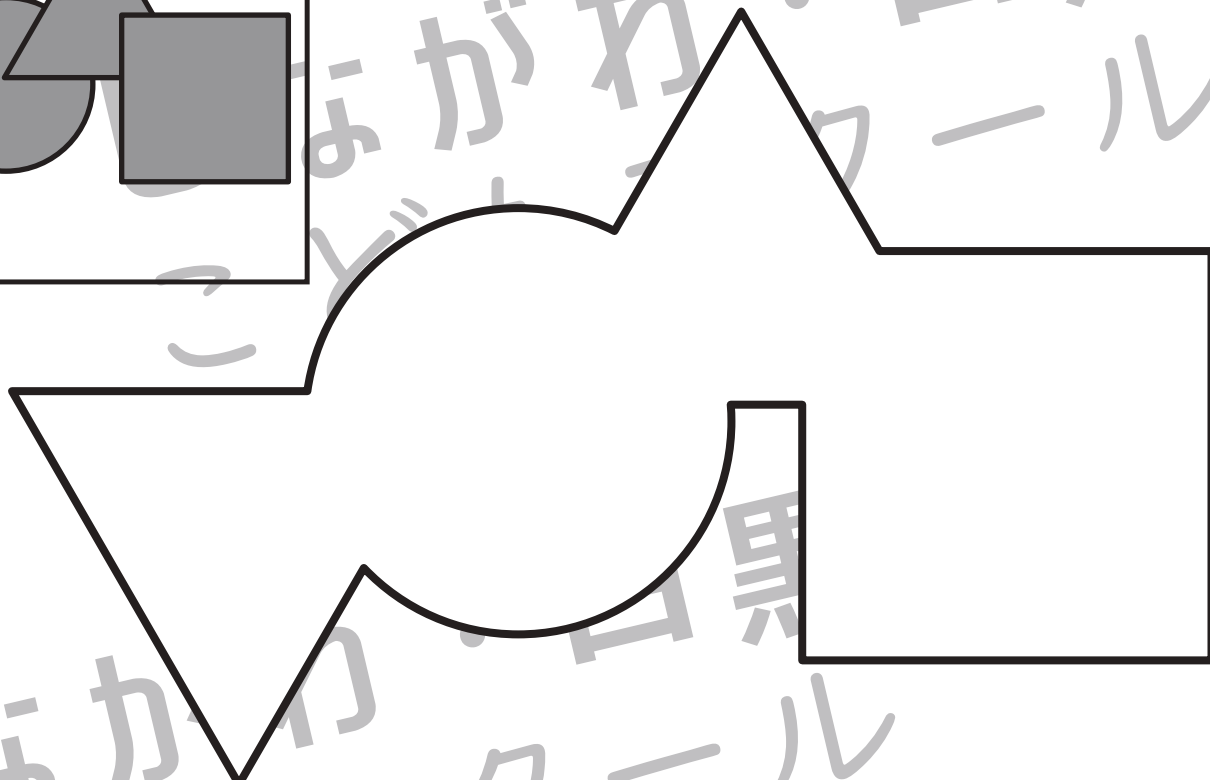
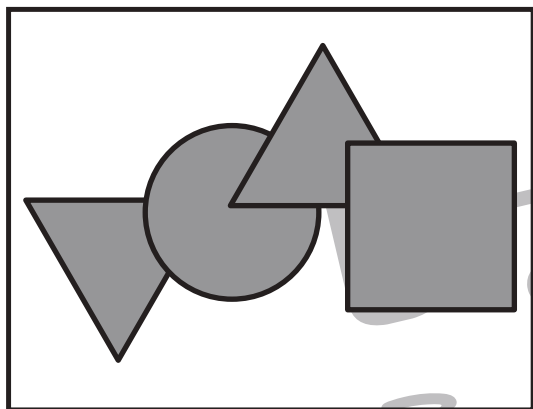


# おうちで、やろう。

Study at home. 小学校受験の家庭学習教材

巧緻性：はさみ6

- ①点線のところをはさみで切ります。
  - ②切った下の部分にある灰色の○、△、□をはさみで切ります。
  - ③切った上の部分にある形の中に左上のお手本と同じになるようにのりで貼ります。
- ※この問題に解答はありません。



※1. このプリントは、しながわ・目黒こどもスクールのウェブサイトでダウンロードができます。無断複写・引用はご遠慮ください。  
※2. このプリントを活用したオンライン授業のスケジュールは、しながわ・目黒こどもスクールのウェブサイトでご確認ください。



# おうちで、やろう。

Study at home. 小学校受験の家庭学習教材

## 図形：点図形 39

左のお手本と同じになるように右の四角に足りない線をかきます。 ※このプリントに解答はありません。


※1. このプリントは、しながわ・目黒こどもスクールのウェブサイトでダウンロードができます。無断複写・引用はご遠慮ください。  
 ※2. このプリントを活用したオンライン授業のスケジュールは、しながわ・目黒こどもスクールのウェブサイトでご確認ください。