



おうちで、やろう。

Study at home. 小学校受験の家庭学習教材

図形：重ね点図形 4

左の2つの四角は透明な板にかいたものです。この2つの四角をぴったり重ねたときの見え方を考えて矢印の右の四角にかきます。

※1. このプリントは、しながわ・目黒こどもスクールのウェブサイトからダウンロードできます。無断複写・引用はご遠慮ください。

※2. このプリントを活用したオンライン授業のスケジュールは、しながわ・目黒こどもスクールのウェブサイトでご確認ください。



おうちで、よろう。

Study at home. 小学校受験の家庭学習教材

図形：重ね点図形 5

左の2つの四角は透明な板にかいたものです。この2つの四角をぴったり重ねたときの見え方を考えて矢印の右の四角にかきます。

※1. このプリントは、しながわ・目黒こどもスクールのウェブサイトからダウンロードできます。無断複写・引用はご遠慮ください。

※2. このプリントを活用したオンライン授業のスケジュールは、しながわ・目黒こどもスクールのウェブサイトでご確認ください。



おうちで、やろう。

Study at home. 小学校受験の家庭学習教材

図形：重ね点図形6

左の2つの四角は透明な板にかいたものです。この2つの四角をぴったり重ねたときの見え方を考えて矢印の右の四角にかきます。

The puzzles are arranged in five rows. Each row consists of two 4x4 dot grids on the left, a right-pointing arrow in the middle, and a single 4x4 dot grid on the right. The puzzles involve connecting dots to form shapes that, when overlaid, create a specific pattern.

※1. このプリントは、しながわ・目黒こどもスクールのウェブサイトからダウンロードできます。無断複写・引用はご遠慮ください。

※2. このプリントを活用したオンライン授業のスケジュールは、しながわ・目黒こどもスクールのウェブサイトでご確認ください。


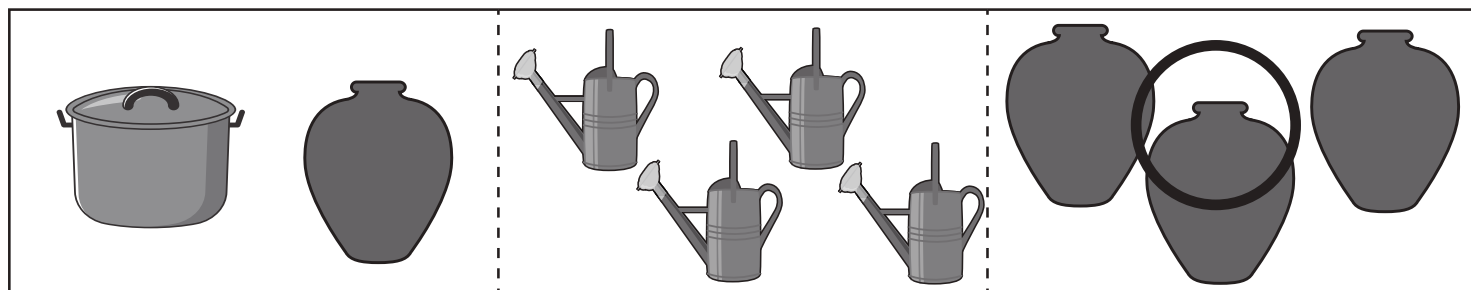

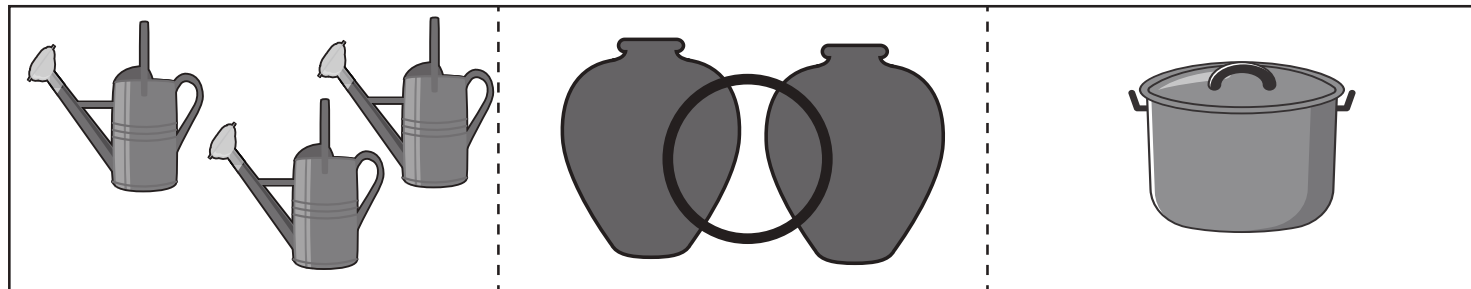
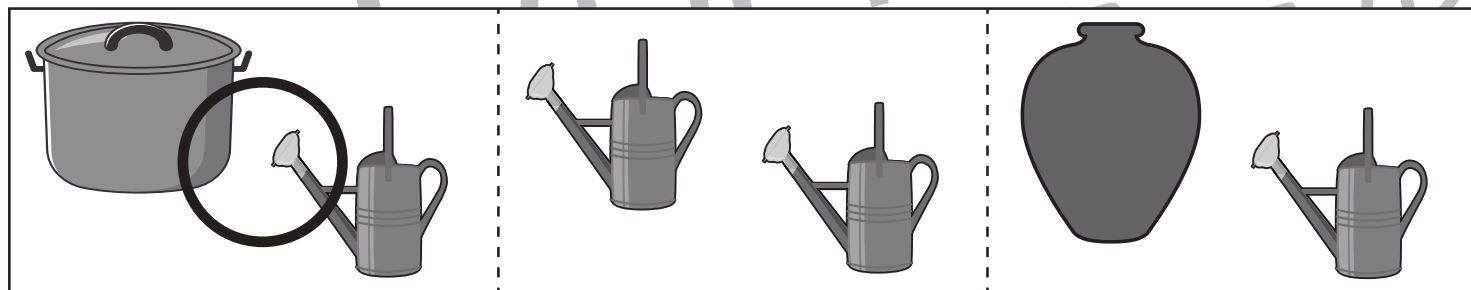
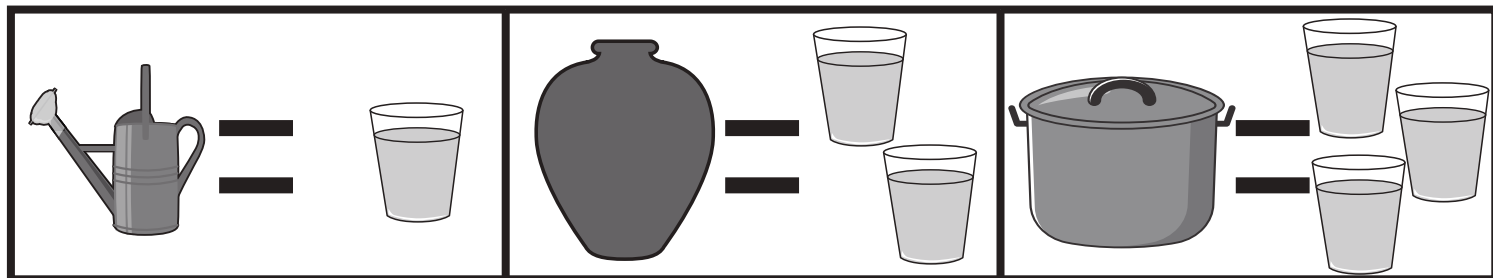


おうちで、やろう。

Study at home. 小学校受験の家庭学習教材

推理：水量 11

上の太線の四角の中がお約束です。四角の中にある入れ物の中の水を合わせて水の量が一番多いものに○をつけます。



※1. このプリントは、しながわ・目黒こどもスクールのウェブサイトでダウンロードができます。無断複写・引用はご遠慮ください。

※2. このプリントを活用したオンライン授業のスケジュールは、しながわ・目黒こどもスクールのウェブサイトでご確認ください。







おうちで、やろう。

Study at home. 小学校受験の家庭学習教材

推理：水量 12

上の太線の四角の中がお約束です。四角の中にある入れ物の中の水を合わせて水の量が一番多いものに○をつけます。



※1. このプリントは、しながわ・目黒こどもスクールのウェブサイトでダウンロードができます。無断複写・引用はご遠慮ください。

※2. このプリントを活用したオンライン授業のスケジュールは、しながわ・目黒こどもスクールのウェブサイトでご確認ください。








おうちで、やろう。

Study at home. 小学校受験の家庭学習教材

推理：水量10

上の太い四角の中がお手本です。左のコップには石が入っています。この石をコップからとると右のコップになります。それぞれ左の四角の中のコップから石をとった後のコップの様子を右の中から選んで○をつけます。



※1. このプリントは、しながわ・目黒こどもスクールのウェブサイトからダウンロードできます。無断複写・引用はご遠慮ください。

※2. このプリントを活用したオンライン授業のスケジュールは、しながわ・目黒こどもスクールのウェブサイトでご確認ください。





おうちで、やろう。

Study at home. 小学校受験の家庭学習教材

数量：複合5

横に並んだ4つの四角の中の果物のうち、数が一番多いものと一番少ないものの数を合わせるといくつになりますか。
合わせた数だけ、右の四角の中に○をかきます。

| | | | | |
|--|--|--|--|---------------------|
| | | | | $\bigcirc \times 7$ |
|--|--|--|--|---------------------|

| | | | | |
|--|--|--|--|---------------------|
| | | | | $\bigcirc \times 9$ |
|--|--|--|--|---------------------|

| | | | | |
|--|--|--|--|----------------------|
| | | | | $\bigcirc \times 11$ |
|--|--|--|--|----------------------|

| | | | | |
|--|--|--|--|----------------------|
| | | | | $\bigcirc \times 13$ |
|--|--|--|--|----------------------|

※1. このプリントは、しながわ・目黒こどもスクールのウェブサイトでダウンロードができます。無断複写・引用はご遠慮ください。
※2. このプリントを活用したオンライン授業のスケジュールは、しながわ・目黒こどもスクールのウェブサイトでご確認ください。



おうちで、やろう。

Study at home. 小学校受験の家庭学習教材

数量：複合6

横に並んだ4つの四角の中の果物のうち、数が一番多いものと一番少ないものの数の違いはいくつですか。
違う数だけ右の四角の中に△をかきます。

| | | | | |
|--|--|--|--|----------------------|
| | | | | $\triangle \times 4$ |
|--|--|--|--|----------------------|

| | | | | |
|--|--|--|--|----------------------|
| | | | | $\triangle \times 5$ |
|--|--|--|--|----------------------|

| | | | | |
|--|--|--|--|----------------------|
| | | | | $\triangle \times 5$ |
|--|--|--|--|----------------------|

| | | | | |
|--|--|--|--|----------------------|
| | | | | $\triangle \times 8$ |
|--|--|--|--|----------------------|

※1. このプリントは、しながわ・目黒こどもスクールのウェブサイトでダウンロードができます。無断複写・引用はご遠慮ください。
※2. このプリントを活用したオンライン授業のスケジュールは、しながわ・目黒こどもスクールのウェブサイトでご確認ください。