



おうちで、やろう。

Study at home. 小学校受験の家庭学習教材

図形：回転 49

左のお手本を矢印の方向へ 2 回倒したときの見え方を考えて右の四角にかきます。

※1. このプリントは、しながわ・目黒こどもスクールのウェブサイトからダウンロードできます。無断複写・引用はご遠慮ください。
 ※2. このプリントを活用したオンライン授業のスケジュールは、しながわ・目黒こどもスクールのウェブサイトでご確認ください。



おうちで、やろう。

Study at home. 小学校受験の家庭学習教材

推理：じゃんけん 13

お友だちが袋の中のクッキーを持って動物たちと順番にじゃんけんをしていきます。お友だちがじゃんけんで勝つと動物たちからクッキーを2枚もらえます。負けてしまうと動物たちにクッキーを1枚あげます。あいこのときはなにもありません。この約束のとき、最後の動物とじゃんけんをした後、お友だちが持っているクッキーの数だけ右の四角の中に○をかきます。それぞれが出す手は上の吹き出しの中にあります。

Scenario 1: A boy shows a rock hand sign (1). He plays rock-paper-scissors with a lion (1), a bear (1), and a monkey (1).

○ × 3

Scenario 2: A girl shows a paper hand sign (2). She plays rock-paper-scissors with a mouse (1), a sheep (1), and a bear (1).

○ × 4

Scenario 3: A boy shows a scissors hand sign (3). He plays rock-paper-scissors with a cat (1), a mouse (1), a lion (1), and a bear (1).

○ × 6

Scenario 4: A girl shows a scissors hand sign (3). She plays rock-paper-scissors with a cat (1), a bear (1), a squirrel (1), and a monkey (1).

○ × 3

Scenario 5: A boy shows a rock hand sign (1). He plays rock-paper-scissors with two rabbits (2), a tiger (1), a mouse (1), and a bear (1).

○ × 8

※1. このプリントは、しながわ・目黒こどもスクールのウェブサイトでダウンロードができます。無断複写・引用はご遠慮ください。
 ※2. このプリントを活用したオンライン授業のスケジュールは、しながわ・目黒こどもスクールのウェブサイトでご確認ください。



おうちで、やろう。

Study at home. 小学校受験の家庭学習教材

推理：じゃんけん 14

お友だちが袋の中のクッキーを持って動物たちと順番にじゃんけんをしていきます。お友だちがじゃんけんで勝つと動物たちからクッキーを1枚もらえます。負けてしまうと動物たちにクッキーを2枚あげます。あいこのときはなにもありません。この約束のとき、最後の動物とじゃんけんをした後、お友だちが持っているクッキーの数だけ右の四角の中に○をかきます。それぞれが出す手は上の吹き出しの中にあります。

		$\bigcirc \times 2$
--	--	---------------------

		$\bigcirc \times 5$
--	--	---------------------

		$\bigcirc \times 1$
--	--	---------------------

		$\bigcirc \times 3$
--	--	---------------------

		$\bigcirc \times 6$
--	--	---------------------

※1. このプリントは、しながわ・目黒こどもスクールのウェブサイトでダウンロードができます。無断複写・引用はご遠慮ください。
※2. このプリントを活用したオンライン授業のスケジュールは、しながわ・目黒こどもスクールのウェブサイトでご確認ください。



おうちで、やろう。

Study at home. 小学校受験の家庭学習教材

推理：じゃんけん 15

お友だちが袋の中のクッキーを持って動物たちと順番にじゃんけんをしていきます。お友だちがじゃんけんでは勝つと動物たちからクッキーを3枚もらえます。負けてしまうと動物たちにクッキーを2枚あげます。あいこのときは動物たちに1枚あげます。この約束のとき、最後の動物とじゃんけんをした後、お友だちが持っているクッキーの数だけ右の四角の中に○をかきます。それぞれが出す手は上の吹き出しの中にあります。

				$\bigcirc \times 3$
--	--	--	--	---------------------

				$\bigcirc \times 4$
--	--	--	--	---------------------

					$\bigcirc \times 2$
--	--	--	--	--	---------------------

					$\bigcirc \times 5$
--	--	--	--	--	---------------------

						$\bigcirc \times 2$
--	--	--	--	--	--	---------------------

※1. このプリントは、しながわ・目黒こどもスクールのウェブサイトからダウンロードできます。無断複写・引用はご遠慮ください。
※2. このプリントを活用したオンライン授業のスケジュールは、しながわ・目黒こどもスクールのウェブサイトでご確認ください。




















おうちで、やろう。

Study at home. 小学校受験の家庭学習教材

数量：余る数 12

左の四角の中にお友だちの人数で、真ん中の四角の中のクッキーを仲良く分けます。1人分が点線の右にあるクッキーの数になるように分けると、余るクッキーは何枚ですか。余るクッキーの数だけ、一番右の同じクッキーの絵の四角に○をかきます。クッキーが余らないときは四角には何もかきません。

		 ○×2
		 ○×3
		 ○×2
		 ○×1
		 ○×2
		 ○×3
		 ○×0

※1. このプリントは、しながわ・目黒こどもスクールのウェブサイトからダウンロードできます。無断複写・引用はご遠慮ください。
 ※2. このプリントを活用したオンライン授業のスケジュールは、しながわ・目黒こどもスクールのウェブサイトでご確認ください。



おうちで、やろう。

Study at home. 小学校受験の家庭学習教材

数量：余る数 13

左の四角の中にお友だちの人数で、真ん中の四角の中のクッキーを仲良く分けます。1人分が点線の右にあるクッキーの数になるように分けると、余るクッキーは何枚ですか。余るクッキーの数だけ、一番右の同じクッキーの絵の四角に○をかきます。クッキーが余らないときは四角には何もかきません。

 		 $\bigcirc \times 3$
 		 $\bigcirc \times 2$ $\bigcirc \times 2$
 		 $\bigcirc \times 4$ $\bigcirc \times 1$
 		 $\bigcirc \times 0$ $\bigcirc \times 1$ $\bigcirc \times 3$
 		 $\bigcirc \times 4$ $\bigcirc \times 2$ $\bigcirc \times 0$

※1. このプリントは、しながわ・目黒こどもスクールのウェブサイトでダウンロードができます。無断複写・引用はご遠慮ください。

※2. このプリントを活用したオンライン授業のスケジュールは、しながわ・目黒こどもスクールのウェブサイトでご確認ください。



おうちで、やろう。

Study at home. 小学校受験の家庭学習教材

図形：模写7

左がお手本です。このお手本と同じになるように右に○をかきます。ただし、●はかいてはいけません。

※1. このプリントは、しながわ・目黒こどもスクールのウェブサイトでダウンロードができます。無断複写・引用はご遠慮ください。
 ※2. このプリントを活用したオンライン授業のスケジュールは、しながわ・目黒こどもスクールのウェブサイトでご確認ください。



おうちで、やろう。

Study at home. 小学校受験の家庭学習教材

図形：模写8

左がお手本です。右にお手本の〇がかいてない線の上に〇をかきます。

※1. このプリントは、しながわ・目黒こどもスクールのウェブサイトでダウンロードができます。無断複写・引用はご遠慮ください。
 ※2. このプリントを活用したオンライン授業のスケジュールは、しながわ・目黒こどもスクールのウェブサイトでご確認ください。