



おうちで、やろう。

Study at home. 小学校受験の家庭学習教材

図形：移動 40

上の四角の中が約束です。それぞれの記号の隣にある矢印の方向へ進みます。左に並んでいる記号を上から見ていき、◎からスタートして最後についた●を丸で囲みます。進んだ道は線をかいてもかかなくてもよいですが、最後についた●を必ず囲みましょう。



○ ☆ ☆ ☆		★ ○ ○ ★	
★ ● ● ★		☆ ★ ● ●	
☆ ● ● ☆		● ★ ● ●	
● ★ ○ ★		☆ ☆ ● ☆	

※1. このプリントは、しながわ・目黒こどもスクールのウェブサイトでダウンロードができます。無断複写・引用はご遠慮ください。

※2. このプリントを活用したオンライン授業のスケジュールは、しながわ・目黒こどもスクールのウェブサイトでご確認ください。



おうちで、よろう。

Study at home. 小学校受験の家庭学習教材

図形：移動 41

上の四角の中が約束です。それぞれの記号の隣にある矢印の方向へ進みます。左に並んでいる記号を上から見ていき、◎からスタートして最後についた●を丸で囲みます。進んだ道は線をかいてもかかなくてもよいですが、最後についた●を必ず囲みましょう。



○ ● ● ★ ★		○ ★ ○ ★ ★	
○ ○ ○ ○ ● ★		○ ★ ○ ○ ● ★	
★ ○ ★ ○ ★		● ★ ○ ★ ★ ★	
○ ★ ● ★ ●		★ ○ ★ ● ● ★	

※1. このプリントは、しながわ・目黒こどもスクールのウェブサイトでダウンロードができます。無断複写・引用はご遠慮ください。

※2. このプリントを活用したオンライン授業のスケジュールは、しながわ・目黒こどもスクールのウェブサイトでご確認ください。



おうちで、やろう。

Study at home. 小学校受験の家庭学習教材

図形：移動 42

上の四角の中が約束です。それぞれの記号の隣にある矢印の方向へ進みます。左に並んでいる記号を上から見ていき、◎からスタートして最後についた●を丸で囲みます。進んだ道は線をかいてもかかなくてもよいですが、最後についた●を必ず囲みましょう。



○ ☆ ○ ● ☆		● ☆ ★ ○ ●	
○ ● ○ ● ★		○ ☆ ● ★ ○ ○	
○ ○ ☆ ● ★		● ★ ☆ ○ ★ ○	
☆ ○ ○ ● ☆		★ ● ○ ☆ ○ ☆	

※1. このプリントは、しながわ・目黒こどもスクールのウェブサイトでダウンロードができます。無断複写・引用はご遠慮ください。

※2. このプリントを活用したオンライン授業のスケジュールは、しながわ・目黒こどもスクールのウェブサイトでご確認ください。



おうちで、やろう。

Study at home. 小学校受験の家庭学習教材

図形：回転鏡4

左の四角のマスに鏡に映した時の見え方を考えて、真ん中の四角にかきます。その後その形を矢印の方向へ1回倒した時の見え方を考えて一番右のマスにかきます。

			↘	
--	--	--	---	--

			↘	
--	--	--	---	--

			↘	
--	--	--	---	--

			↘	
--	--	--	---	--

			↘	
--	--	--	---	--

※1. このプリントは、しながわ・目黒こどもスクールのウェブサイトでダウンロードができます。無断複写・引用はご遠慮ください。

※2. このプリントを活用したオンライン授業のスケジュールは、しながわ・目黒こどもスクールのウェブサイトでご確認ください。



おうちで、やろう。

Study at home. 小学校受験の家庭学習教材

図形：回転鏡5

左の四角のマスを鏡に映した時の見え方を考えて、真ん中の四角にかきます。その後その形を矢印の方向へ1回倒した時の見え方を考えて一番右のマスカきます。

--	--	--	--	--

--	--	--	--	--

--	--	--	--	--

--	--	--	--	--

--	--	--	--	--

※1. このプリントは、しながわ・目黒こどもスクールのウェブサイトからダウンロードできます。無断複写・引用はご遠慮ください。

※2. このプリントを活用したオンライン授業のスケジュールは、しながわ・目黒こどもスクールのウェブサイトでご確認ください。



おうちで、よろう。

Study at home. 小学校受験の家庭学習教材

図形：回転鏡 6

左の四角のマスを鏡に映した時の見え方を考えて、真ん中の四角にかきます。その後その形を矢印の方向へ 1 回倒した時の見え方を考えて一番右のマスカきます。

			↘	
--	--	--	---	--

			↘	
--	--	--	---	--

			↘	
--	--	--	---	--

			↘	
--	--	--	---	--

			↘	
--	--	--	---	--

※1. このプリントは、しながわ・目黒こどもスクールのウェブサイトからダウンロードできます。無断複写・引用はご遠慮ください。
 ※2. このプリントを活用したオンライン授業のスケジュールは、しながわ・目黒こどもスクールのウェブサイトでご確認ください。

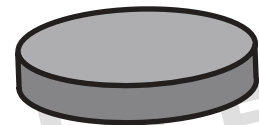
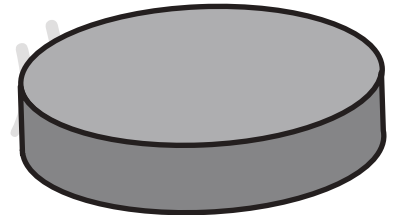
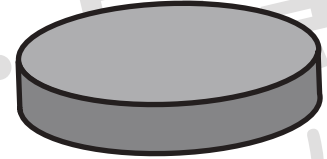


おうちで、やろう。

Study at home. 小学校受験の家庭学習教材

推理：順位付け3

左のお弁当箱の大きさにぴったり合う蓋を右から選び線で結びましょう。



※1. このプリントは、しながわ・目黒こどもスクールのウェブサイトでダウンロードができます。無断複写・引用はご遠慮ください。
※2. このプリントを活用したオンライン授業のスケジュールは、しながわ・目黒こどもスクールのウェブサイトでご確認ください。




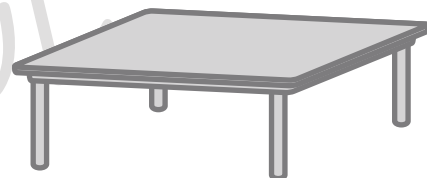
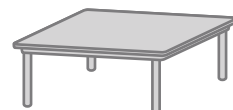




おうちで、やろう。

Study at home. 小学校受験の家庭学習教材

推理：順位付け4

家族そろって食事をします。どの家族がどのテーブルに座ればいいかを考えて線で結びましょう。



※1. このプリントは、しながわ・目黒こどもスクールのウェブサイトでダウンロードができます。無断複写・引用はご遠慮ください。
※2. このプリントを活用したオンライン授業のスケジュールは、しながわ・目黒こどもスクールのウェブサイトでご確認ください。



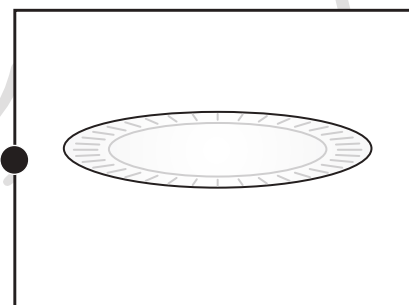
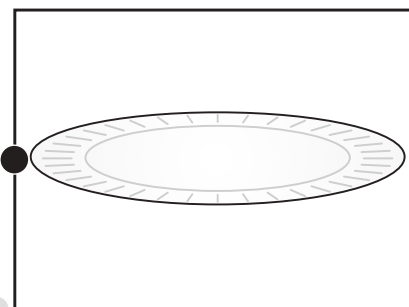

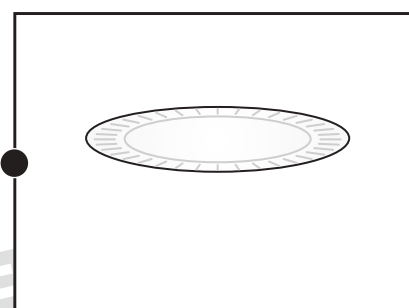
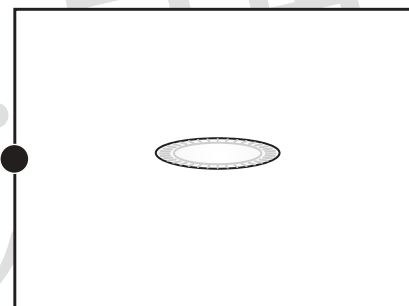


おうちで、やろう。

Study at home. 小学校受験の家庭学習教材

推理：順位付け5

左のケーキを右のお皿にのせます。どのお皿にのせたらよいか考えて点と点を線で結びます。



※1. このプリントは、しながわ・目黒こどもスクールのウェブサイトでダウンロードができます。無断複写・引用はご遠慮ください。

※2. このプリントを活用したオンライン授業のスケジュールは、しながわ・目黒こどもスクールのウェブサイトでご確認ください。





おうちで、やろう。

Study at home. 小学校受験の家庭学習教材

処理：計数 10

上の四角の中の絵の数をかぞえて、下の四角の同じ絵の右にその数だけ〇をかきます。
この問題はスピードを意識して取り組む練習をしてみましょう。(1分～1分30秒)



※1. このプリントは、しながわ・目黒こどもスクールのウェブサイトでダウンロードができます。無断複写・引用はご遠慮ください。
※2. このプリントを活用したオンライン授業のスケジュールは、しながわ・目黒こどもスクールのウェブサイトでご確認ください。