



おうちで、やろう。

Study at home. 小学校受験の家庭学習教材

推理：広さ 17

それぞれの四角の白い部分と灰色の部分の広さを比べます。白い部分と灰色の部分が同じものをみつけて○をつけます。

※1. このプリントは、しながわ・目黒こどもスクールのウェブサイトでダウンロードができます。無断複写・引用はご遠慮ください。
 ※2. このプリントを活用したオンライン授業のスケジュールは、しながわ・目黒こどもスクールのウェブサイトでご確認ください。



おうちで、やろう。

Study at home. 小学校受験の家庭学習教材

推理：広さ 18

それぞれの四角の白い部分と灰色の部分の広さを比べます。白い部分と灰色の部分が同じものをみつけて○をつけます。

※1. このプリントは、しながわ・目黒こどもスクールのウェブサイトからダウンロードできます。無断複写・引用はご遠慮ください。

※2. このプリントを活用したオンライン授業のスケジュールは、しながわ・目黒こどもスクールのウェブサイトでご確認ください。



おうちで、やろう。

Study at home. 小学校受験の家庭学習教材

推理：広さ 19

それぞれの四角の白い部分と灰色の部分と黒い部分の広さを比べます。3つとも広さが同じものをみつけて○をつけます。

※1. このプリントは、しながわ・目黒こどもスクールのウェブサイトからダウンロードできます。無断複写・引用はご遠慮ください。

※2. このプリントを活用したオンライン授業のスケジュールは、しながわ・目黒こどもスクールのウェブサイトでご確認ください。


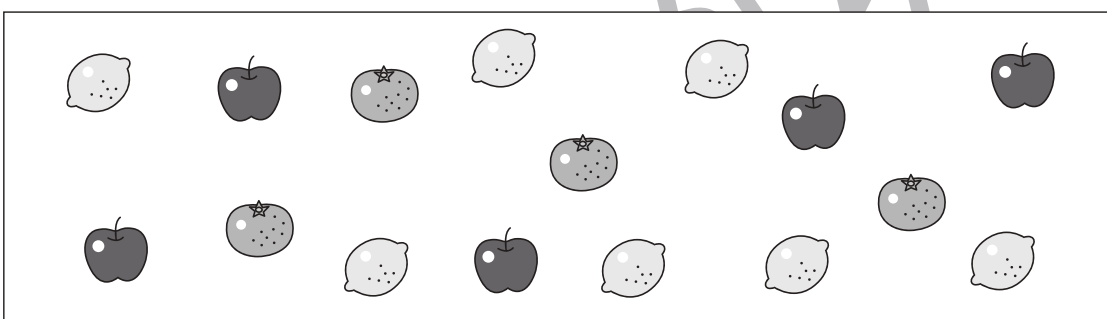




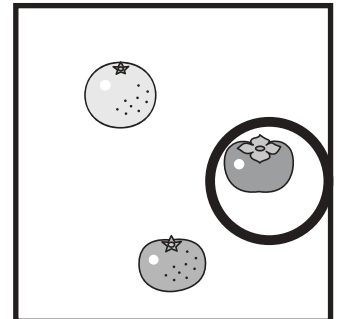
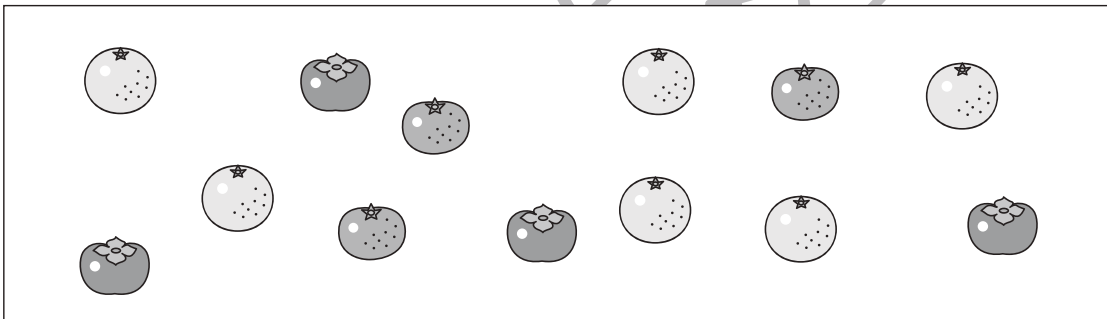
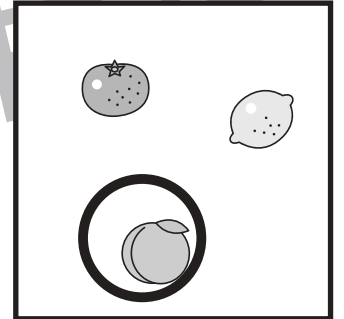
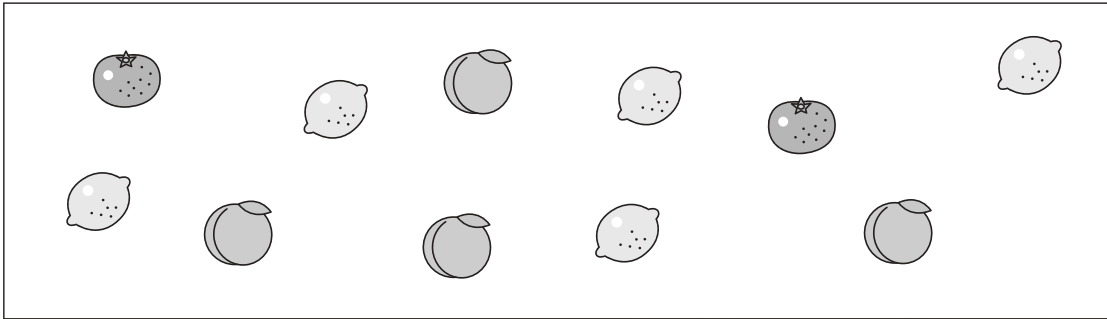


おうちで、やろう。

Study at home. 小学校受験の家庭学習教材

数量：多少8

左の四角の中には3種類の果物がありますが、数が違います。この3つの果物の中で数が一番多くもなく、一番少なくもないものを右の四角の中から選んで○をつけます。



※1. このプリントは、しながわ・目黒こどもスクールのウェブサイトでダウンロードができます。無断複写・引用はご遠慮ください。
※2. このプリントを活用したオンライン授業のスケジュールは、しながわ・目黒こどもスクールのウェブサイトでご確認ください。




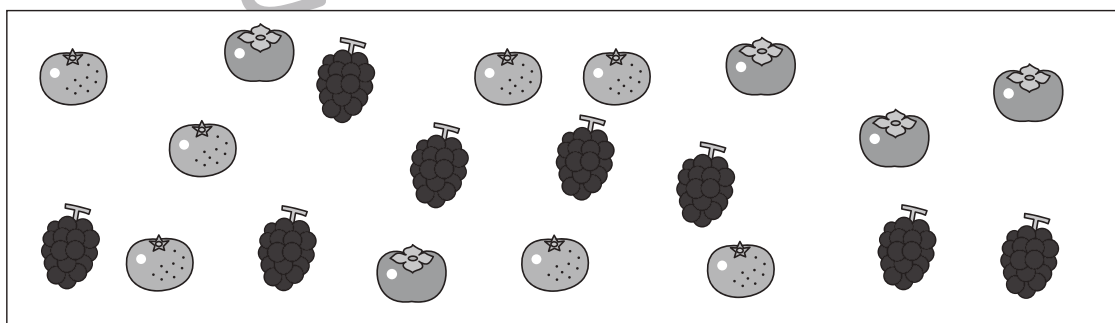



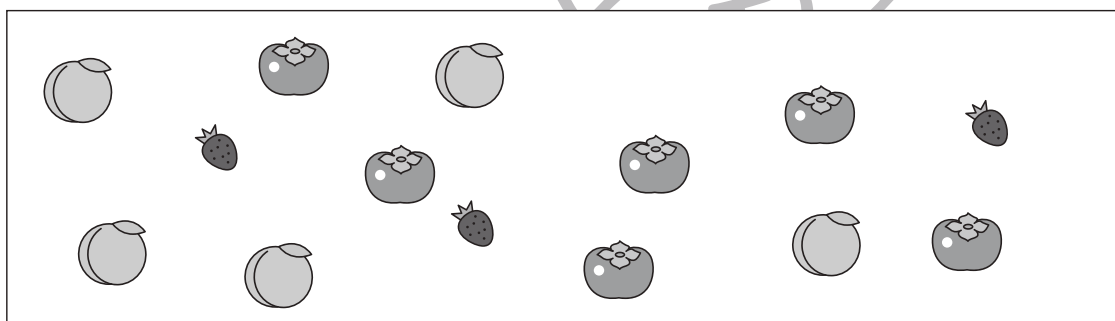




おうちで、やろう。

Study at home. 小学校受験の家庭学習教材

数量：多少9

左の四角の中には3種類の果物がありますが、数が違います。この3つの果物の中で数が一番多くもなく、一番少なくもないものを右の四角の中から選んで○をつけます。



※1. このプリントは、しながわ・目黒こどもスクールのウェブサイトでダウンロードができます。無断複写・引用はご遠慮ください。

※2. このプリントを活用したオンライン授業のスケジュールは、しながわ・目黒こどもスクールのウェブサイトでご確認ください。





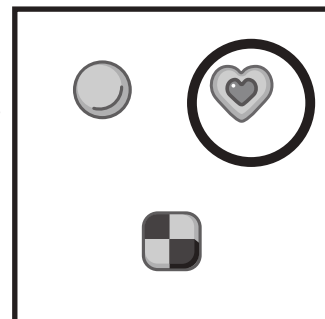
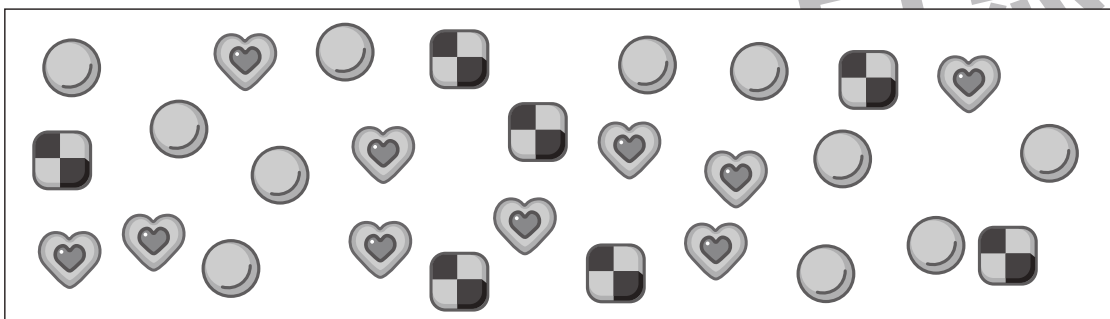






おうちで、やろう。

Study at home. 小学校受験の家庭学習教材

数量：多少 10

左の四角の中には3種類のクッキーがありますが、数が違います。この3つのクッキーの中で数が一番多くもなく、一番少なくもないものを右の四角の中から選んで○をつけます。



※1. このプリントは、しながわ・目黒こどもスクールのウェブサイトからダウンロードできます。無断複写・引用はご遠慮ください。
※2. このプリントを活用したオンライン授業のスケジュールは、しながわ・目黒こどもスクールのウェブサイトでご確認ください。