



# おうちで、やろう。

Study at home. 小学校受験の家庭学習教材

図形：回転 54

右のお手本を矢印の方向へ1回倒したときの見え方を考えて左の四角にかきます。

※1. このプリントは、しながわ・目黒こどもスクールのウェブサイトでダウンロードができます。無断複写・引用はご遠慮ください。  
 ※2. このプリントを活用したオンライン授業のスケジュールは、しながわ・目黒こどもスクールのウェブサイトでご確認ください。



# おうちで、やろう。

Study at home. 小学校受験の家庭学習教材

## 図形：回転 55

右のお手本を矢印の方向へ1回倒したときの見え方を考えて左の四角にかきます。

※1. このプリントは、しながわ・目黒こどもスクールのウェブサイトでダウンロードができます。無断複写・引用はご遠慮ください。  
 ※2. このプリントを活用したオンライン授業のスケジュールは、しながわ・目黒こどもスクールのウェブサイトでご確認ください。



# おうちで、よろう。

Study at home. 小学校受験の家庭学習教材

図形：回転 56

右のお手本を矢印の方向へ1回倒したときの見え方を考えて左の四角にかきます。

※1. このプリントは、しながわ・目黒こどもスクールのウェブサイトでダウンロードができます。無断複写・引用はご遠慮ください。  
 ※2. このプリントを活用したオンライン授業のスケジュールは、しながわ・目黒こどもスクールのウェブサイトでご確認ください。



# おうちで、やろう。

Study at home. 小学校受験の家庭学習教材

推理：サイコロ1

サイコロが矢印の方向に進んで行くと矢印の目が一つ増える仕組みになっています。真っ白になっているサイコロの目の数を考えてサイコロの目をかきます。

3 → [ ] → 5 → 6

[ ] → 2 → 3 → 4

2 → [ ] → 4 → 5

3 → 4 → [ ] → [ ]

4 → [ ] → 6 ← [ ]

※1. このプリントは、しながわ・目黒こどもスクールのウェブサイトからダウンロードができます。無断複写・引用はご遠慮ください。  
 ※2. このプリントを活用したオンライン授業のスケジュールは、しながわ・目黒こどもスクールのウェブサイトでご確認ください。



# おうちで、やろう。

Study at home. 小学校受験の家庭学習教材

推理：サイコロ2

サイコロが矢印の方向に進んで行くと矢印の目が一つ増える仕組みになっています。真っ白になっているサイコロの目の数を考えてサイコロの目をかきます。

→ → ← ←

→ ← ← ←

← ← ← →

← → ← ←

← → ←

※1. このプリントは、しながわ・目黒こどもスクールのウェブサイトでダウンロードができます。無断複写・引用はご遠慮ください。  
 ※2. このプリントを活用したオンライン授業のスケジュールは、しながわ・目黒こどもスクールのウェブサイトでご確認ください。

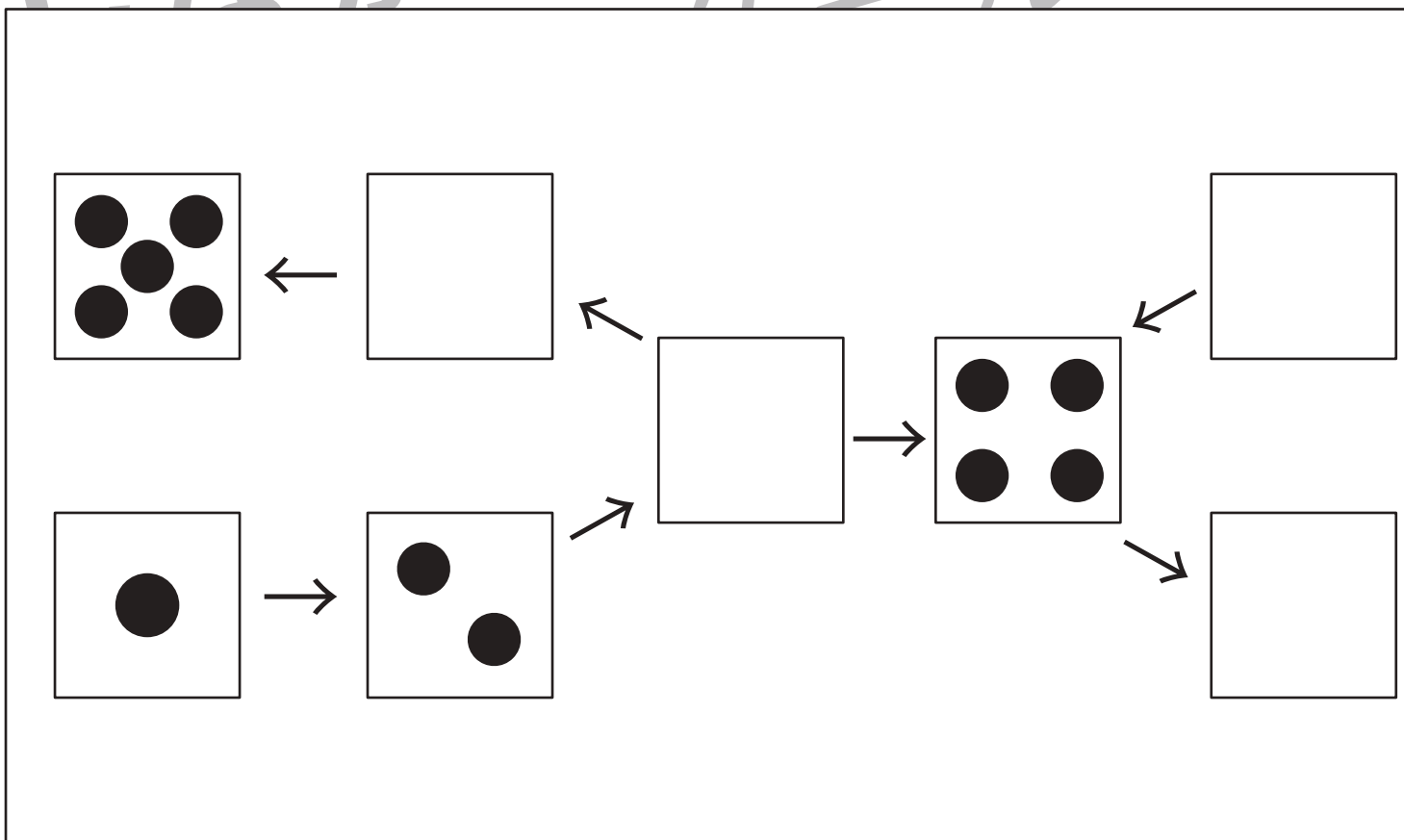
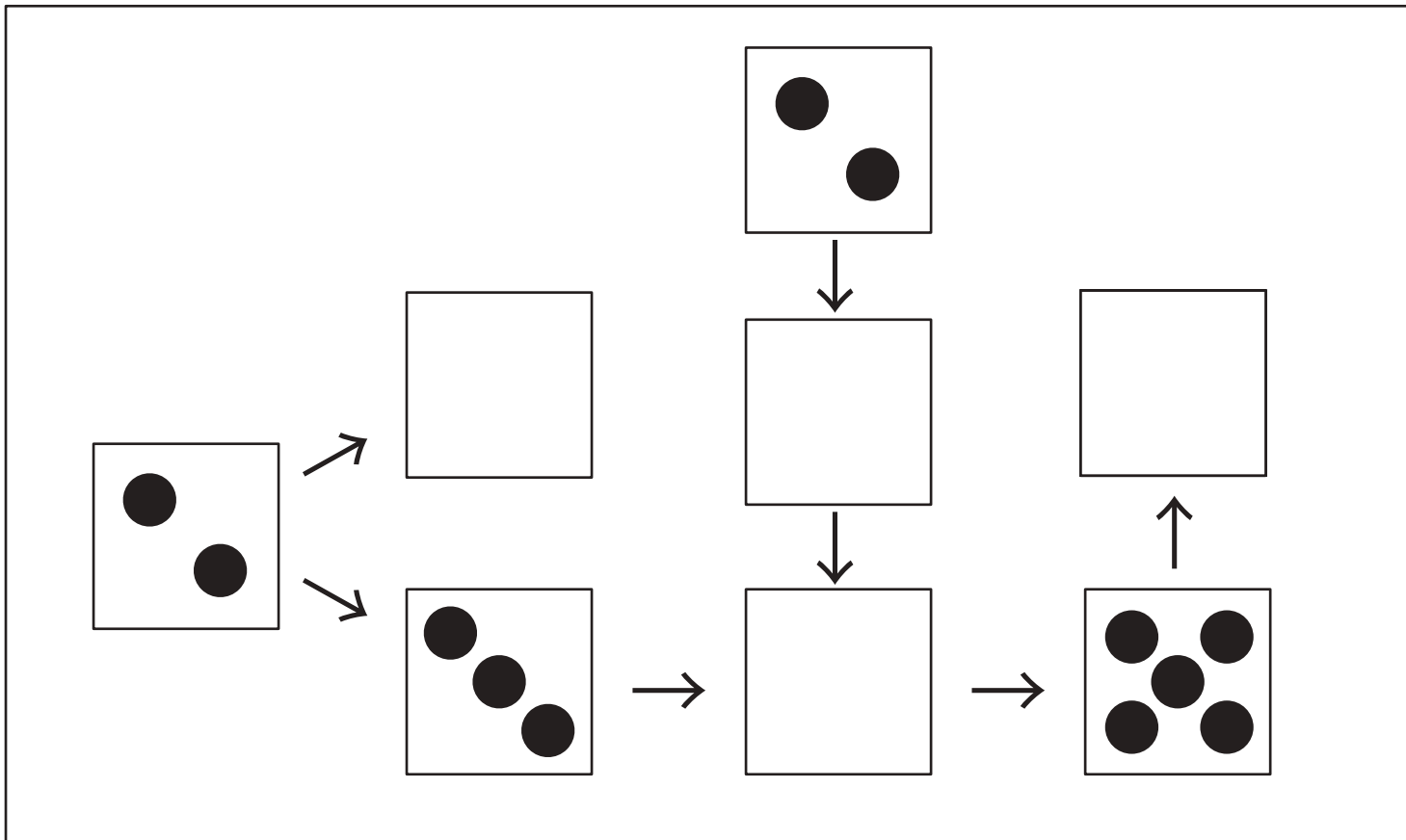


# おうちで、やろう。

Study at home. 小学校受験の家庭学習教材

## 推理：サイコロ3

サイコロが矢印の方向に進んで行くと矢印の目が一つ増える仕組みになっています。真っ白になっているサイコロの目の数を考えてサイコロの目をかきます。



※1. このプリントは、しながわ・目黒こどもスクールのウェブサイトでダウンロードができます。無断複写・引用はご遠慮ください。  
 ※2. このプリントを活用したオンライン授業のスケジュールは、しながわ・目黒こどもスクールのウェブサイトでご確認ください。




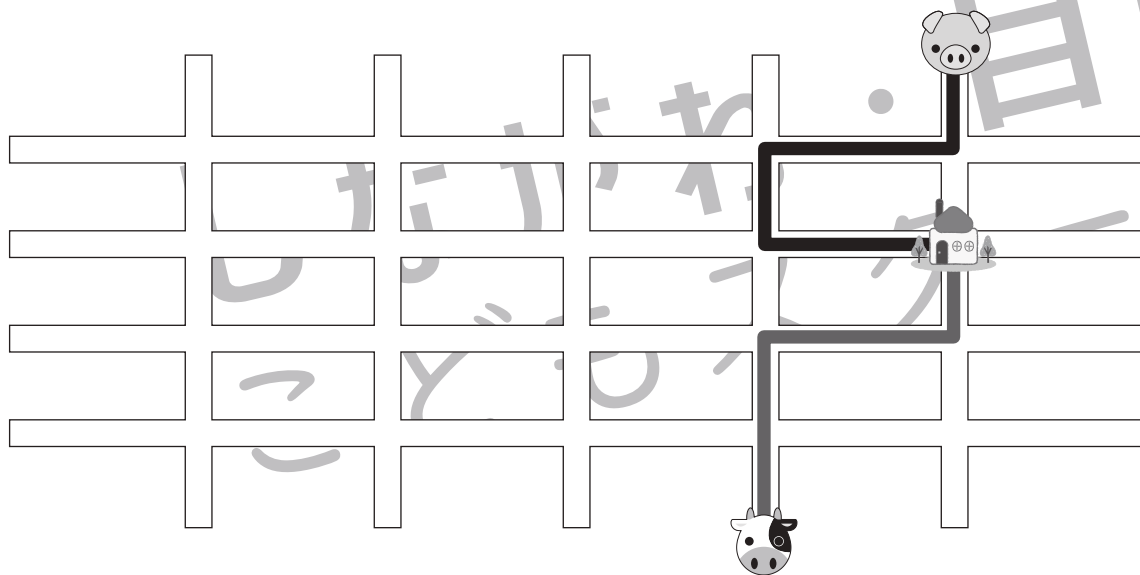
# おうちで、やろう。

Study at home. 小学校受験の家庭学習教材



数量：長さ 11

動物たちが同じ目的地に向かって進んでいきます。どの動物がいちばん早くたどり着けますか。その動物を下の枠から選んで○をつけましょう。なお、動物たちは皆同じ速さで進み、同じタイミングでスタートをします。

①



②



※1. このプリントは、しながわ・目黒こどもスクールのウェブサイトでダウンロードができます。無断複写・引用はご遠慮ください。

※2. このプリントを活用したオンライン授業のスケジュールは、しながわ・目黒こどもスクールのウェブサイトでご確認ください。





# おうちで、やろう。

Study at home. 小学校受験の家庭学習教材



数量：長さ 12

動物たちが同じ目的地に向かって進んでいきます。どの動物がいちばん早くたどり着けますか。その動物を下の枠から選んで○をつけましょう。なお、動物たちは皆同じ速さで進み、同じタイミングでスタートをします。

①



②



※1. このプリントは、しながわ・目黒こどもスクールのウェブサイトでダウンロードができます。無断複写・引用はご遠慮ください。

※2. このプリントを活用したオンライン授業のスケジュールは、しながわ・目黒こどもスクールのウェブサイトでご確認ください。







# おうちで、やろう。

Study at home. 小学校受験の家庭学習教材



数量：長さ 13

動物たちが同じ目的地に向かって進んでいきます。どの動物がいちばん早くたどり着けますか。その動物を下の枠から選んで○をつけましょう。なお、動物たちは皆同じ速さで進み、同じタイミングでスタートをします。

①



②



※1. このプリントは、しながわ・目黒こどもスクールのウェブサイトからダウンロードできます。無断複写・引用はご遠慮ください。

※2. このプリントを活用したオンライン授業のスケジュールは、しながわ・目黒こどもスクールのウェブサイトでご確認ください。





# おうちで、やろう。

Study at home. 小学校受験の家庭学習教材

運筆：濃淡8

左のお手本と同じ濃さになるように右の形を塗ります。この問題は鉛筆でやりましょう。  
※この問題に解答はありません。


※1. このプリントは、しながわ・目黒こどもスクールのウェブサイトでダウンロードができます。無断複写・引用はご遠慮ください。  
※2. このプリントを活用したオンライン授業のスケジュールは、しながわ・目黒こどもスクールのウェブサイトでご確認ください。