


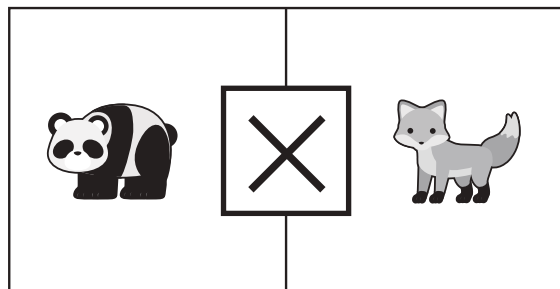
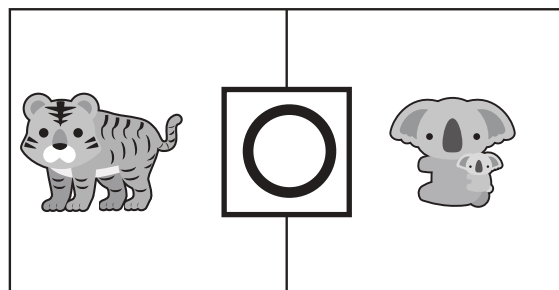


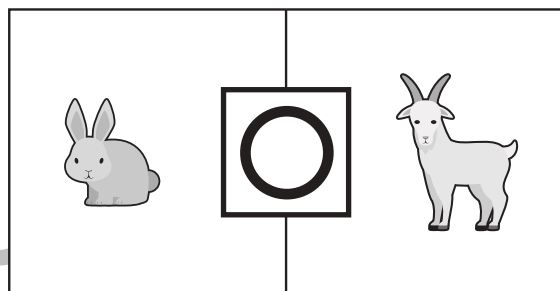

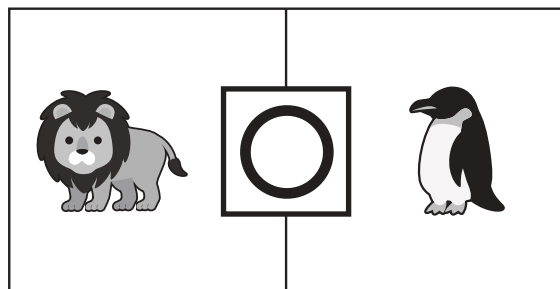

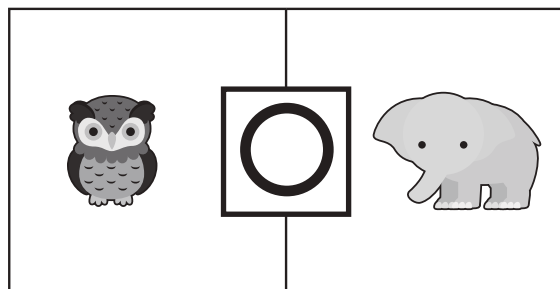


おうちで、やろう。

Study at home. 小学校受験の家庭学習教材

言語：音の理解 34

四角の中の左と右にいる動物の終わりの音を考えます。
終わりの音と同じ場合は○、違う場合は×を真ん中の四角の中にかきます。



※1. このプリントは、しながわ・目黒こどもスクールのウェブサイトでダウンロードができます。無断複写・引用はご遠慮ください。
※2. このプリントを活用したオンライン授業のスケジュールは、しながわ・目黒こどもスクールのウェブサイトでご確認ください。










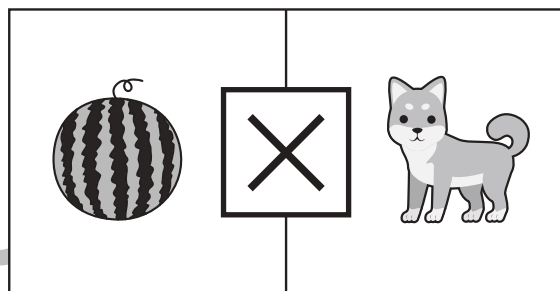
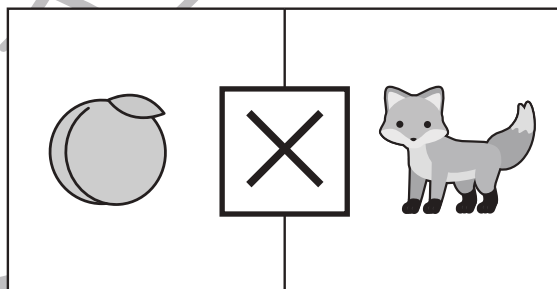
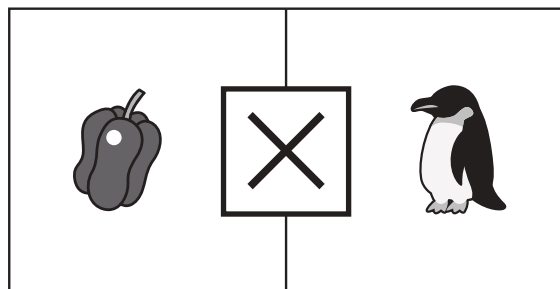


おうちで、やろう。

Study at home. 小学校受験の家庭学習教材

言語：音の理解 35

四角の中の左と右にある絵のはじめの音を考えます。

はじめの音と同じ場合は○、違う場合は×を真ん中の四角の中にかきます。



※1. このプリントは、しながわ・目黒こどもスクールのウェブサイトでダウンロードができます。無断複写・引用はご遠慮ください。

※2. このプリントを活用したオンライン授業のスケジュールは、しながわ・目黒こどもスクールのウェブサイトでご確認ください。






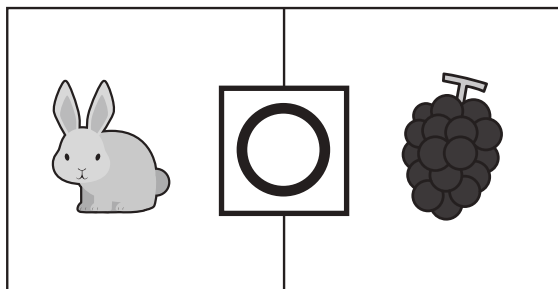

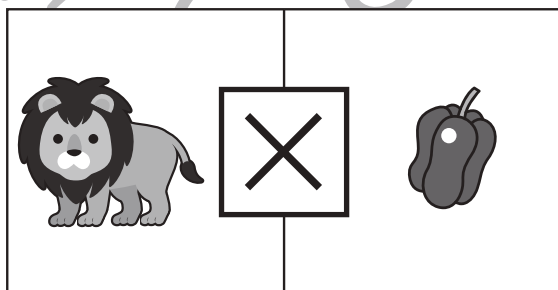




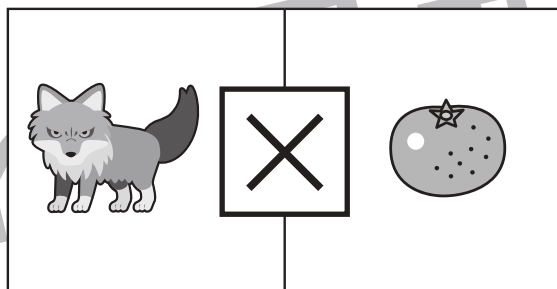

おうちで、やろう。

Study at home. 小学校受験の家庭学習教材

言語：音の理解 36

四角の中の左と右にある絵の音を考えます。

左の絵のはじめの音と右の絵の終りの音が場合は○、ちがう場合は×を真ん中の四角の中にかきます。



※1. このプリントは、しながわ・目黒こどもスクールのウェブサイトでダウンロードができます。無断複写・引用はご遠慮ください。

※2. このプリントを活用したオンライン授業のスケジュールは、しながわ・目黒こどもスクールのウェブサイトでご確認ください。

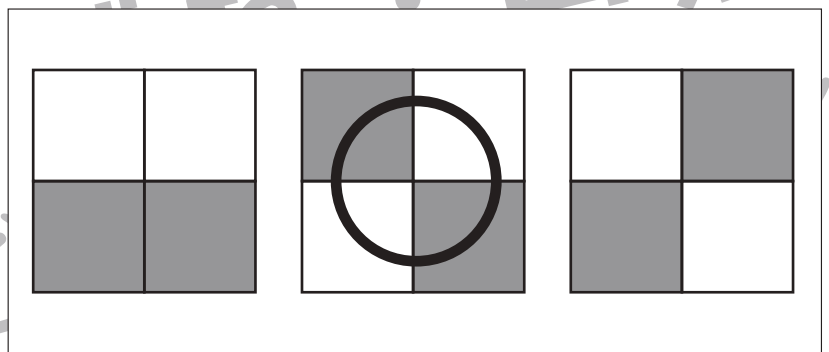
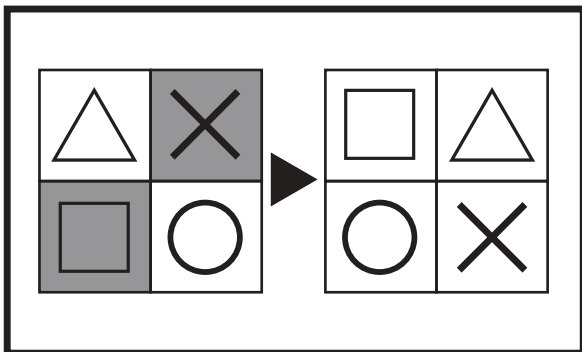
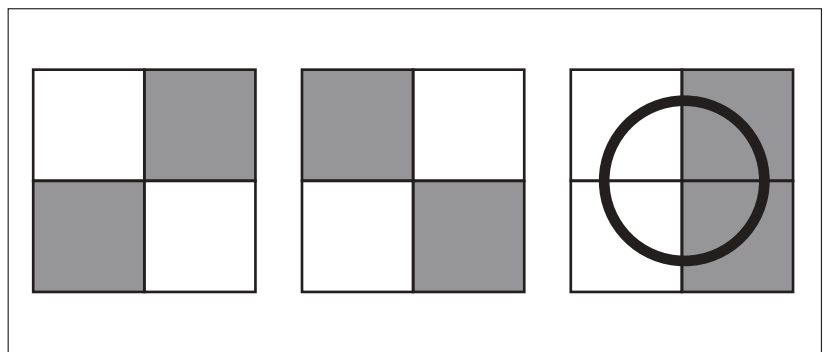
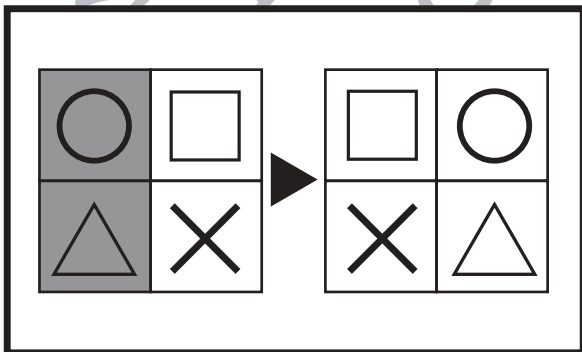
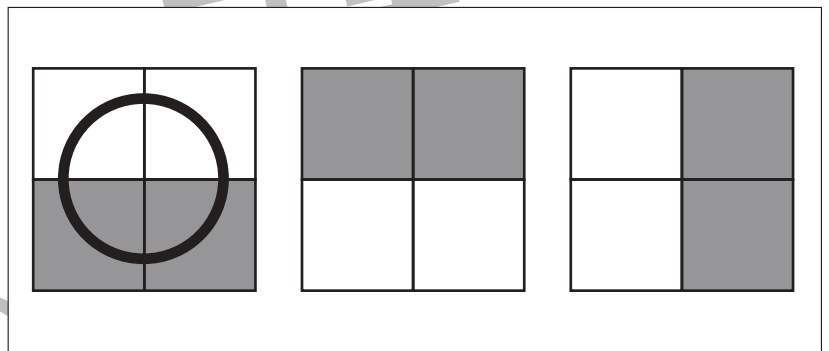
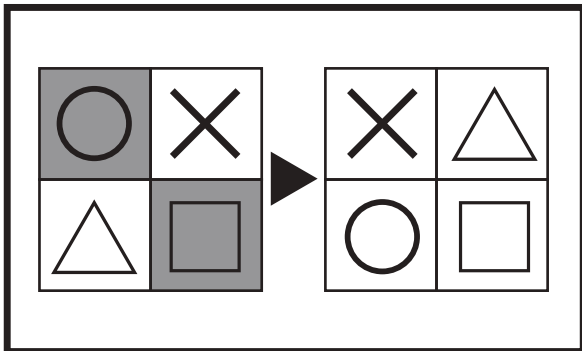
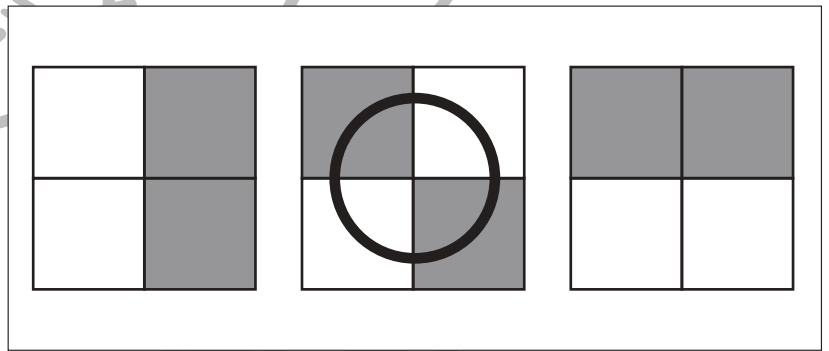
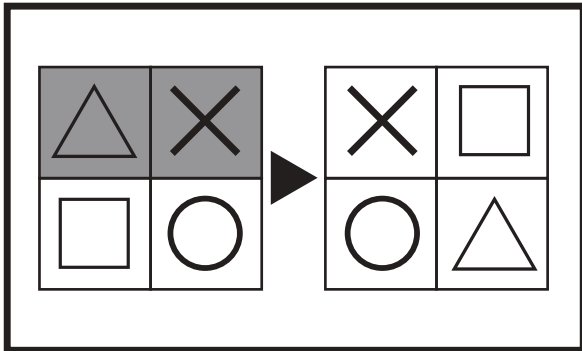
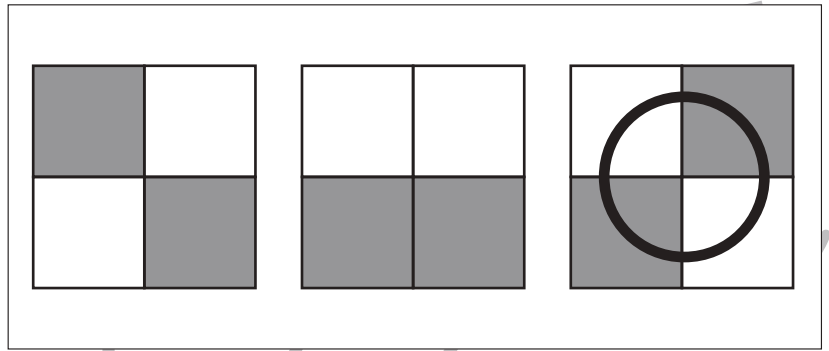
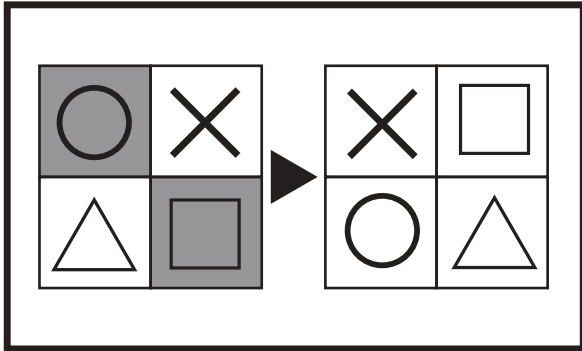


おうちで、やろう。

Study at home. 小学校受験の家庭学習教材

図形：構成 27

太い四角の中の左の四角がお手本です。これは4つのマスを集めて四角を作りました。右の四角は4つのマスを並びかえた四角です。この時、模様がどのようになるのか考えて、正しいもの右の3つの中から選んで○をつけます。



※1. このプリントは、しながわ・目黒こどもスクールのウェブサイトでダウンロードができます。無断複写・引用はご遠慮ください。
 ※2. このプリントを活用したオンライン授業のスケジュールは、しながわ・目黒こどもスクールのウェブサイトでご確認ください。

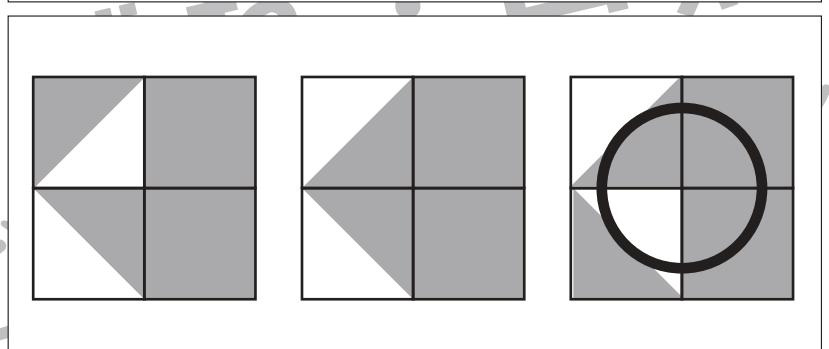
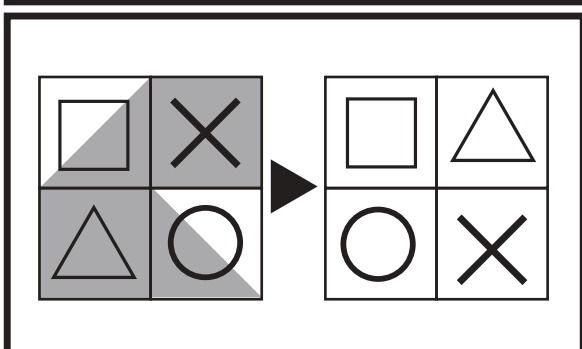
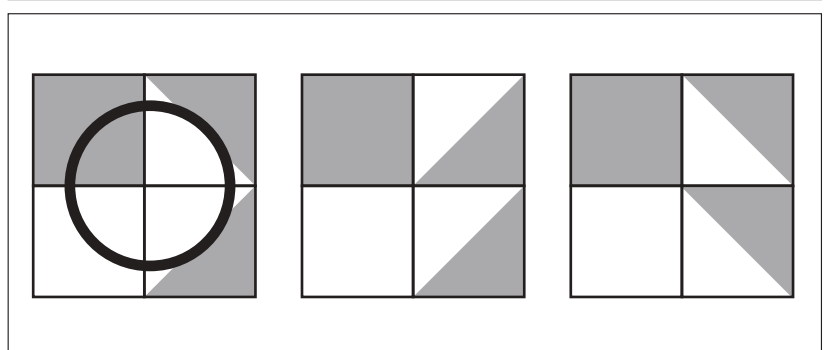
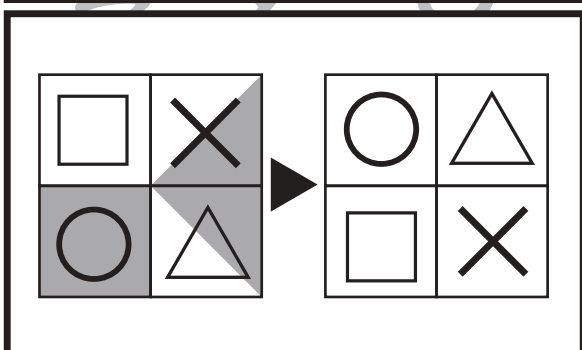
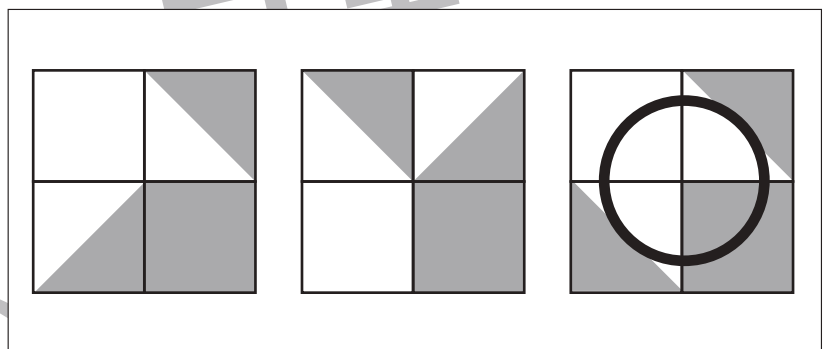
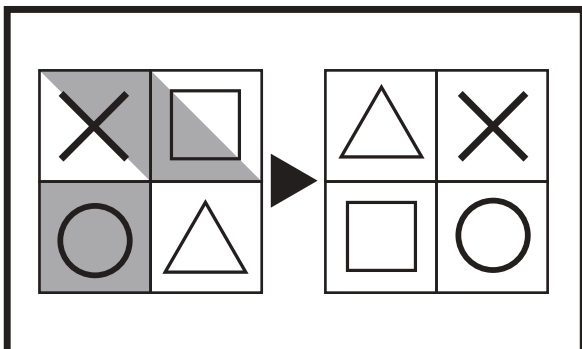
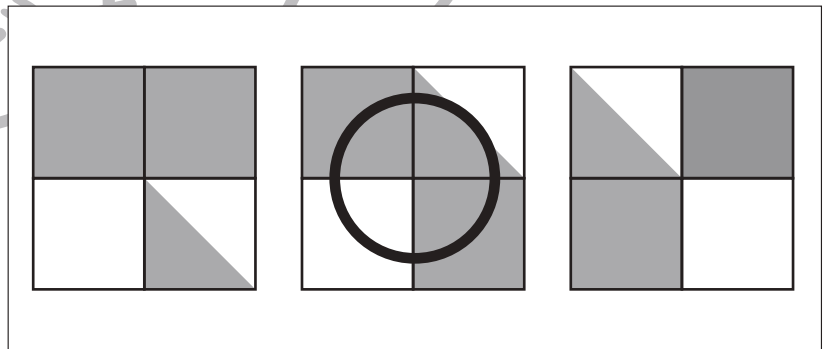
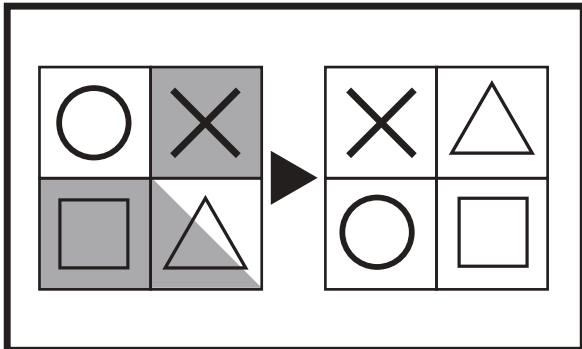
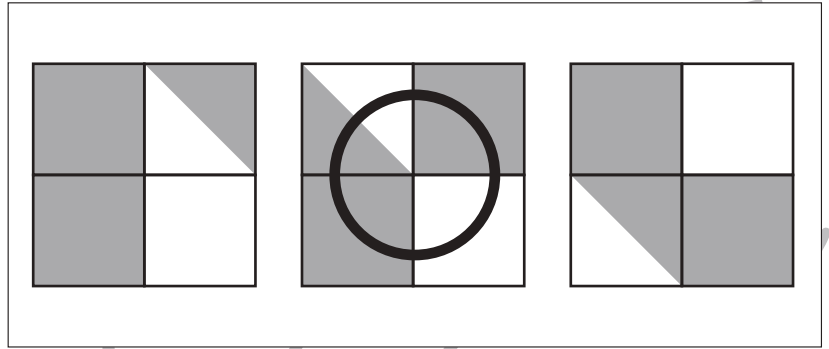
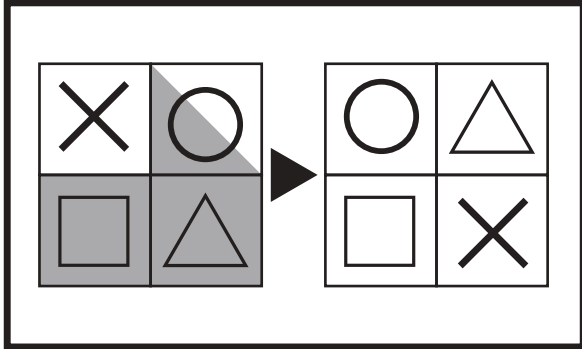


おうちで、やろう。

Study at home. 小学校受験の家庭学習教材

図形：構成 28

太い四角の中の左の四角がお手本です。これは4つのマスを集めて四角を作りました。右の四角は4つのマスを並びかえた四角です。この時、模様がどのようになるのか考えて、正しいもの右の3つの中から選んで○をつけます。マスは並びかえたとき、回転させたり、裏返したりしません。



※1. このプリントは、しながわ・目黒こどもスクールのウェブサイトでダウンロードができます。無断複写・引用はご遠慮ください。
 ※2. このプリントを活用したオンライン授業のスケジュールは、しながわ・目黒こどもスクールのウェブサイトでご確認ください。

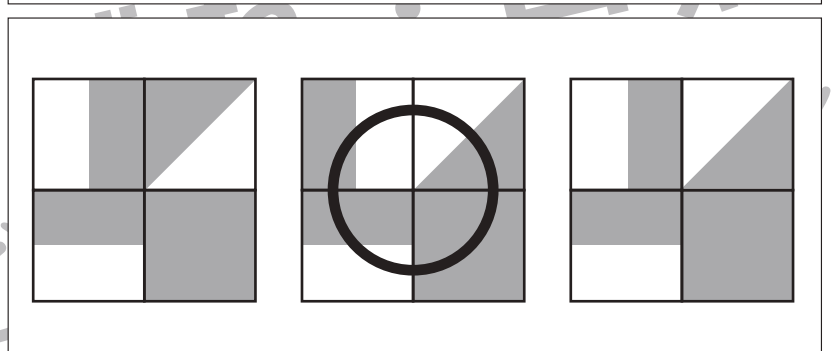
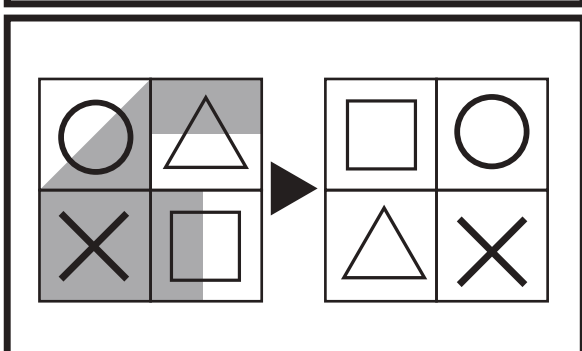
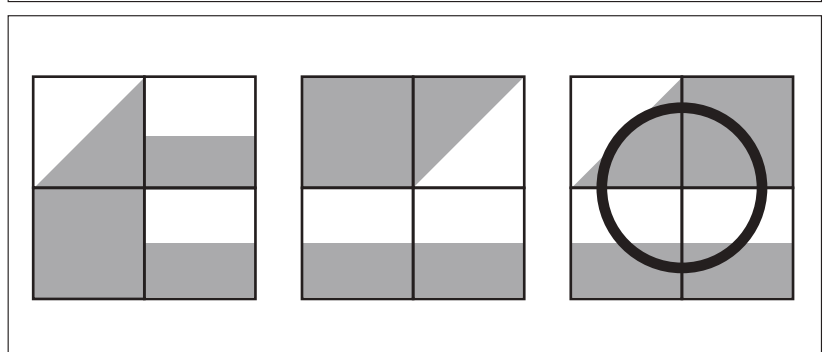
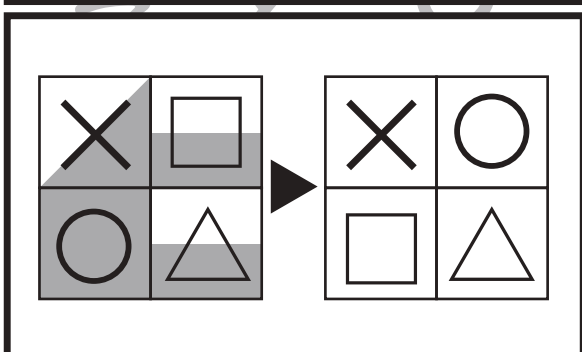
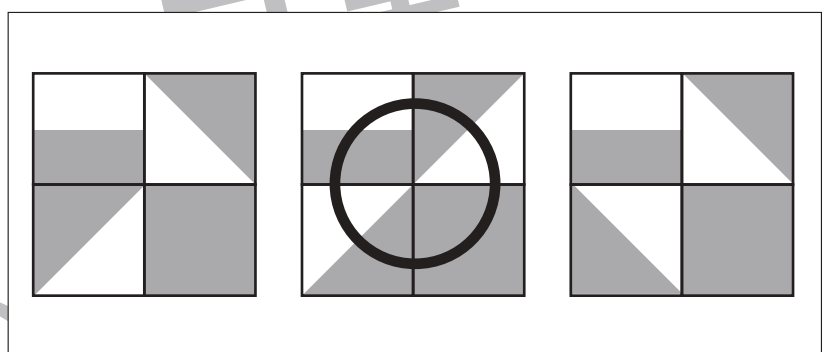
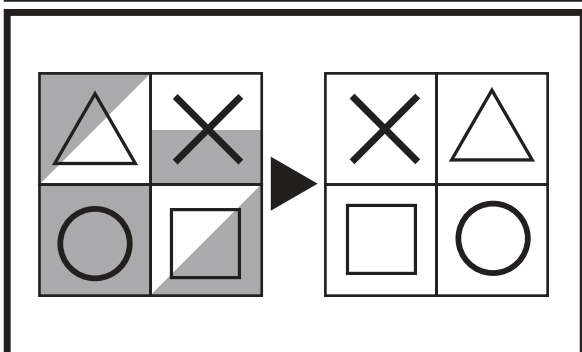
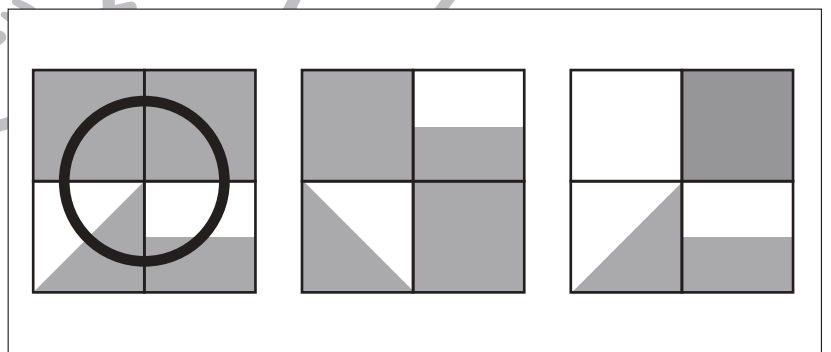
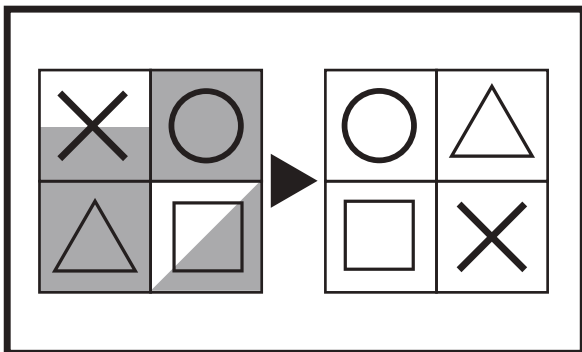
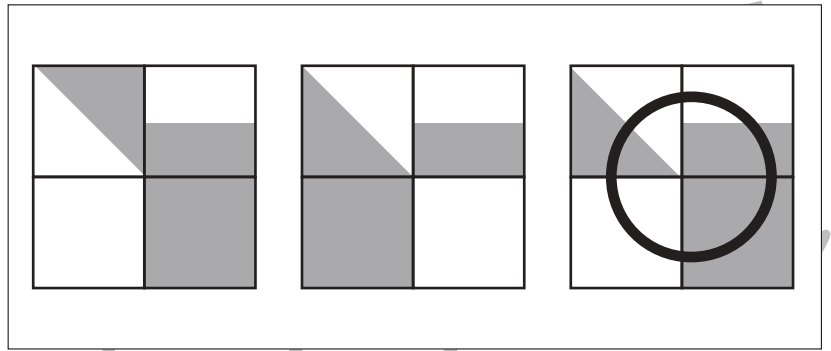
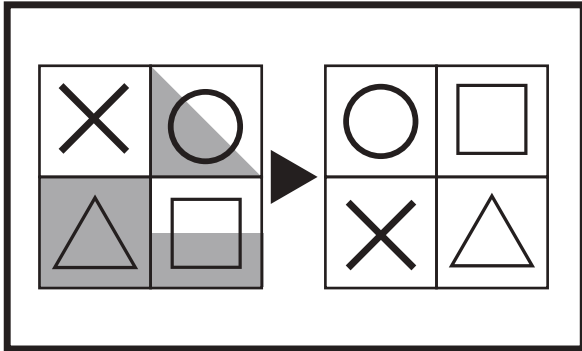


おうちで、やろう。

Study at home. 小学校受験の家庭学習教材

図形：構成 29

太い四角の中の左の四角がお手本です。これは4つのマスを集めて四角を作りました。右の四角は4つのマスを並びかえた四角です。この時、模様がどのようになるのか考えて、正しいもの右の3つの中から選んで○をつけます。マスは並びかえたとき、回転させたり、裏返したりしません。



※1. このプリントは、しながわ・目黒こどもスクールのウェブサイトでダウンロードができます。無断複写・引用はご遠慮ください。
※2. このプリントを活用したオンライン授業のスケジュールは、しながわ・目黒こどもスクールのウェブサイトでご確認ください。



おうちで、やろう。

Study at home. 小学校受験の家庭学習教材

数量：条件推理 8

大きな牛乳パックには3人分の牛乳が入っています。瓶の中には1人分の牛乳が入っています。上の四角の中には何人分の牛乳が入っているか考えて下の四角の中にその人数分だけ〇を付けます。

○	○	○
○		

○	○	○
○		

○	○	○
○	○	○

○	○	○
○	○	○
○	○	

○	○	○
○	○	○
○	○	○
○		

○	○	○
○	○	○
○	○	○

※1. このプリントは、しながわ・目黒こどもスクールのウェブサイトでダウンロードができます。無断複写・引用はご遠慮ください。

※2. このプリントを活用したオンライン授業のスケジュールは、しながわ・目黒こどもスクールのウェブサイトでご確認ください。



おうちで、やろう。

Study at home. 小学校受験の家庭学習教材

数量：条件推理 9

大きな牛乳パックには3人分の牛乳が入っています。瓶の中には1人分の牛乳が入っています。左の四角の中にある牛乳を右の子どもたちで飲みました。何人分の牛乳が残るか考えて右の四角の中にその人数分だけ〇を付けます。

--	--	--

--	--	--

--	--	--

--	--	--

--	--	--

※1. このプリントは、しながわ・目黒こどもスクールのウェブサイトでダウンロードができます。無断複写・引用はご遠慮ください。

※2. このプリントを活用したオンライン授業のスケジュールは、しながわ・目黒こどもスクールのウェブサイトでご確認ください。



おうちで、やろう。

Study at home. 小学校受験の家庭学習教材

数量：条件推理 10

大きな牛乳パックには4匹分の牛乳が入っています。小さな瓶の中には2匹分の牛乳が入っています。左の四角の中にある牛乳を右の動物たちで飲みました。ゾウは2匹分、ウサギは1匹分の牛乳を飲みます。何匹分の牛乳が残るか考えて右の四角の中にその数だけ○をつけます。

--	--	--

--	--	--

--	--	--

--	--	--

--	--	--

※1. このプリントは、しながわ・目黒こどもスクールのウェブサイトでダウンロードができます。無断複写・引用はご遠慮ください。

※2. このプリントを活用したオンライン授業のスケジュールは、しながわ・目黒こどもスクールのウェブサイトでご確認ください。