



おうちで、やろう。

Study at home. 小学校受験の家庭学習教材

指示の聞き取り 17

※別紙問題プリント「指示の聞き取り 17」を用意し、問題に取り組みましょう。


それぞれのお話通りの場所に記号をかきます。

問題は1度しか読みませんのでしっかり聞きましょう。

- ①-1 左の△から横に進んで、上のサルから下に進んでぶつかるマスに青クーピーで○をつけます。
- ①-2 左の□から横に進んで、上のネコから下に進んでぶつかるマスに青のクーピーで◎をつけます。
- ①-3 上のコアラから下に進んで、左の○から横に進んでぶつかるマスに青のクーピーで△をつけます。

- ②-1 ×から右に進んで、パンダから上に進んでぶつかるマスに緑のクーピーで○をつけます。
- ②-2 ○から左に進んで、ブタから上に進んでぶつかるマスに緑のクーピーで◎をつけます。
- ②-3 ネコから下に進んで、□から左に進んでぶつかるマスに緑のクーピーで△をつけます。
- ②-4 ライオンから下に進んで△から右に進んでぶつかるマスに緑のクーピーで□をつけます。

※1. このプリントは、しながわ・目黒こどもスクールのウェブサイトからダウンロードができます。無断複写・引用はご遠慮ください。
※2. このプリントを活用したオンライン授業のスケジュールは、しながわ・目黒こどもスクールのウェブサイトでご確認ください。





別紙【指示の聞き取り 17(問題文)】を使用します。

①

②

※1. このプリントは、しながわ・目黒こどもスクールのウェブサイトでダウンロードができます。無断複写・引用はご遠慮ください。

※2. このプリントを活用したオンライン授業のスケジュールは、しながわ・目黒こどもスクールのウェブサイトでご確認ください。



おうちで、やろう。


Study at home. 小学校受験の家庭学習教材

言語：音の数 16


動物たちは上の食べ物を食べるとその食べ物の音の数だけ矢印の方向へマスを進みます。全部食べた後の動物たちの場所に○をつけます。

①




									
		→							


②



									
							←		

③



							→		
									

※1. このプリントは、しながわ・目黒こどもスクールのウェブサイトでダウンロードができます。無断複写・引用はご遠慮ください。

※2. このプリントを活用したオンライン授業のスケジュールは、しながわ・目黒こどもスクールのウェブサイトでご確認ください。



おうちで、やろう。

Study at home. 小学校受験の家庭学習教材

推理：条件推理 9


上の四角の中が約束です。動物は1回で○の数だけマスを進めます。この約束で星まで進むには何回進めがよいですか。その数だけ下の四角に○をかきます。

	○ ○
-----------------------------------------------------------------------------------	-----

											
----------------------------------------------------------------------------------	--	--	--	--	--	--	--	--	-------------------------------------------------------------------------------------	--	--





--	--	--	--	--	--	--	--	--	--	--	--

											
-----------------------------------------------------------------------------------	--	--	--	--	--	--	--	--	--	--	--



											
--	--	--	--	--	--	-------------------------------------------------------------------------------------	--	--	--	--	--

--	--	--	--	--	--	--	--	--	--	--	--



--	--	--	--	--	--	--	--	--	--	--	--

※1. このプリントは、しながわ・目黒こどもスクールのウェブサイトでダウンロードができます。無断複写・引用はご遠慮ください。
※2. このプリントを活用したオンライン授業のスケジュールは、しながわ・目黒こどもスクールのウェブサイトでご確認ください。





おうちで、やろう。

Study at home. 小学校受験の家庭学習教材

推理：条件推理 10


上の四角の中が約束です。動物は1回で○の数だけマスを進めます。この約束で星まで進むには何回進めがよいですか。その数だけ下の四角に○をかきます。

	○ ○ ○
-----------------------------------------------------------------------------------	-------

											
-----------------------------------------------------------------------------------	--	--	--	--	--	--	--	--	--	-------------------------------------------------------------------------------------	--





--

											
------------------------------------------------------------------------------------	--	--	--	--	--	--	--	--	--	--	--



											
--	--	--	-------------------------------------------------------------------------------------	--	--	--	--	--	--	--	--

--

	↓								
									

--

※1. このプリントは、しながわ・目黒こどもスクールのウェブサイトでダウンロードができます。無断複写・引用はご遠慮ください。
 ※2. このプリントを活用したオンライン授業のスケジュールは、しながわ・目黒こどもスクールのウェブサイトでご確認ください。





おうちで、やろう。

Study at home. 小学校受験の家庭学習教材

推理：条件推理 11

上の四角の中が約束です。動物は1回で○の数だけマスを進めます。この約束で星まで進むには何回進めがよいですか。その数だけ下の四角に○をかきます。

	○	○	○	○
-----------------------------------------------------------------------------------	---	---	---	---

											
-----------------------------------------------------------------------------------	--	--	--	--	--	--	--	--	-------------------------------------------------------------------------------------	--	--





--	--	--	--	--	--	--	--	--	--	--	--

											
------------------------------------------------------------------------------------	--	--	--	--	--	--	--	--	--	--	--



											
-------------------------------------------------------------------------------------	--	--	--	--	--	--	--	--	--	--	--

--	--	--	--	--	--	--	--	--	--	--	--



--	--	--	--	--	--	--	--	--	--	--	--

※1. このプリントは、しながわ・目黒こどもスクールのウェブサイトでダウンロードができます。無断複写・引用はご遠慮ください。
 ※2. このプリントを活用したオンライン授業のスケジュールは、しながわ・目黒こどもスクールのウェブサイトでご確認ください。




おうちで、やろう。

Study at home. 小学校受験の家庭学習教材


数量：分割 14

太い四角の中のお友だちで果物を分けます。


仲良く同じ数にぴったり分けられる果物には○、ぴったり分けられない果物には×をつけます。



--	--	--	--	--



--	--	--	--	--



--	--	--	--	--

※1. このプリントは、しながわ・目黒こどもスクールのウェブサイトでダウンロードができます。無断複写・引用はご遠慮ください。

※2. このプリントを活用したオンライン授業のスケジュールは、しながわ・目黒こどもスクールのウェブサイトでご確認ください。



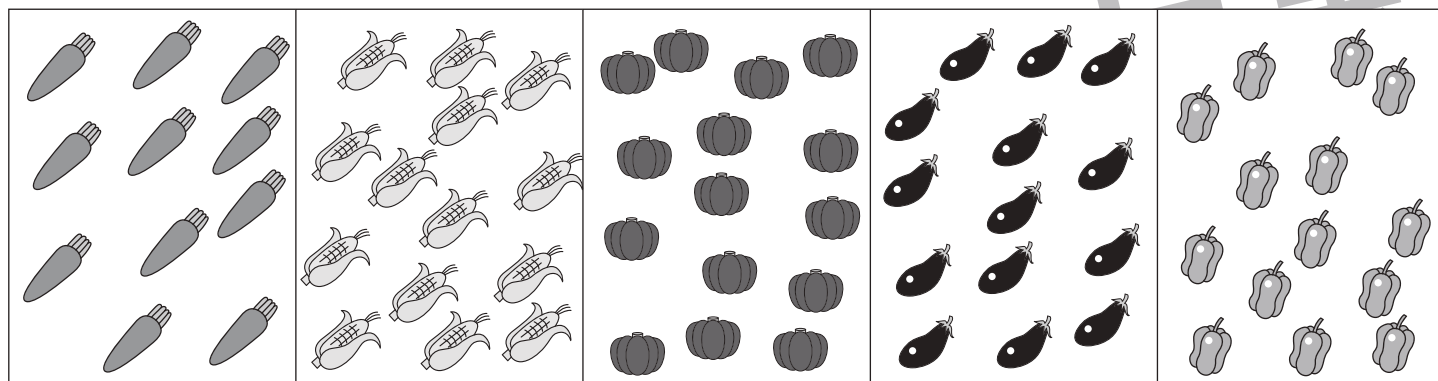

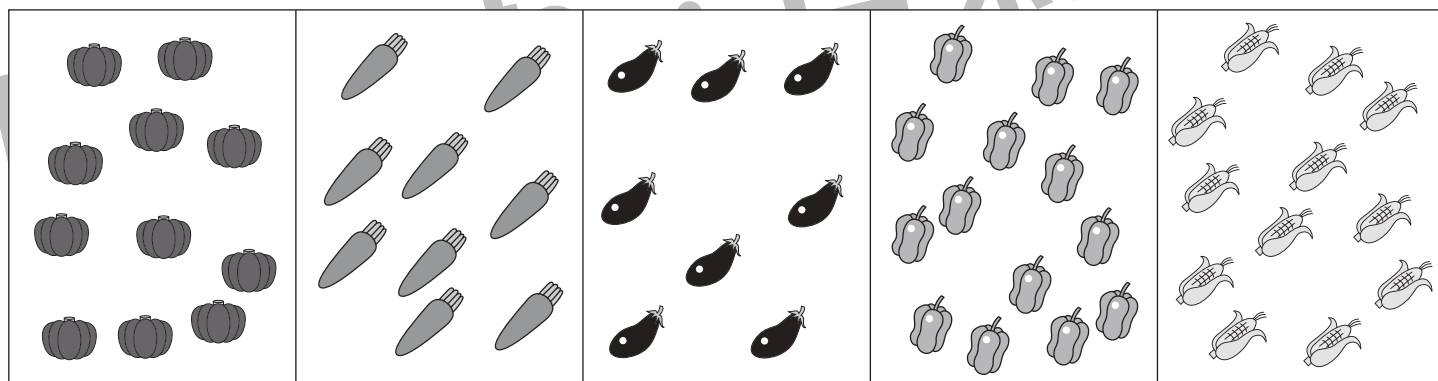


おうちで、やろう。

Study at home. 小学校受験の家庭学習教材

数量：分割 15

太い四角の中のお友だちで野菜を分けます。

仲良く同じ数にぴったり分けられる野菜には○、ぴったり分けられない野菜には×をつけます。



※1. このプリントは、しながわ・目黒こどもスクールのウェブサイトでダウンロードができます。無断複写・引用はご遠慮ください。

※2. このプリントを活用したオンライン授業のスケジュールは、しながわ・目黒こどもスクールのウェブサイトでご確認ください。



おうちで、やろう。


Study at home. 小学校受験の家庭学習教材

処理：運筆 13

壁にぶつからないように一周線をかきます。どこからはじめてもよいのできれいな線をかきましょう。

この問題はスピードを意識して取り組む練習をしてみましょう。(1分～1分30秒)

※えんぴつ、クーピー、水性ペンなどをしましょう。 ※この問題に解答はありません。



※1. このプリントは、しながわ・目黒こどもスクールのウェブサイトでダウンロードができます。無断複写・引用はご遠慮ください。

※2. このプリントを活用したオンライン授業のスケジュールは、しながわ・目黒こどもスクールのウェブサイトでご確認ください。