



おうちで、やろう。

Study at home. 小学校受験の家庭学習教材

指示の聞き取り 17

別紙【指示の聞き取り 17(問題文)】を使用します。

①

②

※1. このプリントは、しながわ・目黒こどもスクールのウェブサイトからダウンロードできます。無断複写・引用はご遠慮ください。
 ※2. このプリントを活用したオンライン授業のスケジュールは、しながわ・目黒こどもスクールのウェブサイトでご確認ください。



おうちで、やろう。

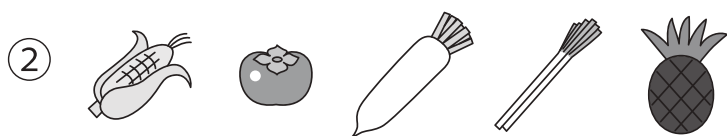
Study at home. 小学校受験の家庭学習教材

言語：音の数 16

動物たちは上の食べ物を食べるとその食べ物の音の数だけ矢印の方向へマスを進みます。全部食べた後の動物たちの場所に○をつけます。



		→							
								○	



									○
							←		



							→		
								○	

※1. このプリントは、しながわ・目黒こどもスクールのウェブサイトでダウンロードができます。無断複写・引用はご遠慮ください。
※2. このプリントを活用したオンライン授業のスケジュールは、しながわ・目黒こどもスクールのウェブサイトでご確認ください。





おうちで、やろう。

Study at home. 小学校受験の家庭学習教材

言語：音の数 17


動物たちは上の食べ物を食べるとその食べ物の音の数だけ矢印の方向へマスを進みます。全部食べた後の動物たちの場所に○をつけます。



				○					



	○								



				○					

※1. このプリントは、しながわ・目黒こどもスクールのウェブサイトからダウンロードできます。無断複写・引用はご遠慮ください。

※2. このプリントを活用したオンライン授業のスケジュールは、しながわ・目黒こどもスクールのウェブサイトでご確認ください。



おうちで、やろう。


Study at home. 小学校受験の家庭学習教材

言語：音の数 18


動物たちは上の食べ物を食べるとその食べ物の音の数だけ矢印の方向へマスを進みます。乗り物のときは矢印と反対方向へ戻ります。この約束で動物がマスを進み、最後についたマスに○をかきます。



			○						
			←						



								↑	
			○						



				○					
	→								

※1. このプリントは、しながわ・目黒こどもスクールのウェブサイトでダウンロードができます。無断複写・引用はご遠慮ください。
※2. このプリントを活用したオンライン授業のスケジュールは、しながわ・目黒こどもスクールのウェブサイトでご確認ください。



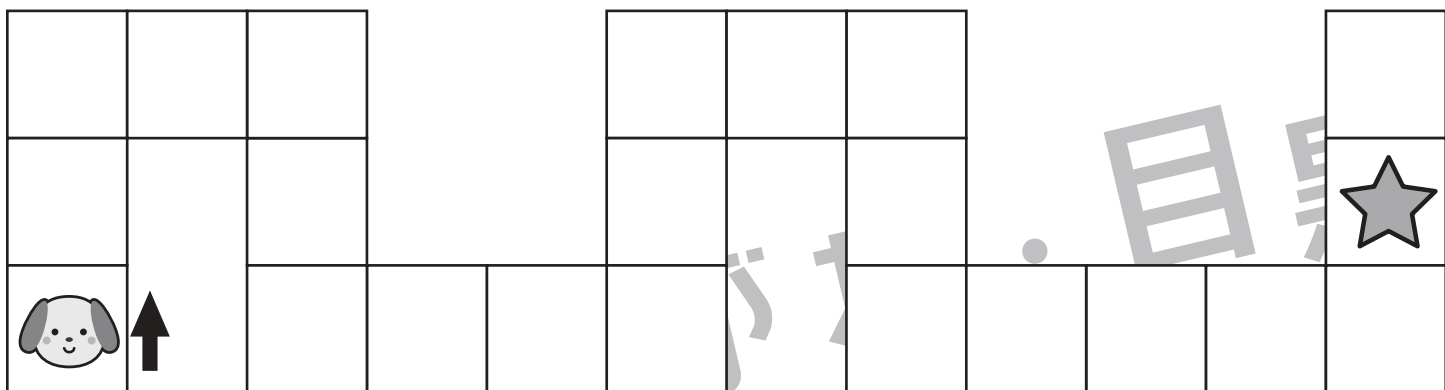






おうちで、よろう。

Study at home. 小学校受験の家庭学習教材

推理：条件推理 9

上の四角の中が約束です。動物は1回で○の数だけマスを進めます。この約束で星まで進むには何回進めがよいですか。その数だけ下の四角に○をかきます。



※1. このプリントは、しながわ・目黒こどもスクールのウェブサイトからダウンロードできます。無断複写・引用はご遠慮ください。
※2. このプリントを活用したオンライン授業のスケジュールは、しながわ・目黒こどもスクールのウェブサイトでご確認ください。





おうちで、やろう。

Study at home. 小学校受験の家庭学習教材

推理：条件推理 10


上の四角の中が約束です。動物は1回で○の数だけマスを進めます。この約束で星まで進むには何回進めがよいですか。その数だけ下の四角に○をかきます。

	○	○	○
---	---	---	---

											
---	--	--	--	--	--	--	--	--	--	---	--





○ × 3

											
--	--	--	--	--	--	--	--	--	--	--	--



											
--	--	--	---	--	--	--	--	--	--	--	--

○ × 7

○ × 7

※1. このプリントは、しながわ・目黒こどもスクールのウェブサイトでダウンロードができます。無断複写・引用はご遠慮ください。
 ※2. このプリントを活用したオンライン授業のスケジュールは、しながわ・目黒こどもスクールのウェブサイトでご確認ください。





おうちで、やろう。

Study at home. 小学校受験の家庭学習教材

推理：条件推理 11


上の四角の中が約束です。動物は1回で○の数だけマスを進めます。この約束で星まで進むには何回進めがよいですか。その数だけ下の四角に○をかきます。

	○	○	○	○
---	---	---	---	---


											
---	--	--	--	--	--	--	--	--	---	--	--





○ × 2

											
--	--	--	--	--	--	--	--	--	--	--	--



											
---	--	--	--	--	--	--	--	--	--	--	--

○ × 6



○ × 5

※1. このプリントは、しながわ・目黒こどもスクールのウェブサイトでダウンロードができます。無断複写・引用はご遠慮ください。
 ※2. このプリントを活用したオンライン授業のスケジュールは、しながわ・目黒こどもスクールのウェブサイトでご確認ください。




おうちで、やろう。

Study at home. 小学校受験の家庭学習教材


数量：分割 14

太い四角の中のお友だちで果物を分けます。


仲良く同じ数にぴったり分けられる果物には○、ぴったり分けられない果物には×をつけます。



--	--	--	--	--



--	--	--	--	--



--	--	--	--	--

※1. このプリントは、しながわ・目黒こどもスクールのウェブサイトでダウンロードができます。無断複写・引用はご遠慮ください。

※2. このプリントを活用したオンライン授業のスケジュールは、しながわ・目黒こどもスクールのウェブサイトでご確認ください。



おうちで、やろう。

Study at home. 小学校受験の家庭学習教材


数量：分割 15

太い四角の中のお友だちで野菜を分けます。


仲良く同じ数にぴったり分けられる野菜には○、ぴったり分けられない野菜には×をつけます。



--	--	--	--	--



--	--	--	--	--



--	--	--	--	--

※1. このプリントは、しながわ・目黒こどもスクールのウェブサイトでダウンロードができます。無断複写・引用はご遠慮ください。

※2. このプリントを活用したオンライン授業のスケジュールは、しながわ・目黒こどもスクールのウェブサイトでご確認ください。