



おうちで、よろう。

Study at home. 小学校受験の家庭学習教材

図形：回転 57

右のお手本を矢印の方向へ 2 回倒したときの見え方を考えて左の四角にかきます。

※1. このプリントは、しながわ・目黒こどもスクールのウェブサイトでダウンロードができます。無断複写・引用はご遠慮ください。
 ※2. このプリントを活用したオンライン授業のスケジュールは、しながわ・目黒こどもスクールのウェブサイトでご確認ください。



おうちで、やろう。

Study at home. 小学校受験の家庭学習教材

図形：回転 58

右のお手本を矢印の方向へ 2 回倒したときの見え方を考えて左の四角にかきます。

※1. このプリントは、しながわ・目黒こどもスクールのウェブサイトでダウンロードができます。無断複写・引用はご遠慮ください。
 ※2. このプリントを活用したオンライン授業のスケジュールは、しながわ・目黒こどもスクールのウェブサイトでご確認ください。



おうちで、よろう。

Study at home. 小学校受験の家庭学習教材

図形：回転 59

右のお手本を矢印の方向へ 2 回倒したときの見え方を考えて左の四角にかきます。

The task consists of four rows of dot patterns. Each row contains four boxes. The first box in each row is a blank 4x4 dot grid. The second box shows a path of connected dots. The third box is another blank 4x4 dot grid. The fourth box shows the same path as the second box, but rotated 180 degrees. A curved arrow points from the second box to the fourth box, indicating the rotation.

※1. このプリントは、しながわ・目黒こどもスクールのウェブサイトでダウンロードができます。無断複写・引用はご遠慮ください。
 ※2. このプリントを活用したオンライン授業のスケジュールは、しながわ・目黒こどもスクールのウェブサイトでご確認ください。



おうちで、やろう。

Study at home. 小学校受験の家庭学習教材

推理：濃度 7

それぞれの四角の中のコップには同じ量の水が入っています。このコップに上の吹き出しの中の角砂糖を入れます。入れた砂糖が全部溶けた後、一番甘いコップに○、一番甘くないコップに△をつけます。

※1. このプリントは、しながわ・目黒こどもスクールのウェブサイトでダウンロードができます。無断複写・引用はご遠慮ください。

※2. このプリントを活用したオンライン授業のスケジュールは、しながわ・目黒こどもスクールのウェブサイトでご確認ください。



おうちで、やろう。

Study at home. 小学校受験の家庭学習教材

推理：濃度 8

それぞれの四角の中のコップには同じ量の水が入っています。このコップに上の吹き出しの中の角砂糖を入れます。入れた砂糖が全部溶けた後、二番目に甘いコップに○、二番目に甘くないコップに△をつけます。

※1. このプリントは、しながわ・目黒こどもスクールのウェブサイトでダウンロードができます。無断複写・引用はご遠慮ください。

※2. このプリントを活用したオンライン授業のスケジュールは、しながわ・目黒こどもスクールのウェブサイトでご確認ください。

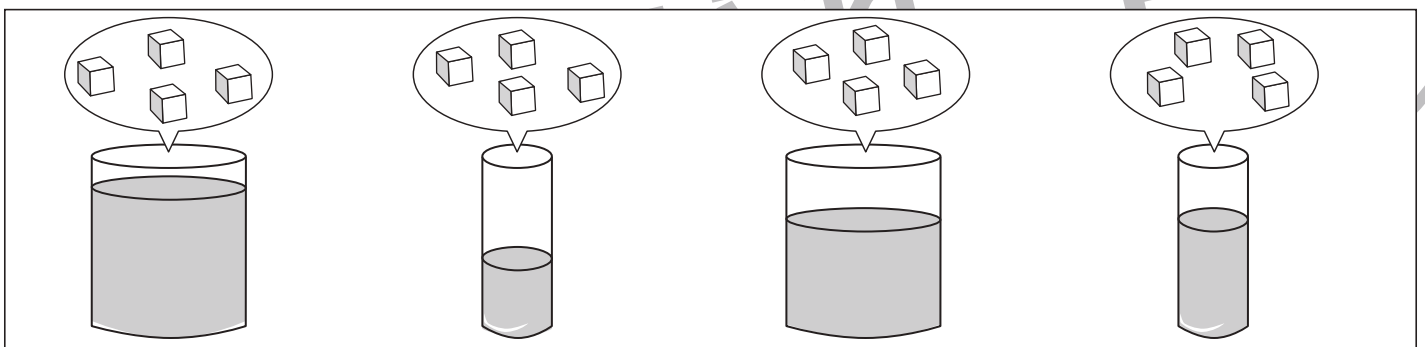
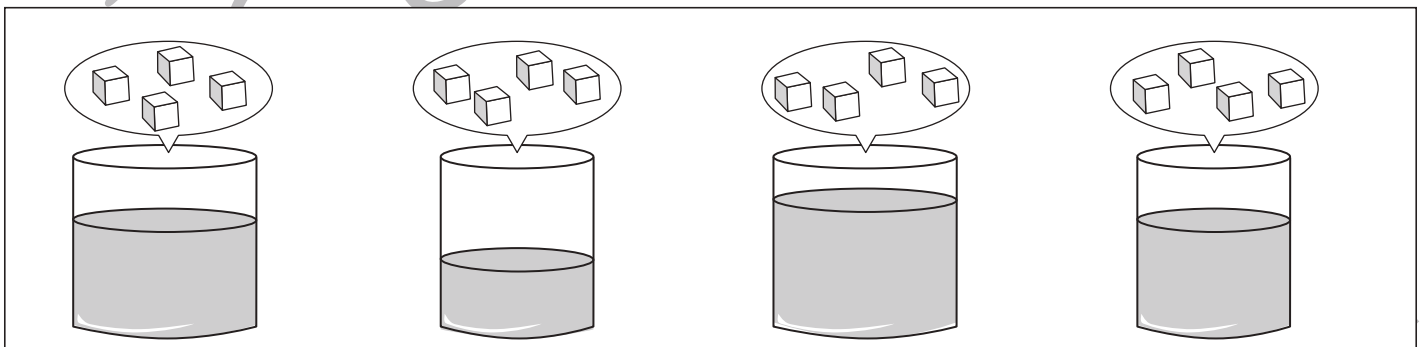
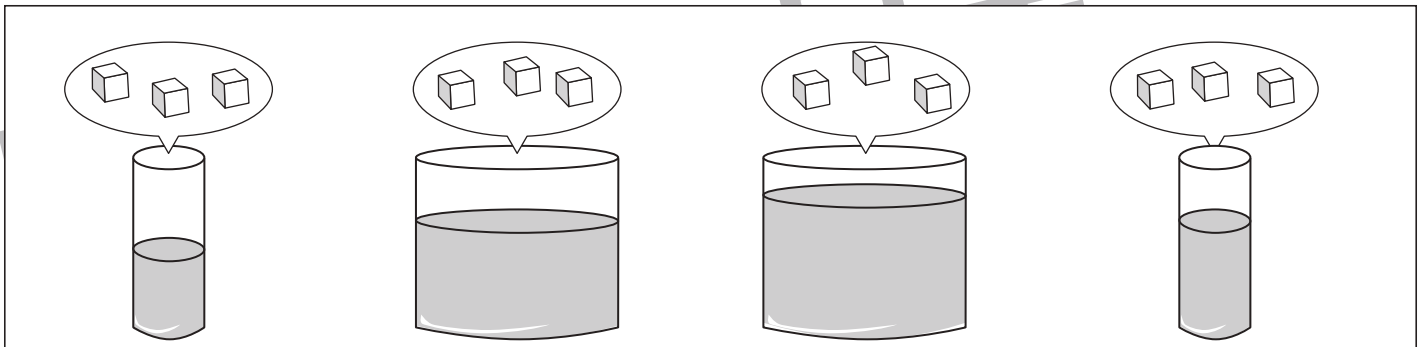
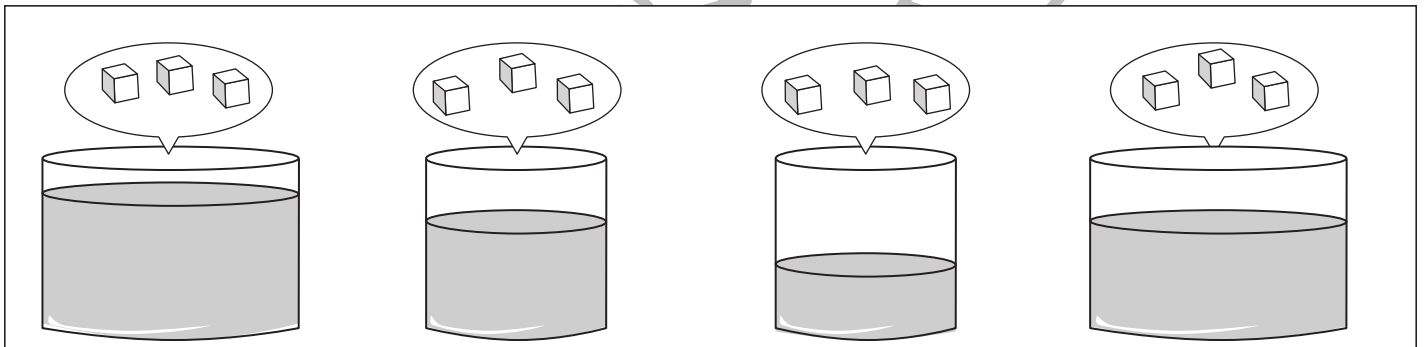
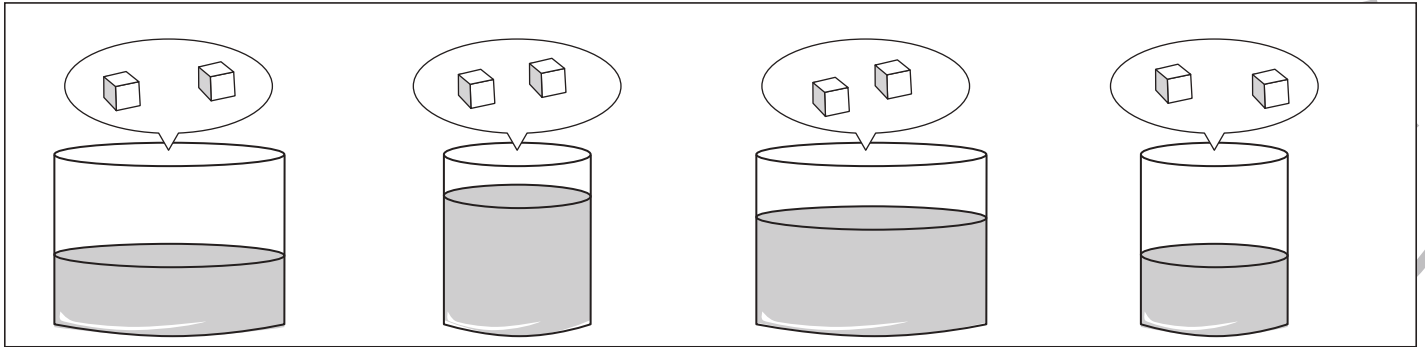


おうちで、やろう。

Study at home. 小学校受験の家庭学習教材

推理：濃度 9

それぞれの四角の中のコップには同じ量の水が入っています。このコップに上の吹き出しの中の角砂糖を入れます。入れた砂糖が全部溶けた後、一番甘いものに○、一番甘くないものに△をつけます。



※1. このプリントは、しながわ・目黒こどもスクールのウェブサイトでダウンロードができます。無断複写・引用はご遠慮ください。
 ※2. このプリントを活用したオンライン授業のスケジュールは、しながわ・目黒こどもスクールのウェブサイトでご確認ください。



おうちで、やろう。

Study at home. 小学校受験の家庭学習教材

数量：条件推理 10

左の四角の中の数だけおはじきを持っています。持っているおはじきのうちいくつかのおはじきを手で隠してしまいました様子が真ん中の四角です。このとき、手で隠しているおはじきの数を考えてその数だけ右の四角に○をかきます。

--	--	--

--	--	--

--	--	--

--	--	--

--	--	--

※1. このプリントは、しながわ・目黒こどもスクールのウェブサイトからダウンロードできます。無断複写・引用はご遠慮ください。

※2. このプリントを活用したオンライン授業のスケジュールは、しながわ・目黒こどもスクールのウェブサイトでご確認ください。



おうちで、やろう。

Study at home. 小学校受験の家庭学習教材

数量：条件推理 11

左の四角の中の数だけおはじきを持っています。持っているおはじきのうちいくつかのおはじきを手で隠してしまいました様子が真ん中の四角です。このとき、手で隠しているおはじきの数を考えてその数だけ右の四角に○をかきます。

--	--	--

--	--	--

--	--	--

--	--	--

--	--	--

※1. このプリントは、しながわ・目黒こどもスクールのウェブサイトでダウンロードができます。無断複写・引用はご遠慮ください。

※2. このプリントを活用したオンライン授業のスケジュールは、しながわ・目黒こどもスクールのウェブサイトでご確認ください。



おうちで、やろう。

Study at home. 小学校受験の家庭学習教材

数量：条件推理 12

左の四角の中の数だけおはじきを持っています。持っているおはじきのうちいくつかのおはじきを手で隠してしまいました様子が真ん中の四角です。このとき、手で隠しているおはじきの数を考えてその数だけ右の四角に○をかきます。

--	--	--

--	--	--

--	--	--

--	--	--

--	--	--

※1. このプリントは、しながわ・目黒こどもスクールのウェブサイトからダウンロードできます。無断複写・引用はご遠慮ください。

※2. このプリントを活用したオンライン授業のスケジュールは、しながわ・目黒こどもスクールのウェブサイトでご確認ください。

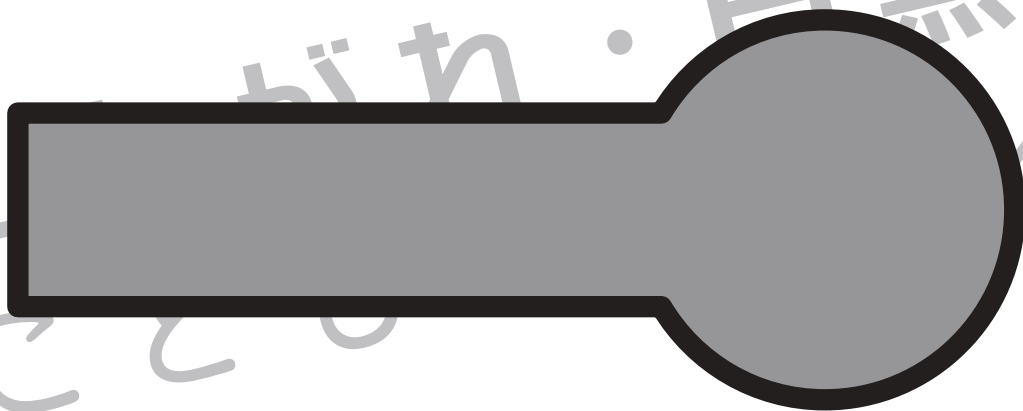
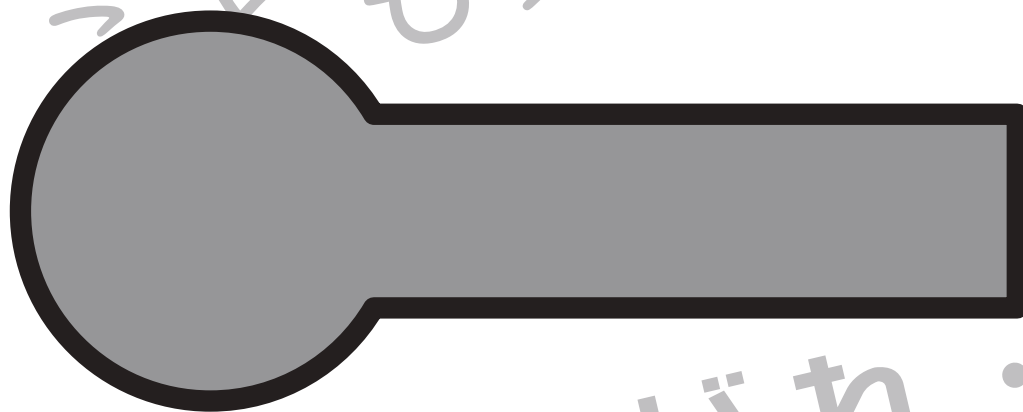
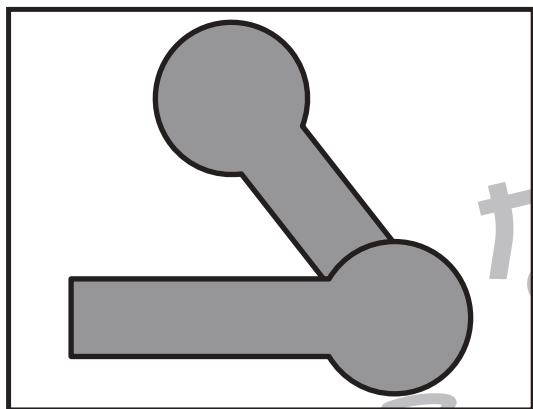


おうちで、やろう。

Study at home. 小学校受験の家庭学習教材

巧緻性：ちぎり8

- ①点線のところをはさみで切ります。
 - ②切った下の部分にある灰色の形をちぎります。
 - ③切った上の部分にある形の中に左上のお手本と同じになるようにのりで貼ります。
- ※この問題に解答はありません。



※1. このプリントは、しながわ・目黒こどもスクールのウェブサイトでダウンロードができます。無断複写・引用はご遠慮ください。
※2. このプリントを活用したオンライン授業のスケジュールは、しながわ・目黒こどもスクールのウェブサイトでご確認ください。