



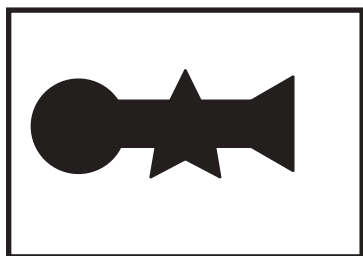







おうちで、やろう。

Study at home. 小学校受験の家庭学習教材

図形：重なり 17

左の太い四角の中は右の四角の中の形のうち4つを重ねて作ったものです。右の形の中で使っていないものを見つけて○をつけます。



※1. このプリントは、しながわ・目黒こどもスクールのウェブサイトからダウンロードできます。無断複写・引用はご遠慮ください。
※2. このプリントを活用したオンライン授業のスケジュールは、しながわ・目黒こどもスクールのウェブサイトでご確認ください。







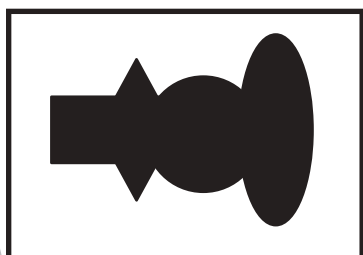





おうちで、やろう。

Study at home. 小学校受験の家庭学習教材

図形：重なり 18

左の太い四角の中は右の四角の中の形のうち4つを重ねて作ったものです。右の形の中で使っていないものを見つけて○をつけます。



※1. このプリントは、しながわ・目黒こどもスクールのウェブサイトでダウンロードができます。無断複写・引用はご遠慮ください。

※2. このプリントを活用したオンライン授業のスケジュールは、しながわ・目黒こどもスクールのウェブサイトでご確認ください。




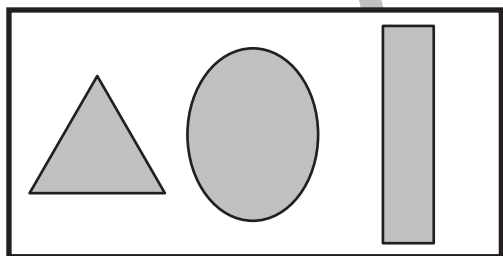
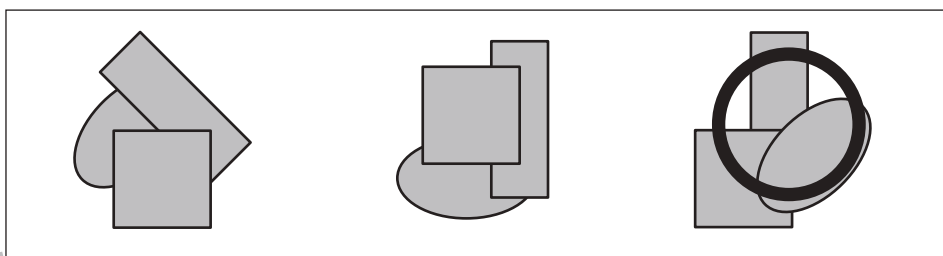
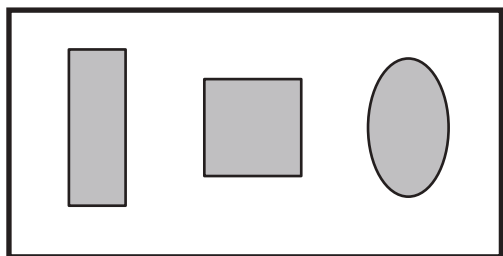
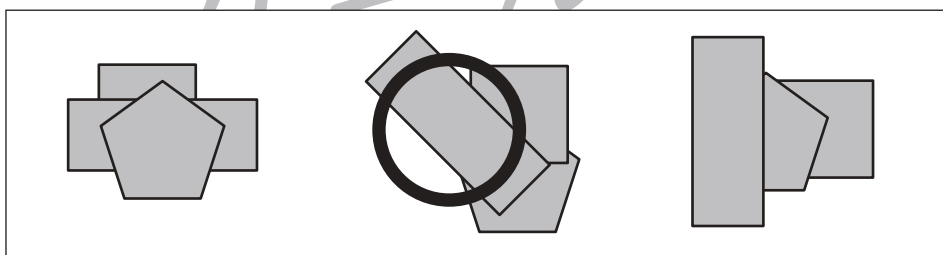
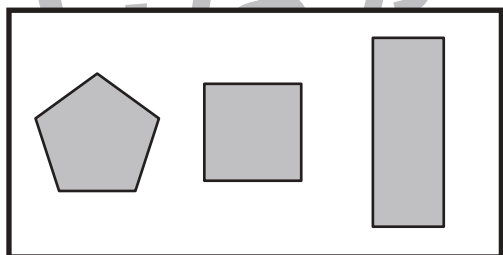
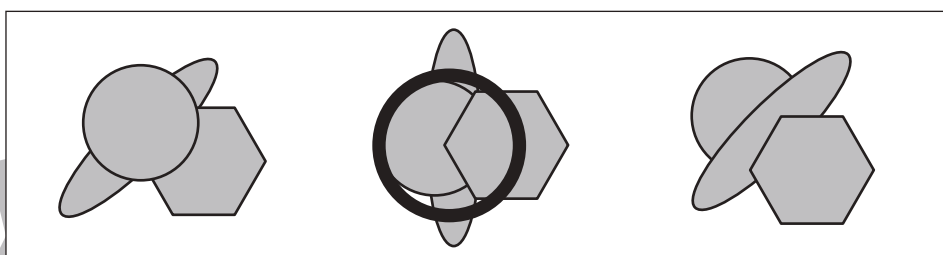
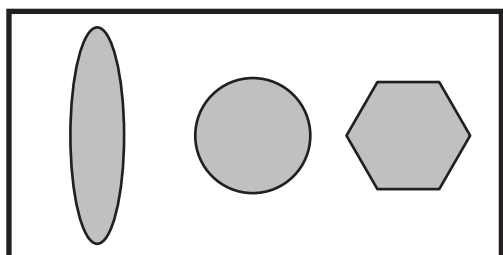
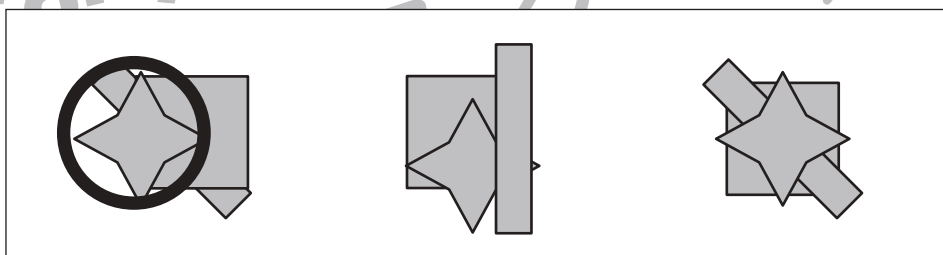
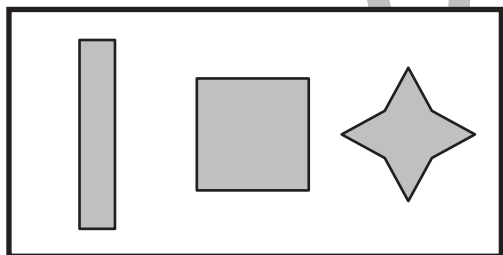
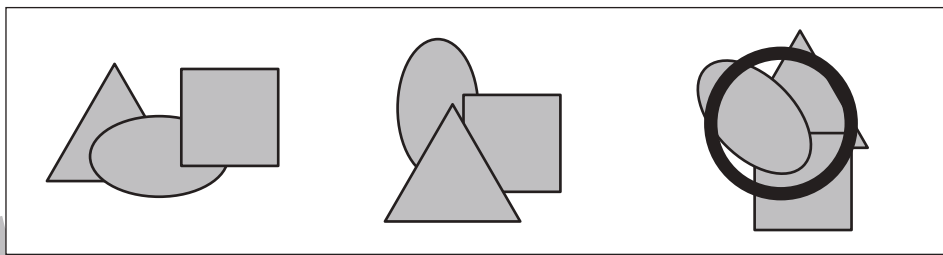
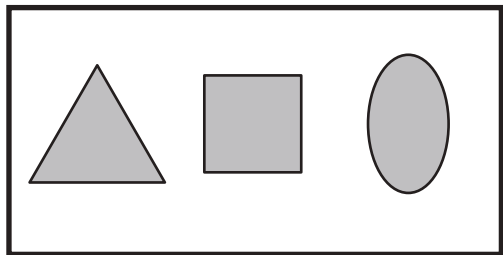


おうちで、やろう。

Study at home. 小学校受験の家庭学習教材

図形：重なり 19

左の太い四角の中の3つの形を重ねていきます。重ねる順番は左から順番に重ねて、一番左の形が一番下、一番右の形が一番上になるように重ねます。この時、正しいものを右の四角の中から選んで○をつけます。



※1. このプリントは、しながわ・目黒こどもスクールのウェブサイトからダウンロードができます。無断複写・引用はご遠慮ください。
※2. このプリントを活用したオンライン授業のスケジュールは、しながわ・目黒こどもスクールのウェブサイトでご確認ください。

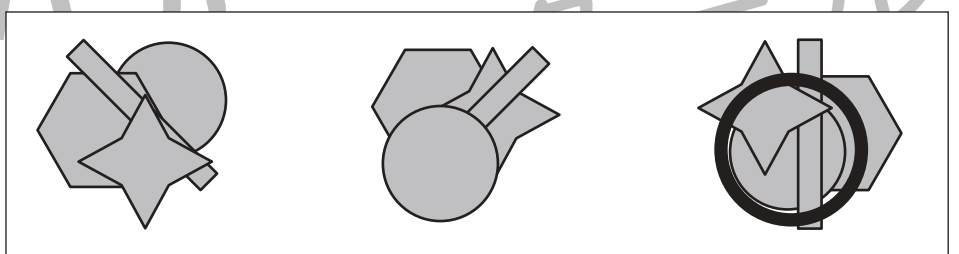
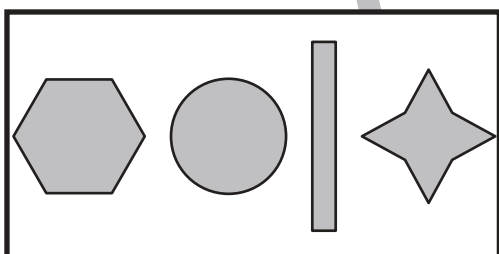
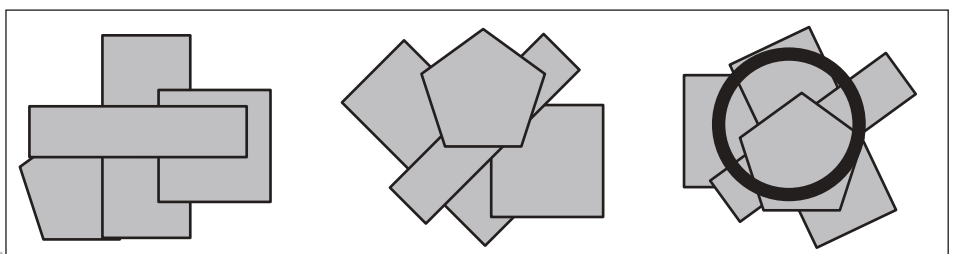
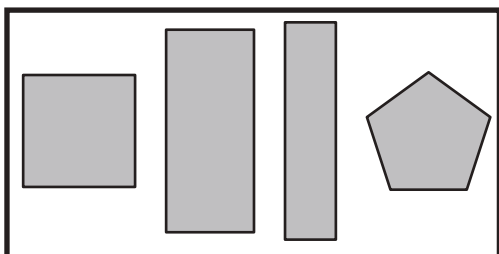
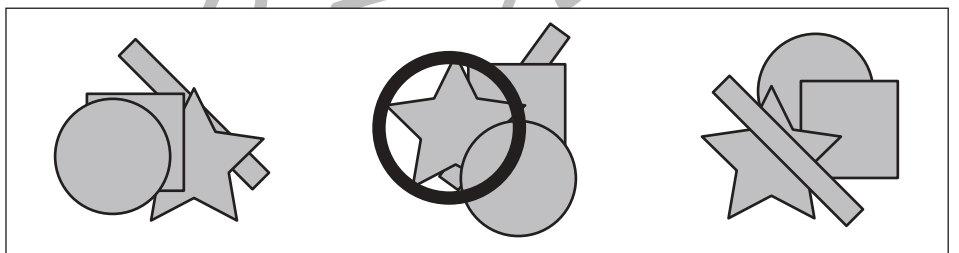
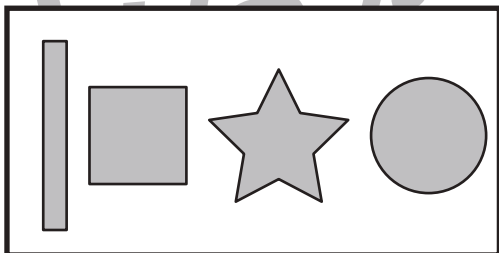
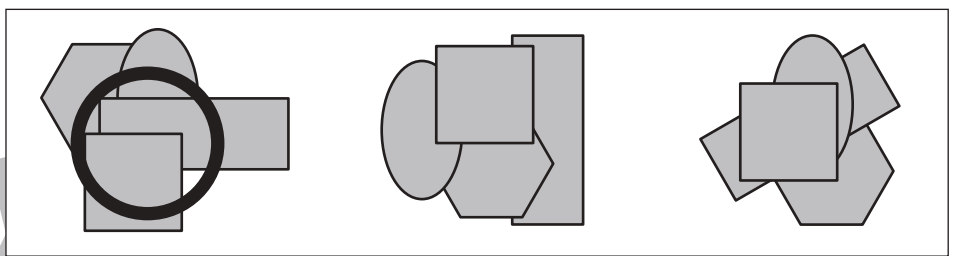
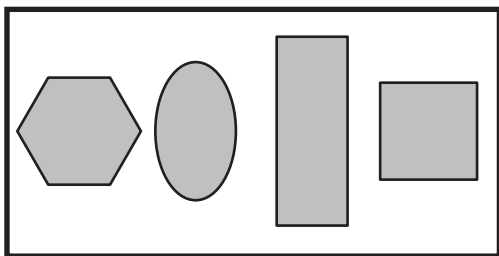

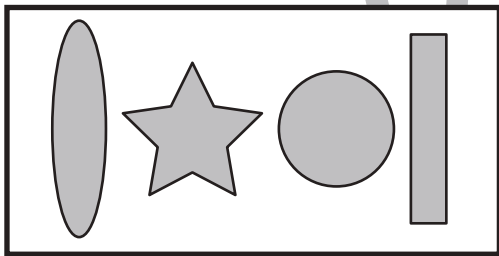
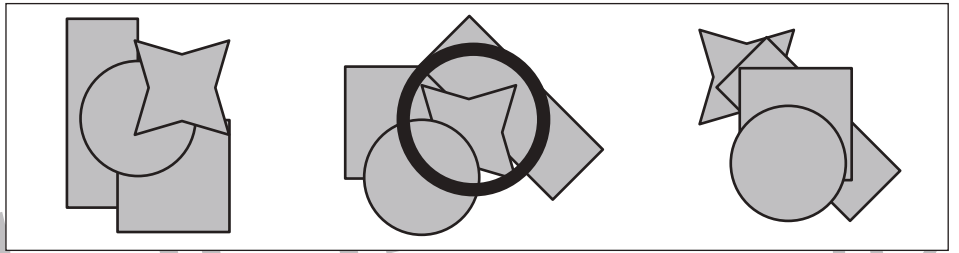
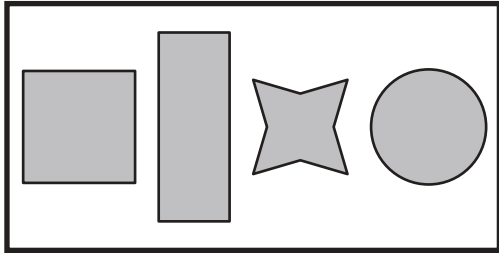


おうちで、やろう。

Study at home. 小学校受験の家庭学習教材

図形：重なり 20

左の太い四角の中の4つの形を重ねていきます。重ねる順番は左から順番に重ねて、一番左の形が一番下、一番右の形が一番上になるように重ねます。この時、正しいものを右の四角の中から選んで○をつけます。



※1. このプリントは、しながわ・目黒こどもスクールのウェブサイトでダウンロードができます。無断複写・引用はご遠慮ください。
※2. このプリントを活用したオンライン授業のスケジュールは、しながわ・目黒こどもスクールのウェブサイトでご確認ください。



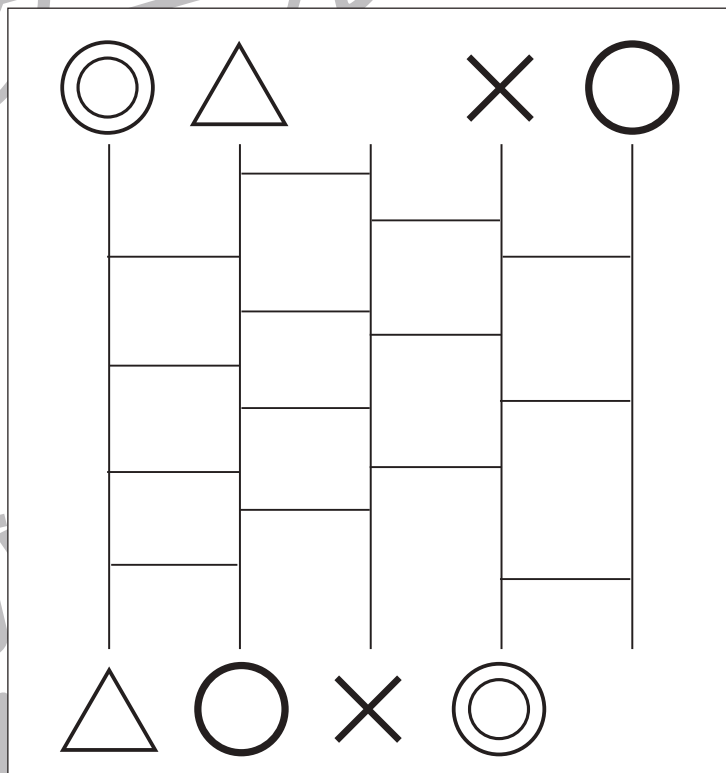
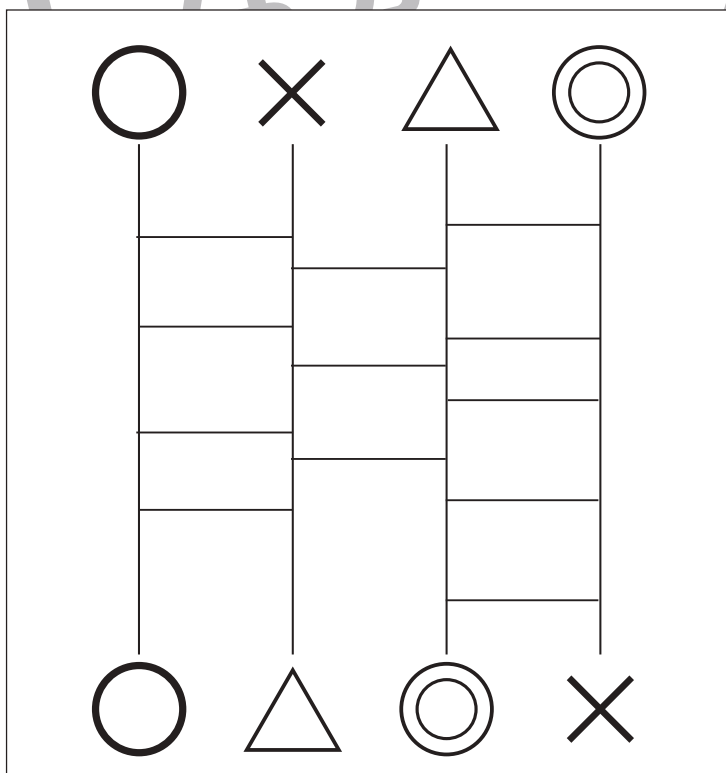

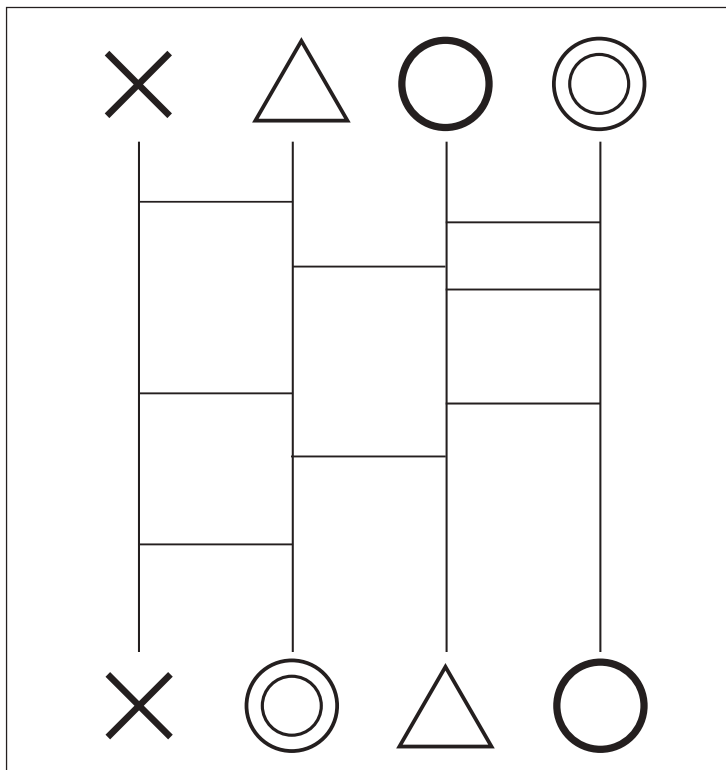
おうちで、やろう。

Study at home. 小学校受験の家庭学習教材

推理：あみだくじ6

○、×、△、◎からあみだくじで進み、それぞれの記号がついた場所にそれぞれの記号をかきます。

※あみだくじのルール：①上から下へ進みます。道は戻ってはいけません。②途中で曲がり角があったら必ず曲がります。



※1. このプリントは、しながわ・目黒こどもスクールのウェブサイトでダウンロードができます。無断複写・引用はご遠慮ください。

※2. このプリントを活用したオンライン授業のスケジュールは、しながわ・目黒こどもスクールのウェブサイトでご確認ください。



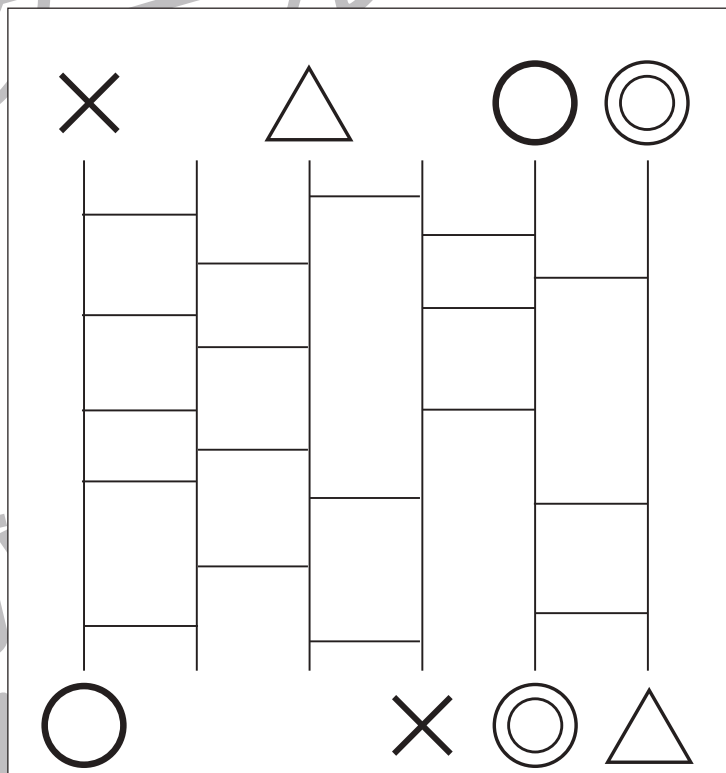
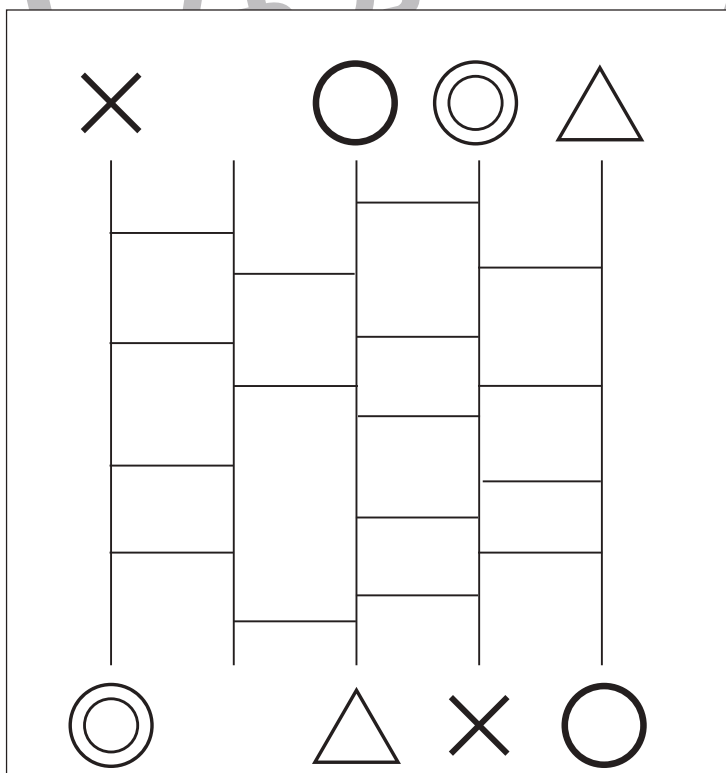
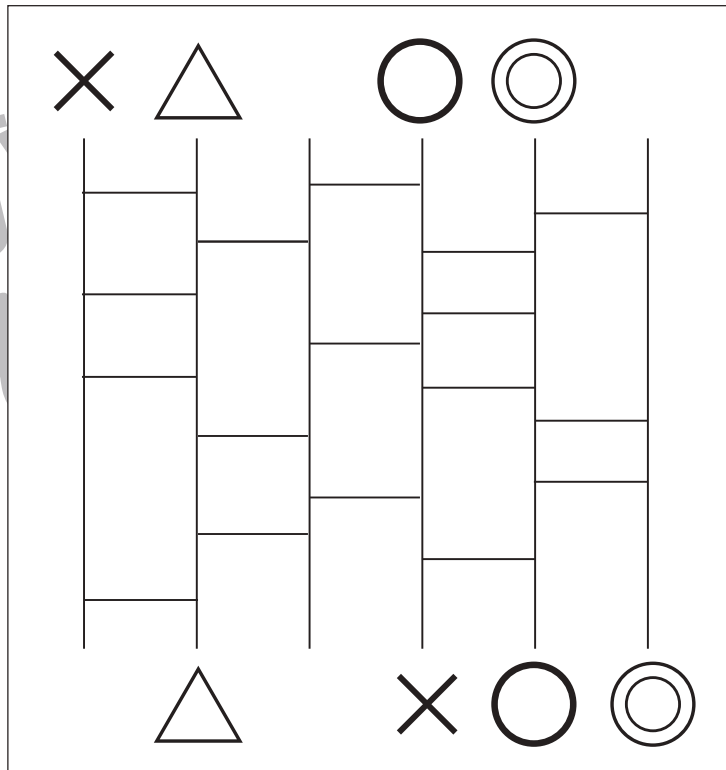
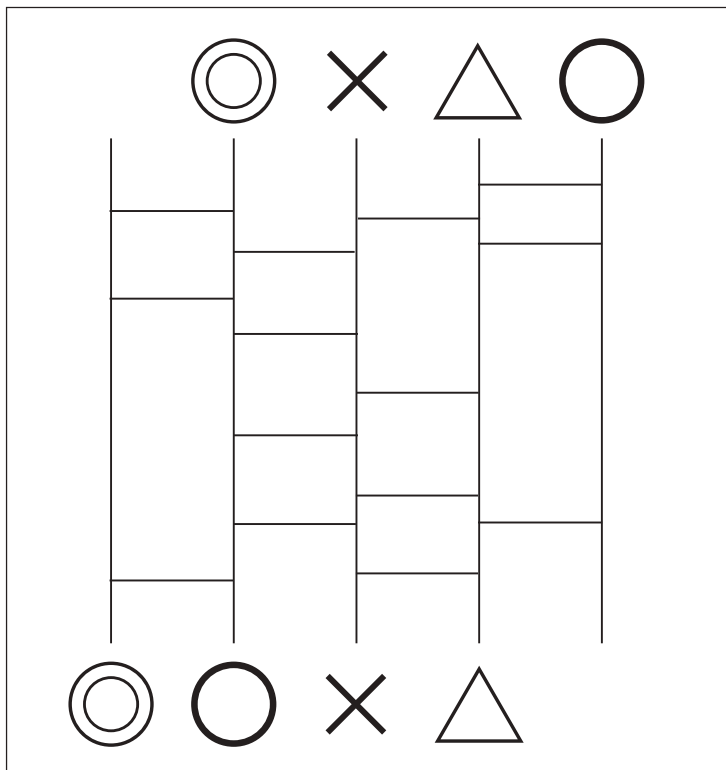
おうちで、やろう。

Study at home. 小学校受験の家庭学習教材

推理：あみだくじ

○、×、△、◎からあみだくじで進み、それぞれの記号がついた場所にそれぞれの記号をかきます。

※あみだくじのルール：①上から下へ進みます。道は戻ってはいけません。②途中で曲がり角があったら必ず曲がります。



※1. このプリントは、しながわ・目黒こどもスクールのウェブサイトでダウンロードができます。無断複写・引用はご遠慮ください。

※2. このプリントを活用したオンライン授業のスケジュールは、しながわ・目黒こどもスクールのウェブサイトでご確認ください。



おうちで、やろう。

Study at home. 小学校受験の家庭学習教材

数量：条件推理 13

左の四角の中の数だけおはじきを持っています。持っているおはじきのうちいくつかのおはじきを手で隠した様子が真ん中の四角です。このとき、手で隠している白いおはじきの数を考えてその数だけ右の四角に○をかきます。

		 $\bigcirc \times 2$
		 $\bigcirc \times 1$
		 $\bigcirc \times 3$
		 $\bigcirc \times 2$
		 $\bigcirc \times 2$

※1. このプリントは、しながわ・目黒こどもスクールのウェブサイトからダウンロードができます。無断複写・引用はご遠慮ください。

※2. このプリントを活用したオンライン授業のスケジュールは、しながわ・目黒こどもスクールのウェブサイトでご確認ください。



おうちで、やろう。

Study at home. 小学校受験の家庭学習教材

数量：条件推理 14

左の四角の中の数だけおはじきを持っています。持っているおはじきのうちいくつかのおはじきを手で隠した様子が真ん中の四角です。このとき、手で隠している白いおはじきの数を考えてその数だけ右の四角に○をかきます。

		 $\bigcirc \times 3$
		 $\bigcirc \times 1$
		 $\bigcirc \times 3$
		 $\bigcirc \times 3$
		 $\bigcirc \times 2$

※1. このプリントは、しながわ・目黒こどもスクールのウェブサイトからダウンロードできます。無断複写・引用はご遠慮ください。

※2. このプリントを活用したオンライン授業のスケジュールは、しながわ・目黒こどもスクールのウェブサイトでご確認ください。





おうちで、やろう。


Study at home. 小学校受験の家庭学習教材


数量：条件推理 15


左の四角の中の数だけおはじきを持っています。持っているおはじきのうちいくつかのおはじきを手で隠した様子が真ん中の四角です。このとき、手で隠している白いおはじきの数を考えてその数だけ右の四角に○をかきます。

		 $\bigcirc \times 3$
--	--	--

		 $\bigcirc \times 5$
--	--	--

		 $\bigcirc \times 4$
--	--	--

		 $\bigcirc \times 6$
--	--	--

		 $\bigcirc \times 5$
--	--	--

※1. このプリントは、しながわ・目黒こどもスクールのウェブサイトでダウンロードができます。無断複写・引用はご遠慮ください。

※2. このプリントを活用したオンライン授業のスケジュールは、しながわ・目黒こどもスクールのウェブサイトでご確認ください。

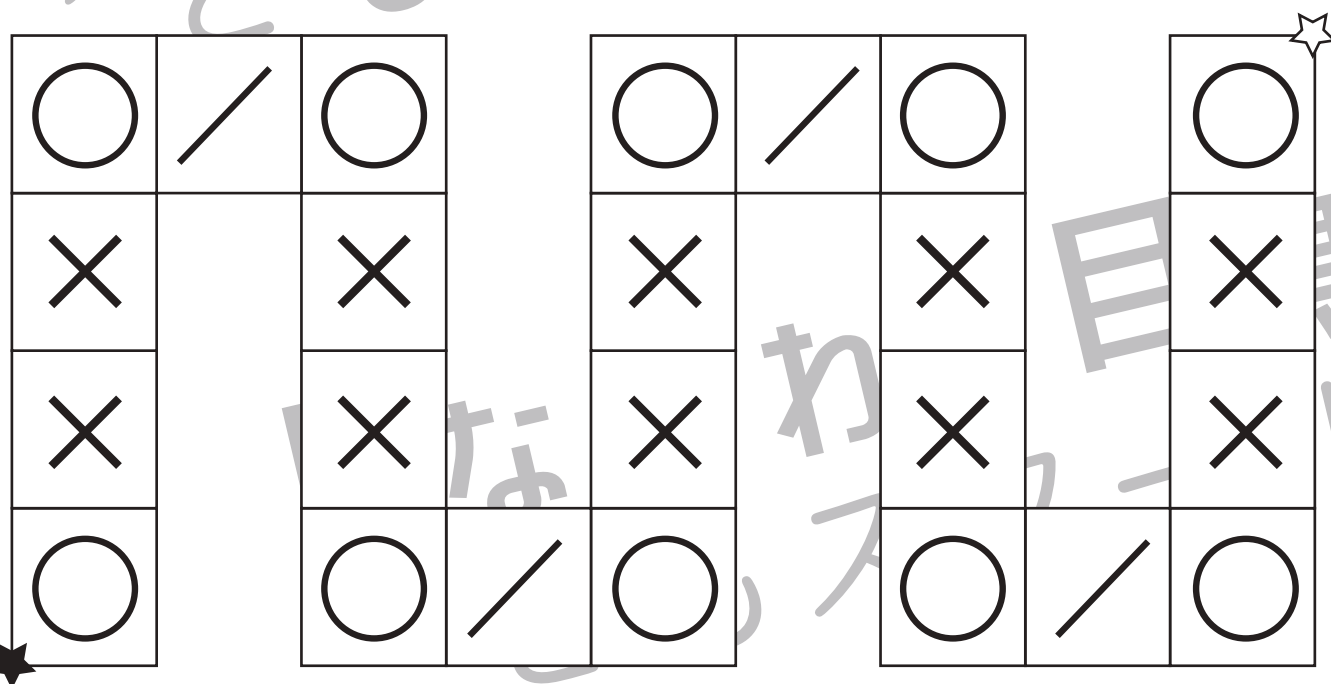
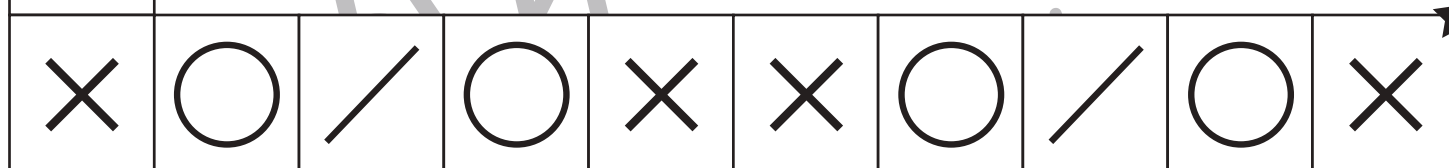
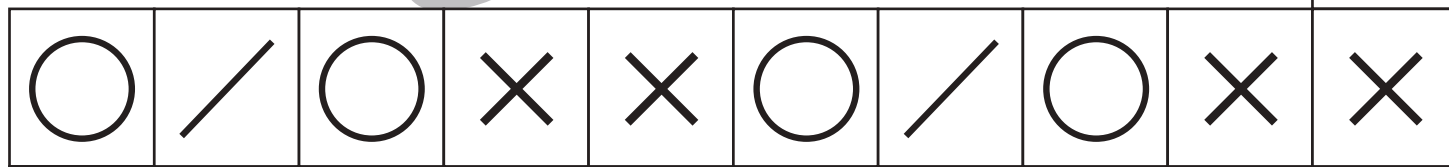




おうちで、やろう。

Study at home. 小学校受験の家庭学習教材

処理：系列完成 7

上の太い四角の中がお手本です。お手本の順番で☆から★まで記号をかきます。灰色の記号はなぞってから先に進みましょう。



※1. このプリントは、しながわ・目黒こどもスクールのウェブサイトでダウンロードができます。無断複写・引用はご遠慮ください。
 ※2. このプリントを活用したオンライン授業のスケジュールは、しながわ・目黒こどもスクールのウェブサイトでご確認ください。