



おうちで、やろう。

Study at home. 小学校受験の家庭学習教材

図形：折り重ね 26

左の四角を真ん中の太い線で矢印の方向へ折り重ねたとき、隠れてしまう○を考えて右のマスに○をかきます。

Diagram illustrating a paper-folding exercise. Each row shows a 2x4 grid of squares. A vertical line is drawn between the second and third squares. An arrow points to the right, indicating the fold direction. The left side of the grid is shaded black in various patterns. The right side contains circles (○) in the top-right and bottom-right squares. The goal is to predict the positions of the circles after the fold.

Row 1: Top-left square shaded. Circles in top-right and bottom-right squares.

Row 2: Bottom-left square shaded. Circles in top-right and bottom-right squares.

Row 3: Top-left and bottom-left squares shaded. Circles in top-right and bottom-right squares.

Row 4: Top-right and bottom-right squares shaded. Circles in top-right and bottom-right squares.

Row 5: Top-left, top-right, and bottom-left squares shaded. Circles in top-right and bottom-right squares.

Row 6: Top-left, top-right, and bottom-left squares shaded. Circles in top-right and bottom-right squares.

※1. このプリントは、しながわ・目黒こどもスクールのウェブサイトでダウンロードができます。無断複写・引用はご遠慮ください。

※2. このプリントを活用したオンライン授業のスケジュールは、しながわ・目黒こどもスクールのウェブサイトでご確認ください。



おうちで、よろう。

Study at home. 小学校受験の家庭学習教材

図形：折り重ね 27

左の四角を真ん中の太い線で矢印の方向へ折り重ねたとき、隠れてしまう○を考えて右のマスに○をかきます。

Figure 27 consists of 12 pairs of 3x3 grids. Each pair shows a 3x3 grid with a vertical fold line in the second column. The left side of the grid is shaded black. An arrow points to the right, indicating the fold. To the right of the fold line is a 3x3 grid containing circles (○) in the rightmost column. The task is to determine which circles will be hidden when the left side is folded over the right side, and to draw the remaining visible circles in the empty 3x3 grid on the right.

■	■	○	○	○			
■	■	○	○	○			
■	■	○	○	○			

○	○	○			
○	○	○			
○	○	○			

※1. このプリントは、しながわ・目黒こどもスクールのウェブサイトでダウンロードができます。無断複写・引用はご遠慮ください。
※2. このプリントを活用したオンライン授業のスケジュールは、しながわ・目黒こどもスクールのウェブサイトでご確認ください。



おうちで、やろう。

Study at home. 小学校受験の家庭学習教材

図形：折り重ね 28

左の四角を真ん中の太い線で矢印の方向へ折り重ねたとき、隠れてしまう○を考えて右のマスに○をかきます。

Figure 28 consists of 12 pairs of 4x4 grids. Each pair shows a grid with a pattern of black squares and white squares containing circles. A vertical line is drawn through the middle of the grid, and an arrow indicates that the left half is folded to the right. The second grid in each pair is a blank 4x4 grid where the circles from the first grid are to be drawn in their new positions after folding.

The 12 pairs are arranged in a 6x2 grid. The patterns of black squares and circles in the first grid of each pair are as follows:

- Pair 1: Black squares at (1,1), (1,2), (2,2), (2,3), (3,3), (3,4). Circles at (1,3), (1,4), (2,3), (2,4), (3,3), (3,4), (4,3), (4,4).
- Pair 2: Black squares at (1,2), (1,3), (2,3), (2,4), (3,4), (4,1), (4,2). Circles at (1,3), (1,4), (2,3), (2,4), (3,3), (3,4), (4,3), (4,4).
- Pair 3: Black squares at (1,3), (1,4), (2,4), (3,1), (3,2), (4,1), (4,2). Circles at (1,3), (1,4), (2,3), (2,4), (3,3), (3,4), (4,3), (4,4).
- Pair 4: Black squares at (1,2), (1,3), (2,3), (2,4), (3,4), (4,1), (4,2). Circles at (1,3), (1,4), (2,3), (2,4), (3,3), (3,4), (4,3), (4,4).
- Pair 5: Black squares at (1,1), (1,2), (2,2), (2,3), (3,3), (3,4). Circles at (1,3), (1,4), (2,3), (2,4), (3,3), (3,4), (4,3), (4,4).
- Pair 6: Black squares at (1,1), (1,2), (2,2), (2,3), (3,3), (3,4). Circles at (1,3), (1,4), (2,3), (2,4), (3,3), (3,4), (4,3), (4,4).

※1. このプリントは、しながわ・目黒こどもスクールのウェブサイトでダウンロードができます。無断複写・引用はご遠慮ください。

※2. このプリントを活用したオンライン授業のスケジュールは、しながわ・目黒こどもスクールのウェブサイトでご確認ください。



おうちで、やろう。

Study at home. 小学校受験の家庭学習教材

推理：積み木 19

左の四角の中の2種類の積み木の数をかそえます。

この2種類の積み木の数の違いを考えてその数だけ一番右の四角に○をかきます。

--	--	--

--	--	--

--	--	--

--	--	--

--	--	--

※1. このプリントは、しながわ・目黒こどもスクールのウェブサイトからダウンロードできます。無断複写・引用はご遠慮ください。

※2. このプリントを活用したオンライン授業のスケジュールは、しながわ・目黒こどもスクールのウェブサイトでご確認ください。



おうちで、やろう。

Study at home. 小学校受験の家庭学習教材

推理：積み木 20

左の四角の中の2種類の積み木の数をかぞえます。

この2種類の積み木の数の違いを考えてその数だけ一番右の四角に○をかきます。

--	--

--	--

--	--

--	--

--	--

※1. このプリントは、しながわ・目黒こどもスクールのウェブサイトでダウンロードができます。無断複写・引用はご遠慮ください。

※2. このプリントを活用したオンライン授業のスケジュールは、しながわ・目黒こどもスクールのウェブサイトでご確認ください。



おうちで、やろう。

Study at home. 小学校受験の家庭学習教材

推理：積み木 21

左の四角の中の2種類の積み木の数をかぞえます。

この2種類の積み木の数の違いを考えてその数だけ一番右の四角に○をかきます。

--	--

--	--

--	--

--	--

--	--

※1. このプリントは、しながわ・目黒こどもスクールのウェブサイトからダウンロードできます。無断複写・引用はご遠慮ください。

※2. このプリントを活用したオンライン授業のスケジュールは、しながわ・目黒こどもスクールのウェブサイトでご確認ください。

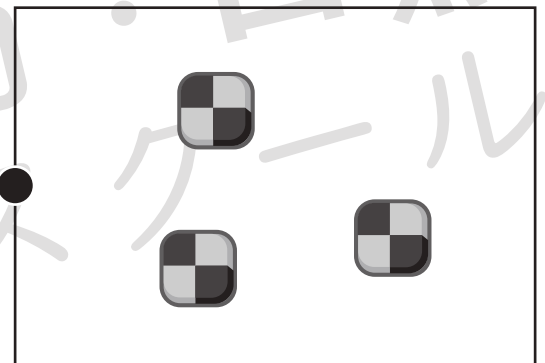
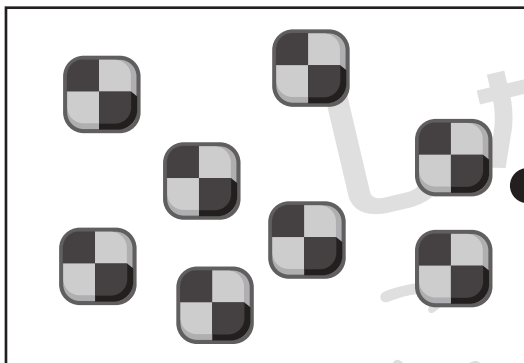



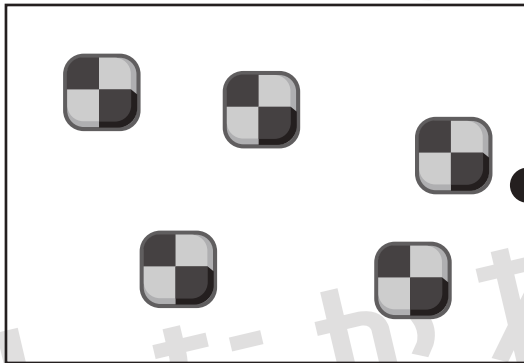

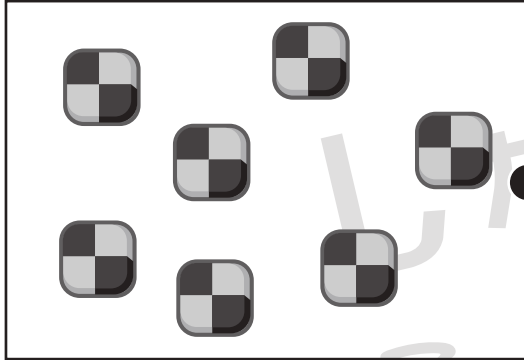


おうちで、やろう。

Study at home. 小学校受験の家庭学習教材

数量：加減 28

左の四角の中のクッキーをウサギさんが2枚ずつ食べてしまいました。ウサギさんが食べた後、残ったクッキーは何枚ですか。右の四角から選んで点と点を線で結びます。



※1. このプリントは、しながわ・目黒こどもスクールのウェブサイトでダウンロードができます。無断複写・引用はご遠慮ください。
※2. このプリントを活用したオンライン授業のスケジュールは、しながわ・目黒こどもスクールのウェブサイトでご確認ください。



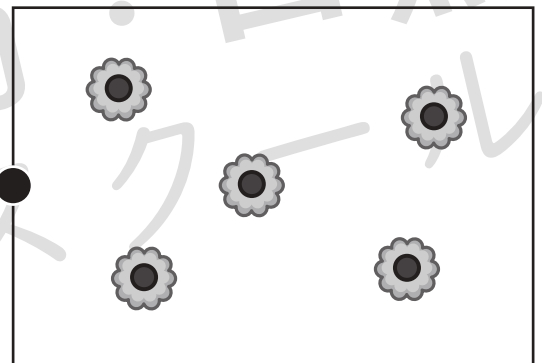
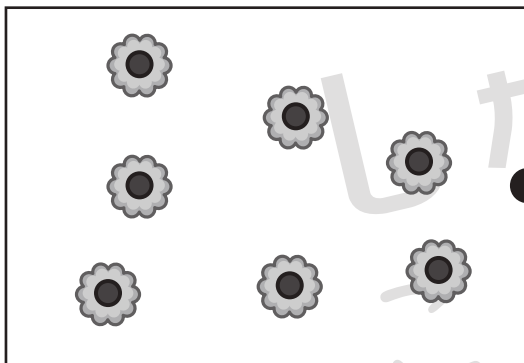


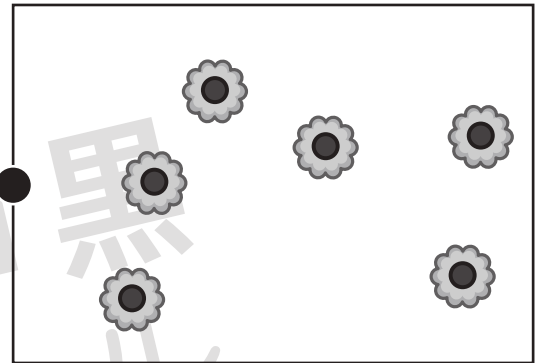
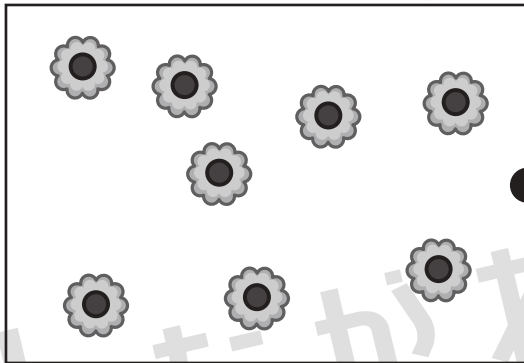
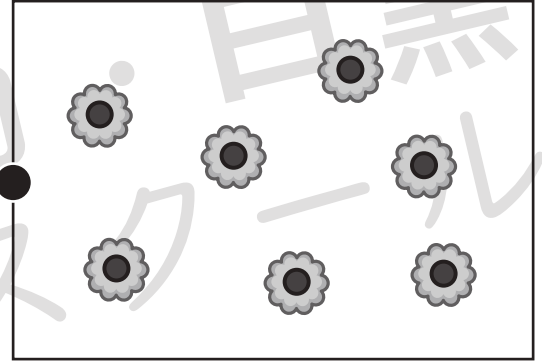



おうちで、やろう。

Study at home. 小学校受験の家庭学習教材

数量：加減 29

左の四角の中のクッキーをウサギさんが3枚ずつ食べてしまいました。ウサギさんが食べた後、残ったクッキーは何枚ですか。右の四角から選んで点と点を線で結びます。



※1. このプリントは、しながわ・目黒こどもスクールのウェブサイトでダウンロードができます。無断複写・引用はご遠慮ください。

※2. このプリントを活用したオンライン授業のスケジュールは、しながわ・目黒こどもスクールのウェブサイトでご確認ください。







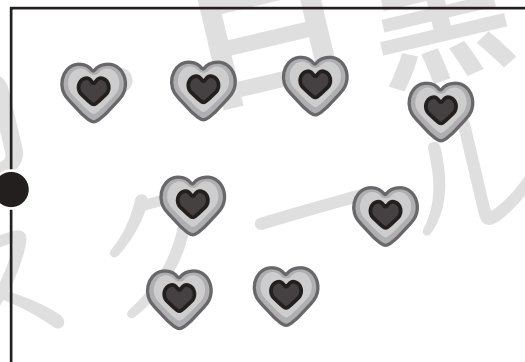



おうちで、やろう。

Study at home. 小学校受験の家庭学習教材

数量：加減 30

左の四角の中のクッキーをウサギさんが4枚ずつ食べてしまいました。ウサギさんが食べた後、残ったクッキーは何枚ですか。右の四角から選んで点と点を線で結びます。



※1. このプリントは、しながわ・目黒こどもスクールのウェブサイトでダウンロードができます。無断複写・引用はご遠慮ください。
※2. このプリントを活用したオンライン授業のスケジュールは、しながわ・目黒こどもスクールのウェブサイトでご確認ください。




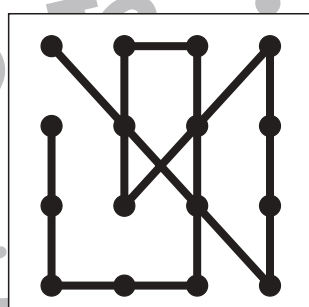

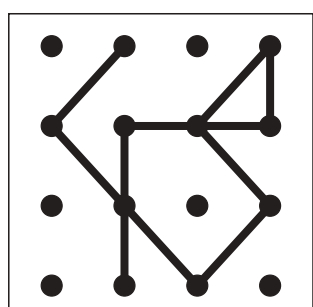

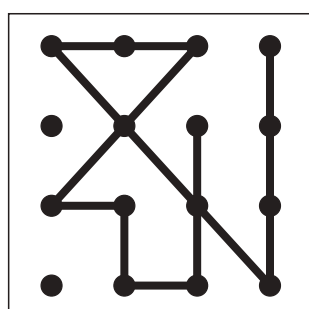

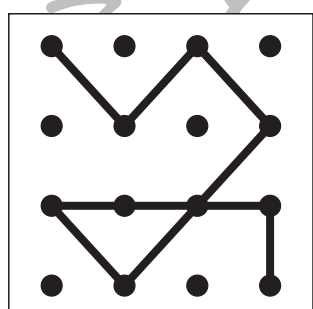

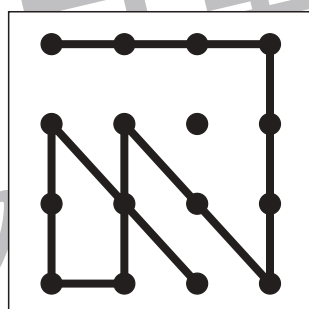

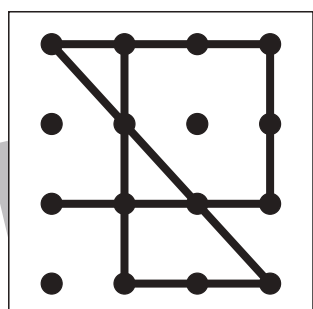

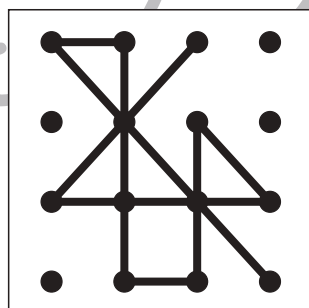

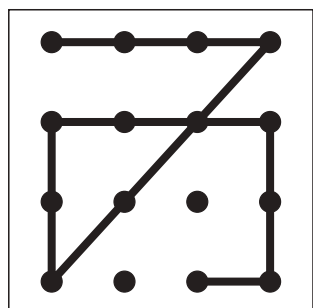

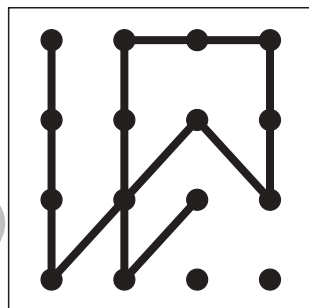

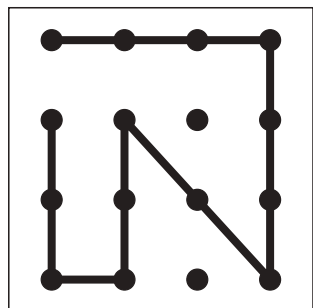


おうちで、よろう。

Study at home. 小学校受験の家庭学習教材

図形：点図形 45

左のお手本と同じになるように右の四角に線をかきます。 ※このプリントに解答はありません。



※1. このプリントは、しながわ・目黒こどもスクールのウェブサイトでダウンロードができます。無断複写・引用はご遠慮ください。
※2. このプリントを活用したオンライン授業のスケジュールは、しながわ・目黒こどもスクールのウェブサイトでご確認ください。

