



おうちで、やろう。


Study at home. 小学校受験の家庭学習教材

言語：しりとり 12


訂正版

それぞれの四角の中の絵をつかってしりとりでつなげます。
このとき使わない絵を1つ見つけてその絵に×をつけます。

はと→とんぼ→ぼうし→しまうま→まらかす




ぶた→たつのおとしご→ごりら→らくだ→だんごむし



めがね→ねこ→こうもり→りす→すずめ



しか→かさ→さんま→まんぼう→うさぎ



※1. このプリントは、しながわ・目黒こどもスクールのウェブサイトでダウンロードができます。無断複写・引用はご遠慮ください。

※2. このプリントを活用したオンライン授業のスケジュールは、しながわ・目黒こどもスクールのウェブサイトでご確認ください。





おうちで、やろう。

Study at home. 小学校受験の家庭学習教材

言語：しりとり 13

訂正版

それぞれの四角の中の絵をつかってしりとりでつなげます。
このとき使わない絵を1つ見つけてその絵に×をつけます。

ふくろう→うし→しか→からす→すいか

きく→くじゃく→くま→まないた→たこ

けんだま→まんぼう→うきわ→わし→しまうま

かめ→めだか→かまきり→りす→すずめ

※1. このプリントは、しながわ・目黒こどもスクールのウェブサイトでダウンロードができます。無断複写・引用はご遠慮ください。
 ※2. このプリントを活用したオンライン授業のスケジュールは、しながわ・目黒こどもスクールのウェブサイトでご確認ください。



おうちで、やろう。

Study at home. 小学校受験の家庭学習教材

図形：折り重ね 29

太い線で矢印の方向へ折り重ねた時の見え方を考えます。

答えはすぐ右の空いている四角にかきます。もし間違えてしまったら、一番右の四角にかきなおしましょう。

①

●					○	
		○				●
		○			○	

	○	●
●		
○	○	

②

		●				○
		○			●	
○					○	

●		
○		●
	○	○

③

		○				○
		●	○		●	
●				○	○	

○		
●	●	
	○	●

④

		○		○	●		○
	●			○	○		
●						○	

○		●
	●	○
	○	●

※1. このプリントは、しながわ・目黒こどもスクールのウェブサイトでダウンロードができます。無断複写・引用はご遠慮ください。

※2. このプリントを活用したオンライン授業のスケジュールは、しながわ・目黒こどもスクールのウェブサイトでご確認ください。



おうちで、やろう。

Study at home. 小学校受験の家庭学習教材

図形：折り重ね 30

太い線で矢印の方向へ折り重ねた時の見え方を考えます。

答えはすぐ右の空いている四角にかきます。もし間違えてしまったら、一番右の四角にかきなおしましょう。

①

●		△				○		
○								●
						○		

△		●						
●						○		
						○		

②

		●				○	△	
	△	○						
○						○	●	

●	△	○						
○	△							
●	○	○						

③

△				○				○
		○		△		△		●
○					○		○	

○	○	△						
●	△	△						
	○	○						

④

	○				○		●	
	○	△				△		
●				○	○		●	○

	●	○						
△	○	△						
○	●	●						

※1. このプリントは、しながわ・目黒こどもスクールのウェブサイトでダウンロードができます。無断複写・引用はご遠慮ください。

※2. このプリントを活用したオンライン授業のスケジュールは、しながわ・目黒こどもスクールのウェブサイトでご確認ください。



おうちで、やろう。

Study at home. 小学校受験の家庭学習教材

図形：折り重ね 31

太い線で矢印の方向へ折り重ねた時の見え方を考えます。

答えはすぐ右の空いている四角にかきます。もし間違えてしまったら、一番右の四角にかきなおしましょう。

①

●						○
		△				●
○					○	

○		●
△	●	
		○

②

○						○		△
△		○				○		
		●						○

△		○
○	○	△
●		

③

	△		○					●
	○					△		
		●		△	○	●		○

●	△	
	○	△
●	△	●

④

	○		○					●
○			○			△		○
●		△		○		○		

●	○	
○	△	○
△	○	●

※1. このプリントは、しながわ・目黒こどもスクールのウェブサイトでダウンロードができます。無断複写・引用はご遠慮ください。

※2. このプリントを活用したオンライン授業のスケジュールは、しながわ・目黒こどもスクールのウェブサイトでご確認ください。

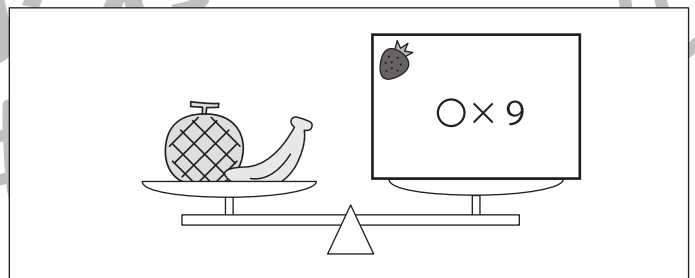



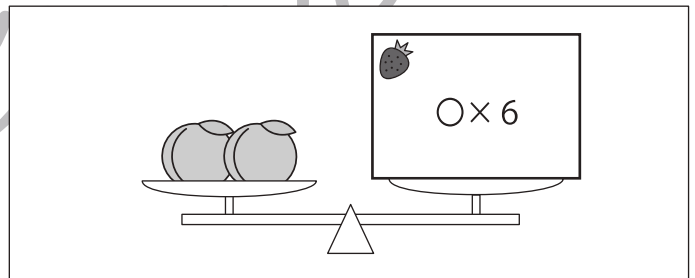

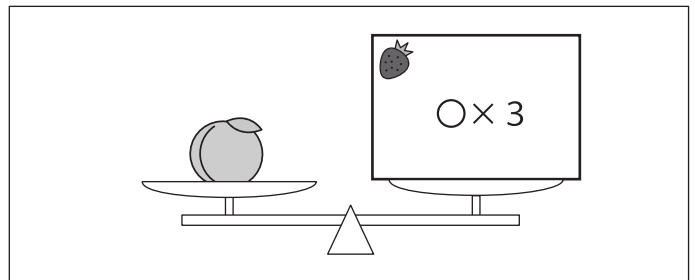





おうちで、やろう。

Study at home. 小学校受験の家庭学習教材

推理：重さの置き換え9

天秤に果物をのせて重さ比べをしました。上の太い四角の中が約束です。この約束のとき、それぞれの天秤の右側にある果物をいくつかのせればつり合いますか。のせる果物の数だけ四角の中に○をかきます。



※1. このプリントは、しながわ・目黒こどもスクールのウェブサイトでダウンロードができます。無断複写・引用はご遠慮ください。

※2. このプリントを活用したオンライン授業のスケジュールは、しながわ・目黒こどもスクールのウェブサイトでご確認ください。



おうちで、やろう。

Study at home. 小学校受験の家庭学習教材

数量：条件推理 16

それぞれの電車には左の四角の中に書いてある○の数だけ人が乗っています。電車の上書いてある印は×は1人降りたこと、○は1人乗ったことを表しています。最後に電車に乗っている人が何人だったか考えて右の四角にその数だけ△をかきます。

○ ○ ○ ○

○

○ × ×

△ △ △ △

○ ○

○ ○ ×

△ △ △

○ ○ ○ ○

○ ○ ○

× × ×

△ △ △ △

○ ○ ○ ○

○ ○ ○ ○

○ ○ ○

○ × ×

△ △ △ △

△ △ △ △

△ △

※1. このプリントは、しながわ・目黒こどもスクールのウェブサイトでダウンロードができます。無断複写・引用はご遠慮ください。
 ※2. このプリントを活用したオンライン授業のスケジュールは、しながわ・目黒こどもスクールのウェブサイトでご確認ください。



おうちで、やろう。

Study at home. 小学校受験の家庭学習教材

数量：条件推理 17

それぞれの電車には左の四角の中に書いてある○の数だけ人が乗っています。電車の上書いてある印は×は1人降りたこと、○は1人乗ったことを表しています。最後に電車に乗っている人が何人だったか考えて右の四角にその数だけ△をかきます。

○ ○ ○ ○

○ ○ ○

○ × × ×

△ △ △ △

△

○ ○ ○ ○

○ ○ ○ ×

○ ○ ○ ×

△ △ △ △

△ △

○ ○ ○ ○

○ ○ ○ ○

× ○ ○ ×

△ △ △ △

△ △ △ △

○ ○ ○ ○

○ ○ ○ ○

○ ○ ○ ○

○ ○ ○ ×

△ △ △ △

△ △ △ △

△ △ △

※1. このプリントは、しながわ・目黒こどもスクールのウェブサイトでダウンロードができます。無断複写・引用はご遠慮ください。
 ※2. このプリントを活用したオンライン授業のスケジュールは、しながわ・目黒こどもスクールのウェブサイトでご確認ください。



おうちで、やろう。

Study at home. 小学校受験の家庭学習教材

数量：条件推理 18

それぞれの電車には左の四角の中に書いてある○の数だけ人が乗っています。電車の上書いてある印は×は1人降りたこと、○は1人乗ったことを表しています。最後に電車に乗っている人が何人だったか考えて右の四角にその数だけ△をかきます。

○ ○ ○ ○

○ ○ ○ ○

○ × ○ ○ ×

△ △ △ △

△ △ △ △

△

○

○ ○ ○ ○ ×

△ △ △ △

○ ○ ○ ○

○ ○ ○ ○

○ ○ ○

× × ○ × ○ ×

△ △ △ △

△ △ △ △

△

○ ○ ○ ○

○ ○ ○ ○

○ × ○ ○ × ×

△ △ △ △

△ △ △ △

※1. このプリントは、しながわ・目黒こどもスクールのウェブサイトでダウンロードができます。無断複写・引用はご遠慮ください。
 ※2. このプリントを活用したオンライン授業のスケジュールは、しながわ・目黒こどもスクールのウェブサイトでご確認ください。