



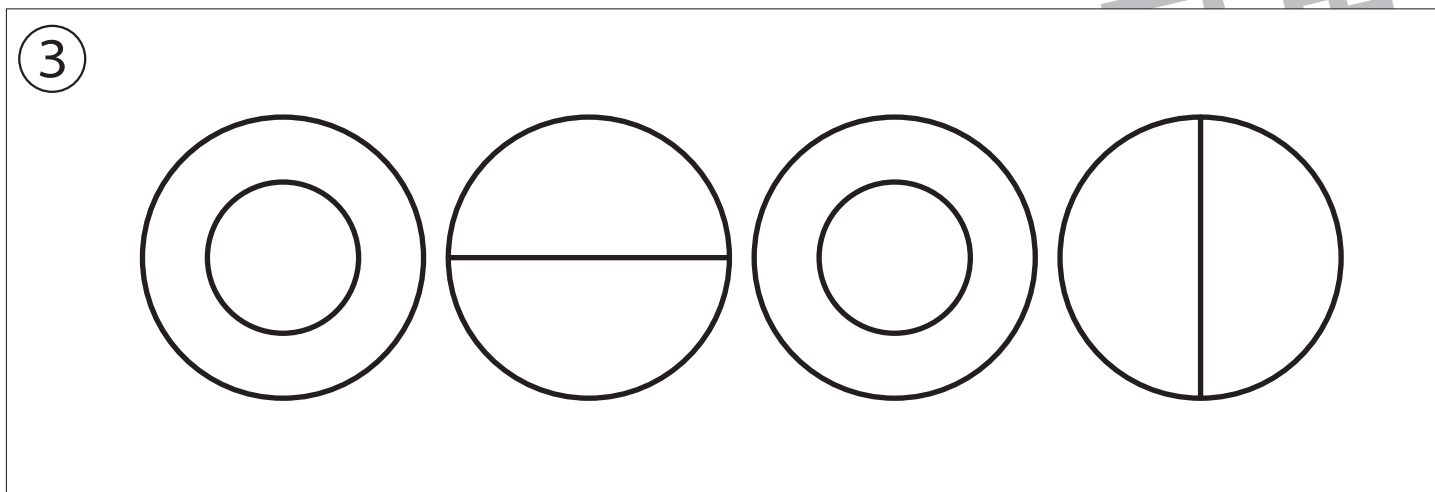
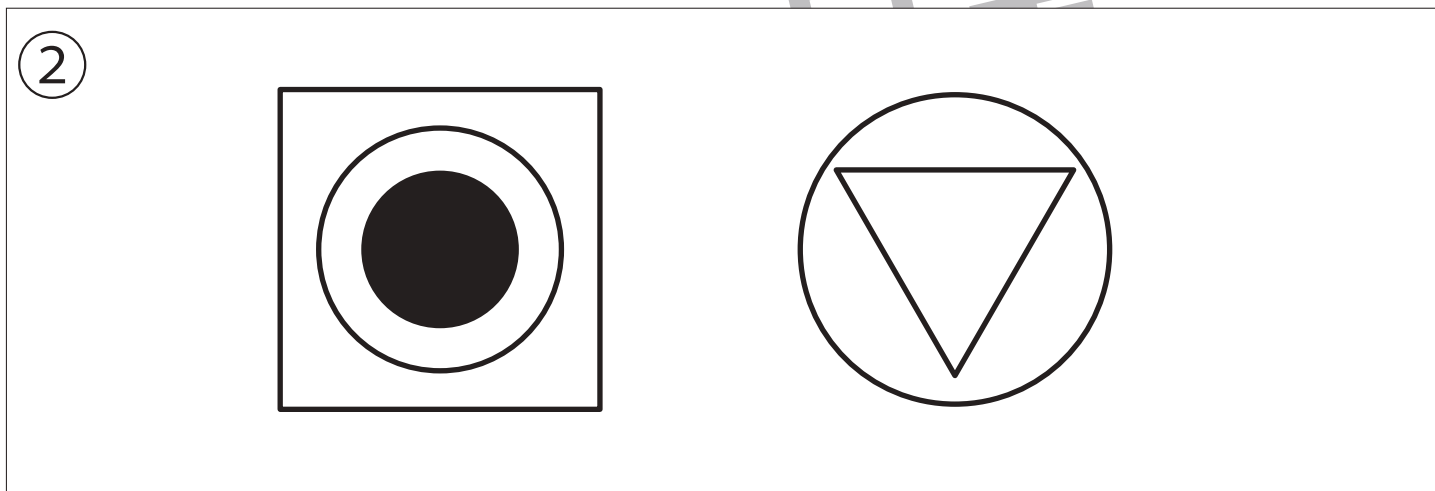
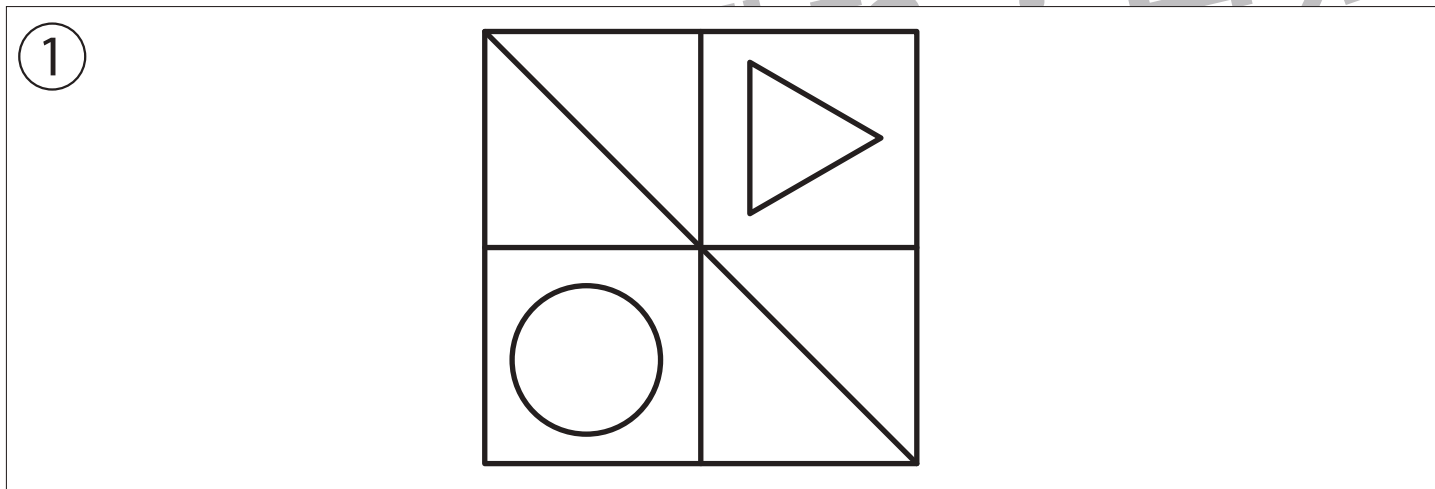
おうちで、やろう。

Study at home. 小学校受験の家庭学習教材

記憶：絵の記憶9 記憶用紙

別紙『記憶 - 絵の記憶9』を行う際に使用します。記憶用紙は点線で折って（切って）から①、②、③の問題をそれぞれ20秒間ずつ記憶させてください。その後、記憶したものと同じ形をかきます。問題用紙は表のままです。

※6月28日（月）のオンライン授業では実施中に記憶する絵を画面で表示します。



※1. このプリントは、しながわ・目黒こどもスクールのウェブサイトでダウンロードができます。無断複写・引用はご遠慮ください。

※2. このプリントを活用したオンライン授業のスケジュールは、しながわ・目黒こどもスクールのウェブサイトでご確認ください。



おうちで、やろう。

Study at home. 小学校受験の家庭学習教材

記憶：絵の記憶9

別紙『記憶 - 絵の記憶9記憶用紙』を使用します。記憶用紙の絵を見た後に①、②、③の問題に取り組みましょう。

①

②

③

※1. このプリントは、しながわ・目黒こどもスクールのウェブサイトからダウンロードできます。無断複写・引用はご遠慮ください。

※2. このプリントを活用したオンライン授業のスケジュールは、しながわ・目黒こどもスクールのウェブサイトでご確認ください。

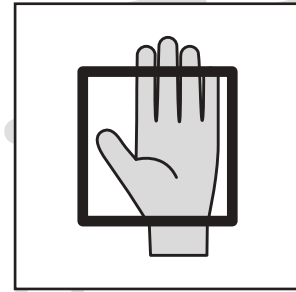




おうちで、やろう。

Study at home. 小学校受験の家庭学習教材

常識：生活 12

下の四角の中の食べ物を食べる時に使う道具を考えます。箸で食べるものには△、スプーン・フォーク・ナイフで食べるものに○、手で食べるものには口をつけます。



※1. このプリントは、しながわ・目黒こどもスクールのウェブサイトでダウンロードができます。無断複写・引用はご遠慮ください。

※2. このプリントを活用したオンライン授業のスケジュールは、しながわ・目黒こどもスクールのウェブサイトでご確認ください。

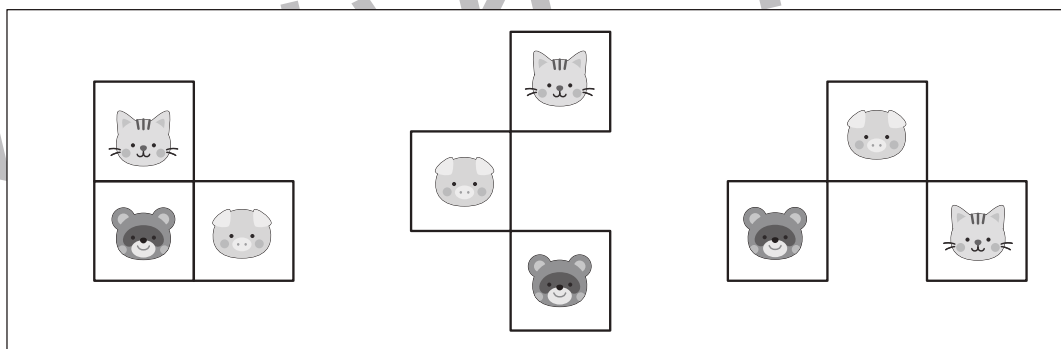
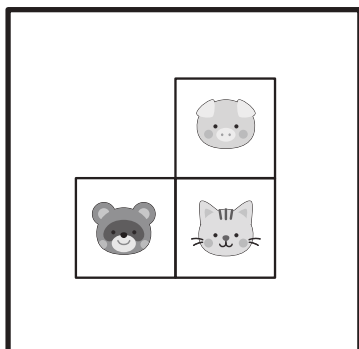


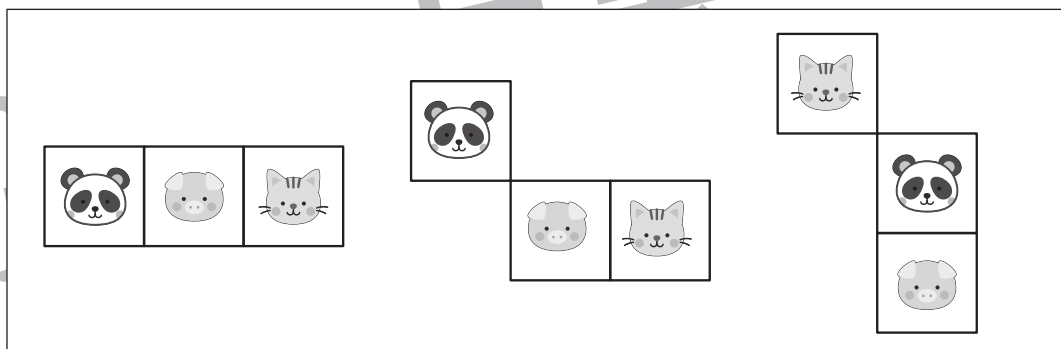
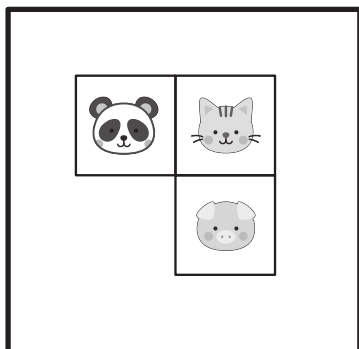
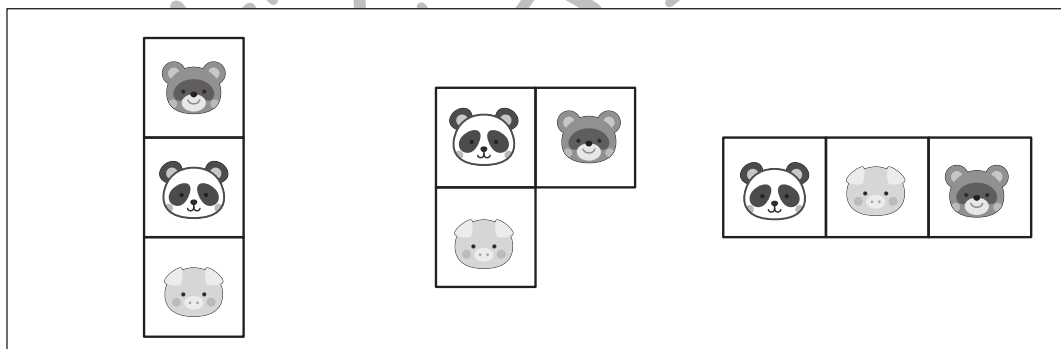
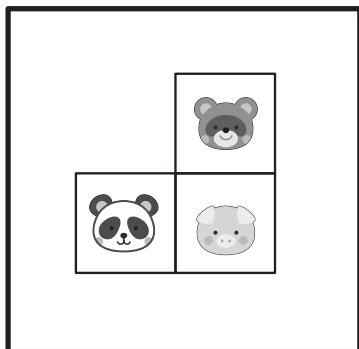




おうちで、やろう。

Study at home. 小学校受験の家庭学習教材

図形：推理 1

左の太い四角の中の形は3つの四角いパズルで作ったお手本です。右の四角の中にはパズルを動かした形が並んでいます。この中でお手本のパズルを1つだけ動かしてできる形を見つけて○をつけます。



※1. このプリントは、しながわ・目黒こどもスクールのウェブサイトからダウンロードできます。無断複写・引用はご遠慮ください。
※2. このプリントを活用したオンライン授業のスケジュールは、しながわ・目黒こどもスクールのウェブサイトでご確認ください。




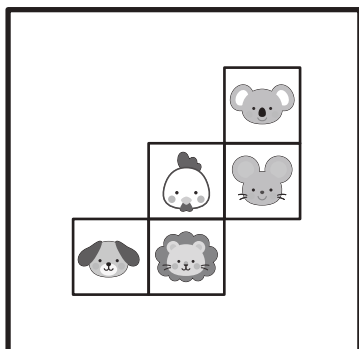






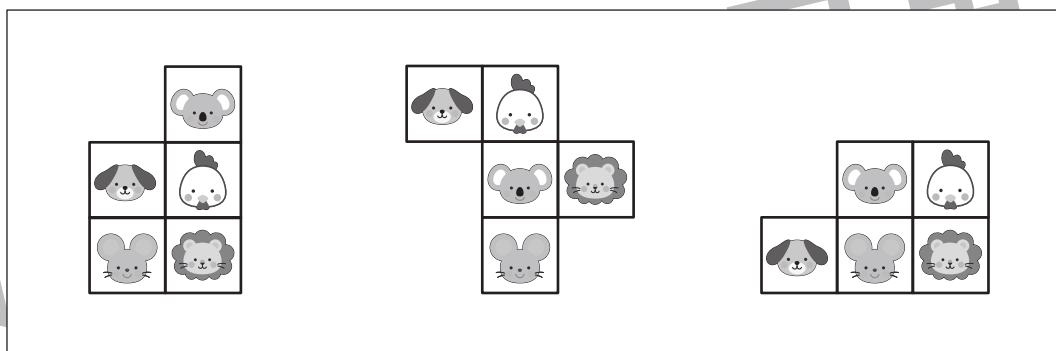



おうちで、やろう。

Study at home. 小学校受験の家庭学習教材

図形：推理 2

左の太い四角の中の形はいくつかの四角いパズルで作ったお手本です。右の四角の中にはパズルを動かした形が並んでいます。この中でお手本のパズルを1つだけ動かしてできる形を見つけて○をつけます。



※1. このプリントは、しながわ・目黒こどもスクールのウェブサイトからダウンロードできます。無断複写・引用はご遠慮ください。
※2. このプリントを活用したオンライン授業のスケジュールは、しながわ・目黒こどもスクールのウェブサイトでご確認ください。





おうちで、やろう。

Study at home. 小学校受験の家庭学習教材

推理：系列完成 22

サイコロがある決まりに従って並んでいます。記号のついている四角に入るサイコロの目の数を考えて、下の四角から選びそれぞれの記号をかきます。

※1. このプリントは、しながわ・目黒こどもスクールのウェブサイトでダウンロードができます。無断複写・引用はご遠慮ください。
 ※2. このプリントを活用したオンライン授業のスケジュールは、しながわ・目黒こどもスクールのウェブサイトでご確認ください。



おうちで、よろう。

Study at home. 小学校受験の家庭学習教材

推理：系列完成 23

サイコロがある決まりに従って並んでいます。記号のついている四角に入るサイコロの目の数を考えて、下の四角から選びそれぞれの記号をかきます。

※1. このプリントは、しながわ・目黒こどもスクールのウェブサイトでダウンロードができます。無断複写・引用はご遠慮ください。

※2. このプリントを活用したオンライン授業のスケジュールは、しながわ・目黒こどもスクールのウェブサイトでご確認ください。



おうちで、やろう。

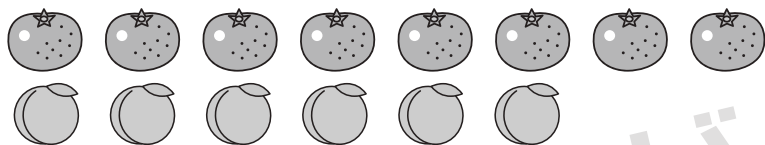
Study at home. 小学校受験の家庭学習教材

数量：足りない数 12

上にあるみかんとももがお手本の数です。

横に3つ並んだ四角の中のみかんとももを合わせるとお手本の数になりますが一番右の四角の中には何もありません。

足りない数だけそれぞれの果物の四角に○をかきます。2つの四角でお手本の数になっているときは右の四角には何も描きません。



※1. このプリントは、しながわ・目黒こどもスクールのウェブサイトでダウンロードができます。無断複写・引用はご遠慮ください。

※2. このプリントを活用したオンライン授業のスケジュールは、しながわ・目黒こどもスクールのウェブサイトでご確認ください。



おうちで、やろう。

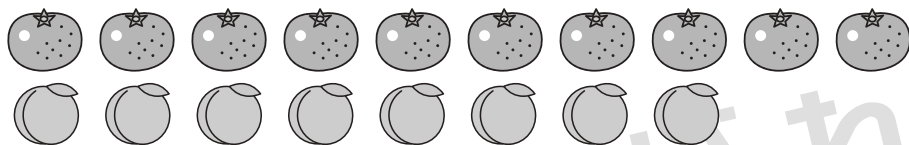
Study at home. 小学校受験の家庭学習教材

数量：足りない数 13

上にあるみかんとももがお手本の数です。

横に3つ並んだ四角の中のみかんとももを合わせるとお手本の数になりますが一番右の四角の中には何もありません。

足りない数だけそれぞれの果物の四角に○をかきます。2つの四角でお手本の数になっているときは右の四角には何も描きません。



※1. このプリントは、しながわ・目黒こどもスクールのウェブサイトでダウンロードができます。無断複写・引用はご遠慮ください。

※2. このプリントを活用したオンライン授業のスケジュールは、しながわ・目黒こどもスクールのウェブサイトでご確認ください。



おうちで、やろう。

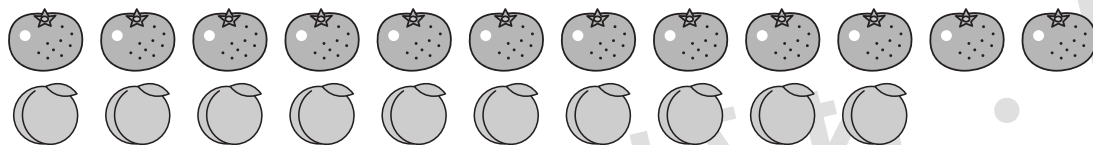
Study at home. 小学校受験の家庭学習教材

数量：足りない数 14

上にあるみかんとももがお手本の数です。

横に3つ並んだ四角の中のみかんとももを合わせるとお手本の数になりますが一番右の四角の中には何もありません。

足りない数だけそれぞれの果物の四角に○をかきます。2つの四角でお手本の数になっているときは右の四角には何も描きません。



※1. このプリントは、しながわ・目黒こどもスクールのウェブサイトでダウンロードができます。無断複写・引用はご遠慮ください。

※2. このプリントを活用したオンライン授業のスケジュールは、しながわ・目黒こどもスクールのウェブサイトでご確認ください。



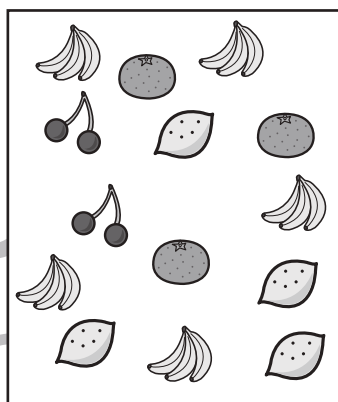













おうちで、やろう。

Study at home. 小学校受験の家庭学習教材

処理：同数 1

左の太い四角にある果物の数と同じ数の果物が入っている四角を右の3つの中から選び○をつけます。
この問題はスピードを意識して取り組む練習をしてみましょう。(1分30秒～2分)



※1. このプリントは、しながわ・目黒こどもスクールのウェブサイトからダウンロードできます。無断複写・引用はご遠慮ください。
※2. このプリントを活用したオンライン授業のスケジュールは、しながわ・目黒こどもスクールのウェブサイトでご確認ください。

