



# おうちで、やろう。

Study at home. 小学校受験の家庭学習教材

図形：マッチ3

四角の中の形をそれぞれの下にあるマッチで作ります。全部で何本あれば上の形ができるのかを考えてその数だけ下の四角の☆を囲みます。

Top: Square shape

Match: 2 sticks

Stars: 15 stars arranged in a 3x5 grid

Top: Vertical rectangle shape

Match: 2 sticks

Stars: 15 stars arranged in a 3x5 grid

Top: Triangle shape

Match: 2 sticks

Stars: 15 stars arranged in a 3x5 grid

Top: Pentagon shape

Match: 1 stick

Stars: 15 stars arranged in a 3x5 grid

Top: Horizontal rectangle shape

Match: 1 stick

Stars: 15 stars arranged in a 3x5 grid

Top: Triangle shape

Match: 1 stick

Stars: 15 stars arranged in a 3x5 grid

※1. このプリントは、しながわ・目黒こどもスクールのウェブサイトでダウンロードができます。無断複写・引用はご遠慮ください。  
 ※2. このプリントを活用したオンライン授業のスケジュールは、しながわ・目黒こどもスクールのウェブサイトでご確認ください。

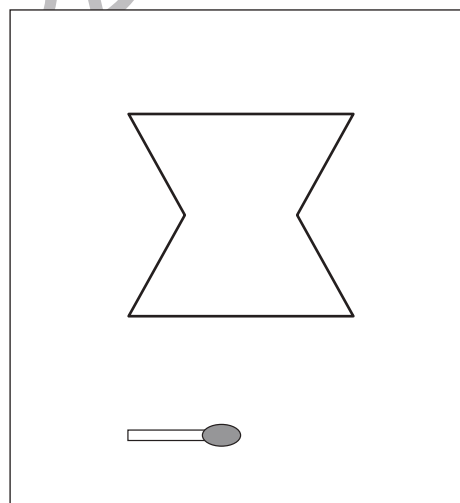
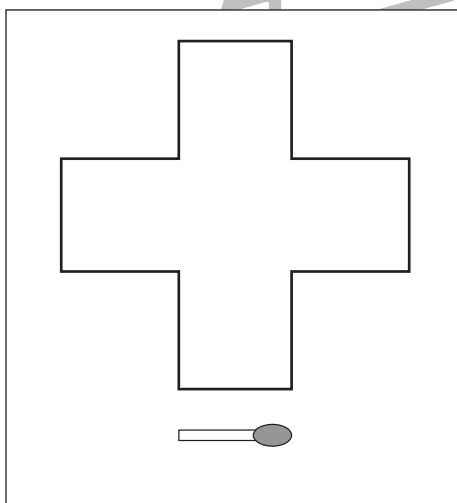
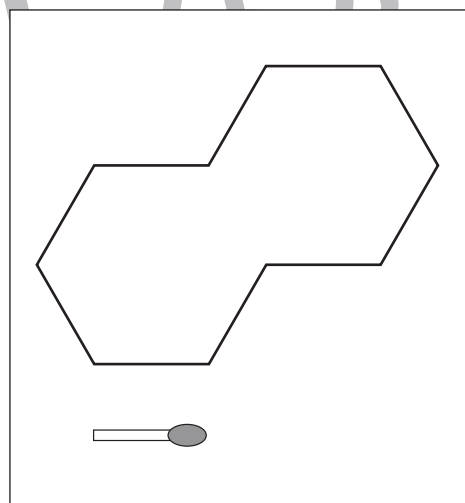

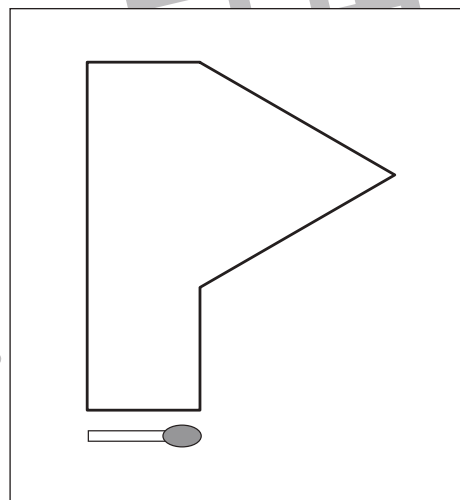
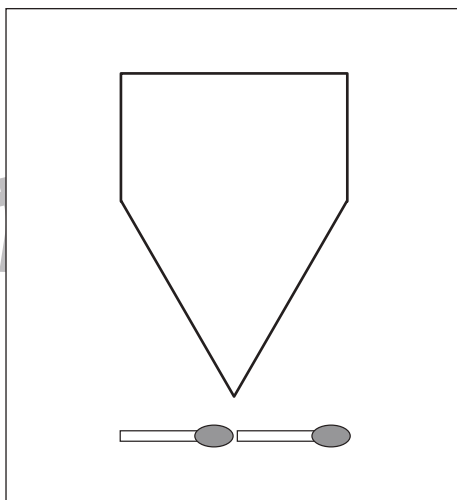
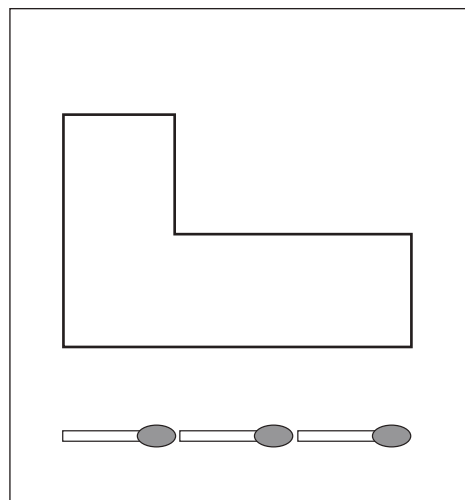


# おうちで、やろう。

Study at home. 小学校受験の家庭学習教材

## 図形：マッチ 4

四角の中の形をそれぞれの下にあるマッチで作ります。全部で何本あれば上の形ができるのかを考えてその数だけ下の四角の☆を囲みます。



※1. このプリントは、しながわ・目黒こどもスクールのウェブサイトでダウンロードができます。無断複写・引用はご遠慮ください。  
※2. このプリントを活用したオンライン授業のスケジュールは、しながわ・目黒こどもスクールのウェブサイトでご確認ください。





# おうちで、やろう。

Study at home. 小学校受験の家庭学習教材

数量：長さ 14

長四角のタイルをつなげた棒が並んでいます。この中には同じ長さの棒がいくつかありますが、同じ長さが 3 本ある棒はどれですか。その 3 本の棒を見つけて○をつけます。



※1. このプリントは、しながわ・目黒こどもスクールのウェブサイトでダウンロードができます。無断複写・引用はご遠慮ください。  
※2. このプリントを活用したオンライン授業のスケジュールは、しながわ・目黒こどもスクールのウェブサイトでご確認ください。



# おうちで、やろう。

Study at home. 小学校受験の家庭学習教材

数量：長さ 15

長四角のタイルをつなげた棒が並んでいます。この中には同じ長さの棒がいくつかありますが、同じ長さが3本ある棒はどれですか。その3本の棒を見つけて○をつけます。



※1. このプリントは、しながわ・目黒こどもスクールのウェブサイトでダウンロードができます。無断複写・引用はご遠慮ください。  
※2. このプリントを活用したオンライン授業のスケジュールは、しながわ・目黒こどもスクールのウェブサイトでご確認ください。




# おうちで、やろう。

Study at home. 小学校受験の家庭学習教材

数量：長さ 16

長四角のタイルをつなげた棒が並んでいます。この中には同じ長さの棒がいくつかありますが、同じ長さが 3 本ある棒はどれですか。その 3 本の棒を見つけて○をつけます。



※1. このプリントは、しながわ・目黒こどもスクールのウェブサイトでダウンロードができます。無断複写・引用はご遠慮ください。  
※2. このプリントを活用したオンライン授業のスケジュールは、しながわ・目黒こどもスクールのウェブサイトでご確認ください。



# おうちで、やろう。


Study at home. 小学校受験の家庭学習教材

運筆：模写1

左のお手本と同じ顔を右の四角に描きます。大きさや形に気を付けて描きましょう

※コピー、鉛筆、ラッシュンペンなどいろいろな筆記具で描いてみましょう。

※この問題に解答はありません。



※1. このプリントは、しながわ・目黒こどもスクールのウェブサイトでダウンロードができます。無断複写・引用はご遠慮ください。

※2. このプリントを活用したオンライン授業のスケジュールは、しながわ・目黒こどもスクールのウェブサイトでご確認ください。



# おうちで、やろう。



Study at home. 小学校受験の家庭学習教材

運筆：模写2

左のお手本と同じ顔を右の四角に描きます。大きさや形に気を付けて描きましょう

※コピー、鉛筆、ラッシュンペンなどいろいろな筆記具で描いてみましょう。

※この問題に解答はありません。



※1. このプリントは、しながわ・目黒こどもスクールのウェブサイトでダウンロードができます。無断複写・引用はご遠慮ください。

※2. このプリントを活用したオンライン授業のスケジュールは、しながわ・目黒こどもスクールのウェブサイトでご確認ください。



# おうちで、やろう。

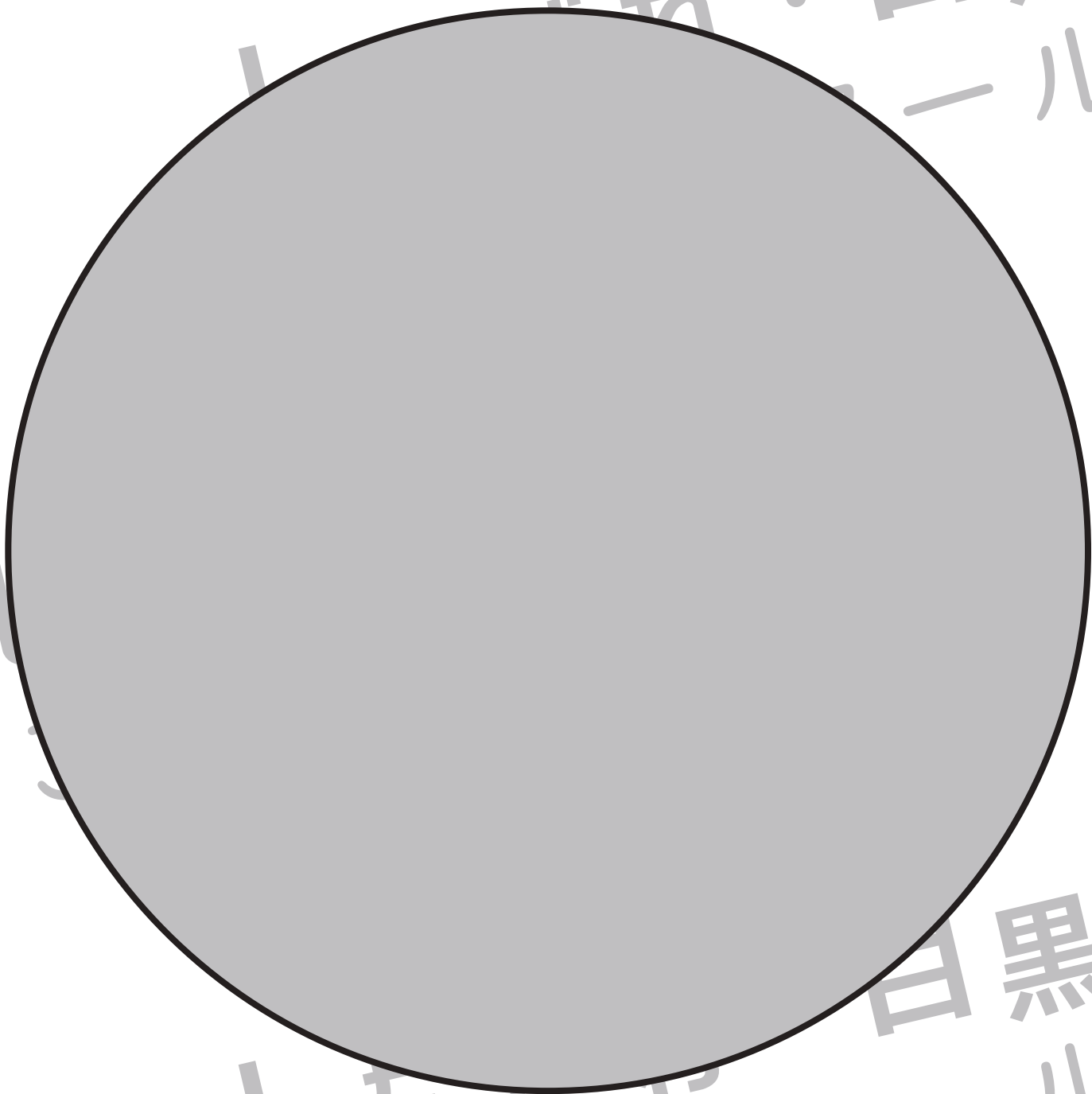
Study at home. 小学校受験の家庭学習教材

巧緻性：はさみ 8

①黒い線にそってOをはさみで切ります。

②切ったOを渦巻になるように切ります。切り終わったあとが、できるだけ長くなるように自分で考えながら切りましょう。

※この問題に解答はありませんが、渦巻の幅をできるだけ細く切ると長く切れます。



※1. このプリントは、しながわ・目黒こどもスクールのウェブサイトからダウンロードできます。無断複写・引用はご遠慮ください。

※2. このプリントを活用したオンライン授業のスケジュールは、しながわ・目黒こどもスクールのウェブサイトでご確認ください。





# おうちで、やろう。


Study at home. 小学校受験の家庭学習教材

巧緻性：はさみ 9

①黒い線にそって口をはさみで切ります。

②切った口を渦巻になるように切ります。切り終わったあとが、できるだけ長くなるように自分で考えながら切りましょう。

※この問題に解答はありませんが、渦巻の幅をできるだけ細く切ると長く切れます。





# おうちで、やろう。

Study at home. 小学校受験の家庭学習教材

巧緻性：はさみ 10

①黒い線にそって△をはさみで切ります。

②切った△を渦巻になるように切ります。切り終わったあとが、できるだけ長くなるように自分で考えながら切りましょう。

※この問題に解答はありませんが、渦巻の幅をできるだけ細く切ると長く切れます。

