



おうちで、やろう。

Study at home. 小学校受験の家庭学習教材

図形：マッチ3

四角の中の形をそれぞれの下にあるマッチで作ります。全部で何本あれば上の形ができるのかを考えてその数だけ下の四角の☆を囲みます。

Top panel: A square shape.

Middle panel: A matchstick with two grey dots.

Bottom panel: A 3x5 grid of stars. A 2x4 area of stars is enclosed by a thick black border.

Top panel: A vertical rectangle shape.

Middle panel: A matchstick with two grey dots.

Bottom panel: A 3x5 grid of stars. A 2x5 area of stars is enclosed by a thick black border.

Top panel: A triangle shape.

Middle panel: A matchstick with two grey dots.

Bottom panel: A 3x5 grid of stars. A 2x3 area of stars is enclosed by a thick black border.

Top panel: A pentagon shape.

Middle panel: A matchstick with two grey dots.

Bottom panel: A 3x5 grid of stars. A 1x5 area of stars is enclosed by a thick black border.

Top panel: A horizontal rectangle shape.

Middle panel: A matchstick with two grey dots.

Bottom panel: A 3x5 grid of stars. A 2x4 area of stars is enclosed by a thick black border.

Top panel: A triangle shape.

Middle panel: A matchstick with two grey dots.

Bottom panel: A 3x5 grid of stars. A 2x3 area of stars is enclosed by a thick black border.

※1. このプリントは、しながわ・目黒こどもスクールのウェブサイトでダウンロードができます。無断複写・引用はご遠慮ください。
 ※2. このプリントを活用したオンライン授業のスケジュールは、しながわ・目黒こどもスクールのウェブサイトでご確認ください。


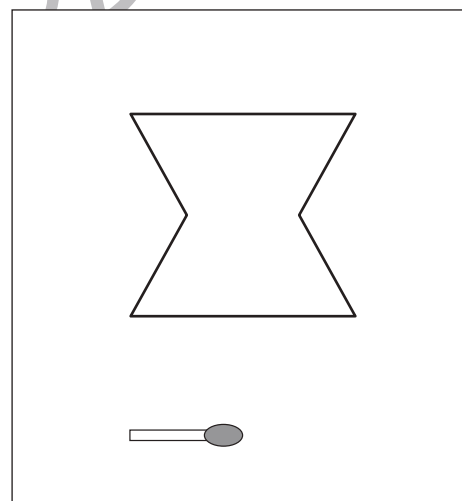

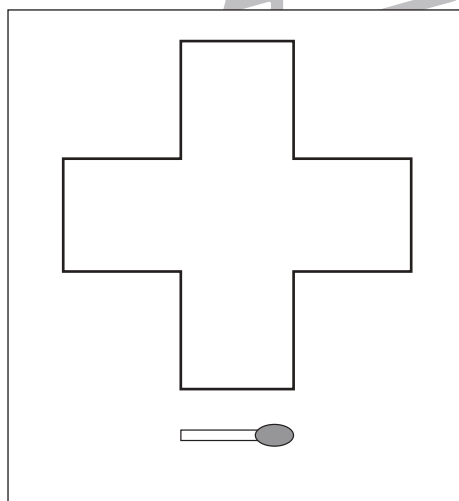
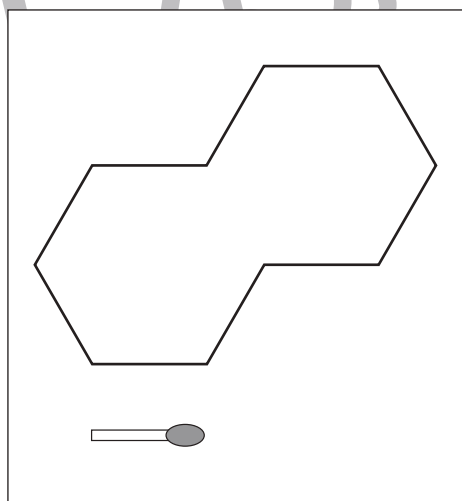

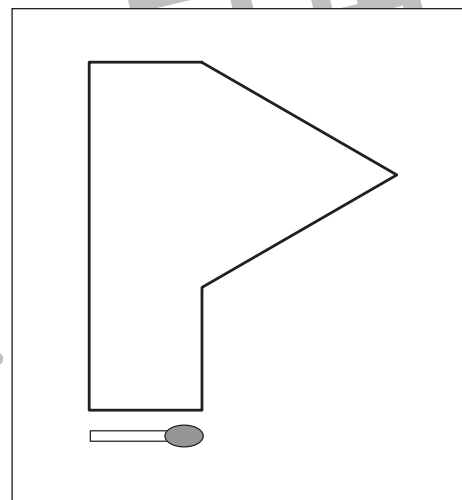

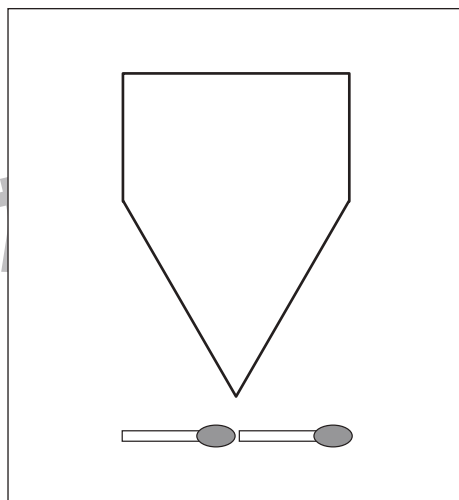
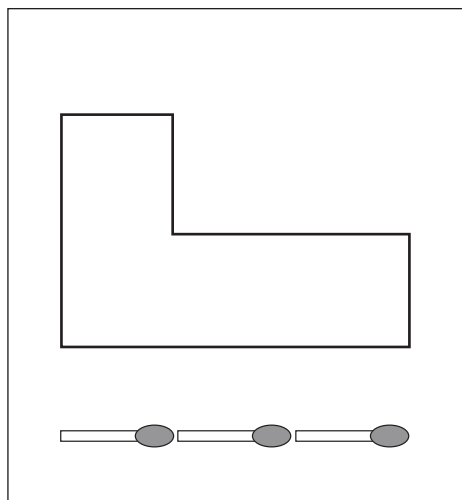


おうちで、やろう。

Study at home. 小学校受験の家庭学習教材

図形：マッチ 4

四角の中の形をそれぞれの下にあるマッチで作ります。全部で何本あれば上の形ができるのかを考えてその数だけ下の四角の☆を囲みます。



※1. このプリントは、しながわ・目黒こどもスクールのウェブサイトでダウンロードができます。無断複写・引用はご遠慮ください。
※2. このプリントを活用したオンライン授業のスケジュールは、しながわ・目黒こどもスクールのウェブサイトでご確認ください。

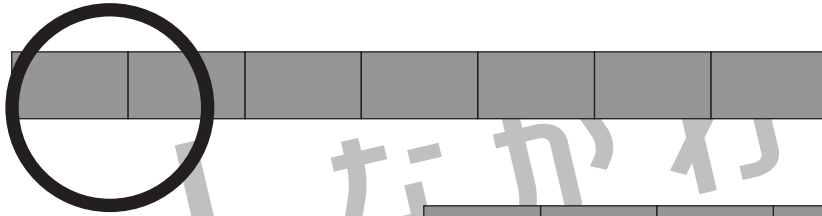


おうちで、やろう。

Study at home. 小学校受験の家庭学習教材

数量：長さ 14

長四角のタイルをつなげた棒が並んでいます。この中には同じ長さの棒がいくつかありますが、同じ長さが 3 本ある棒はどれですか。その 3 本の棒を見つけて○をつけます。



※1. このプリントは、しながわ・目黒こどもスクールのウェブサイトでダウンロードができます。無断複写・引用はご遠慮ください。
※2. このプリントを活用したオンライン授業のスケジュールは、しながわ・目黒こどもスクールのウェブサイトでご確認ください。

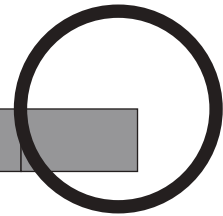
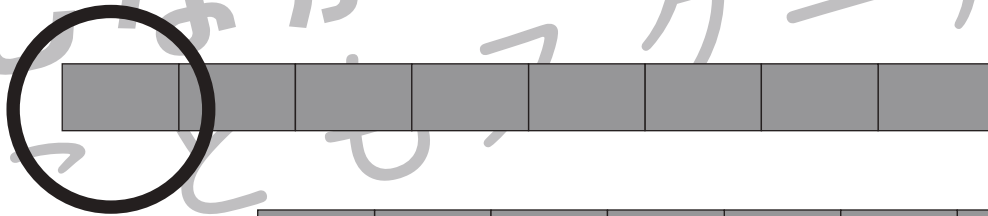


おうちで、やろう。

Study at home. 小学校受験の家庭学習教材

数量：長さ 15

長四角のタイルをつなげた棒が並んでいます。この中には同じ長さの棒がいくつかありますが、同じ長さが 3 本ある棒はどれですか。その 3 本の棒を見つけて○をつけます。



※1. このプリントは、しながわ・目黒こどもスクールのウェブサイトでダウンロードができます。無断複写・引用はご遠慮ください。
※2. このプリントを活用したオンライン授業のスケジュールは、しながわ・目黒こどもスクールのウェブサイトでご確認ください。

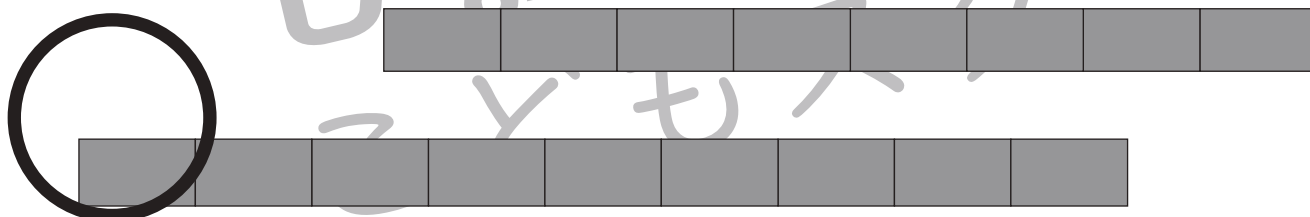

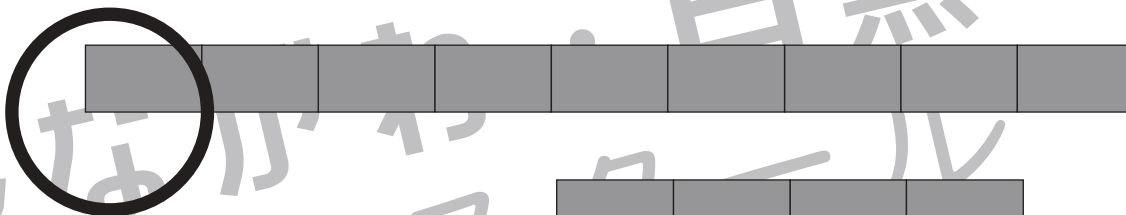


おうちで、やろう。

Study at home. 小学校受験の家庭学習教材

数量：長さ 16

長四角のタイルをつなげた棒が並んでいます。この中には同じ長さの棒がいくつかありますが、同じ長さが 3 本ある棒はどれですか。その 3 本の棒を見つけて○をつけます。



※1. このプリントは、しながわ・目黒こどもスクールのウェブサイトでダウンロードができます。無断複写・引用はご遠慮ください。

※2. このプリントを活用したオンライン授業のスケジュールは、しながわ・目黒こどもスクールのウェブサイトでご確認ください。