



おうちで、やろう。

Study at home. 小学校受験の家庭学習教材

言語：言葉9

独り言を言っている人がいます。お話からその人の表情やポーズを考えて正しいと思う絵を選びましょう（目安 10 秒）。

- ①「あ～あ、眠くなっちゃったな」その人は目をしょぼしょぼさせてあくびをしました。このお話に合う絵を選んで○をつけましょう。
- ②「まあなんてかわいいネコちゃん」その人はときめきながら言いました。このお話に合う絵を選んで○をつけましょう。
- ③「何か変なものでも食べたかなあ。痛いなあ。」その人は体をさすりながら言いました。このお話に合う絵を選んで○をつけましょう。
- ④「いっぱい育てね。」その人は言いました。このお話に合う絵を選んで○をつけましょう。



※1. このプリントは、しながわ・目黒こどもスクールのウェブサイトからダウンロードできます。無断複写・引用はご遠慮ください。
 ※2. このプリントを活用したオンライン授業のスケジュールは、しながわ・目黒こどもスクールのウェブサイトでご確認ください。




おうちで、やろう。

Study at home. 小学校受験の家庭学習教材

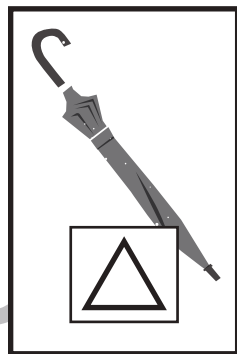
言語：数え方7

上の太い四角の中の絵と同じ数え方をするものを、下の四角の中から見つけて同じ四角の中にあるそれぞれの記号をつけます。

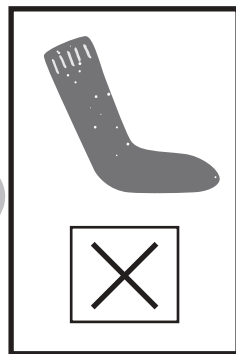
いっぴき




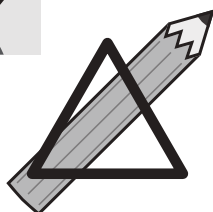
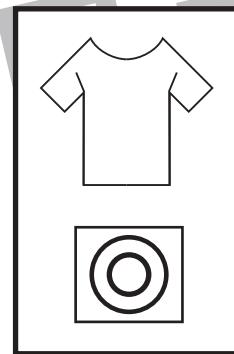
いっぽん



いっそく



いっちやく



※1. このプリントは、しながわ・目黒こどもスクールのウェブサイトからダウンロードできます。無断複写・引用はご遠慮ください。
※2. このプリントを活用したオンライン授業のスケジュールは、しながわ・目黒こどもスクールのウェブサイトでご確認ください。





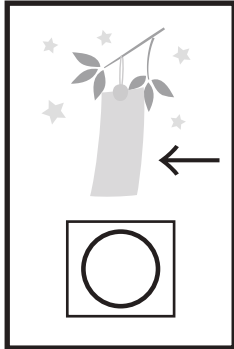
おうちで、やろう。

Study at home. 小学校受験の家庭学習教材


言語：数え方 8

上の太い四角の中の絵と同じ数え方をするものを、下の四角の中から見つけて同じ四角の中にあるそれぞれの記号をつけます。

いちまい






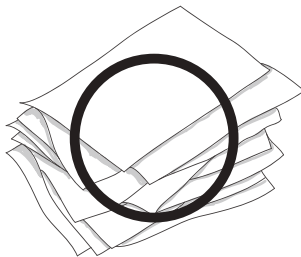



いっき



いっぱい



いちわ



※1. このプリントは、しながわ・目黒こどもスクールのウェブサイトでダウンロードができます。無断複写・引用はご遠慮ください。
※2. このプリントを活用したオンライン授業のスケジュールは、しながわ・目黒こどもスクールのウェブサイトでご確認ください。



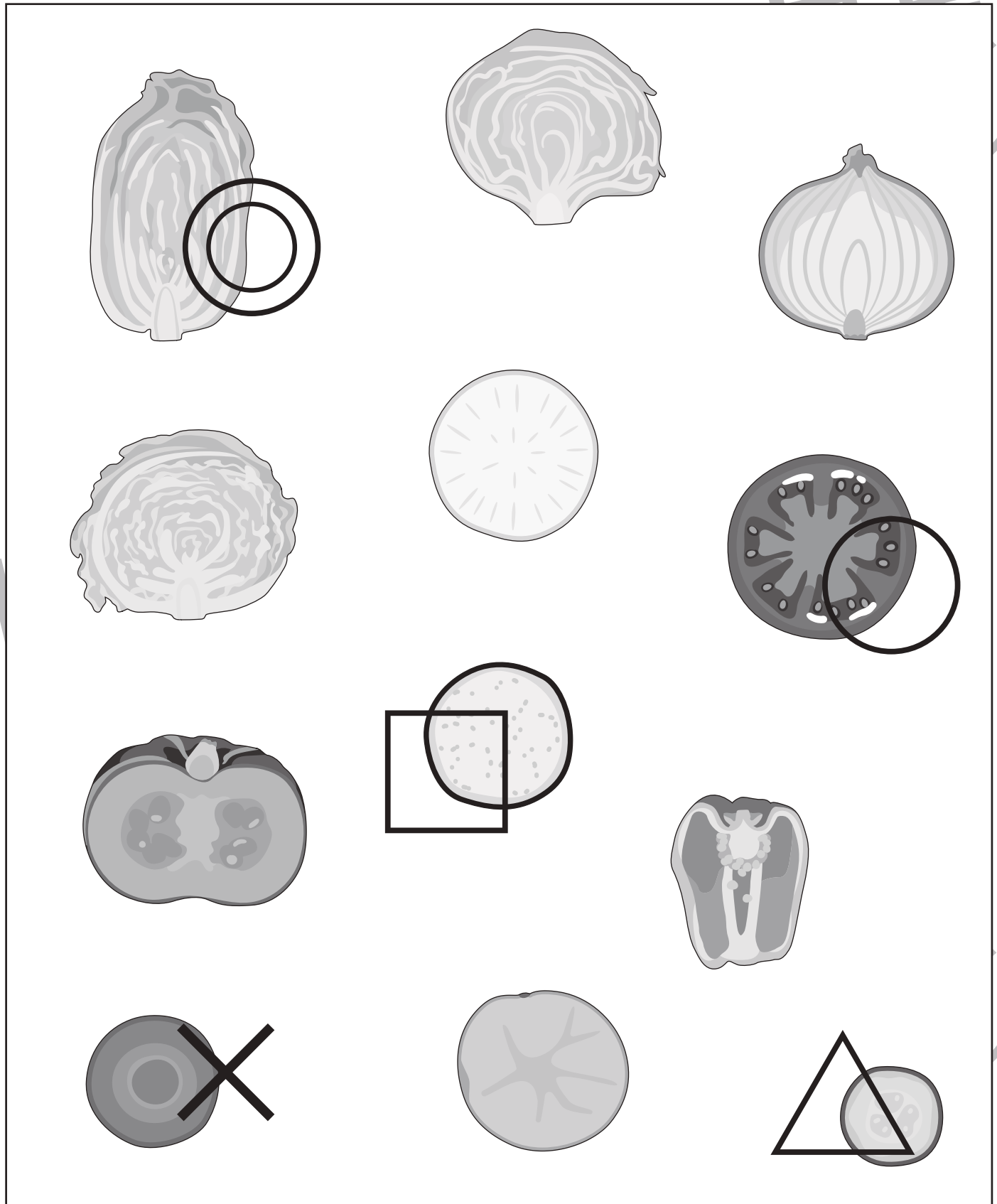
おうちで、やろう。

Study at home. 小学校受験の家庭学習教材

常識：断面図6

下の絵は野菜を切ったときの様子です。①～⑤の野菜を見つけます。

- ①トマトに○をつけます。 ②キュウリに△をつけます。 ③ナスに□をつけます。
- ④ニンジンに×をつけます。 ⑤ハクサイに◎をつけます。



※1. このプリントは、しながわ・目黒こどもスクールのウェブサイトダウンロードができます。無断複写・引用はご遠慮ください。
 ※2. このプリントを活用したオンライン授業のスケジュールは、しながわ・目黒こどもスクールのウェブサイトでご確認ください。



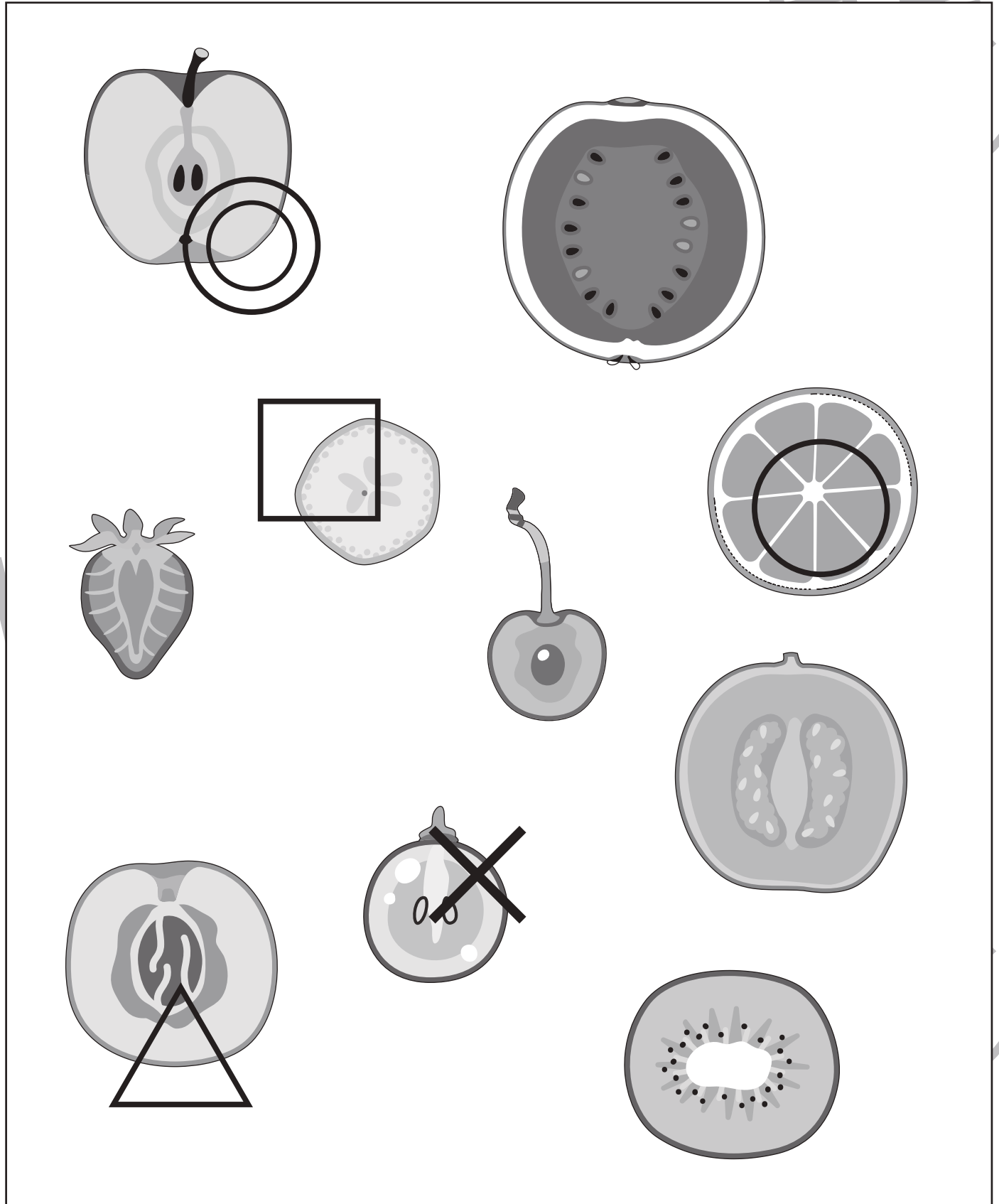
おうちで、やろう。

Study at home. 小学校受験の家庭学習教材

常識：断面図7

下の絵は果物を切ったときの様子です。①～⑤の野菜を見つけます。

- ①ミカンに○をつけます。 ②モモに△をつけます。 ③バナナに□をつけます。
④ブドウに×をつけます。 ⑤リンゴに◎をつけます。



※1. このプリントは、しながわ・目黒こどもスクールのウェブサイトでダウンロードができます。無断複写・引用はご遠慮ください。

※2. このプリントを活用したオンライン授業のスケジュールは、しながわ・目黒こどもスクールのウェブサイトでご確認ください。

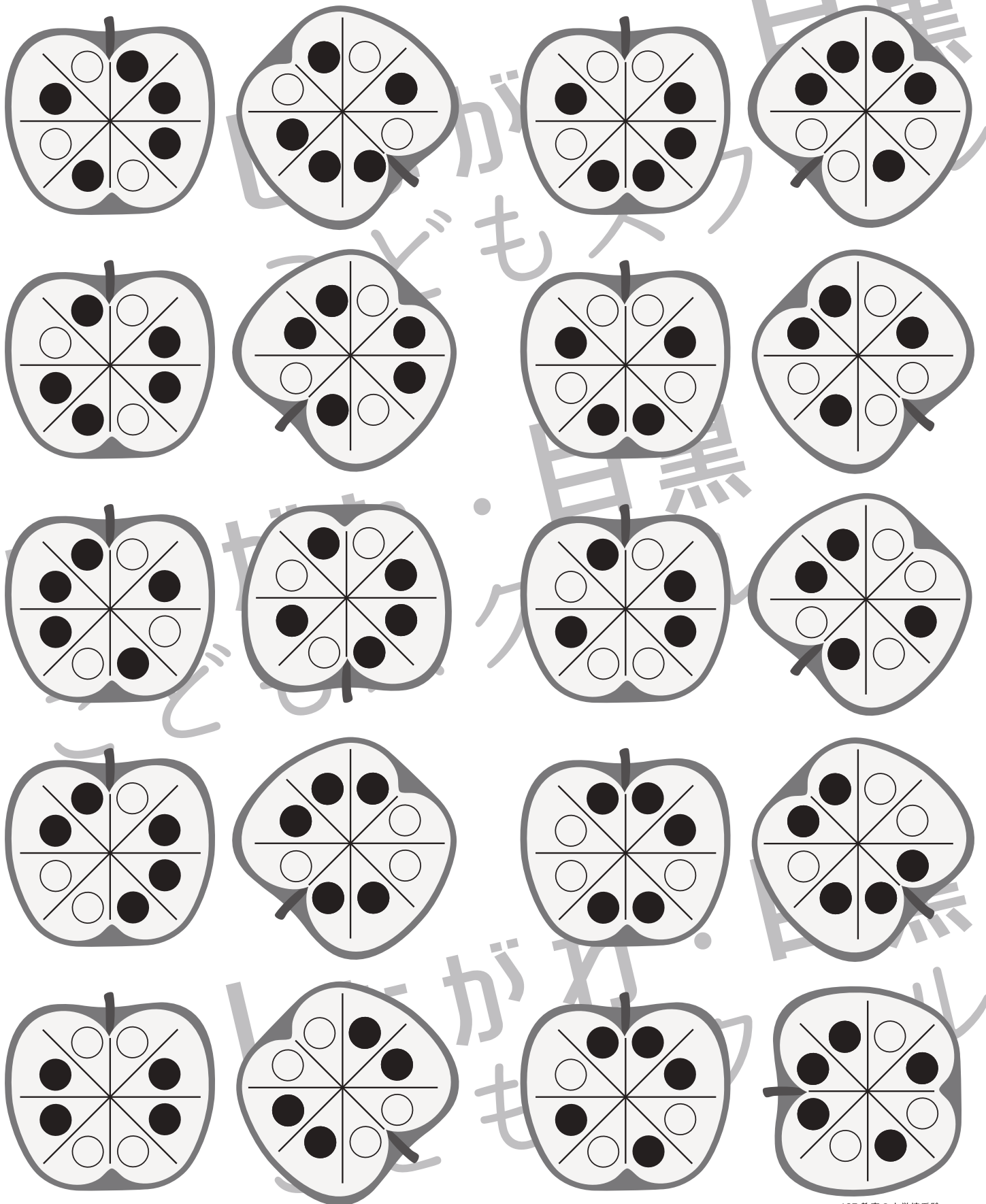


おうちで、やろう。

Study at home. 小学校受験の家庭学習教材

図形：回転 69

左のりんごを右の向きに回したときの見え方を考えて、○を塗ります。



※1. このプリントは、しながわ・目黒こどもスクールのウェブサイトからダウンロードができます。無断複写・引用はご遠慮ください。
 ※2. このプリントを活用したオンライン授業のスケジュールは、しながわ・目黒こどもスクールのウェブサイトでご確認ください。




おうちで、やろう。

Study at home. 小学校受験の家庭学習教材

処理：計数 13

上の四角の中の絵の数をかぞえて、下の四角の同じ絵の右にかぞえた数より2つ多い数の○をかきます。
この問題はスピードを意識して取り組む練習をしてみましょう。(1分～1分30秒)



○ ○×9

× ○×7

□ ○×10

△ ○×11

◎ ○×12