

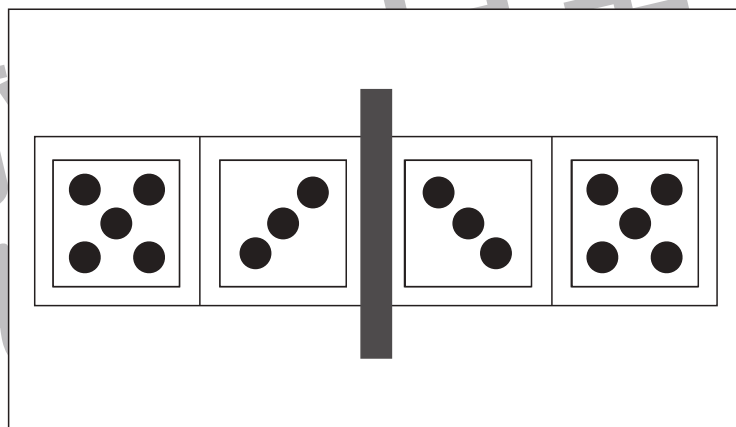
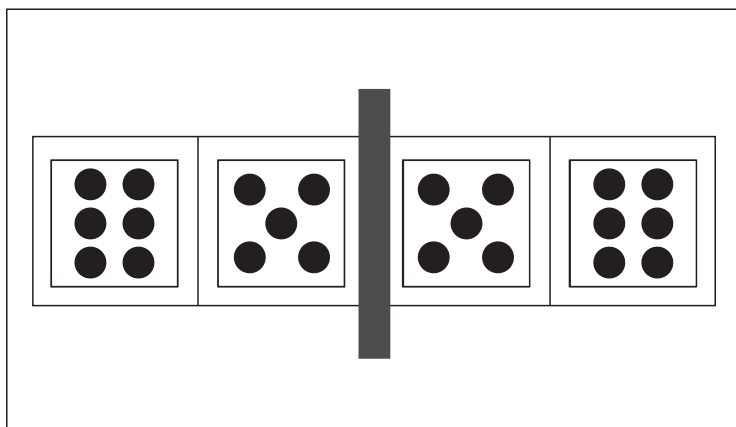

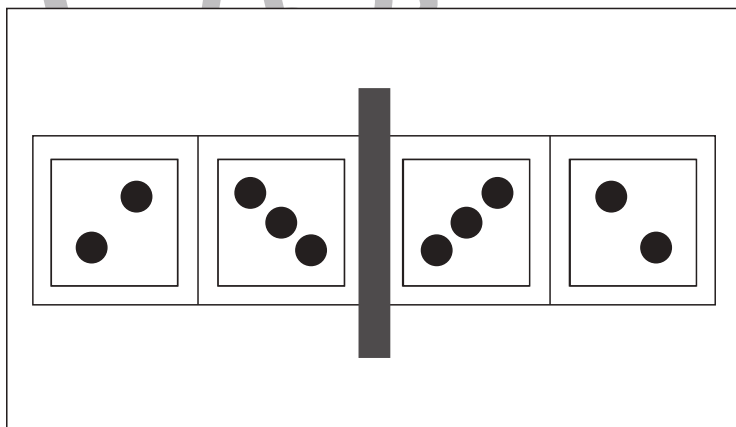
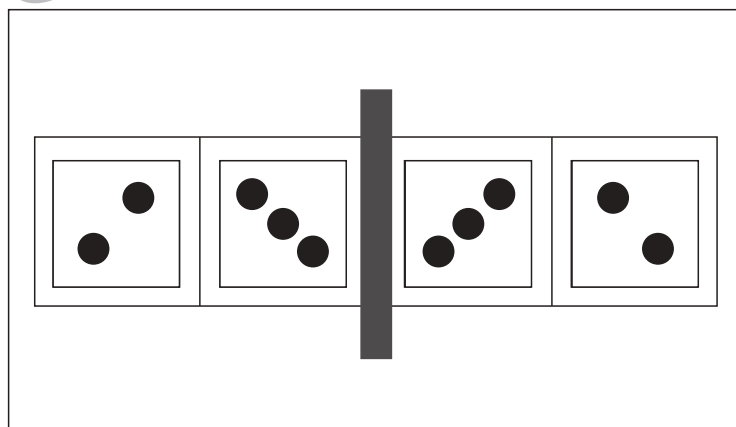
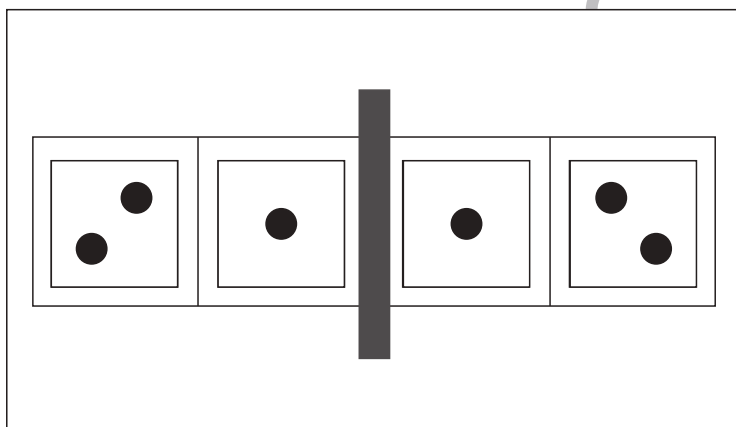
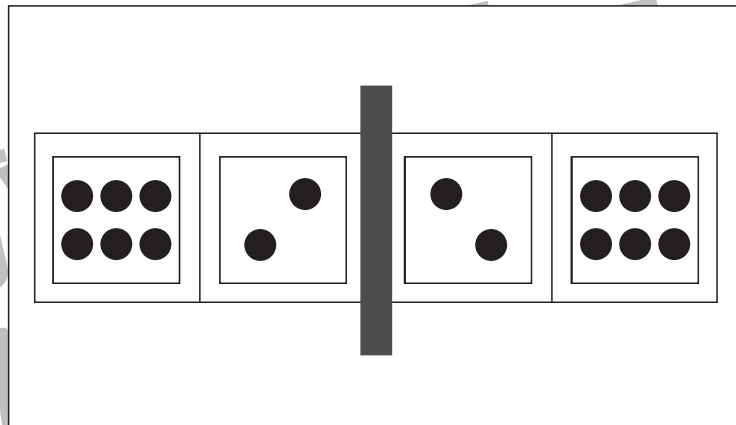
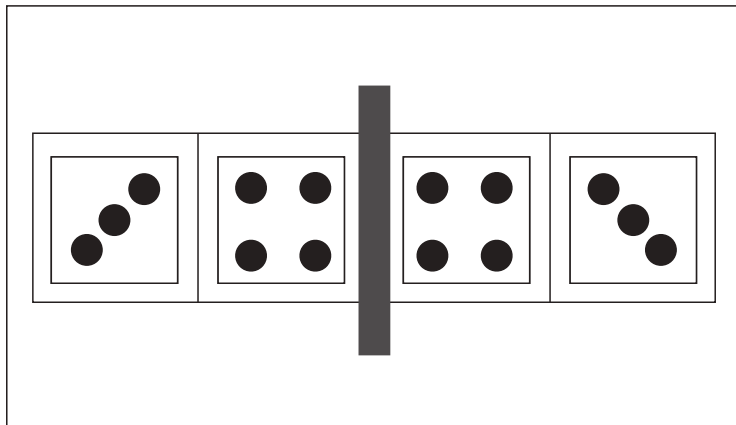


おうちで、やろう。

Study at home. 小学校受験の家庭学習教材

図形：鏡 25

左の四角の中にはサイコロの目が描いてあります。紙の真ん中の灰色の部分に鏡を立てて鏡を見た時と時の見え方を考えます。鏡を見たときにサイコロがどのような模様になっているか考えて右側にかきます。



※1. このプリントは、しながわ・目黒こどもスクールのウェブサイトでダウンロードができます。無断複写・引用はご遠慮ください。
※2. このプリントを活用したオンライン授業のスケジュールは、しながわ・目黒こどもスクールのウェブサイトでご確認ください。

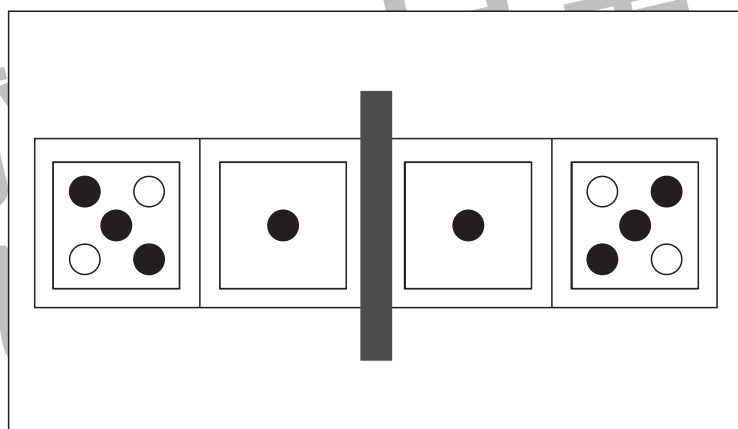
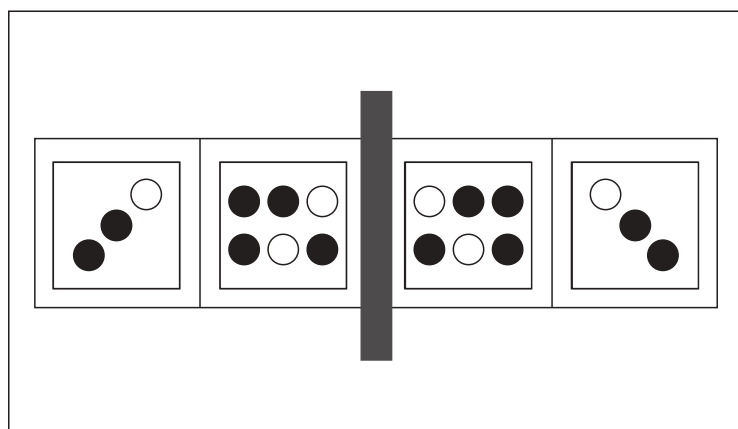
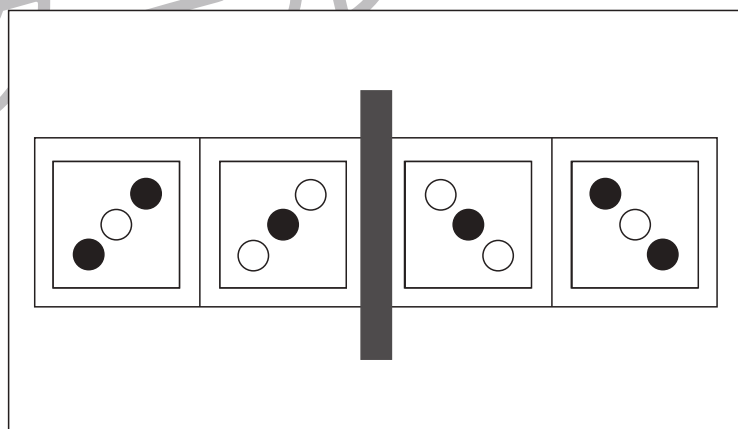
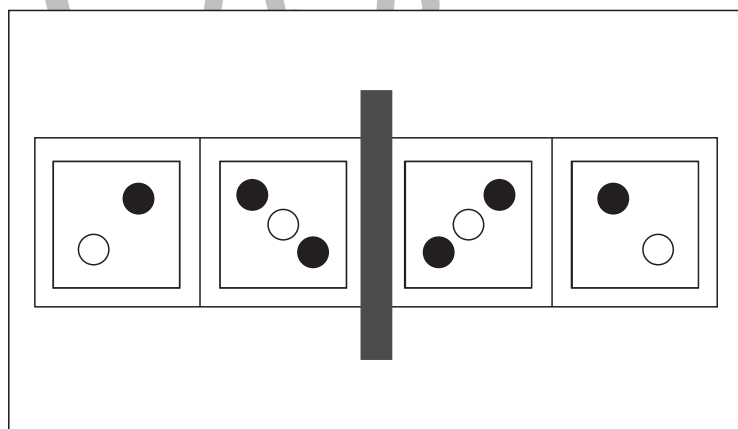
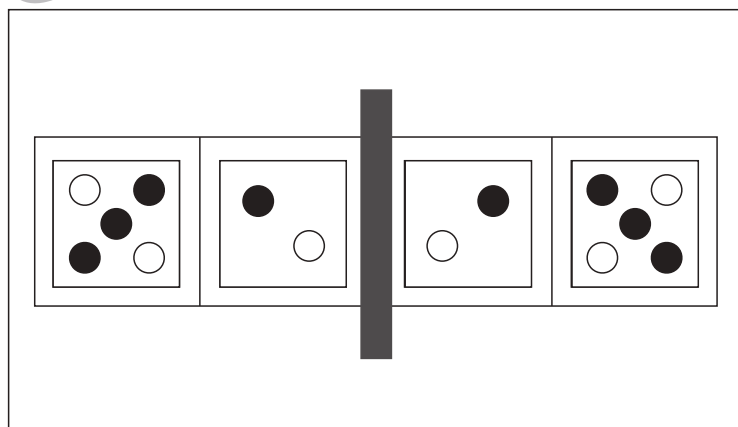
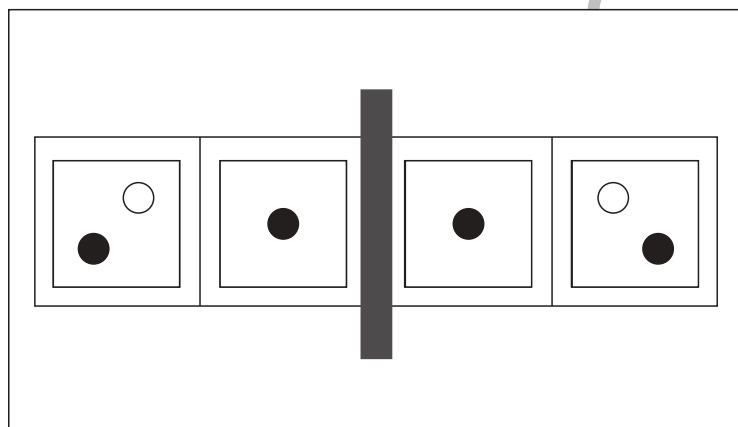
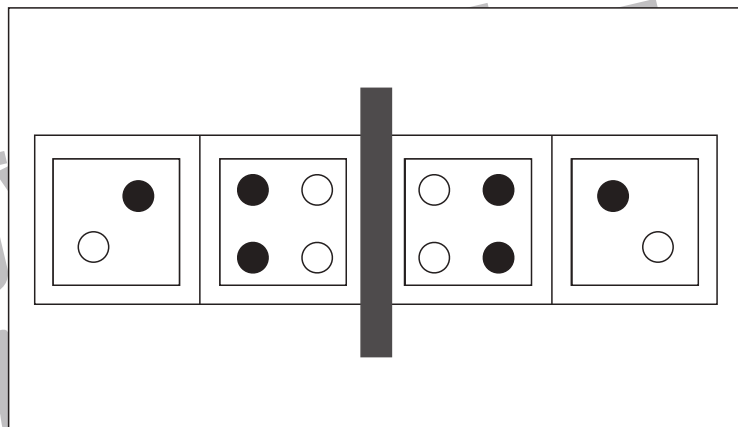
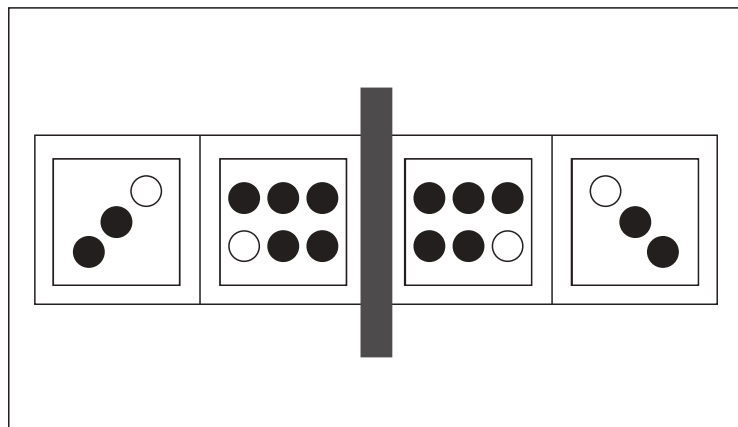


おうちで、やろう。

Study at home. 小学校受験の家庭学習教材

図形：鏡 26

左の四角の中にはサイコロの目が描いてあります。紙の真ん中の灰色の部分に鏡を立てて鏡を見た時と時の見え方を考えます。鏡を見たときにサイコロがどのような模様になっているか考えて右側にかきます。



※1. このプリントは、しながわ・目黒こどもスクールのウェブサイトからダウンロードできます。無断複写・引用はご遠慮ください。
※2. このプリントを活用したオンライン授業のスケジュールは、しながわ・目黒こどもスクールのウェブサイトでご確認ください。

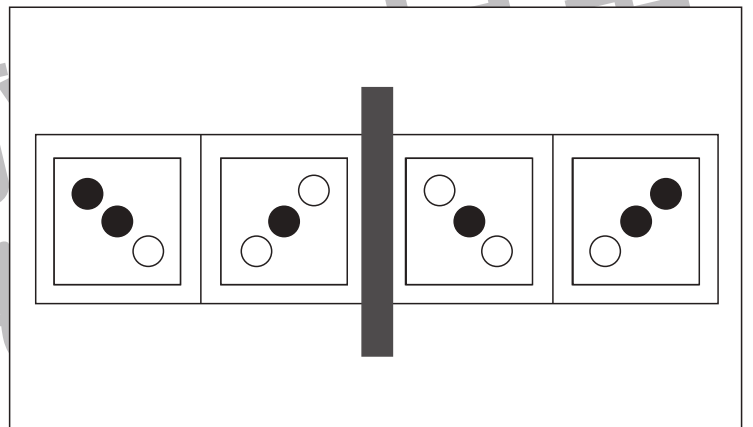
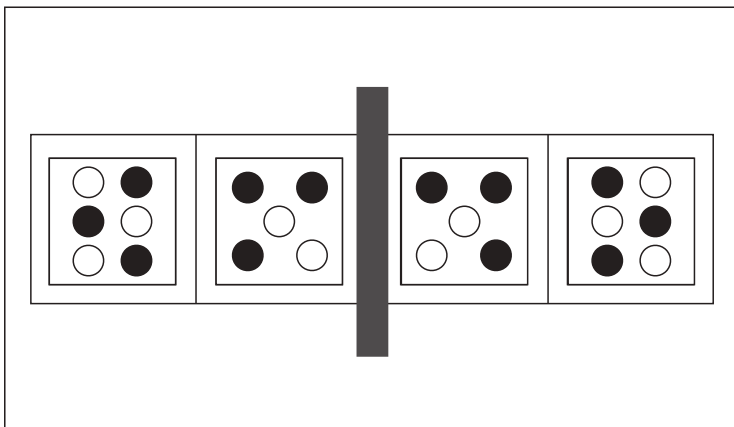
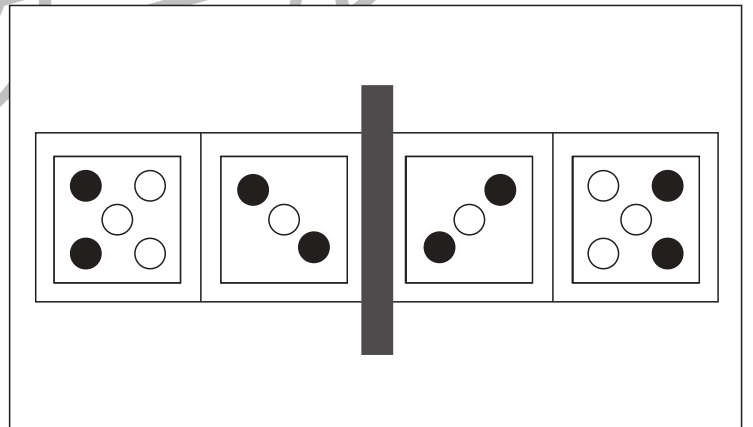
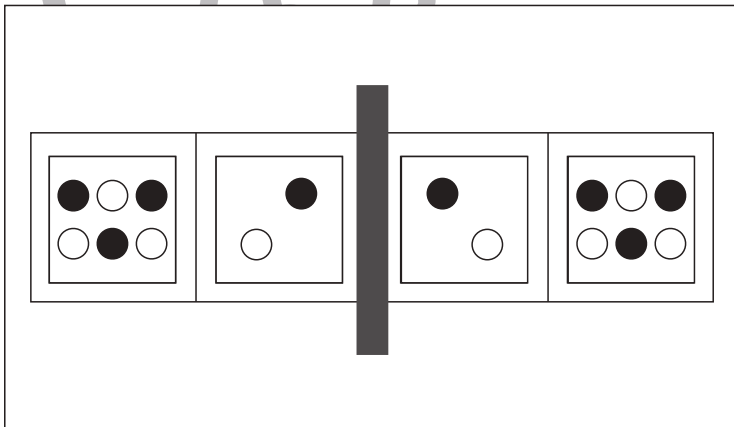
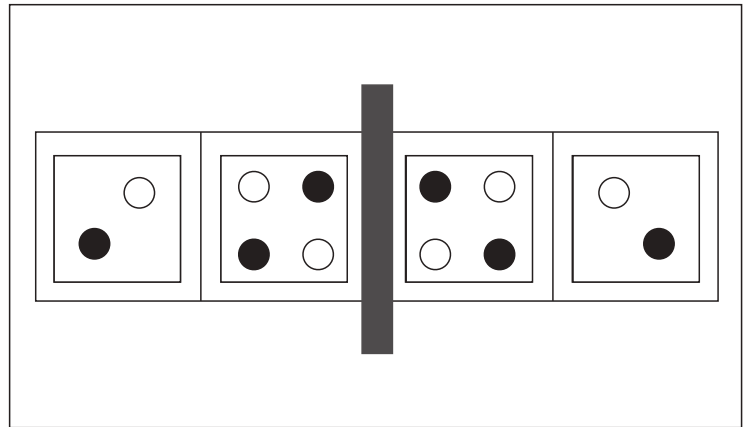
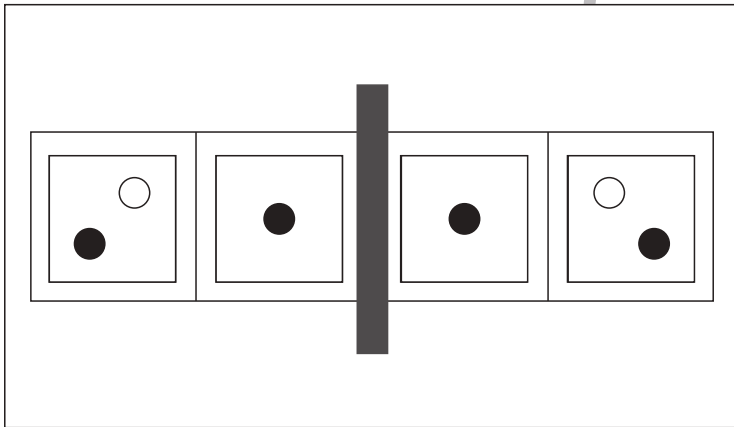
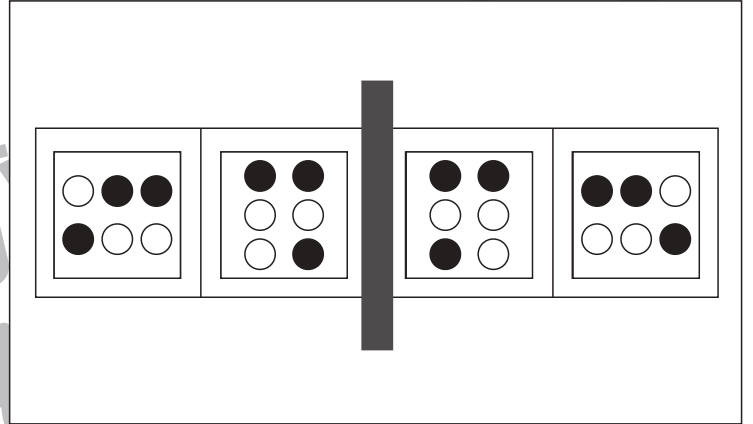
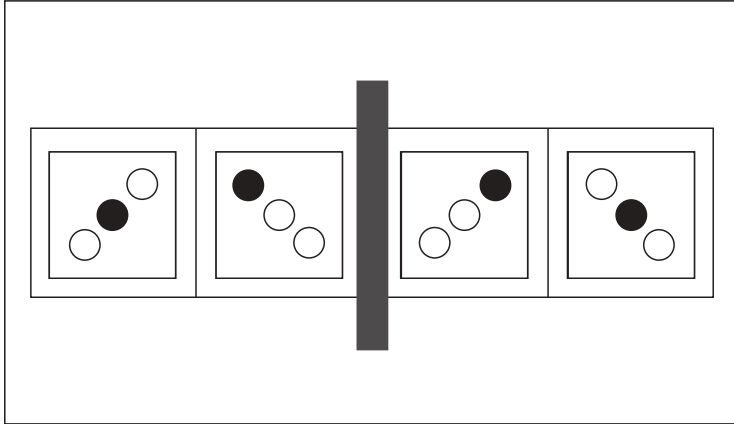


おうちで、やろう。

Study at home. 小学校受験の家庭学習教材

図形：鏡 27

左の四角の中にはサイコロの目が描いてあります。紙の真ん中の灰色の部分に鏡を立てて鏡を見た時と時の見え方を考えます。鏡を見たときにサイコロがどのような模様になっているか考えて右側にかきます。



※1. このプリントは、しながわ・目黒こどもスクールのウェブサイトでダウンロードができます。無断複写・引用はご遠慮ください。
※2. このプリントを活用したオンライン授業のスケジュールは、しながわ・目黒こどもスクールのウェブサイトでご確認ください。



おうちで、やろう。

Study at home. 小学校受験の家庭学習教材

数量：同数 9

左の四角がお手本です。

右の4つの四角のうち、お手本の白丸と同じ数の四角に○をつけます。

※1. このプリントは、しながわ・目黒こどもスクールのウェブサイトでダウンロードができます。無断複写・引用はご遠慮ください。

※2. このプリントを活用したオンライン授業のスケジュールは、しながわ・目黒こどもスクールのウェブサイトでご確認ください。



おうちで、やろう。

Study at home. 小学校受験の家庭学習教材

数量：同数 10

左の四角がお手本です。

右の4つの四角のうち、お手本の灰色の丸と同じ数の星がある四角に○をつけます。

※1. このプリントは、しながわ・目黒こどもスクールのウェブサイトでダウンロードができます。無断複写・引用はご遠慮ください。

※2. このプリントを活用したオンライン授業のスケジュールは、しながわ・目黒こどもスクールのウェブサイトでご確認ください。



おうちで、やろう。

Study at home. 小学校受験の家庭学習教材

数量：同数 11

左の四角がお手本です。

右の4つの四角のうち、お手本の黒丸と同じ数の星がある四角に○をつけます。

※1. このプリントは、しながわ・目黒こどもスクールのウェブサイトからダウンロードできます。無断複写・引用はご遠慮ください。

※2. このプリントを活用したオンライン授業のスケジュールは、しながわ・目黒こどもスクールのウェブサイトでご確認ください。