



おうちで、よろう。

Study at home. 小学校受験の家庭学習教材

常識：判断力 1

お話をよく聞いてから進んで行きましょう。ウサギからはじめて正しいことを言っているサイコロの目や動物の点と点を線で結んでいきます。

①上の段サイコロを見ます。あなたはバスに乗っている時にどうしますか。1の目のサイコロは、お友だちと一緒にのって楽しいから大きな声で歌います。2の目のサイコロはたくさんの方が乗っているので静かに座っています。3の目のサイコロは降りる場所では無いのにボタンを押します。この三つの中で正しいと思うサイコロを選び、ウサギの絵と結びます。

②下の段のサイコロです。図書館に行った時のお話です。1つの目のサイコロは読みたい本がたくさんあるけど、1冊ずつ持ってきて読みます。2つ目のサイコロはお友だちと一緒に1冊の本を大きな声で読みます。3つ目のサイコロは読みたいけれど、まだ読み終わらなかったの、黙って家に持って帰ります。この三つの中で正しいと思うサイコロを選び、①で選んだサイコロと結びます。

③一番下の段の動物たちの絵を見ます。お弁当や給食を食べている時のお話です。ゾウくんは好きなものだけを食べて嫌いなのは残しました。パンダさんは食べている途中で立ち上がって遊び始めました。ライオンさんは食べ終わった後、机の上にたくさんのご飯が落ちていました。サルくんは苦手なものがあったけど、頑張って全部食べました。正しいと思う動物の絵と②で選んだサイコロの絵を結びましょう。

※1. このプリントは、しながわ・目黒こどもスクールのウェブサイトでダウンロードができます。無断複写・引用はご遠慮ください。

※2. このプリントを活用したオンライン授業のスケジュールは、しながわ・目黒こどもスクールのウェブサイトでご確認ください。



おうちで、やろう。

Study at home. 小学校受験の家庭学習教材

常識：判断力2

お話をよく聞いてから進んで行きましょう。ウサギからはじめて正しいことを言っているサイコロの目や動物の点と点を線で結びます。

①上の段サイコロを見ます。電車に乗るときあなたはどうしますか。1の目のサイコロは、席が混んでいて座れなかったので床に座ります。2の目のサイコロは、お友だちと一緒に楽しかったので大きな声で話します。3の目のサイコロは、電車に乗るときは降りる人を待ってから乗ります。この三つの中で正しいと思うサイコロを選び、ウサギの絵と結びます。

②下の段のサイコロです。横断歩道を渡るのときのお話です。1つの目のサイコロは、赤信号だったので気を付けて渡ります。2つ目のサイコロは、青になったので右と左を確認してから歩いて渡ります。3つ目のさいころは、渡ろうとしていたときに青い信号が点滅してたら走って渡ります。この三つの中で正しいと思うサイコロを選び、①で選んだサイコロと結びます。

③一番下の段の動物たちの絵を見ます。節分のお話です。ソウくんは玄関に門松を飾りました。パンダさんは恵方巻を作って食べました。ライオンさんは菖蒲の葉をお風呂に入れて入りました。サルくんは願い事を短冊に書いて笹の葉に飾りました。正しいと思う動物の絵と②で選んだサイコロの絵を結びましょう。

※1. このプリントは、しながわ・目黒こどもスクールのウェブサイトでダウンロードができます。無断複写・引用はご遠慮ください。

※2. このプリントを活用したオンライン授業のスケジュールは、しながわ・目黒こどもスクールのウェブサイトでご確認ください。



おうちで、やろう。

Study at home. 小学校受験の家庭学習教材

図形：重ね図形 34

左にある3枚の透明な板をぴったり重ねた時の見え方を考えて四角のすぐ右の空いているマスに○をかきます。
この問題は間違えたときに訂正の印を使うことができません。もし間違えてしまった場合は、一番右のマスにかきなおします。2回間違えてしまうともうかくマスがありませんので、よく考えて印をかきましょう。

※1. このプリントは、しながわ・目黒こどもスクールのウェブサイトでダウンロードができます。無断複写・引用はご遠慮ください。
※2. このプリントを活用したオンライン授業のスケジュールは、しながわ・目黒こどもスクールのウェブサイトでご確認ください。



おうちで、やろう。

Study at home. 小学校受験の家庭学習教材

図形：重ね図形 35

左にある3枚の透明な板をぴったり重ねた時の見え方を考えて四角のすぐ右の空いているマスに○をかきます。
この問題は間違えたときに訂正の印を使うことができません。もし間違えてしまった場合は、一番右のマスにかきなおします。2回間違えてしまうともうかくマスがありませんので、よく考えて印をかきましょう。

※1. このプリントは、しながわ・目黒こどもスクールのウェブサイトでダウンロードができます。無断複写・引用はご遠慮ください。
※2. このプリントを活用したオンライン授業のスケジュールは、しながわ・目黒こどもスクールのウェブサイトでご確認ください。



おうちで、やろう。

Study at home. 小学校受験の家庭学習教材

図形：重ね図形 36

左にある3枚の透明な板をぴったり重ねた時の見え方を考えて四角のすぐ右の空いているマスに○をかきます。
この問題は間違えたときに訂正の印を使うことができません。もし間違えてしまった場合は、一番右のマスにかきなおします。2回間違えてしまうともうかくマスがありませんので、よく考えて印をかきましょう。

※1. このプリントは、しながわ・目黒こどもスクールのウェブサイトでダウンロードができます。無断複写・引用はご遠慮ください。
※2. このプリントを活用したオンライン授業のスケジュールは、しながわ・目黒こどもスクールのウェブサイトでご確認ください。



おうちで、やろう。

Study at home. 小学校受験の家庭学習教材

推理：系列完成 24

上の約束どおりに左上の太い四角から順番に右下の太い四角まで進み、進んだ道に線をかきます。
進む道は縦と横には進めますが、斜めに進むことはできません。また、同じ道を通ることもできません。

○ → △ → □

○	△	○	△	□	○	△	□	○	○	△	△
△	△	○	△	□	△	○	□	△	△	□	○
□	○	△	□	○	△	□	△	□	□	○	△
□	○	△	△	□	○	△	□	○	△	○	□

⬡ → □ → ☆ → ⊙

⬡	□	☆	⊙	⊙	□	⬡	□	☆	⊙	□	□
□	⊙	☆	⬡	□	☆	☆	⬡	☆	⬡	⊙	☆
⬡	⬡	□	⊙	□	⊙	☆	⊙	□	□	□	⊙
□	☆	□	⊙	⬡	⬡	□	⊙	⬡	☆	⊙	⬡

○ → ⊙ → △ → ☆ → □

○	⊙	□	⊙	△	□	☆	□	□	△	□	△
⊙	○	☆	☆	□	○	⊙	☆	△	☆	□	○
△	☆	□	⊙	☆	△	△	☆	⊙	○	△	⊙
□	⊙	○	⊙	△	□	☆	□	○	△	☆	□

※1. このプリントは、しながわ・目黒こどもスクールのウェブサイトでダウンロードができます。無断複写・引用はご遠慮ください。
※2. このプリントを活用したオンライン授業のスケジュールは、しながわ・目黒こどもスクールのウェブサイトでご確認ください。

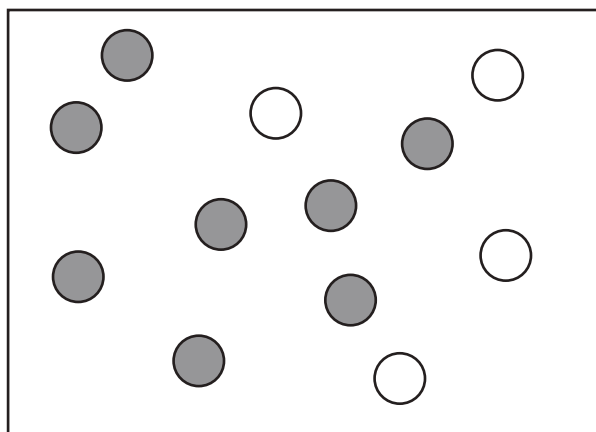
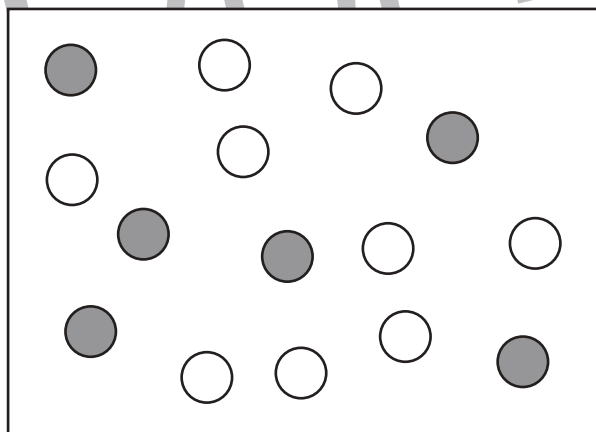
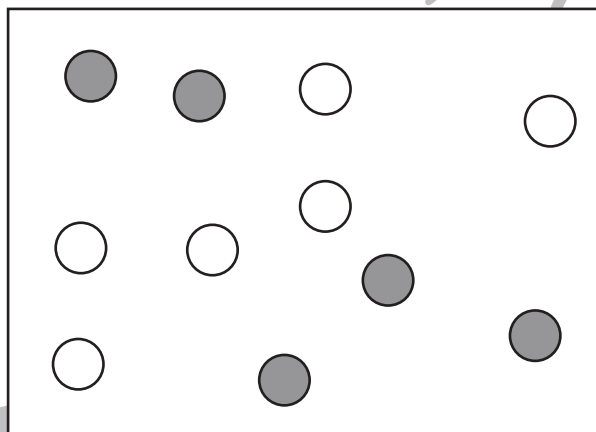
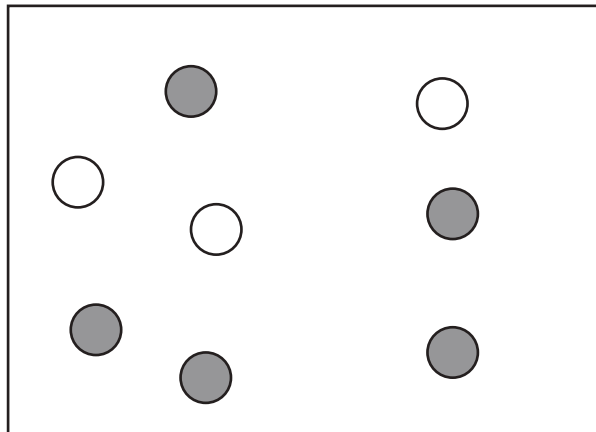


おうちで、やろう。

Study at home. 小学校受験の家庭学習教材

数量：違う数 14

左の四角の中の白い丸と灰色の丸の数の違いはいくつですか。
その数の星がある四角を右の4つの中から選んで○をつけます。



※1. このプリントは、しながわ・目黒こどもスクールのウェブサイトでダウンロードができます。無断複写・引用はご遠慮ください。
※2. このプリントを活用したオンライン授業のスケジュールは、しながわ・目黒こどもスクールのウェブサイトでご確認ください。


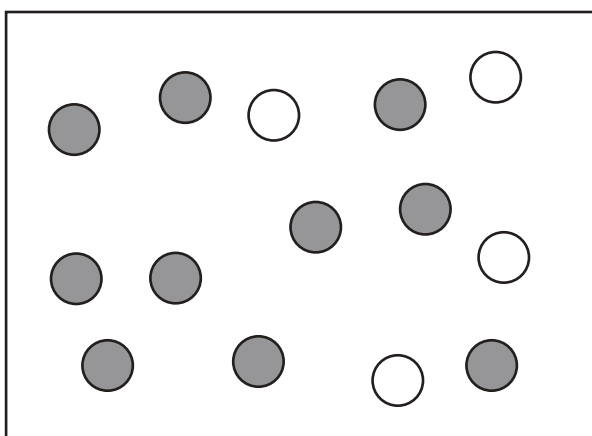

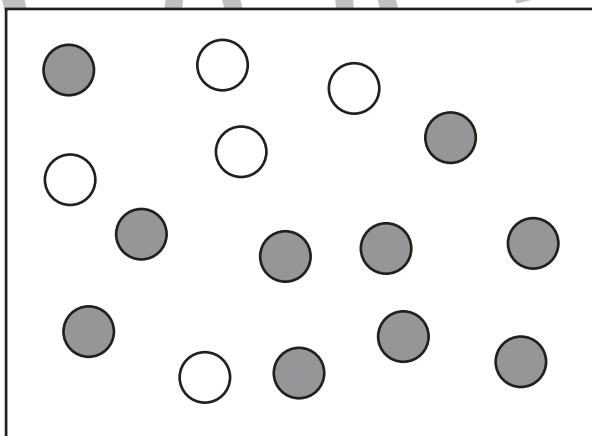
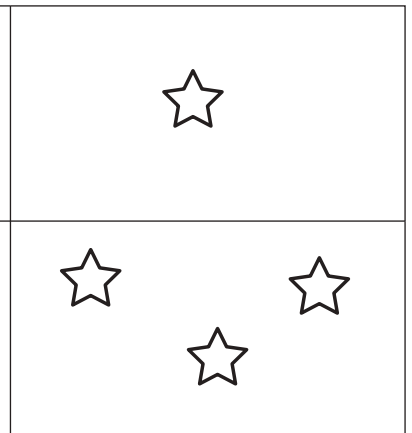
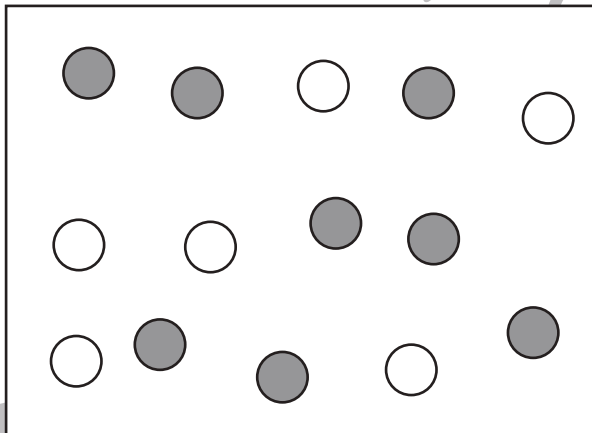


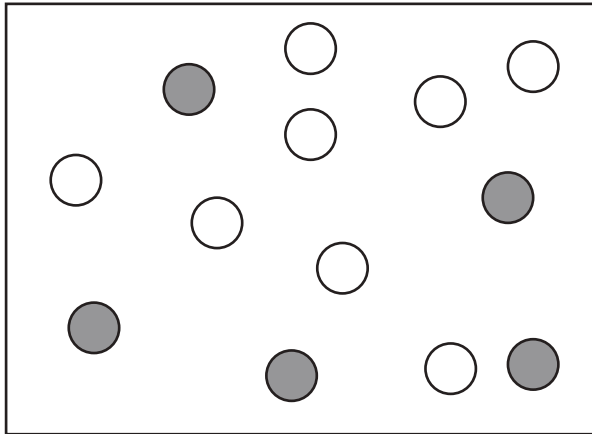


おうちで、やろう。

Study at home. 小学校受験の家庭学習教材

数量：違う数 15

左の四角の中の白い丸と灰色の丸の数の違いはいくつですか。
その数の星がある四角を右の4つの中から選んで○をつけます。



※1. このプリントは、しながわ・目黒こどもスクールのウェブサイトでダウンロードができます。無断複写・引用はご遠慮ください。
※2. このプリントを活用したオンライン授業のスケジュールは、しながわ・目黒こどもスクールのウェブサイトでご確認ください。


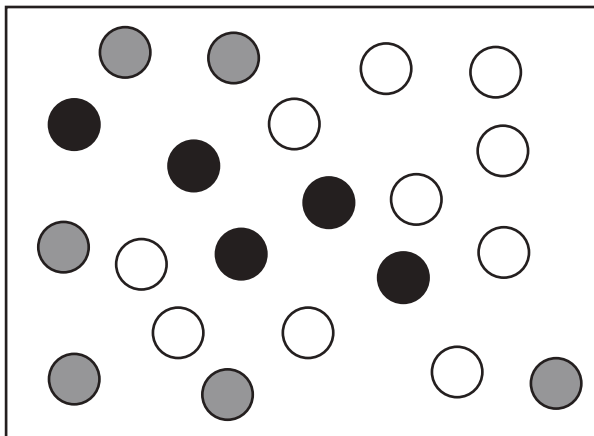


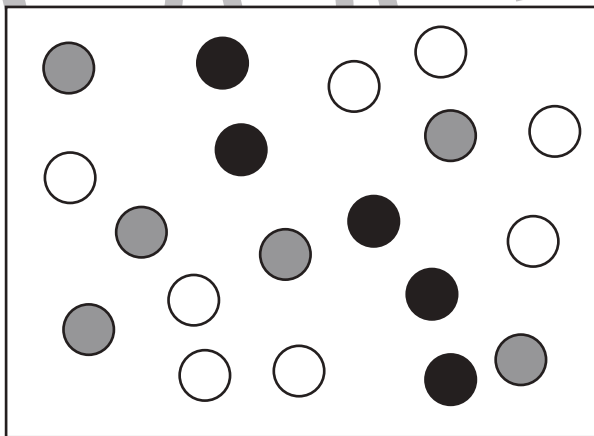


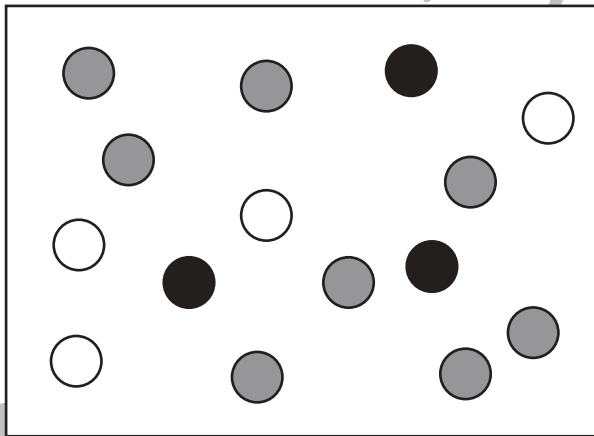


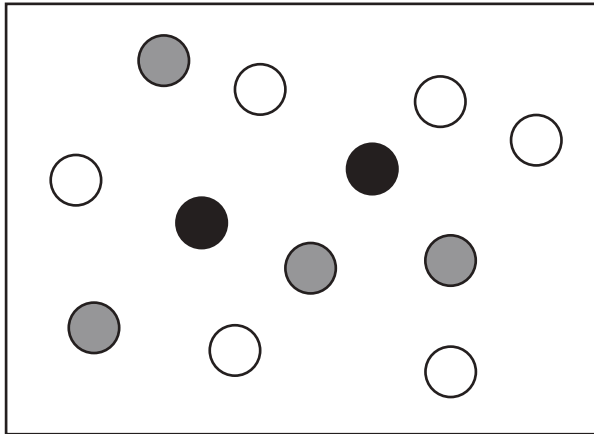


おうちで、やろう。

Study at home. 小学校受験の家庭学習教材

数量：違う数 16

左の四角の中の白い丸と灰色の丸と黒い丸があります。黒い丸と白い丸の数の違いはいくつですか。
その数の星がある四角を右の4つの中から選んで○をつけます。



※1. このプリントは、しながわ・目黒こどもスクールのウェブサイトでダウンロードができます。無断複写・引用はご遠慮ください。
※2. このプリントを活用したオンライン授業のスケジュールは、しながわ・目黒こどもスクールのウェブサイトでご確認ください。



おうちで、やろう。


Study at home. 小学校受験の家庭学習教材

処理：運筆 14

壁にぶつからないように一周線をかきます。どこからはじめてもよいのできれいな線をかきましょう。

この問題はスピードを意識して取り組む練習をしてみましょう。(1分～1分30秒)

※えんぴつ、クーピー、水性ペンなどをしましょう。 ※この問題に解答はありません。



※1. このプリントは、しながわ・目黒こどもスクールのウェブサイトでダウンロードができます。無断複写・引用はご遠慮ください。

※2. このプリントを活用したオンライン授業のスケジュールは、しながわ・目黒こどもスクールのウェブサイトでご確認ください。