



# おうちで、やろう。

Study at home. 小学校受験の家庭学習教材

## 常識：判断力3

お話をよく聞いてから進んで行きましょう。ウサギからはじめて正しいことを言っているサイコロの目や動物の点と点を線で結んでいきます。

①上の段のサイコロを見ます。手紙を出すときあなたはどのようにしますか。1の目のサイコロは、好きな紙に手紙を書いてそのままポストに入れます。2の目のサイコロは、配達をしている郵便局の人に書いた手紙を渡して届けてもらいます。3の目のサイコロは、封筒に切手を貼ってからポストに入れます。この三つの中で正しいと思うサイコロを選び、ウサギの絵と結びます。

②下の段のサイコロです。食事をするときのお話です。1の目のサイコロは、見たいテレビがあったのでテレビを見ながら食べます。2の目のサイコロは、よそ見をして食べていたのでコップに入ったお茶がこぼれてしまいました。3の目のサイコロは、「いただきます。」を言ってから静かに食べます。この三つの中で正しいと思うサイコロを選び、①で選んだサイコロと結びます。

③一番下の段の動物たちの絵を見ます。公園でのお話です。ソウくんは滑り台をすぐに滑りたいのでお友だちがたくさん並んでいたけど、一番前に割り込んで早く滑りました。パンダさんは暑かったので水道の水を出しっぱなしにして水遊びをしました。ライオンさんはのどが渴いたのでジュースを飲んだあと、ゴミ箱に空き缶を捨てました。サルくんは花壇のお花がきれいだったので1本摘んで持って帰りました。正しいと思う動物の絵と②で選んだサイコロの絵を結びましょう。

※1. このプリントは、しながわ・目黒こどもスクールのウェブサイトでダウンロードができます。無断複写・引用はご遠慮ください。

※2. このプリントを活用したオンライン授業のスケジュールは、しながわ・目黒こどもスクールのウェブサイトでご確認ください。



# おうちで、やろう。

Study at home. 小学校受験の家庭学習教材

図形：回転 60

左のカメを右のように回転させたときに見える こうら の模様を考えて○を塗ります。


※1. このプリントは、しながわ・目黒こどもスクールのウェブサイトでダウンロードができます。無断複写・引用はご遠慮ください。  
 ※2. このプリントを活用したオンライン授業のスケジュールは、しながわ・目黒こどもスクールのウェブサイトでご確認ください。




# おうちで、やろう。

Study at home. 小学校受験の家庭学習教材

図形：回転 61

左のカメを右のように回転させたときに見える ころら の模様を考えてOを塗ります。



※1. このプリントは、しながわ・目黒こどもスクールのウェブサイトからダウンロードできます。無断複写・引用はご遠慮ください。  
 ※2. このプリントを活用したオンライン授業のスケジュールは、しながわ・目黒こどもスクールのウェブサイトでご確認ください。



# おうちで、やろう。

Study at home. 小学校受験の家庭学習教材

図形：回転 62

左のカメを右のように回転させたときに見える ころら の模様を考えて○を塗ります。


※1. このプリントは、しながわ・目黒こどもスクールのウェブサイトでダウンロードができます。無断複写・引用はご遠慮ください。

※2. このプリントを活用したオンライン授業のスケジュールは、しながわ・目黒こどもスクールのウェブサイトでご確認ください。



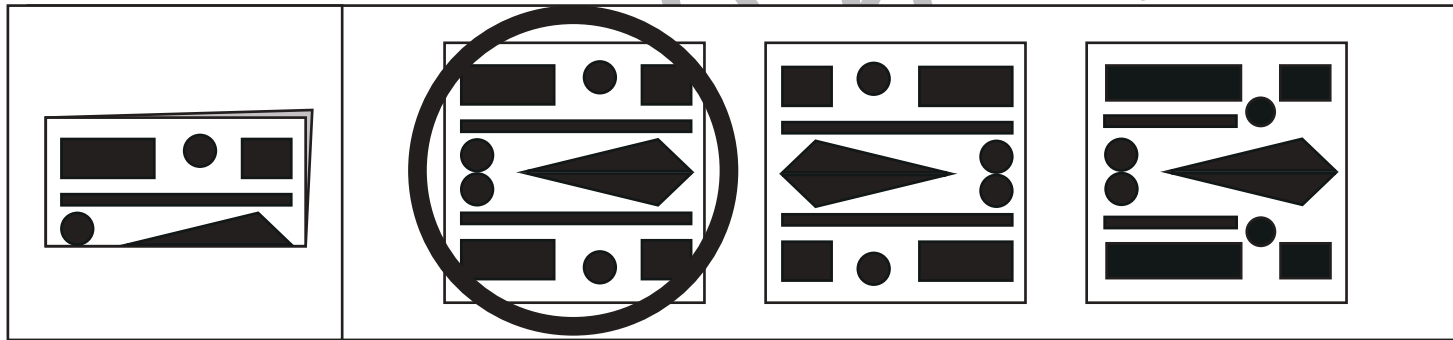

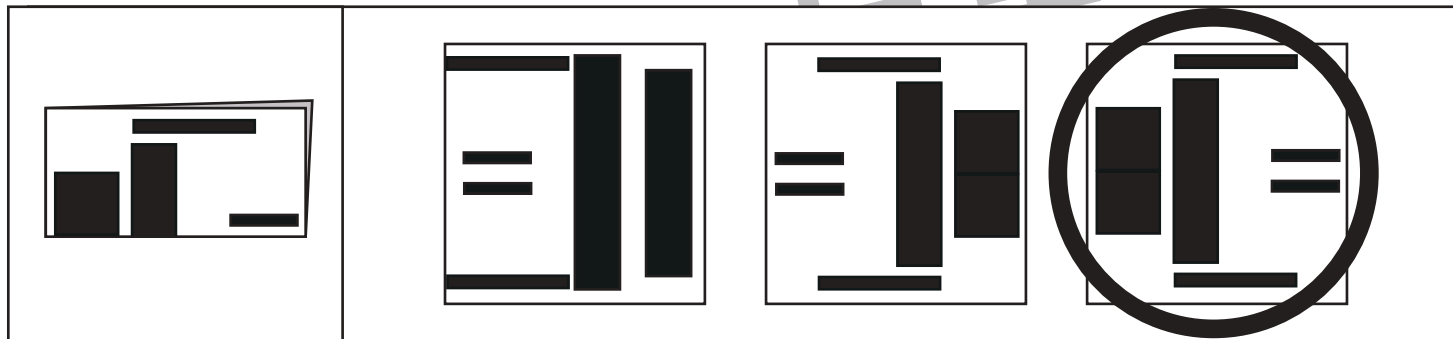

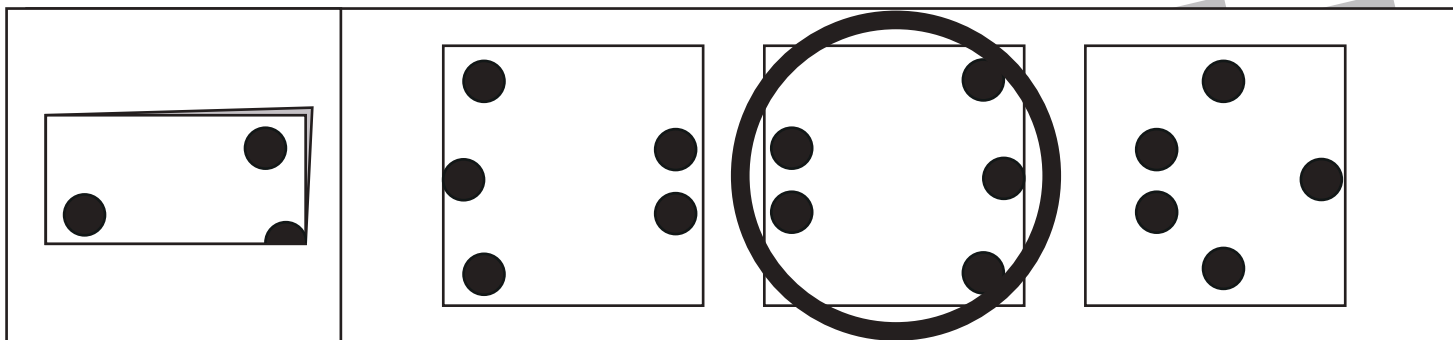
# おうちで、やろう。

Study at home. 小学校受験の家庭学習教材

## 図形：切り抜き 10

左の四角の中は折り紙を折ったものです。

この折り紙の黒い部分を切って広げた時の見え方を考えて、右の3つの中から選んで○をつけます。



※1. このプリントは、しながわ・目黒こどもスクールのウェブサイトからダウンロードできます。無断複写・引用はご遠慮ください。

※2. このプリントを活用したオンライン授業のスケジュールは、しながわ・目黒こどもスクールのウェブサイトでご確認ください。



# おうちで、やろう。

Study at home. 小学校受験の家庭学習教材

## 図形：切り抜き 11

それぞれの四角の中の左の形は上の四角の中のように折り紙を2回折ったものです。  
この折り紙の黒い部分を切り抜いて広げたときの見え方を考えて右の四角にかきます。


※1. このプリントは、しながわ・目黒こどもスクールのウェブサイトからダウンロードできます。無断複写・引用はご遠慮ください。

※2. このプリントを活用したオンライン授業のスケジュールは、しながわ・目黒こどもスクールのウェブサイトでご確認ください。








# おうちで、やろう。

Study at home. 小学校受験の家庭学習教材

## 推理：水量 13

それぞれの四角の中のコップには水が入っています。水の中の白い球を取り出したとき、水の量が一番多くなるコップに○を、一番水の量が少なくなるコップに△をつけます。



※1. このプリントは、しながわ・目黒こどもスクールのウェブサイトからダウンロードできます。無断複写・引用はご遠慮ください。  
※2. このプリントを活用したオンライン授業のスケジュールは、しながわ・目黒こどもスクールのウェブサイトでご確認ください。









# おうちで、やろう。

Study at home. 小学校受験の家庭学習教材

## 推理：水量 14

それぞれの四角の中のコップには水が入っています。水の中の白い球を取り出したとき、水の量が一番多くなるコップに○を、一番水の量が少なくなるコップに△をつけます。



※1. このプリントは、しながわ・目黒こどもスクールのウェブサイトでダウンロードができます。無断複写・引用はご遠慮ください。  
※2. このプリントを活用したオンライン授業のスケジュールは、しながわ・目黒こどもスクールのウェブサイトでご確認ください。










# おうちで、やろう。

Study at home. 小学校受験の家庭学習教材

推理：水量 15

それぞれの四角の中のコップには水が入っています。水の中の白い球を取り出したとき、水の量が一番多くなるコップに○を、一番水の量が少なくなるコップに△をつけます。



※1. このプリントは、しながわ・目黒こどもスクールのウェブサイトからダウンロードできます。無断複写・引用はご遠慮ください。  
※2. このプリントを活用したオンライン授業のスケジュールは、しながわ・目黒こどもスクールのウェブサイトでご確認ください。









# おうちで、やろう。

Study at home. 小学校受験の家庭学習教材

処理：計数 11

上の四角の中の絵の数をかぞえて、下の四角の同じ絵の右にその数だけ〇をかきます。  
この問題はスピードを意識して取り組む練習をしてみましょう。(1分～1分30秒)



	〇×6
	〇×7
	〇×8
	〇×10
	〇×14

※1. このプリントは、しながわ・目黒こどもスクールのウェブサイトでダウンロードができます。無断複写・引用はご遠慮ください。  
※2. このプリントを活用したオンライン授業のスケジュールは、しながわ・目黒こどもスクールのウェブサイトでご確認ください。