


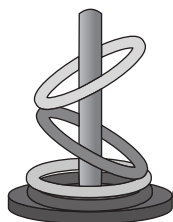




おうちで、やろう。

Study at home. 小学校受験の家庭学習教材

言語：しりとり 14

下の絵をすべて使ってしりとりでつなげます。最後になる絵に○をつけます。



※1. このプリントは、しながわ・目黒こどもスクールのウェブサイトでダウンロードができます。無断複写・引用はご遠慮ください。
※2. このプリントを活用したオンライン授業のスケジュールは、しながわ・目黒こどもスクールのウェブサイトでご確認ください。









おうちで、やろう。

Study at home. 小学校受験の家庭学習教材

言語：しりとり 15

下の絵をすべて使ってしりとりでつなげます。最後になる絵に○をつけます。



※1. このプリントは、しながわ・目黒こどもスクールのウェブサイトでダウンロードができます。無断複写・引用はご遠慮ください。
※2. このプリントを活用したオンライン授業のスケジュールは、しながわ・目黒こどもスクールのウェブサイトでご確認ください。






おうちで、やろう。


Study at home. 小学校受験の家庭学習教材

常識：野菜・果物2

①木になる食べ物に○を付けます。



②実を食べる野菜に△をつけ、葉っぱを食べる野菜に×を付けます。



※1. このプリントは、しながわ・目黒こどもスクールのウェブサイトからダウンロードできます。無断複写・引用はご遠慮ください。
※2. このプリントを活用したオンライン授業のスケジュールは、しながわ・目黒こどもスクールのウェブサイトでご確認ください。















おうちで、やろう。

Study at home. 小学校受験の家庭学習教材

常識：生き物7

左の四角にはある生き物のしっぽ、右の四角にはある生き物の顔があります。
同じ生き物どうしての点と点を線で結びます。



※1. このプリントは、しながわ・目黒こどもスクールのウェブサイトでダウンロードができます。無断複写・引用はご遠慮ください。
※2. このプリントを活用したオンライン授業のスケジュールは、しながわ・目黒こどもスクールのウェブサイトでご確認ください。




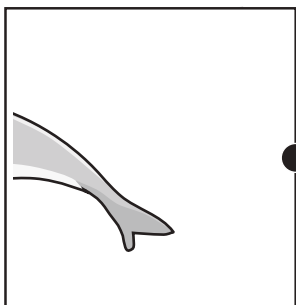










おうちで、やろう。

Study at home. 小学校受験の家庭学習教材

常識：生き物8

左の四角にはある生き物のしっぽ、右の四角にはある生き物の顔があります。
同じ生き物どうしての点と点を線で結びます。



※1. このプリントは、しながわ・目黒こどもスクールのウェブサイトでダウンロードができます。無断複写・引用はご遠慮ください。
※2. このプリントを活用したオンライン授業のスケジュールは、しながわ・目黒こどもスクールのウェブサイトでご確認ください。


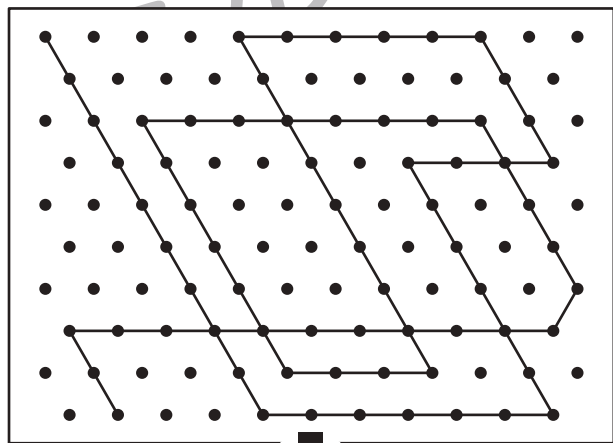

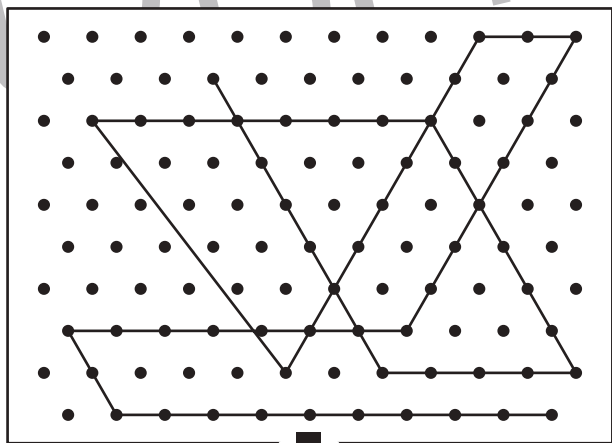

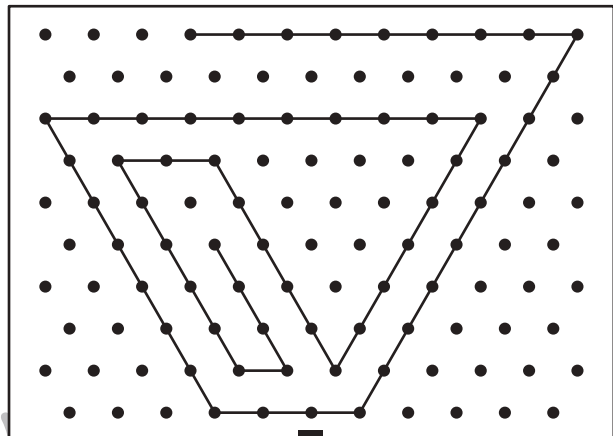

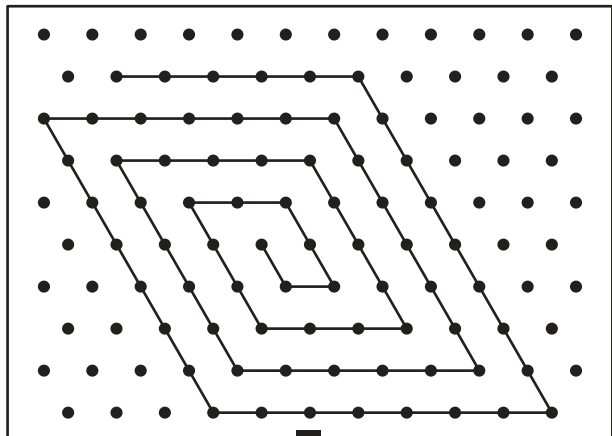


おうちで、やろう。

Study at home. 小学校受験の家庭学習教材

図形：点図形 47

上のお手本と同じになるように下の四角の点と点を結びます。※このプリントに解答はありません。



※1. このプリントは、しながわ・目黒こどもスクールのウェブサイトでダウンロードができます。無断複写・引用はご遠慮ください。

※2. このプリントを活用したオンライン授業のスケジュールは、しながわ・目黒こどもスクールのウェブサイトでご確認ください。






おうちで、やろう。

Study at home. 小学校受験の家庭学習教材

数量：合わせた数 15

上の大きな四角の中の4つの記号はそれぞれいくつありますか。

下の四角の中にある2つの記号を合わせた数だけそれぞれの四角に○をかきます。



※1. このプリントは、しながわ・目黒こどもスクールのウェブサイトでダウンロードができます。無断複写・引用はご遠慮ください。

※2. このプリントを活用したオンライン授業のスケジュールは、しながわ・目黒こどもスクールのウェブサイトでご確認ください。




おうちで、やろう。

Study at home. 小学校受験の家庭学習教材

数量：合わせた数 16

上の大きな四角の中の4つの記号はそれぞれいくつありますか。
下の四角の中にある2つの記号を合わせた数だけそれぞれの四角に○をかきます。



※1. このプリントは、しながわ・目黒こどもスクールのウェブサイトでダウンロードができます。無断複写・引用はご遠慮ください。
※2. このプリントを活用したオンライン授業のスケジュールは、しながわ・目黒こどもスクールのウェブサイトでご確認ください。







おうちで、やろう。

Study at home. 小学校受験の家庭学習教材

運筆：模写5

左のお手本と同じ顔を右の四角に描きます。大きさや形に気を付けて描きましょう
※コピー、鉛筆、ラッシュンペンなどいろいろな筆記具で描いてみましょう。
※この問題に解答はありません。



※1. このプリントは、しながわ・目黒こどもスクールのウェブサイトでダウンロードができます。無断複写・引用はご遠慮ください。
※2. このプリントを活用したオンライン授業のスケジュールは、しながわ・目黒こどもスクールのウェブサイトでご確認ください。





おうちで、やろう。

Study at home. 小学校受験の家庭学習教材

運筆：模写6

左のお手本と同じ顔を右の四角に描きます。大きさや形に気を付けて描きましょう
※コピー、鉛筆、ラッシュンペンなどいろいろな筆記具で描いてみましょう。
※この問題に解答はありません。



※1. このプリントは、しながわ・目黒こどもスクールのウェブサイトでダウンロードができます。無断複写・引用はご遠慮ください。
※2. このプリントを活用したオンライン授業のスケジュールは、しながわ・目黒こどもスクールのウェブサイトでご確認ください。