





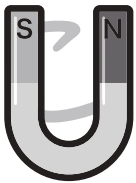

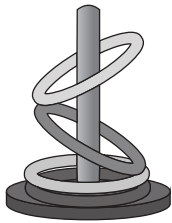


# おうちで、やろう。

Study at home. 小学校受験の家庭学習教材

言語：しりとり 14

下の絵をすべて使ってしりとりでつなげます。最後になる絵に○をつけます。

サメ→メダカ→懐中電灯→うちわ→わなげ→げた→たわし→しめじ→じしゃく→クジラ  
→ラクダ→だるま→マラカス→すべり台



※1. このプリントは、しながわ・目黒こどもスクールのウェブサイトでダウンロードができます。無断複写・引用はご遠慮ください。  
※2. このプリントを活用したオンライン授業のスケジュールは、しながわ・目黒こどもスクールのウェブサイトでご確認ください。





# おうちで、やろう。



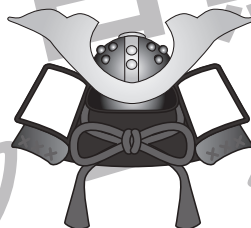




Study at home. 小学校受験の家庭学習教材

言語：しりとり 15

下の絵をすべて使ってしりとりでつなげます。最後になる絵に○をつけます。

鉛筆→積み木→キツツキ→切り株→ブタ→太鼓→コウモリ→りんご→ゴルフ→フクロウ

→ウシ→シカ→兜→トウモロコシ



※1. このプリントは、しながわ・目黒こどもスクールのウェブサイトでダウンロードができます。無断複写・引用はご遠慮ください。  
※2. このプリントを活用したオンライン授業のスケジュールは、しながわ・目黒こどもスクールのウェブサイトでご確認ください。






# おうちで、やろう。


Study at home. 小学校受験の家庭学習教材

## 常識：野菜・果物2

①木になる食べ物に○を付けます。



②実を食べる野菜に△をつけ、葉っぱを食べる野菜に×を付けます。



※1. このプリントは、しながわ・目黒こどもスクールのウェブサイトからダウンロードできます。無断複写・引用はご遠慮ください。

※2. このプリントを活用したオンライン授業のスケジュールは、しながわ・目黒こどもスクールのウェブサイトでご確認ください。



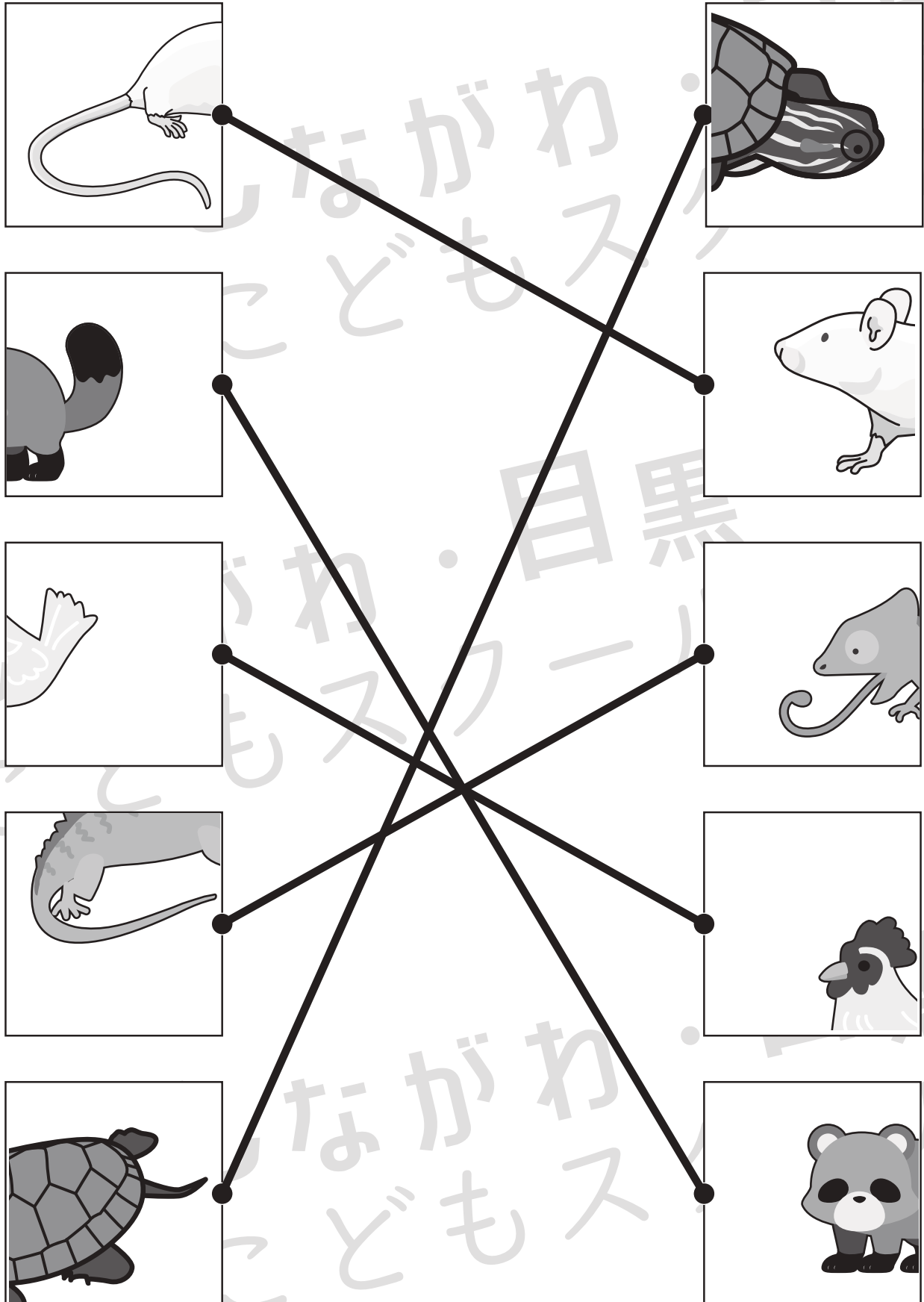


# おうちで、やろう。

Study at home. 小学校受験の家庭学習教材

常識：生き物7

左の四角にはある生き物のしっぽ、右の四角にはある生き物の顔があります。  
同じ生き物どうしての点と点を線で結びます。



※1. このプリントは、しながわ・目黒こどもスクールのウェブサイトでダウンロードができます。無断複写・引用はご遠慮ください。  
※2. このプリントを活用したオンライン授業のスケジュールは、しながわ・目黒こどもスクールのウェブサイトでご確認ください。

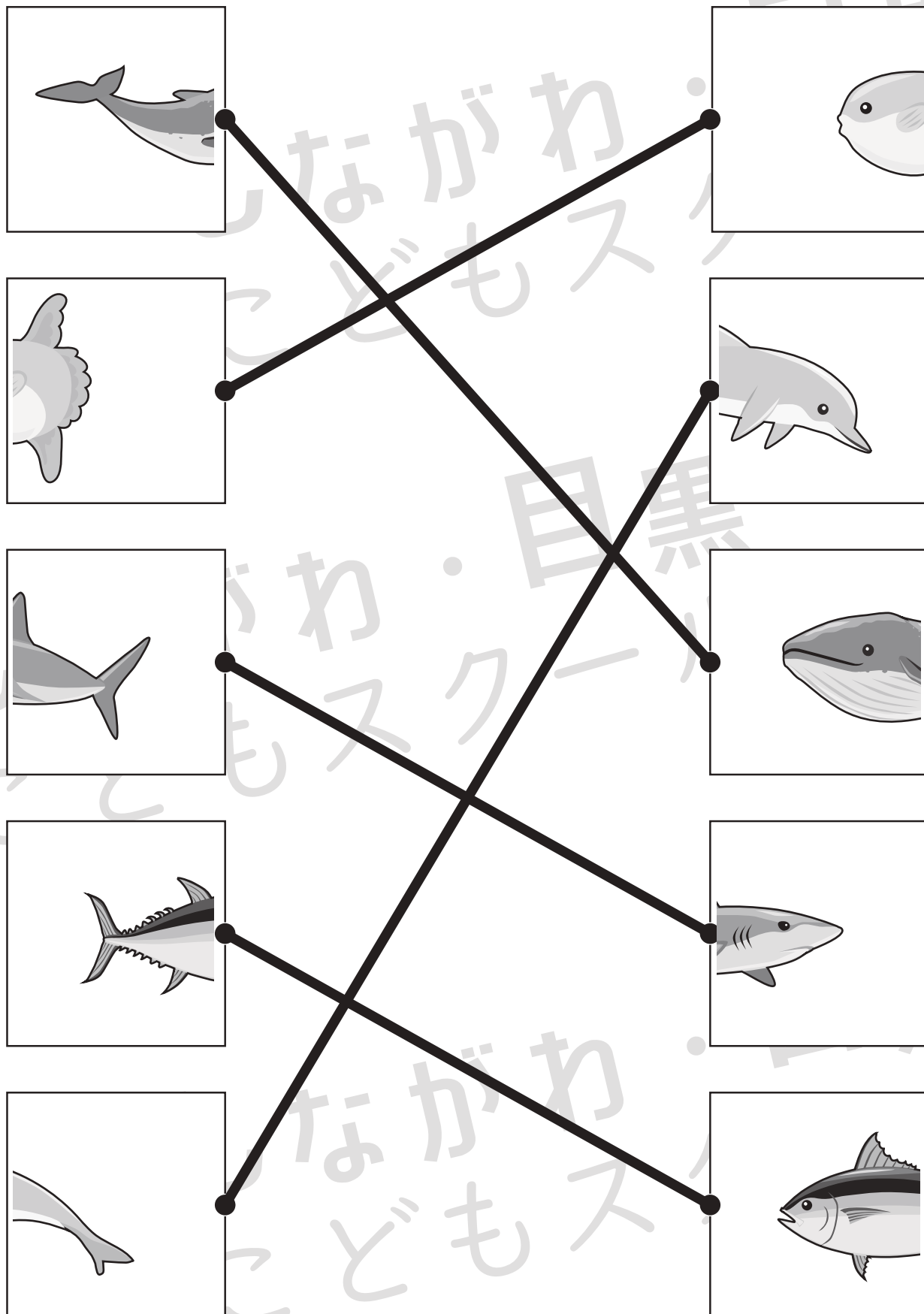


# おうちで、やろう。

Study at home. 小学校受験の家庭学習教材

## 常識：生き物8

左の四角にはある生き物のしっぽ、右の四角にはある生き物の顔があります。  
同じ生き物どうしての点と点を線で結びます。



※1. このプリントは、しながわ・目黒こどもスクールのウェブサイトでダウンロードができます。無断複写・引用はご遠慮ください。

※2. このプリントを活用したオンライン授業のスケジュールは、しながわ・目黒こどもスクールのウェブサイトでご確認ください。












# おうちで、よろう。

Study at home. 小学校受験の家庭学習教材

数量：合わせた数 15

上の大きな四角の中の4つの記号はそれぞれいくつありますか。  
下の四角の中にある2つの記号を合わせた数だけそれぞれの四角に○をかきます。



 	$\bigcirc \times 8$
 	$\bigcirc \times 9$
 	$\bigcirc \times 8$
 	$\bigcirc \times 11$

※1. このプリントは、しながわ・目黒こどもスクールのウェブサイトでダウンロードができます。無断複写・引用はご遠慮ください。  
※2. このプリントを活用したオンライン授業のスケジュールは、しながわ・目黒こどもスクールのウェブサイトでご確認ください。



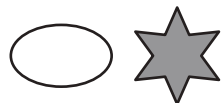

# おうちで、よろう。

Study at home. 小学校受験の家庭学習教材

数量：合わせた数 16

上の大きな四角の中の4つの記号はそれぞれいくつありますか。

下の四角の中にある2つの記号を合わせた数だけそれぞれの四角に○をかきます。



$$\bigcirc \times 15$$



$$\bigcirc \times 11$$



$$\bigcirc \times 13$$



$$\bigcirc \times 17$$

※1. このプリントは、しながわ・目黒こどもスクールのウェブサイトでダウンロードができます。無断複写・引用はご遠慮ください。

※2. このプリントを活用したオンライン授業のスケジュールは、しながわ・目黒こどもスクールのウェブサイトでご確認ください。

