



おうちで、やろう。

Study at home. 小学校受験の家庭学習教材

言語：音の数 19

下の四角の中の絵の名前を考えます。①、②の問題に答えます。

①音の数が5つの名前の絵に○をつけます。

②音の数が4つの名前の絵に△をつけます。



※1. このプリントは、しながわ・目黒こどもスクールのウェブサイトでダウンロードができます。無断複写・引用はご遠慮ください。

※2. このプリントを活用したオンライン授業のスケジュールは、しながわ・目黒こどもスクールのウェブサイトでご確認ください。



おうちで、やろう。


Study at home. 小学校受験の家庭学習教材

言語：音の理解 38

下の四角の中の絵の名前を考えます。①、②の問題に答えます。

①名前の中に「ハンガー」のように伸ばす音があるものに○をつけます。

②名前の中に「かばん」のように濁る音があるものに△をつけます。



※1. このプリントは、しながわ・目黒こどもスクールのウェブサイトでダウンロードができます。無断複写・引用はご遠慮ください。

※2. このプリントを活用したオンライン授業のスケジュールは、しながわ・目黒こどもスクールのウェブサイトでご確認ください。








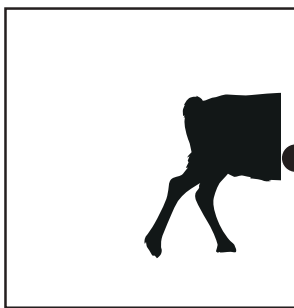




おうちで、やろう。

Study at home. 小学校受験の家庭学習教材

常識：生き物9

左の四角と右の四角にはそれぞれある生き物のシルエットがあります。
同じ生き物の点と点を線で結びます。



※1. このプリントは、しながわ・目黒こどもスクールのウェブサイトでダウンロードができます。無断複写・引用はご遠慮ください。
※2. このプリントを活用したオンライン授業のスケジュールは、しながわ・目黒こどもスクールのウェブサイトでご確認ください。



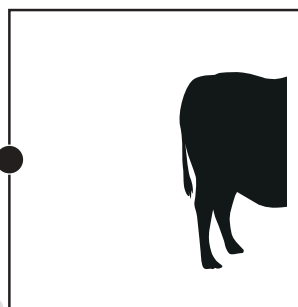

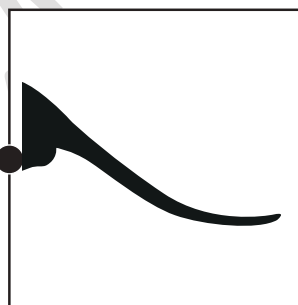

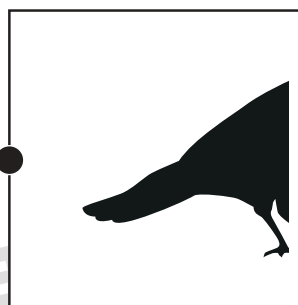





おうちで、やろう。

Study at home. 小学校受験の家庭学習教材

常識：生き物 10

左の四角と右の四角にはそれぞれある生き物のシルエットがあります。
同じ生き物の点と点を線で結びます。



※1. このプリントは、しながわ・目黒こどもスクールのウェブサイトでダウンロードができます。無断複写・引用はご遠慮ください。

※2. このプリントを活用したオンライン授業のスケジュールは、しながわ・目黒こどもスクールのウェブサイトでご確認ください。





おうちで、やろう。

Study at home. 小学校受験の家庭学習教材

図形：移動 43

丸で囲んである点から上の四角の矢印を左から順番に進むと○の場所につきます。このとき、残りの空いている2つの四角にどの向きの矢印があればよいですか。進む方向の矢印をかきます。矢印は左(←)、右(→)、下(↓)、上(↑)の4つをかきます。

←	↓	↓	←		
●	●	●	●	●	●
●	●	●	◎	●	●
●	●	●	●	●	●
●	●	●	●	●	●
○	●	●	●	●	●

→	↑	→	↑		
●	●	●	●	●	●
●	●	●	●	●	●
●	●	●	○	●	●
◎	●	●	●	●	●
●	●	●	●	●	●

←	↑	↑	←		
●	○	●	●	●	●
●	●	●	●	●	●
●	●	●	●	●	●
●	●	●	●	◎	●
●	●	●	●	●	●

↓	←	↓	←		
●	●	●	◎	●	●
●	●	●	●	●	●
●	●	●	●	●	●
●	○	●	●	●	●
●	●	●	●	●	●

※1. このプリントは、しながわ・目黒こどもスクールのウェブサイトダウンロードができます。無断複写・引用はご遠慮ください。

※2. このプリントを活用したオンライン授業のスケジュールは、しながわ・目黒こどもスクールのウェブサイトでご確認ください。



おうちで、やろう。

Study at home. 小学校受験の家庭学習教材

図形：移動 44

丸で囲んである点から上の四角の矢印を左から順番に進むと○の場所につきます。このとき、残りの空いている2つの四角にどの向きの矢印があればよいですか。進む方向の矢印をかきます。矢印は左(←)、右(→)、下(↓)、上(↑)の4つをかきます。

→	↓	→	↓		
●	●	●	●	●	●
●	⊙	●	●	●	●
●	●	●	●	●	●
●	●	●	●	●	●
●	●	○	●	●	●

↑	↑	←	↓		
●	●	●	●	●	●
●	●	●	●	●	●
●	●	●	●	●	●
○	●	⊙	●	●	●
●	●	●	●	●	●

←	←	↓	↓		
●	●	●	●	●	●
●	●	⊙	●	●	●
●	●	●	●	●	●
●	●	●	●	●	●
●	○	●	●	●	●

→	↑	→	→		
●	●	●	●	●	●
●	●	●	●	●	●
●	⊙	●	●	●	●
●	●	●	●	●	○
●	●	●	●	●	●

※1. このプリントは、しながわ・目黒こどもスクールのウェブサイトでダウンロードができます。無断複写・引用はご遠慮ください。

※2. このプリントを活用したオンライン授業のスケジュールは、しながわ・目黒こどもスクールのウェブサイトでご確認ください。



おうちで、やろう。

Study at home. 小学校受験の家庭学習教材

図形：移動 45

丸で囲んである点から上の四角の矢印を左から順番に進むと○の場所につきます。このとき、残りの空いている2つの四角にどの向きの矢印があればよいですか。進む方向の矢印をかきます。矢印は左(←)、右(→)、下(↓)、上(↑)、斜め(↘、↗、↙、↖)の8つをかきます。

→	↗	↗			
●	●	●	●	●	●
●	○	●	●	●	●
●	◎	●	●	●	●
●	●	●	●	●	●
●	●	●	●	●	●

↙	↖	←			
●	●	●	●	●	●
●	●	●	○	●	●
●	●	●	◎	●	●
●	●	●	●	●	●
●	●	●	●	●	●

→	↗	↗			
●	●	●	●	●	●
●	●	●	●	●	●
●	○	●	●	●	●
●	●	●	●	●	●
●	◎	●	●	●	●

↙	→	↗			
●	●	●	●	●	●
●	●	●	●	●	●
●	○	●	●	●	●
●	●	◎	●	●	●
●	●	●	●	●	●

※1. このプリントは、しながわ・目黒こどもスクールのウェブサイトでダウンロードができます。無断複写・引用はご遠慮ください。
※2. このプリントを活用したオンライン授業のスケジュールは、しながわ・目黒こどもスクールのウェブサイトでご確認ください。

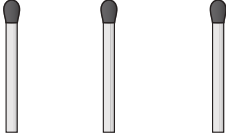
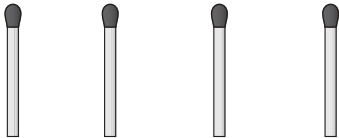
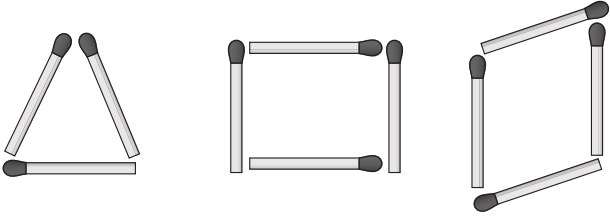
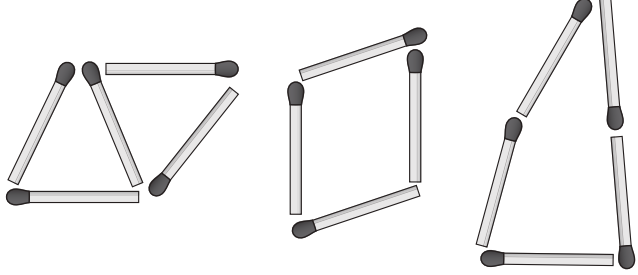




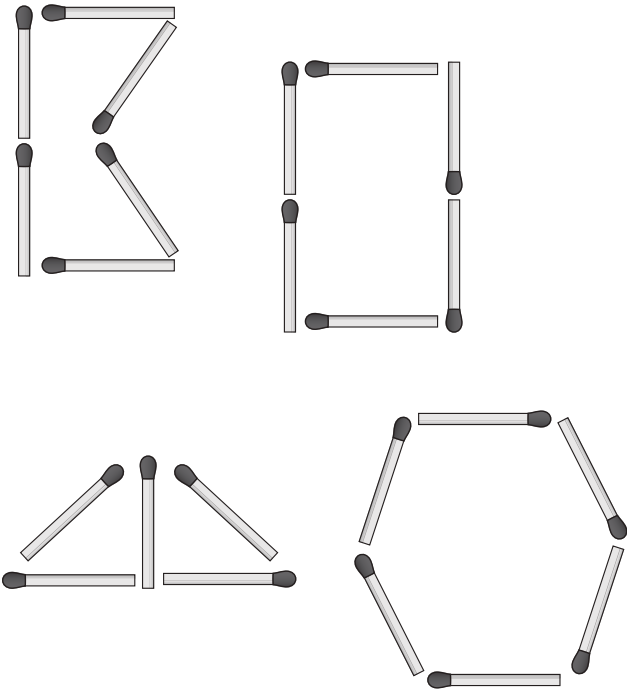
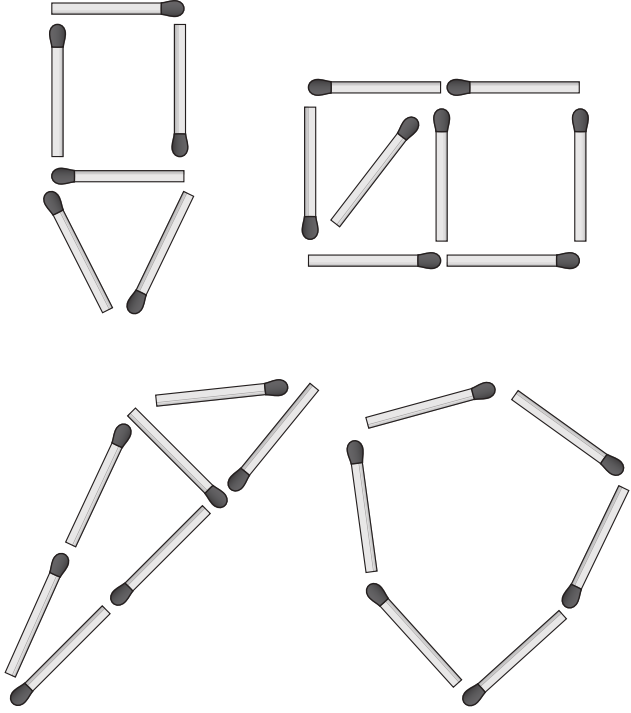
おうちで、やろう。

Study at home. 小学校受験の家庭学習教材

数量：マッチの数 2

上の四角の中のマッチの数がお手本です。下の四角の中の形はマッチを使って作ったものです。上のお手本の数でできているものを見つけて○をつけます。

※1. このプリントは、しながわ・目黒こどもスクールのウェブサイトからダウンロードできます。無断複写・引用はご遠慮ください。
 ※2. このプリントを活用したオンライン授業のスケジュールは、しながわ・目黒こどもスクールのウェブサイトでご確認ください。



おうちで、やろう。

Study at home. 小学校受験の家庭学習教材

数量：マッチの数 3

上の四角の中のマッチでできた形がお手本です。上のお手本の形と同じマッチの数でできているものを見つけて○をつけます。

※1. このプリントは、しながわ・目黒こどもスクールのウェブサイトでダウンロードができます。無断複写・引用はご遠慮ください。
 ※2. このプリントを活用したオンライン授業のスケジュールは、しながわ・目黒こどもスクールのウェブサイトでご確認ください。


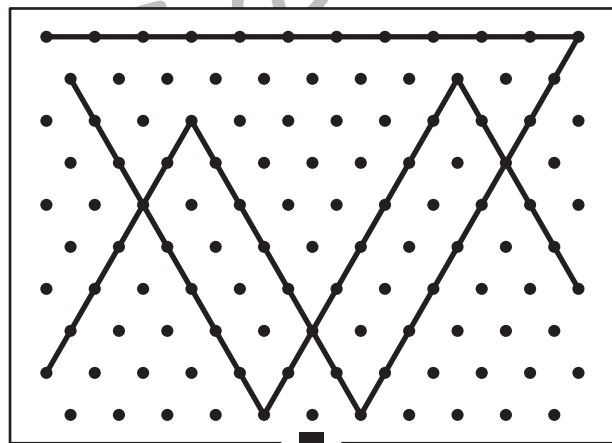

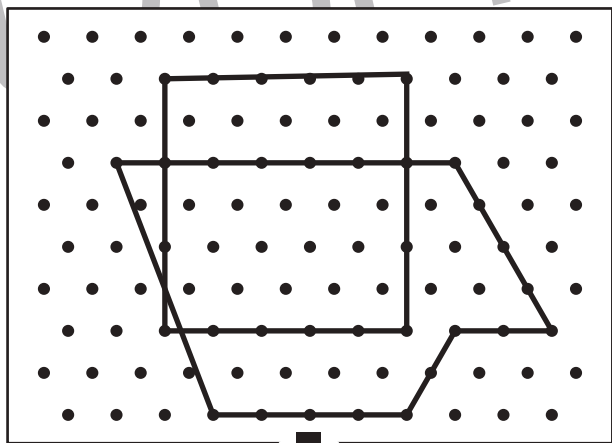

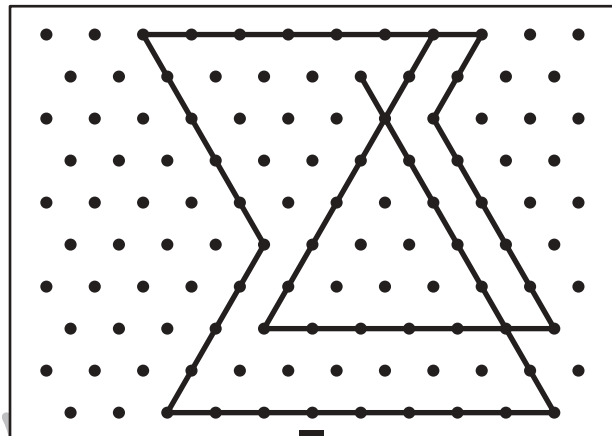

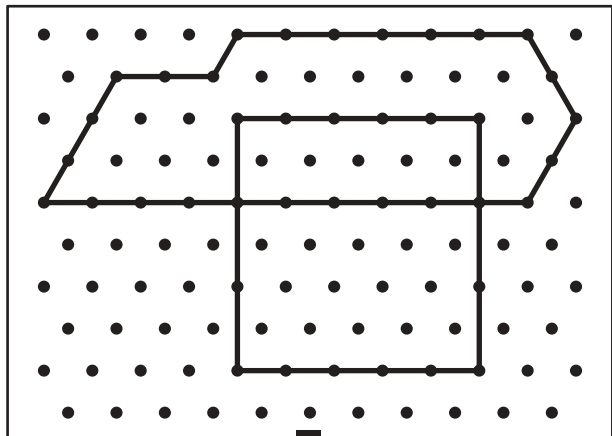


おうちで、よろう。

Study at home. 小学校受験の家庭学習教材

図形：点図形 48

上のお手本と同じになるように下の四角の点と点を結びます。※このプリントに解答はありません。



※1. このプリントは、しながわ・目黒こどもスクールのウェブサイトでダウンロードができます。無断複写・引用はご遠慮ください。

※2. このプリントを活用したオンライン授業のスケジュールは、しながわ・目黒こどもスクールのウェブサイトでご確認ください。

