

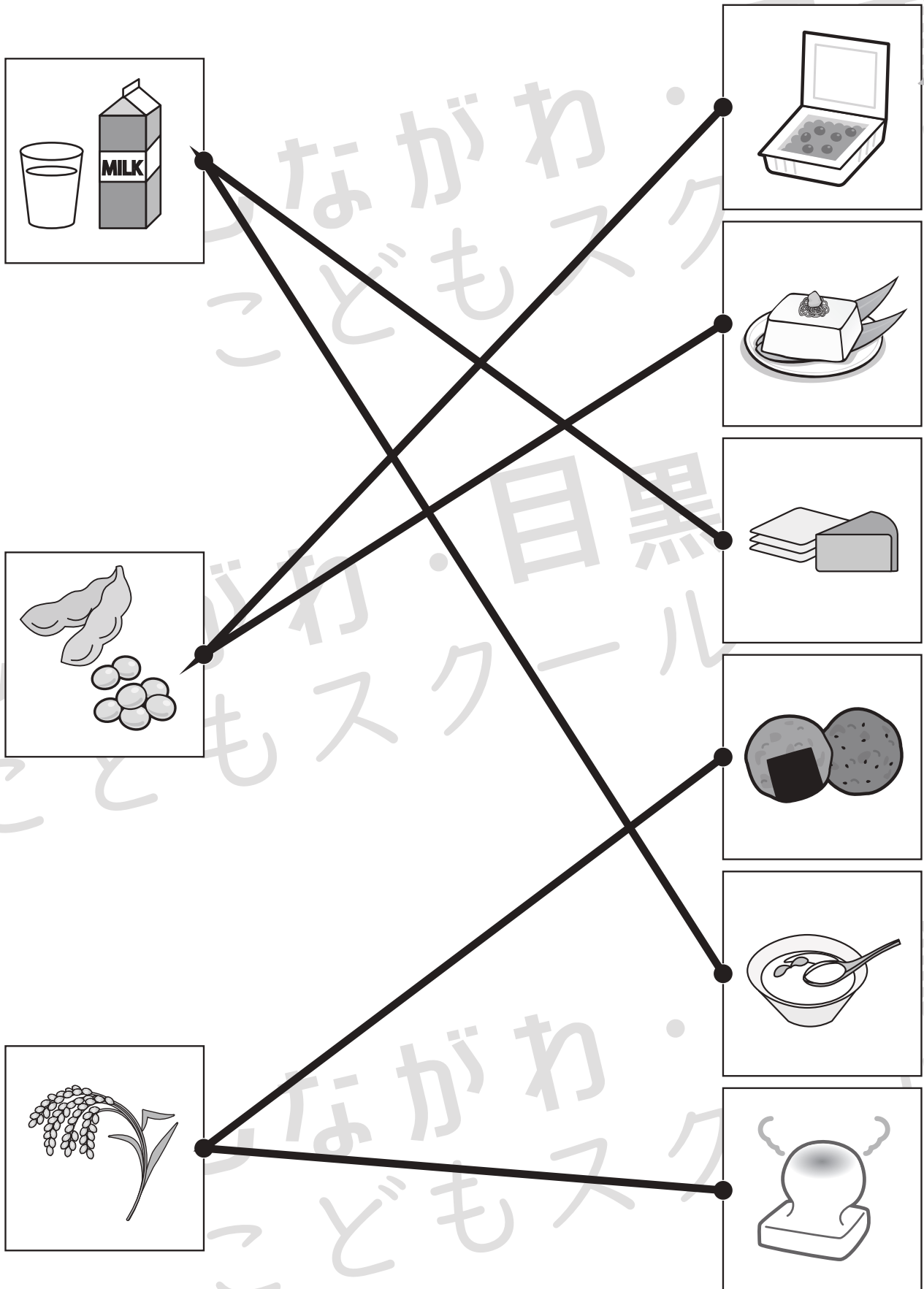


# おうちで、やろう。

Study at home. 小学校受験の家庭学習教材

常識：生活 13

左の四角の中のものからできる食べ物を右の中から選んで点と点を線で結びます。



※1. このプリントは、しながわ・目黒こどもスクールのウェブサイトでダウンロードができます。無断複写・引用はご遠慮ください。  
※2. このプリントを活用したオンライン授業のスケジュールは、しながわ・目黒こどもスクールウェブサイトでご確認ください。

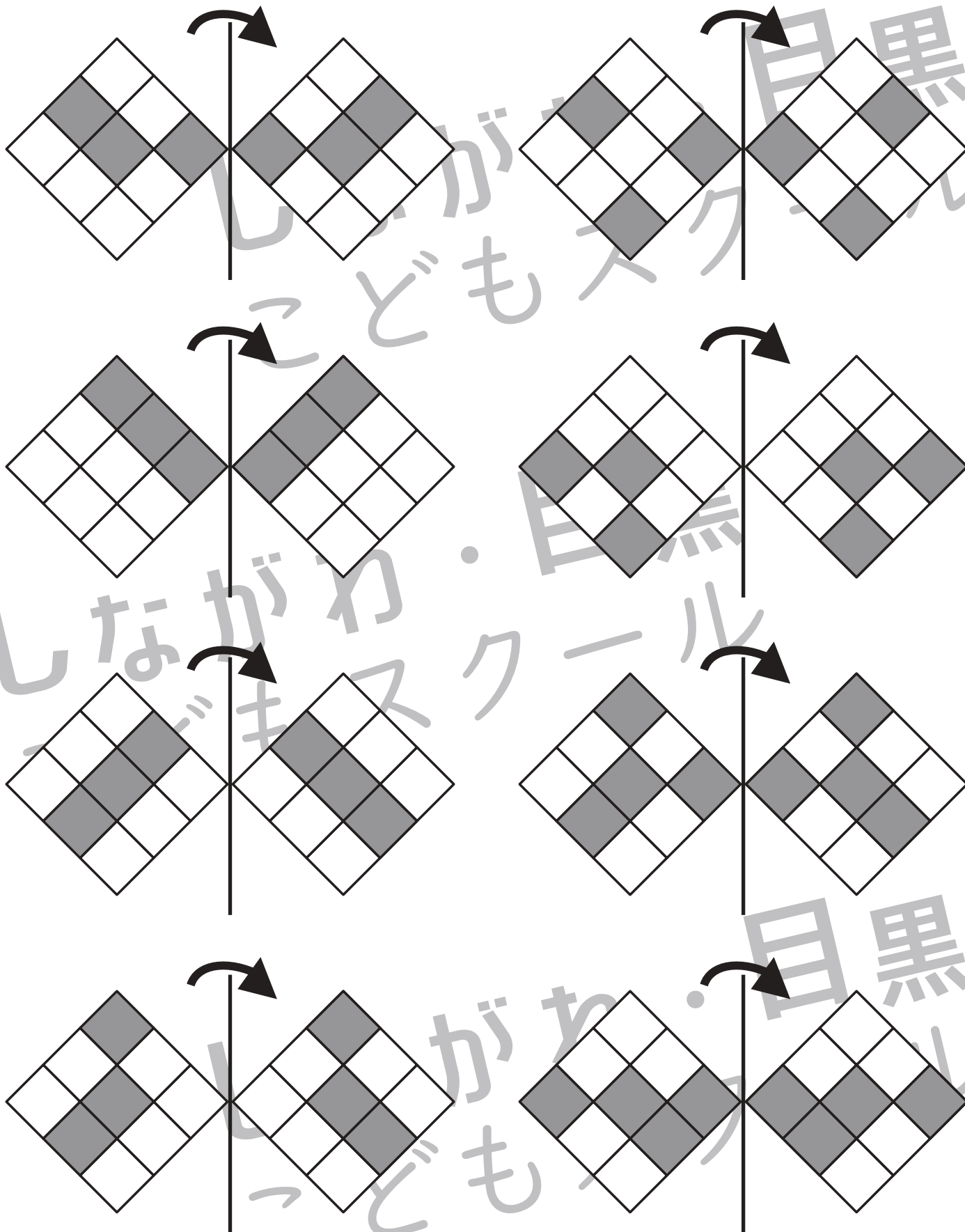


# おうちで、やろう。

Study at home. 小学校受験の家庭学習教材

## 図形：折り重ね 32

それぞれの四角は透明です。真ん中の線で矢印の方へ折り重ねた時の見え方を考えて、マス塗りします。



※1. このプリントは、しながわ・目黒こどもスクールのウェブサイトでダウンロードができます。無断複写・引用はご遠慮ください。  
 ※2. このプリントを活用したオンライン授業のスケジュールは、しながわ・目黒こどもスクールのウェブサイトでご確認ください。

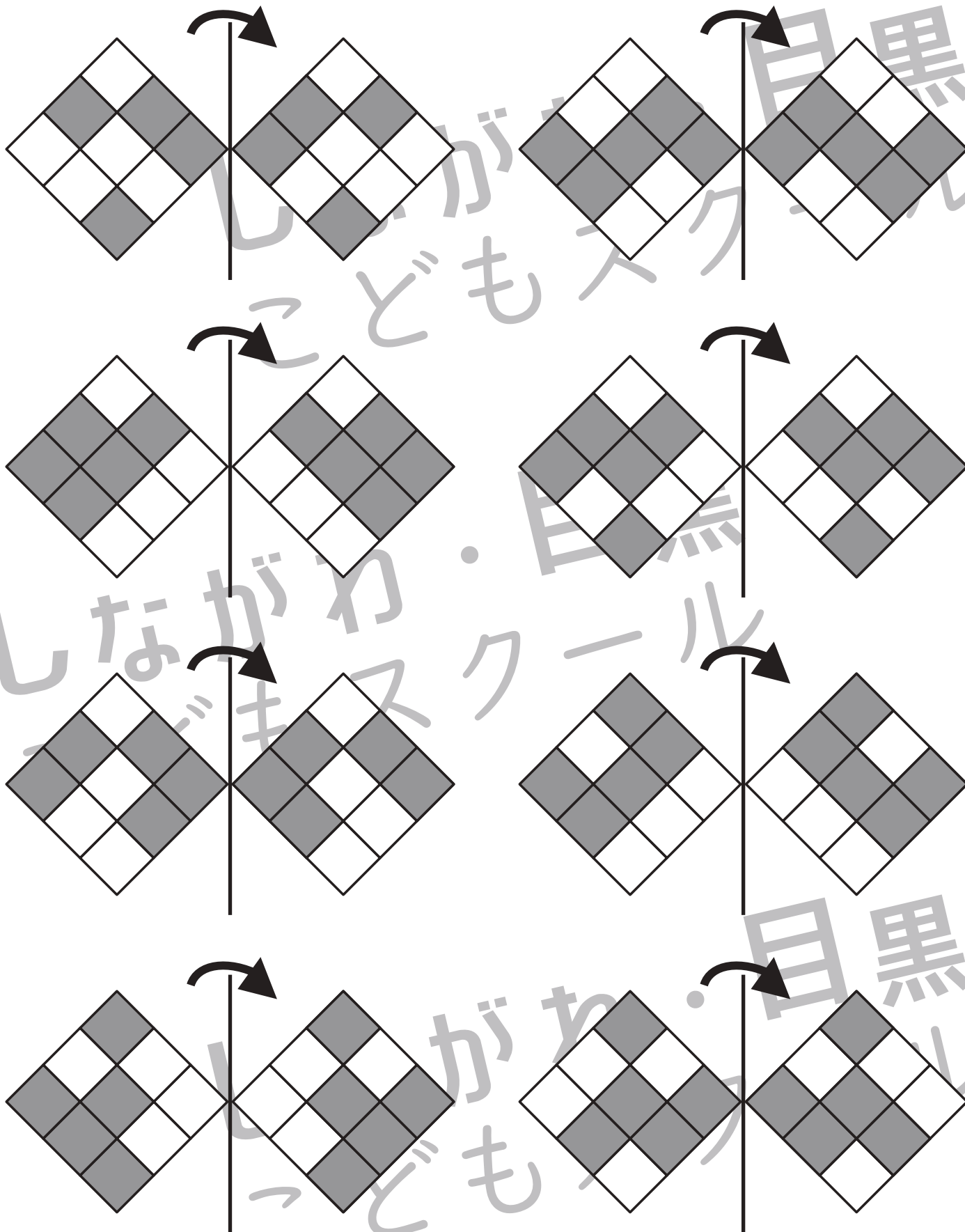


# おうちで、やろう。

Study at home. 小学校受験の家庭学習教材

## 図形：折り重ね 33

それぞれの四角は透明です。真ん中の線で矢印の方へ折り重ねた時の見え方を考えて、マス塗りします。



※1. このプリントは、しながわ・目黒こどもスクールのウェブサイトでダウンロードができます。無断複写・引用はご遠慮ください。  
 ※2. このプリントを活用したオンライン授業のスケジュールは、しながわ・目黒こどもスクールのウェブサイトでご確認ください。

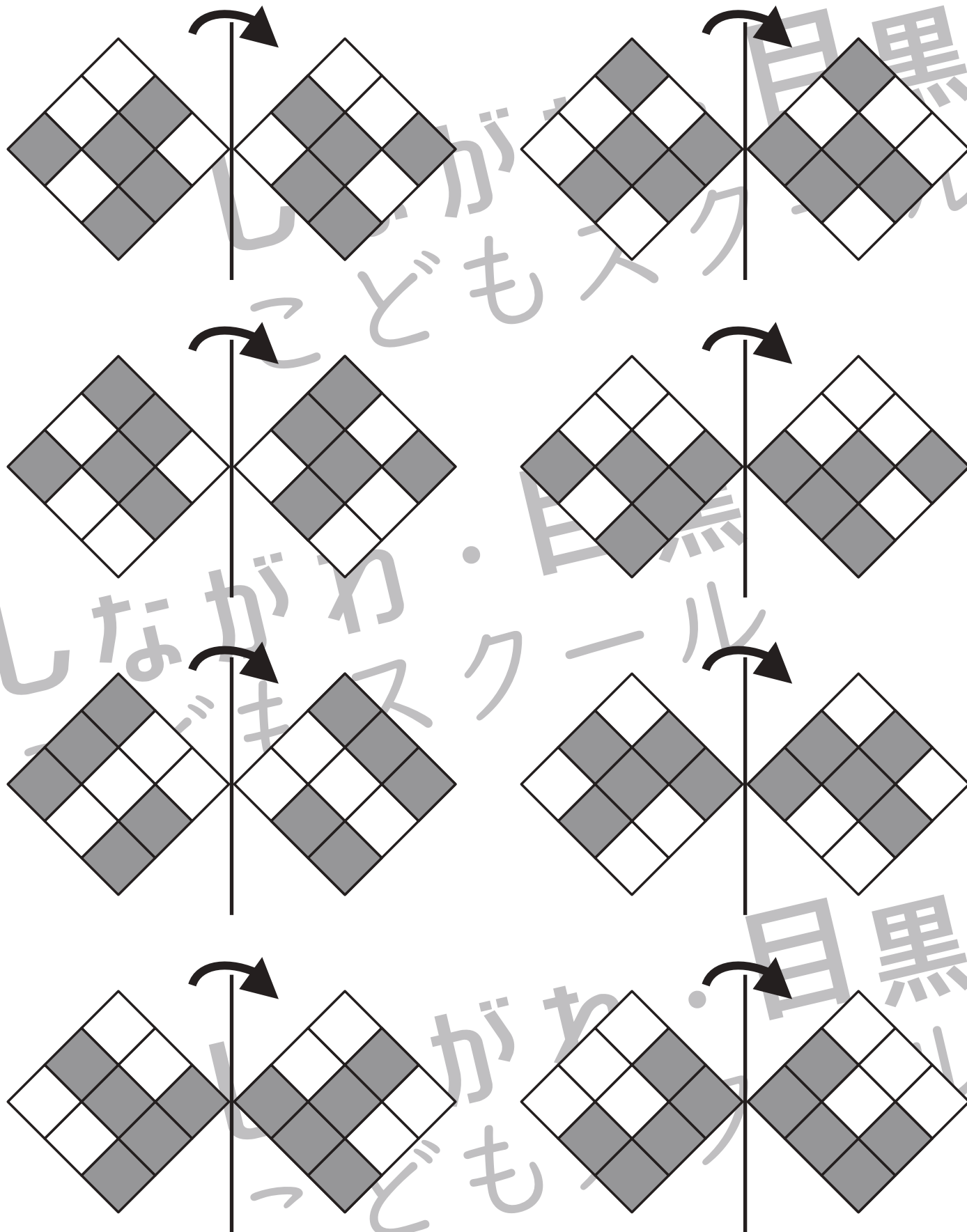


# おうちで、やろう。

Study at home. 小学校受験の家庭学習教材

## 図形：折り重ね 34

それぞれの四角は透明です。真ん中の線で矢印の方へ折り重ねた時の見え方を考えて、マスを塗ります。



※1. このプリントは、しながわ・目黒こどもスクールのウェブサイトでダウンロードができます。無断複写・引用はご遠慮ください。  
 ※2. このプリントを活用したオンライン授業のスケジュールは、しながわ・目黒こどもスクールのウェブサイトでご確認ください。




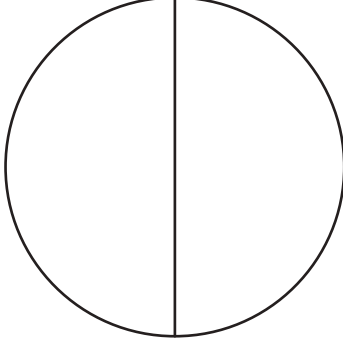
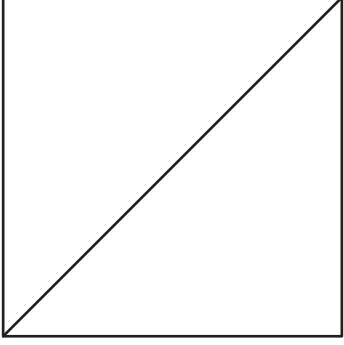
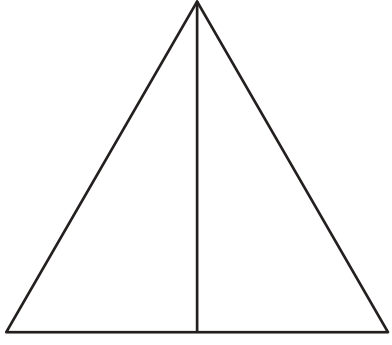
# おうちで、やろう。


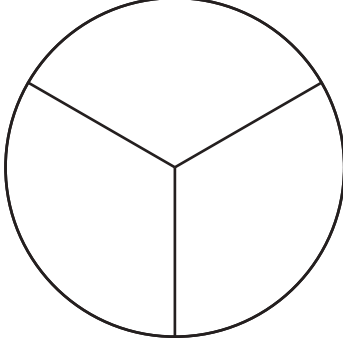

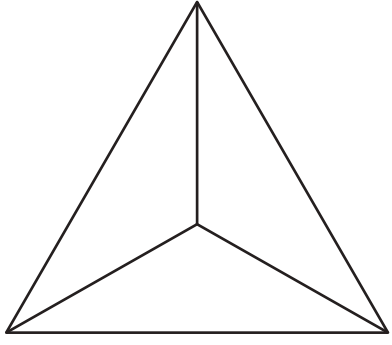
Study at home. 小学校受験の家庭学習教材


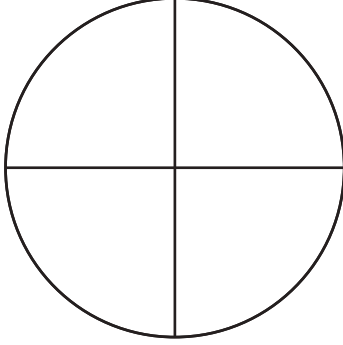

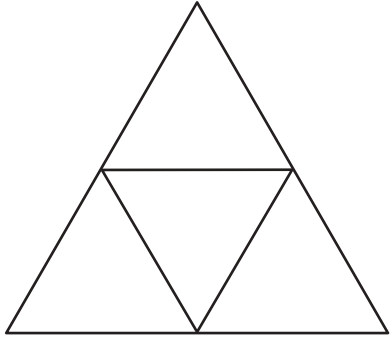
## 図形：等分5

右の四角の中の形を左の四角の中のおともだちで仲良く同じ形で同じ大きさで分けます。どのように分けたらよいのか考えて、線を書きます。この問題は鉛筆で取り組み、間違えてしまったら消しゴムを使い、かきなおしましょう。

※答えは一例です。他の分け方もありますので、合っていたら丸をつけてあげてください。

			
---	---	--	---

			
---	---	--	---

			
---	---	--	---

※1. このプリントは、しながわ・目黒こどもスクールのウェブサイトからダウンロードできます。無断複写・引用はご遠慮ください。

※2. このプリントを活用したオンライン授業のスケジュールは、しながわ・目黒こどもスクールのウェブサイトでご確認ください。




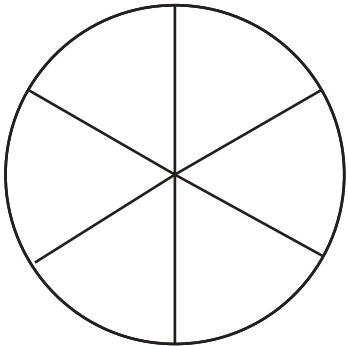



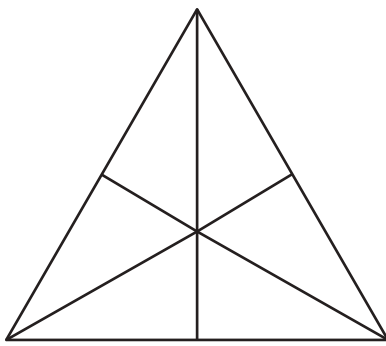
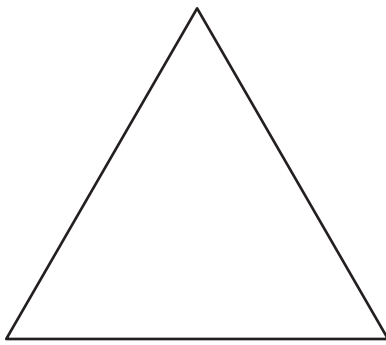
# おうちで、やろう。


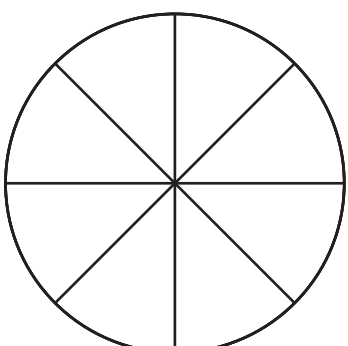

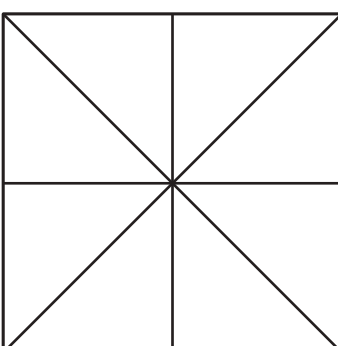

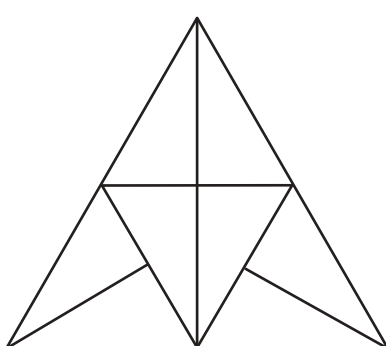
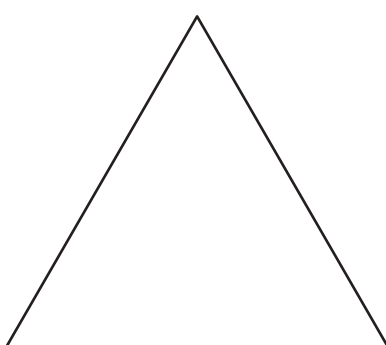
Study at home. 小学校受験の家庭学習教材

## 図形：等分6

右の四角の中の○、□、△を1つずつ左の四角の中のおともだちで仲良く同じ形で同じ大きさで分けます。どのように分けたらよいのか考えて、上の形に線を書きます。間違えてしまった場合は、下の形にかきなおしましょう。

※答えは一例です。他の分け方もありますので、合っていたら丸をつけてあげてください。

	 	 	 
---	---	---	---

	 	 	 
--	--	--	--

※1. このプリントは、しながわ・目黒こどもスクールのウェブサイトでダウンロードができます。無断複写・引用はご遠慮ください。

※2. このプリントを活用したオンライン授業のスケジュールは、しながわ・目黒こどもスクールのウェブサイトでご確認ください。





















# おうちで、やろう。










Study at home. 小学校受験の家庭学習教材










## 推理：じゃんけん 19










お友だちが袋の中のクッキーを持って動物たちと順番にじゃんけんをしていきます。お友だちがじゃんけんでは勝つと動物たちからクッキーを2枚もらえます。負けてしまうと動物たちにクッキーを3枚あげます。あいこのときはなにもありません。この約束のとき、最後の動物とじゃんけんをした後、お友だちが持っているクッキーの数だけ右の四角の中に○をかきます。それぞれが出す手は上の吹き出しの中にあります。

					$\bigcirc \times 2$
					

					$\bigcirc \times 7$
					

					$\bigcirc \times 3$
					

					$\bigcirc \times 6$
					

					$\bigcirc \times 5$
					

※1. このプリントは、しながわ・目黒こどもスクールのウェブサイトからダウンロードできます。無断複写・引用はご遠慮ください。

※2. このプリントを活用したオンライン授業のスケジュールは、しながわ・目黒こどもスクールのウェブサイトでご確認ください。



# おうちで、やろう。

Study at home. 小学校受験の家庭学習教材

## 推理：じゃんけん 20

お友だちが袋の中のクッキーを持って動物たちと順番にじゃんけんをしていきます。お友だちがじゃんけんで勝つと動物たちからクッキーを2枚もらえます。負けてしまうと動物たちにクッキーを3枚あげます。あいこのときはなにもありません。この約束のとき、最後の動物とじゃんけんをした後、お友だちが持っているクッキーの数だけ右の四角の中に○をかきます。それぞれが出す手は上の吹き出しの中にあります。

			$\bigcirc \times 6$
--	--	--	---------------------

			$\bigcirc \times 6$
--	--	--	---------------------

			$\bigcirc \times 5$
--	--	--	---------------------

			$\bigcirc \times 9$
--	--	--	---------------------

			$\bigcirc \times 8$
--	--	--	---------------------

※1. このプリントは、しながわ・目黒こどもスクールのウェブサイトからダウンロードできます。無断複写・引用はご遠慮ください。  
※2. このプリントを活用したオンライン授業のスケジュールは、しながわ・目黒こどもスクールのウェブサイトでご確認ください。





# おうちで、やろう。

Study at home. 小学校受験の家庭学習教材

## 推理：じゃんけん 21

お友だちが袋の中のクッキーを持って動物たちと順番にじゃんけんをしていきます。お友だちがじゃんけんで勝つと動物たちからクッキーを2枚もらえます。負けてしまうと動物たちにクッキーを3枚あげます。あいこのときはなにもありません。この約束のとき、最後の動物とじゃんけんをした後、お友だちが持っているクッキーの数だけ右の四角の中に○をかきます。それぞれが出す手は上の吹き出しの中にあります。

			$\bigcirc \times 3$
--	--	--	---------------------

			$\bigcirc \times 3$
--	--	--	---------------------

			$\bigcirc \times 2$
--	--	--	---------------------

			$\bigcirc \times 9$
--	--	--	---------------------

			$\bigcirc \times 8$
--	--	--	---------------------

※1. このプリントは、しながわ・目黒こどもスクールのウェブサイトからダウンロードできます。無断複写・引用はご遠慮ください。

※2. このプリントを活用したオンライン授業のスケジュールは、しながわ・目黒こどもスクールのウェブサイトでご確認ください。


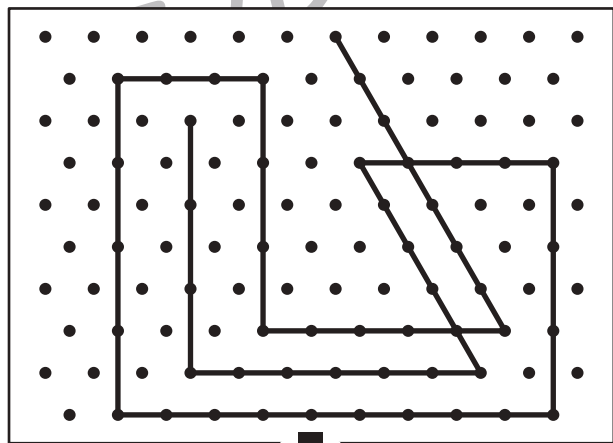

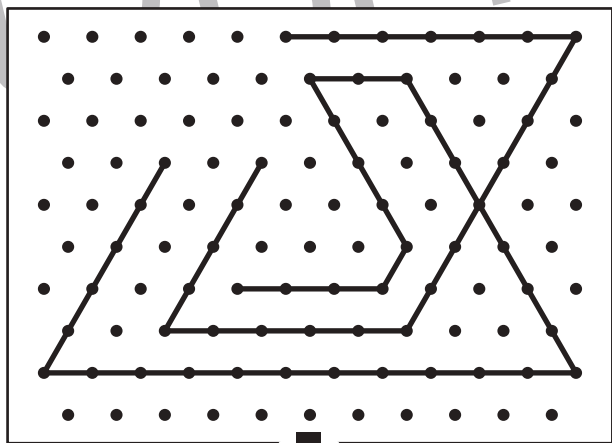

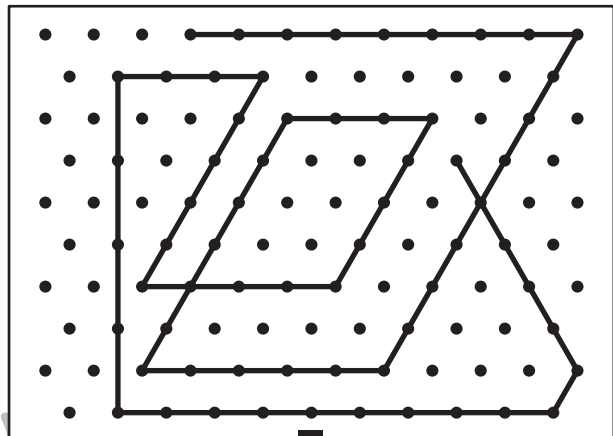

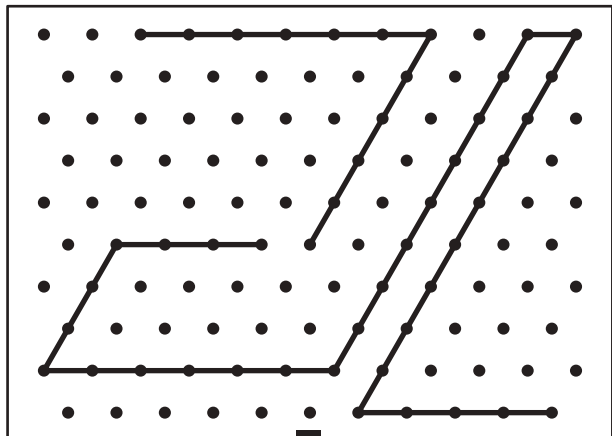


# おうちで、やろう。

Study at home. 小学校受験の家庭学習教材

## 図形：点図形 49

上のお手本と同じになるように下の四角の点と点を結びます。※このプリントに解答はありません。



※1. このプリントは、しながわ・目黒こどもスクールのウェブサイトからダウンロードできます。無断複写・引用はご遠慮ください。

※2. このプリントを活用したオンライン授業のスケジュールは、しながわ・目黒こどもスクールのウェブサイトでご確認ください。

