

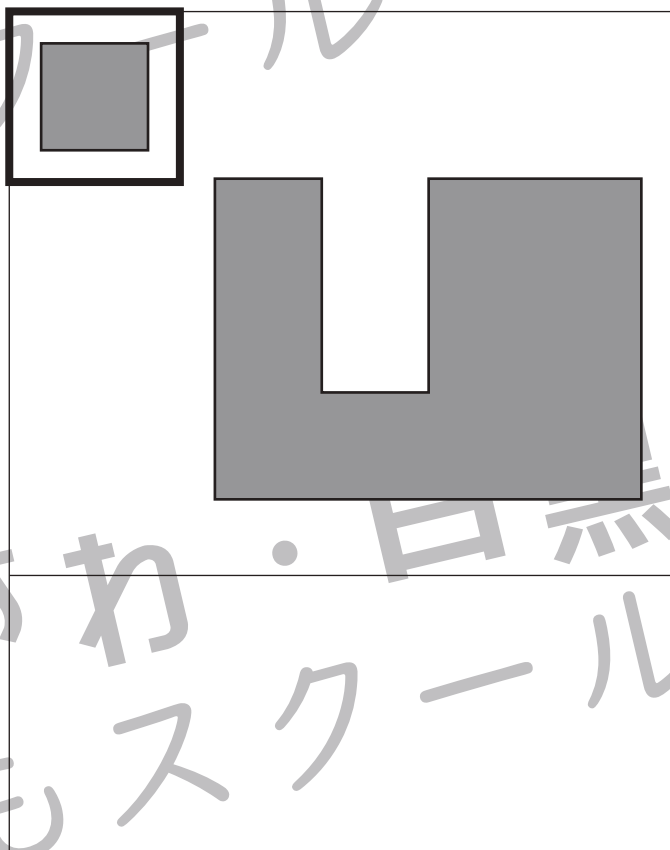

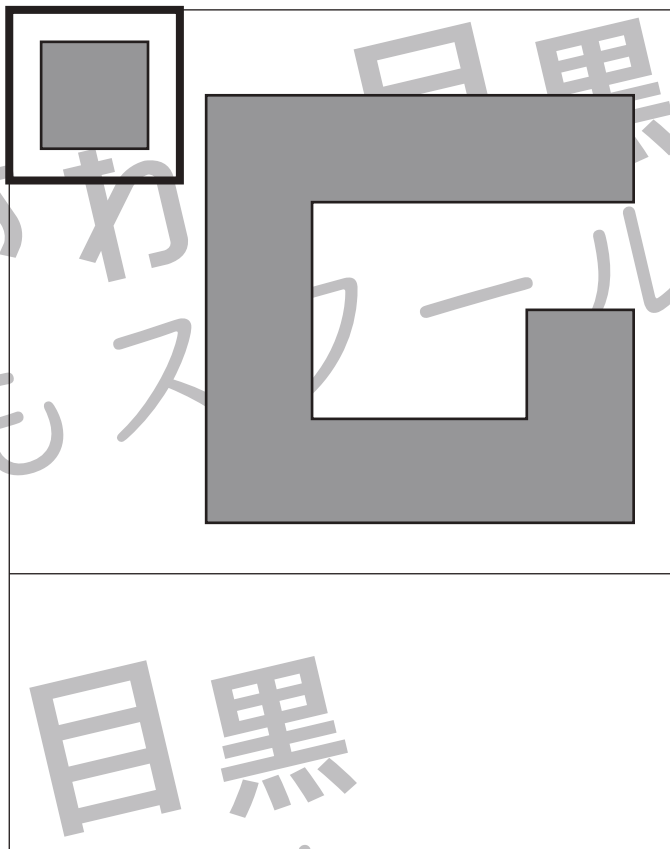
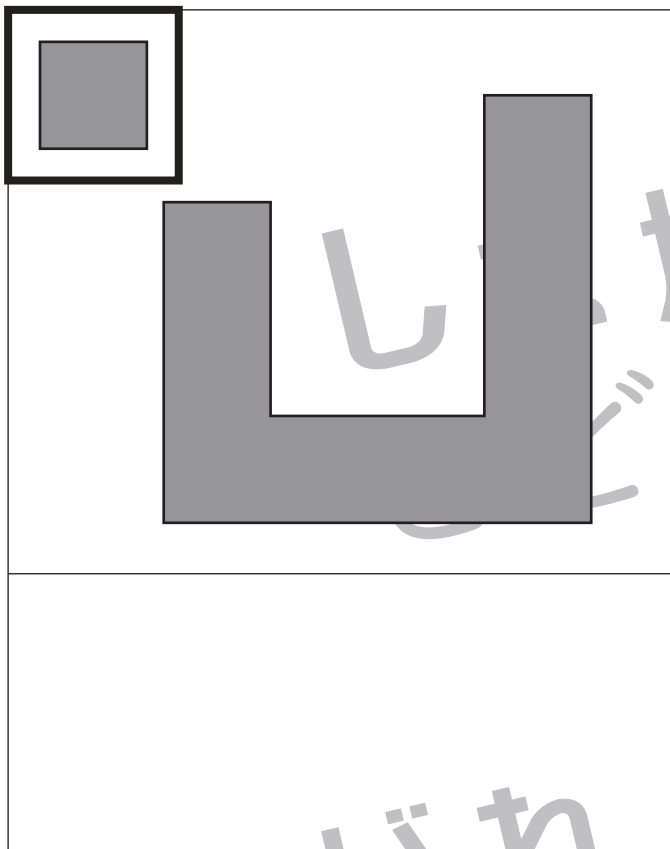


おうちで、やろう。

Study at home. 小学校受験の家庭学習教材

図形：構成 33

四角の中には左上の太い四角の中にあるパズルを使って作った形があります。この形はパズル何枚使ってできますか。
使うパズルの枚数だけ下の四角に○をかきます。



※1. このプリントは、しながわ・目黒こどもスクールのウェブサイトでダウンロードができます。無断複写・引用はご遠慮ください。
※2. このプリントを活用したオンライン授業のスケジュールは、しながわ・目黒こどもスクールのウェブサイトでご確認ください。



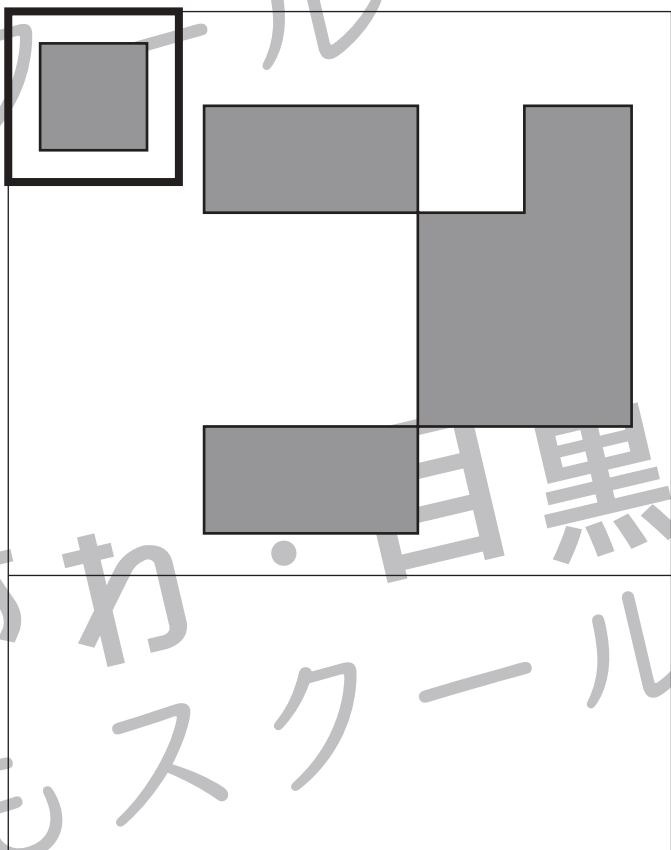
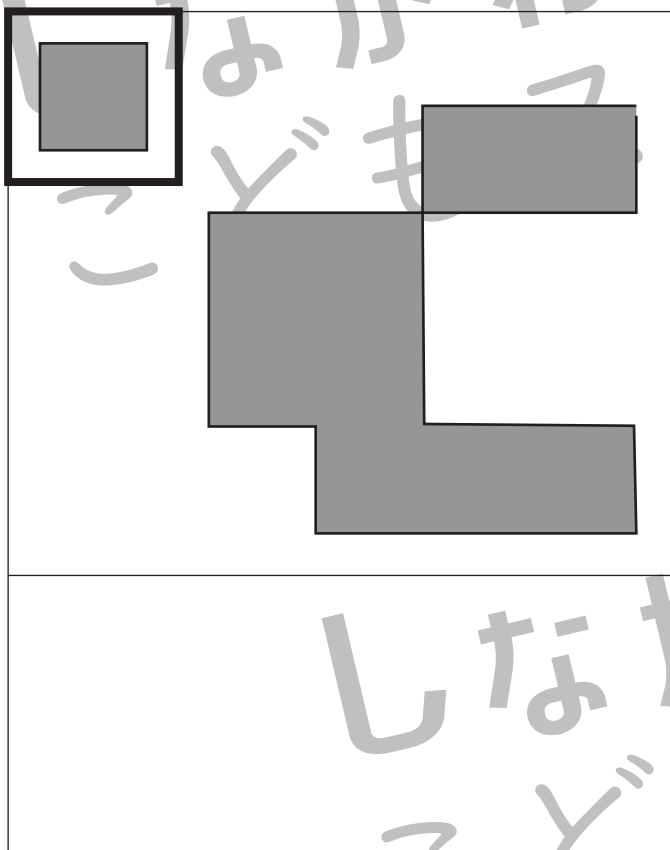
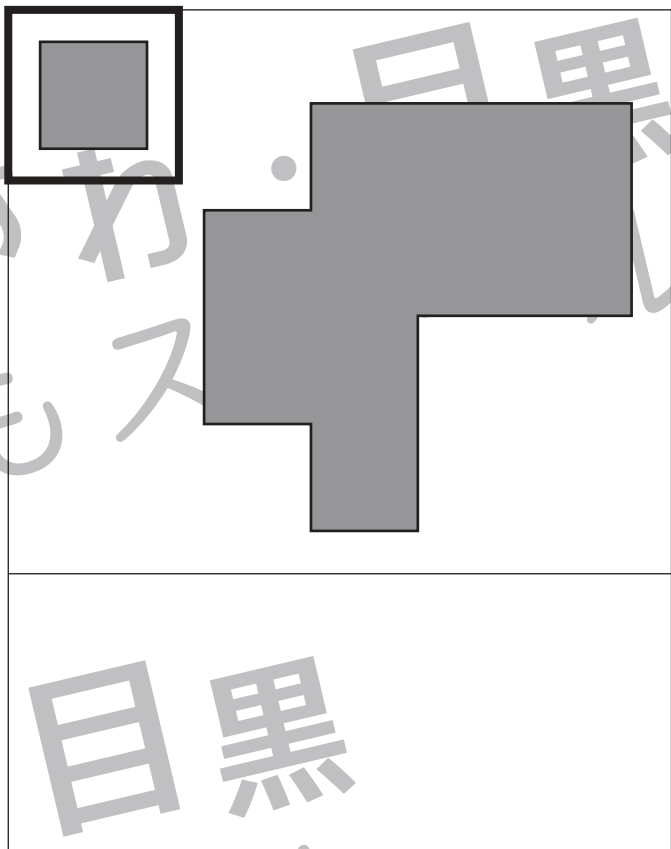
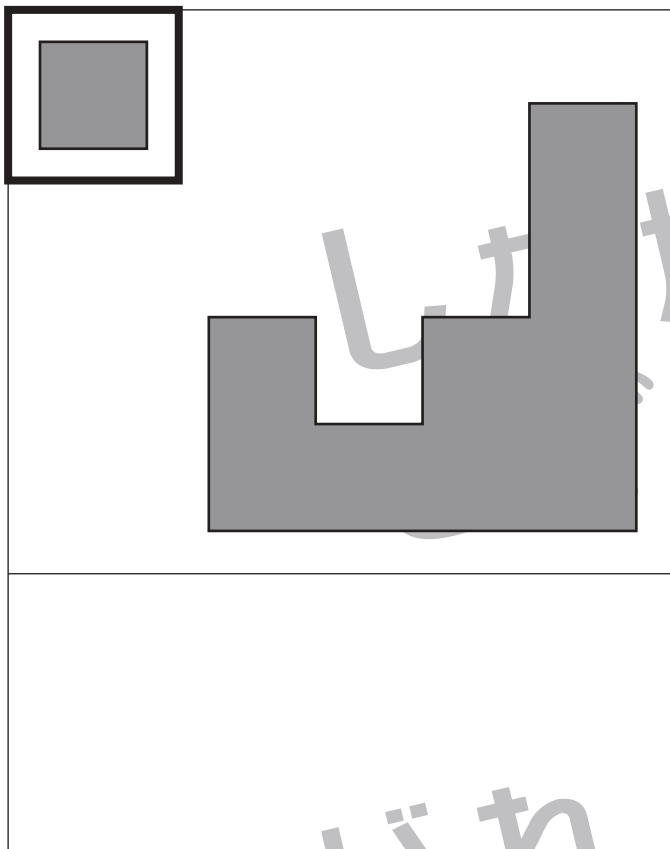


おうちで、やろう。

Study at home. 小学校受験の家庭学習教材

図形：構成 34

四角の中には左上の太い四角の中にあるパズルを使って作った形があります。この形はパズル何枚使ってできますか。使うパズルの枚数だけ下の四角に○をかきます。



※1. このプリントは、しながわ・目黒こどもスクールのウェブサイトでダウンロードができます。無断複写・引用はご遠慮ください。
※2. このプリントを活用したオンライン授業のスケジュールは、しながわ・目黒こどもスクールのウェブサイトでご確認ください。



おうちで、やろう。

Study at home. 小学校受験の家庭学習教材

図形：構成 35

四角の中には左上の太い四角の中にあるパズルを使って作った形があります。この形はパズル何枚使ってできますか。使うパズルの枚数だけ下の四角に○をかきます。

このパズルは、正方形の左上隅に小さな直角三角形を配置し、その残りの空間をU字型の黒いパズルピースで埋めようとする。

このパズルは、正方形の左上隅に小さな直角三角形を配置し、その残りの空間を縦長の黒いパズルピースで埋めようとする。

このパズルは、正方形の左上隅に小さな直角三角形を配置し、その残りの空間を縦長の黒いパズルピースで埋めようとする。

このパズルは、正方形の左上隅に小さな直角三角形を配置し、その残りの空間を黒いパズルピースで埋めようとする。

※1. このプリントは、しながわ・目黒こどもスクールのウェブサイトでダウンロードができます。無断複写・引用はご遠慮ください。
 ※2. このプリントを活用したオンライン授業のスケジュールは、しながわ・目黒こどもスクールのウェブサイトでご確認ください。



おうちで、やろう。

Study at home. 小学校受験の家庭学習教材

数量：加減 31

左、真ん中、右の3つの四角の中の星の数を合わせて8になるように点と点を線で結びました。足りない線をかきましょう。

The grid consists of 12 boxes arranged in 4 rows and 3 columns. Each box contains a certain number of stars. A path of black dots and lines connects boxes from top-left to bottom-right. The path starts at the right side of the top-left box, goes to the left side of the top-middle box, then to the right side of the top-middle box, then to the left side of the top-right box, then to the right side of the top-right box, then to the left side of the middle-left box, then to the right side of the middle-left box, then to the left side of the middle-middle box, then to the right side of the middle-middle box, then to the left side of the middle-right box, then to the right side of the middle-right box, then to the left side of the bottom-left box, then to the right side of the bottom-left box, then to the left side of the bottom-middle box, then to the right side of the bottom-middle box, then to the left side of the bottom-right box, and finally to the right side of the bottom-right box.

※1. このプリントは、しながわ・目黒こどもスクールのウェブサイトでダウンロードができます。無断複写・引用はご遠慮ください。
 ※2. このプリントを活用したオンライン授業のスケジュールは、しながわ・目黒こどもスクールのウェブサイトでご確認ください。



おうちで、やろう。

Study at home. 小学校受験の家庭学習教材

数量：加減 32

左、真ん中、右の3つの四角の中の星の数を合わせて10になるように点と点を線で結びました。足りない線をかきましょう。

The grid consists of 12 boxes arranged in 4 rows and 3 columns. Each box contains a certain number of stars. A path of 10 dots is shown, connected by lines. The path starts at the dot in the top row, second column, and ends at the dot in the bottom row, second column. The path connects dots in the following order: (1,2), (1,3), (2,3), (3,3), (3,2), (4,2), (4,1), (3,1), (2,1), (1,1). There are 10 dots in total, one in each of these positions. The lines connect these dots in the order listed above. There are 10 lines in total, one for each dot. The lines are: (1,2)-(1,3), (1,3)-(2,3), (2,3)-(3,3), (3,3)-(3,2), (3,2)-(4,2), (4,2)-(4,1), (4,1)-(3,1), (3,1)-(2,1), (2,1)-(1,1).

※1. このプリントは、しながわ・目黒こどもスクールのウェブサイトでダウンロードができます。無断複写・引用はご遠慮ください。
 ※2. このプリントを活用したオンライン授業のスケジュールは、しながわ・目黒こどもスクールのウェブサイトでご確認ください。



おうちで、やろう。

Study at home. 小学校受験の家庭学習教材

数量：加減 33

左、真ん中、右の3つの四角の中の星の数を合わせて12になるように点と点を線で結びました。足りない線をかきましょう。

※1. このプリントは、しながわ・目黒こどもスクールのウェブサイトでダウンロードができます。無断複写・引用はご遠慮ください。
 ※2. このプリントを活用したオンライン授業のスケジュールは、しながわ・目黒こどもスクールのウェブサイトでご確認ください。


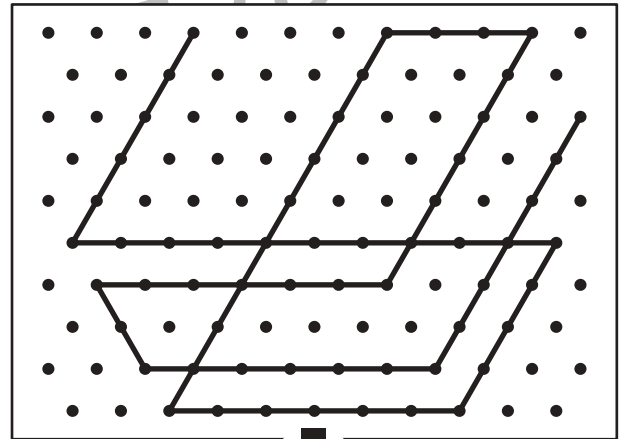

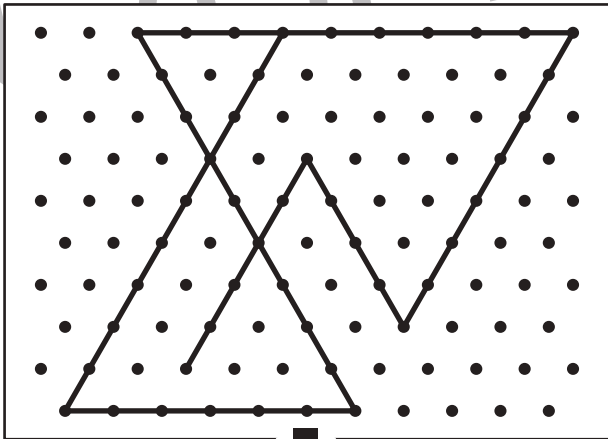

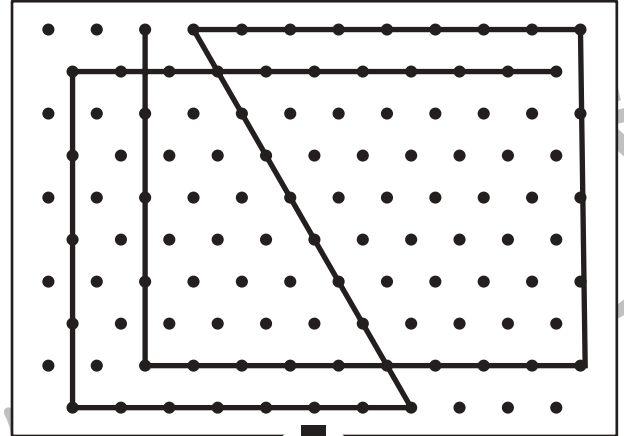

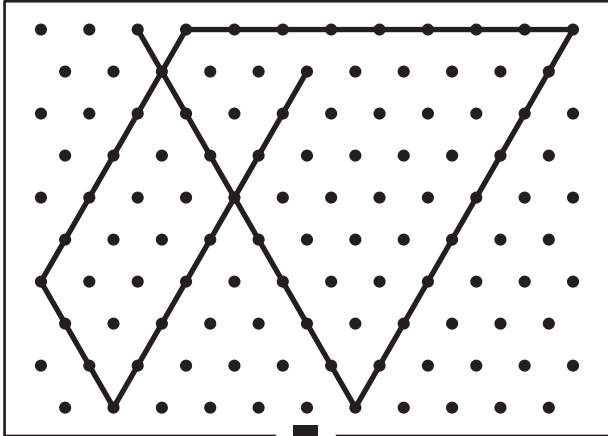


おうちで、やろう。

Study at home. 小学校受験の家庭学習教材

図形：点図形 50

上のお手本と同じになるように下の四角の点と点を結びます。※このプリントに解答はありません。



※1. このプリントは、しながわ・目黒こどもスクールのウェブサイトでダウンロードができます。無断複写・引用はご遠慮ください。

※2. このプリントを活用したオンライン授業のスケジュールは、しながわ・目黒こどもスクールのウェブサイトでご確認ください。



おうちで、やろう。

Study at home. 小学校受験の家庭学習教材

処理：模写 10

左の四角がお手本です。白いマスの場所を考えて右の四角の同じ場所に○をかきます。
この問題はスピードを意識して取り組む練習をしてみましょう。(1分30秒～2分)

| | | | |
|---|---|---|---|
| | | | ■ |
| ■ | ■ | ■ | ■ |
| ■ | ■ | ■ | |
| | ■ | | |

| | | | |
|--|--|--|--|
| | | | |
| | | | |
| | | | |
| | | | |

| | | | |
|---|---|---|---|
| ■ | ■ | ■ | |
| ■ | ■ | | ■ |
| | ■ | ■ | |
| ■ | | ■ | ■ |

| | | | |
|--|--|--|--|
| | | | |
| | | | |
| | | | |
| | | | |

| | | | |
|---|---|---|---|
| ■ | ■ | ■ | ■ |
| | ■ | ■ | |
| | ■ | ■ | ■ |
| ■ | | ■ | |

| | | | |
|--|--|--|--|
| | | | |
| | | | |
| | | | |
| | | | |

| | | | |
|---|---|---|---|
| ■ | ■ | | |
| | ■ | ■ | ■ |
| ■ | ■ | ■ | |
| | ■ | | ■ |

| | | | |
|--|--|--|--|
| | | | |
| | | | |
| | | | |
| | | | |

| | | | |
|---|---|---|---|
| | | | ■ |
| ■ | ■ | ■ | ■ |
| | ■ | ■ | |
| ■ | ■ | ■ | |

| | | | |
|--|--|--|--|
| | | | |
| | | | |
| | | | |
| | | | |

| | | | |
|---|---|---|---|
| | | ■ | ■ |
| | ■ | ■ | ■ |
| ■ | | ■ | |
| ■ | ■ | ■ | |

| | | | |
|--|--|--|--|
| | | | |
| | | | |
| | | | |
| | | | |

| | | | |
|---|---|---|---|
| ■ | | ■ | ■ |
| | ■ | ■ | ■ |
| ■ | ■ | ■ | ■ |
| | ■ | ■ | |

| | | | |
|--|--|--|--|
| | | | |
| | | | |
| | | | |
| | | | |

| | | | |
|---|---|---|---|
| | ■ | | ■ |
| ■ | ■ | ■ | |
| | ■ | ■ | |
| | ■ | | ■ |

| | | | |
|--|--|--|--|
| | | | |
| | | | |
| | | | |
| | | | |

| | | | |
|---|---|---|---|
| ■ | | ■ | |
| | ■ | ■ | ■ |
| | ■ | ■ | ■ |
| ■ | ■ | | |

| | | | |
|--|--|--|--|
| | | | |
| | | | |
| | | | |
| | | | |

| | | | |
|---|---|---|---|
| ■ | ■ | | ■ |
| ■ | ■ | ■ | |
| ■ | ■ | ■ | |
| | ■ | | ■ |

| | | | |
|--|--|--|--|
| | | | |
| | | | |
| | | | |
| | | | |

※1. このプリントは、しながわ・目黒こどもスクールのウェブサイトでダウンロードができます。無断複写・引用はご遠慮ください。
※2. このプリントを活用したオンライン授業のスケジュールは、しながわ・目黒こどもスクールのウェブサイトでご確認ください。

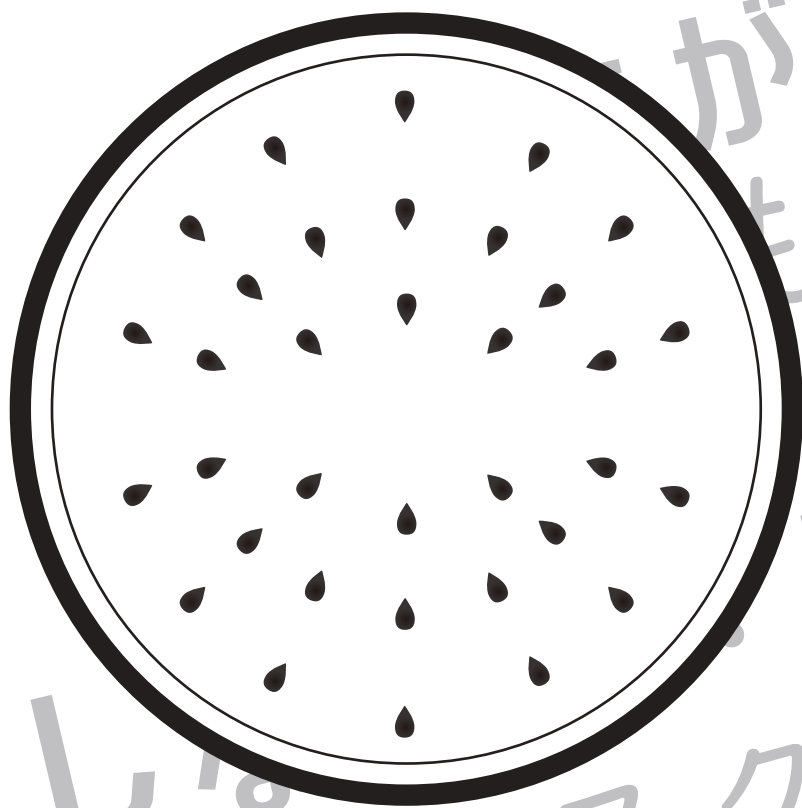


おうちで、やろう。

Study at home. 小学校受験の家庭学習教材

巧緻性：ちぎり 12

- ①点線をはさみで切ります。
- ②スイカの色を塗ってから太い線でちぎります。



※1. このプリントは、しながわ・目黒こどもスクールのウェブサイトでダウンロードができます。無断複写・引用はご遠慮ください。
※2. このプリントを活用したオンライン授業のスケジュールは、しながわ・目黒こどもスクールのウェブサイトでご確認ください。








おうちで、やろう。

Study at home. 小学校受験の家庭学習教材

巧緻性：ちぎり 13-①

- ①点線をはさみで切ります。
- ②コーン、アイスをそれぞれ好きな色で塗って、黒い線でちぎります。
- ③別紙ちぎり 13-②にのりで貼り付けましょう。



※1. このプリントは、しながわ・目黒こどもスクールのウェブサイトでダウンロードができます。無断複写・引用はご遠慮ください。
※2. このプリントを活用したオンライン授業のスケジュールは、しながわ・目黒こどもスクールのウェブサイトでご確認ください。





おうちで、やろう。

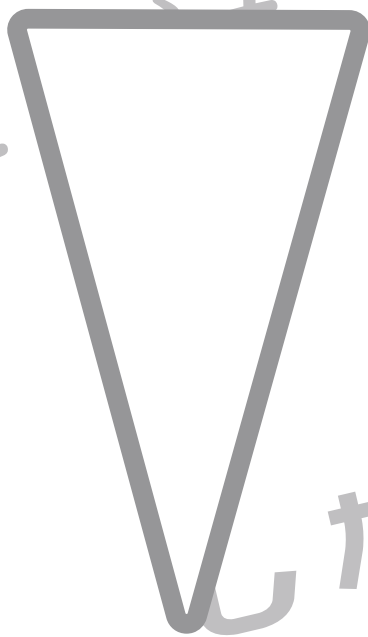
Study at home. 小学校受験の家庭学習教材

巧緻性：ちぎり 13-②

別紙ちぎり 13-①でちぎったコーンを下の枠の中のにりで貼り付け、アイスは自分の好きなアイスクリームになるように自由にのりで貼りましょう。

しながわ・目黒
こどもスクール

しながわ・目黒
こどもスクール



しながわ・目黒
こどもスクール

※1. このプリントは、しながわ・目黒こどもスクールのウェブサイトでダウンロードができます。無断複写・引用はご遠慮ください。
※2. このプリントを活用したオンライン授業のスケジュールは、しながわ・目黒こどもスクールのウェブサイトでご確認ください。

