



おうちで、やろう。

Study at home. 小学校受験の家庭学習教材

常識：行事5

お話を聞いて下のどの行事の絵のことか考えましょう。

①女の子の健やかな成長を願う行事でぼんぼりやひし餅を飾ります。この行事に○をつけます。②この行事の日にはしょうぶの葉をお風呂に入れて入ります。柏餅やちまきを食べたりします。この行事に×をつけます。③織姫と彦星が天の川を渡って1年に1度だけ会える日です。この行事に□をつけます。④冬の行事で、この行事では「鬼は外、福は内」と掛け声をかけます。この行事に◎をつけます。⑤この行事は一年のはじまりの日です。門松や鏡餅を飾ります。この行事に△をつけます。



※1. このプリントは、しながわ・目黒こどもスクールのウェブサイトからダウンロードできます。無断複写・引用はご遠慮ください。
※2. このプリントを活用したオンライン授業のスケジュールは、しながわ・目黒こどもスクールのウェブサイトでご確認ください。



おうちで、やろう。

Study at home. 小学校受験の家庭学習教材

図形：移動 46

左の四角がお手本です。このお手本の○を左に1マス、△を下へ1マス動かします。
動かした後の場所を考えて、右の四角の中にそれぞれの記号をかきます。

| | | |
|--|---|---|
| | △ | |
| | | |
| | | ○ |

| | | |
|--|--|--|
| | | |
| | | |
| | | |

| | | |
|---|--|---|
| | | △ |
| △ | | ○ |
| | | ○ |

| | | |
|--|--|--|
| | | |
| | | |
| | | |

| | | |
|---|--|---|
| △ | | |
| | | ○ |
| | | |

| | | |
|--|--|--|
| | | |
| | | |
| | | |

| | | |
|---|---|---|
| | ○ | ○ |
| △ | | △ |
| | | |

| | | |
|--|--|--|
| | | |
| | | |
| | | |

| | | |
|--|---|---|
| | △ | |
| | | |
| | | ○ |

| | | |
|--|--|--|
| | | |
| | | |
| | | |

| | | |
|--|---|---|
| | △ | ○ |
| | ○ | △ |
| | | |

| | | |
|--|--|--|
| | | |
| | | |
| | | |

| | | |
|--|---|---|
| | ○ | |
| | | △ |
| | | |

| | | |
|--|--|--|
| | | |
| | | |
| | | |

| | | |
|--|---|---|
| | △ | △ |
| | ○ | |
| | | ○ |

| | | |
|--|--|--|
| | | |
| | | |
| | | |

| | | |
|--|---|---|
| | △ | ○ |
| | | |
| | | |

| | | |
|--|--|--|
| | | |
| | | |
| | | |

| | | |
|---|---|---|
| △ | ○ | △ |
| | | ○ |
| | | |

| | | |
|--|--|--|
| | | |
| | | |
| | | |

※1. このプリントは、しながわ・目黒こどもスクールのウェブサイトでダウンロードができます。無断複写・引用はご遠慮ください。
※2. このプリントを活用したオンライン授業のスケジュールは、しながわ・目黒こどもスクールのウェブサイトでご確認ください。



おうちで、やろう。

Study at home. 小学校受験の家庭学習教材

図形：移動 47

左の四角がお手本です。このお手本の○を右に1マス、△を上へ1マス動かします。
動かした後の場所を考えて、右の四角の中にそれぞれの記号をかきます。

| | | |
|--|---|--|
| | | |
| | △ | |
| | ○ | |

| | | |
|--|--|--|
| | | |
| | | |
| | | |

| | | |
|---|---|---|
| | | |
| △ | ○ | △ |
| ○ | | |

| | | |
|--|--|--|
| | | |
| | | |
| | | |

| | | |
|---|--|---|
| | | |
| | | △ |
| ○ | | |

| | | |
|--|--|--|
| | | |
| | | |
| | | |

| | | |
|---|---|---|
| | ○ | |
| ○ | △ | |
| | | △ |

| | | |
|--|--|--|
| | | |
| | | |
| | | |

| | | |
|--|---|--|
| | | |
| | ○ | |
| | △ | |

| | | |
|--|--|--|
| | | |
| | | |
| | | |

| | | |
|---|---|--|
| ○ | | |
| △ | ○ | |
| | △ | |

| | | |
|--|--|--|
| | | |
| | | |
| | | |

| | | |
|---|--|---|
| ○ | | |
| | | △ |
| | | |

| | | |
|--|--|--|
| | | |
| | | |
| | | |

| | | |
|---|---|---|
| | | |
| | ○ | △ |
| ○ | △ | |

| | | |
|--|--|--|
| | | |
| | | |
| | | |

| | | |
|---|---|--|
| | | |
| | ○ | |
| △ | | |

| | | |
|--|--|--|
| | | |
| | | |
| | | |

| | | |
|---|---|--|
| | | |
| ○ | △ | |
| △ | ○ | |

| | | |
|--|--|--|
| | | |
| | | |
| | | |

※1. このプリントは、しながわ・目黒こどもスクールのウェブサイトでダウンロードができます。無断複写・引用はご遠慮ください。
※2. このプリントを活用したオンライン授業のスケジュールは、しながわ・目黒こどもスクールのウェブサイトでご確認ください。



おうちで、やろう。

Study at home. 小学校受験の家庭学習教材

図形：移動 48

左の四角がお手本です。このお手本の○を右に1マス、△を下へ1マス、×は左へ1マス動かします。動かした後の場所を考えて、右の四角の中にそれぞれの記号をかきます。

| | | |
|---|---|---|
| | | |
| ○ | × | △ |
| | | |

| | | |
|--|--|--|
| | | |
| | | |
| | | |

| | | |
|---|---|---|
| | △ | × |
| △ | | |
| ○ | ○ | |

| | | |
|--|--|--|
| | | |
| | | |
| | | |

| | | |
|---|---|---|
| | | × |
| △ | | |
| | ○ | |

| | | |
|--|--|--|
| | | |
| | | |
| | | |

| | | |
|---|---|---|
| | × | △ |
| ○ | | △ |
| | × | |

| | | |
|--|--|--|
| | | |
| | | |
| | | |

| | | |
|--|---|---|
| | × | |
| | ○ | △ |
| | | |

| | | |
|--|--|--|
| | | |
| | | |
| | | |

| | | |
|--|---|---|
| | ○ | × |
| | ○ | △ |
| | × | |

| | | |
|--|--|--|
| | | |
| | | |
| | | |

| | | |
|---|---|---|
| | ○ | |
| △ | | |
| | | × |

| | | |
|--|--|--|
| | | |
| | | |
| | | |

| | | |
|---|---|---|
| | ○ | △ |
| △ | × | |
| | ○ | |

| | | |
|--|--|--|
| | | |
| | | |
| | | |

| | | |
|---|---|--|
| △ | | |
| | ○ | |
| | × | |

| | | |
|--|--|--|
| | | |
| | | |
| | | |

| | | |
|---|---|---|
| ○ | × | △ |
| | | × |
| ○ | | |

| | | |
|--|--|--|
| | | |
| | | |
| | | |

※1. このプリントは、しながわ・目黒こどもスクールのウェブサイトでダウンロードができます。無断複写・引用はご遠慮ください。
※2. このプリントを活用したオンライン授業のスケジュールは、しながわ・目黒こどもスクールのウェブサイトでご確認ください。



おうちで、やろう。

Study at home. 小学校受験の家庭学習教材

推理：重さ 10

左の四角の中は4つの果物をシーソーで重さ比べをした様子です。
この中で一番重いものに○、一番軽いものに×を右の四角の中の果物につけます。

| | |
|--|--|
| | |
|--|--|

| | |
|--|--|
| | |
|--|--|

| | |
|--|--|
| | |
|--|--|

| | |
|--|--|
| | |
|--|--|

※1. このプリントは、しながわ・目黒こどもスクールのウェブサイトでダウンロードができます。無断複写・引用はご遠慮ください。
 ※2. このプリントを活用したオンライン授業のスケジュールは、しながわ・目黒こどもスクールのウェブサイトでご確認ください。



おうちで、やろう。

Study at home. 小学校受験の家庭学習教材

推理：重さ 11

左の四角の中は5つの果物をシーソーで重さ比べをした様子です。
この中で2番目に軽い果物に○をつけます。

| | |
|--|--|
| | |
|--|--|

| | |
|--|--|
| | |
|--|--|

| | |
|--|--|
| | |
|--|--|

| | |
|--|--|
| | |
|--|--|

※1. このプリントは、しながわ・目黒こどもスクールのウェブサイトでダウンロードができます。無断複写・引用はご遠慮ください。

※2. このプリントを活用したオンライン授業のスケジュールは、しながわ・目黒こどもスクールのウェブサイトでご確認ください。


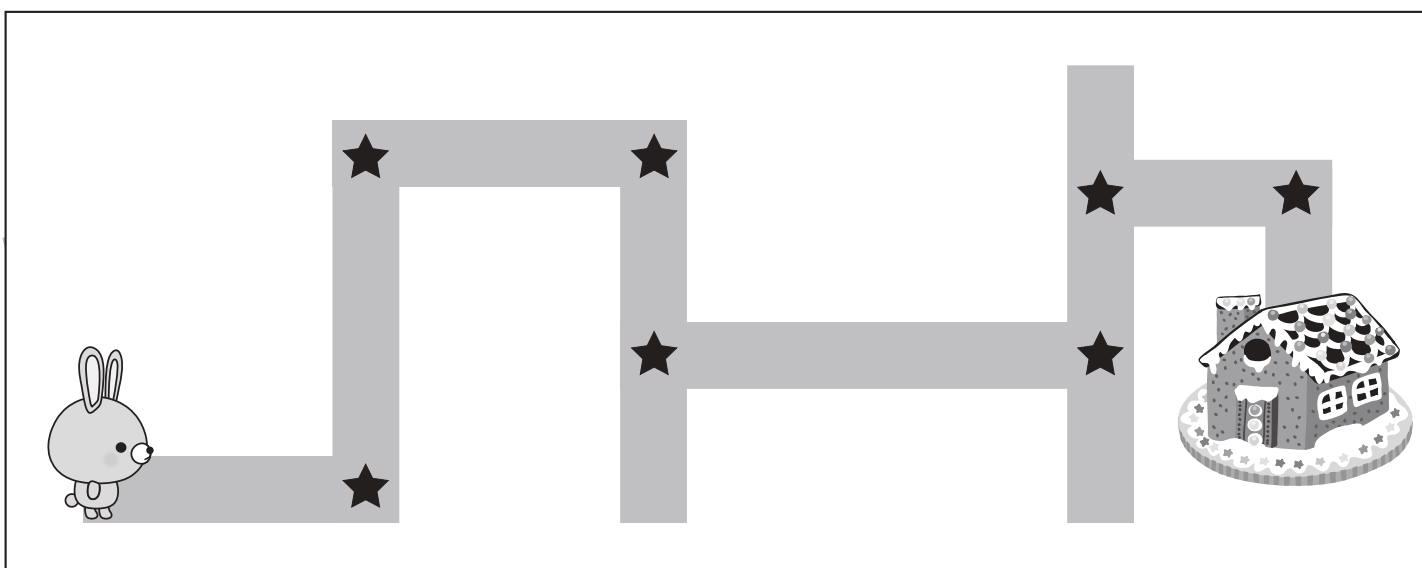
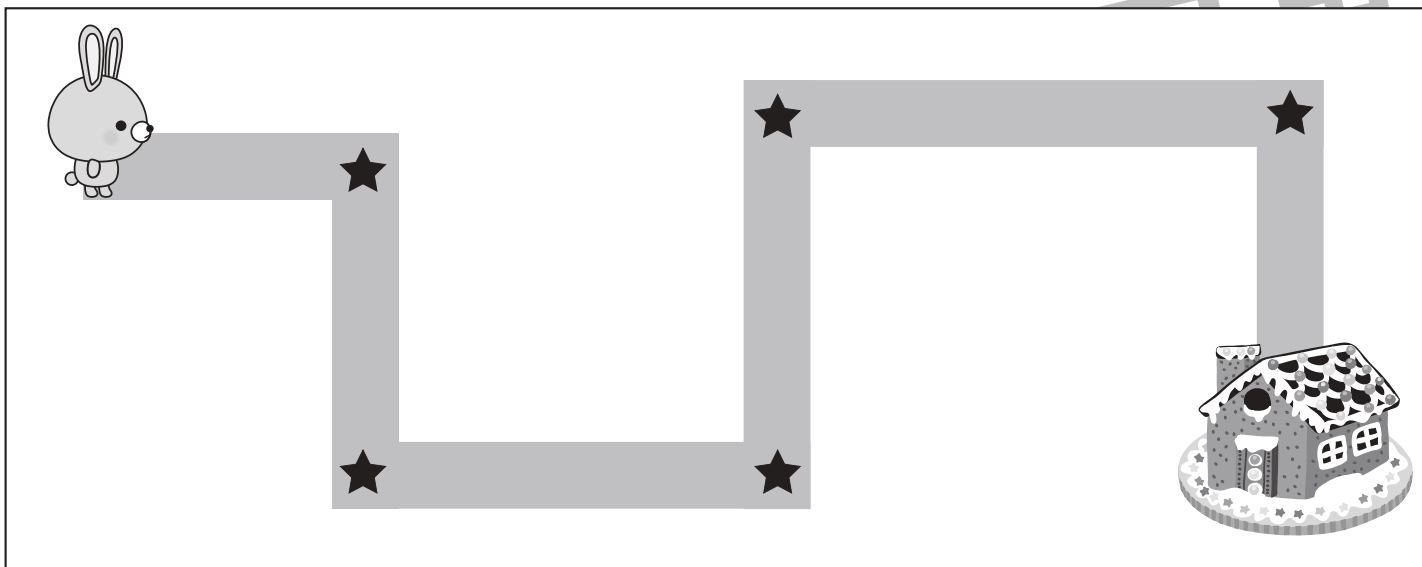


おうちで、やろう。

Study at home. 小学校受験の家庭学習教材

推理：地図の移動1

ウサギがお菓子の家まで歩いて行きます。途中の★のマークのある曲がり角ではウサギは右と左のどちらに曲がりますか。右に曲がる曲がり角の★に○をつけます。



※1. このプリントは、しながわ・目黒こどもスクールのウェブサイトでダウンロードができます。無断複写・引用はご遠慮ください。
 ※2. このプリントを活用したオンライン授業のスケジュールは、しながわ・目黒こどもスクールのウェブサイトでご確認ください。


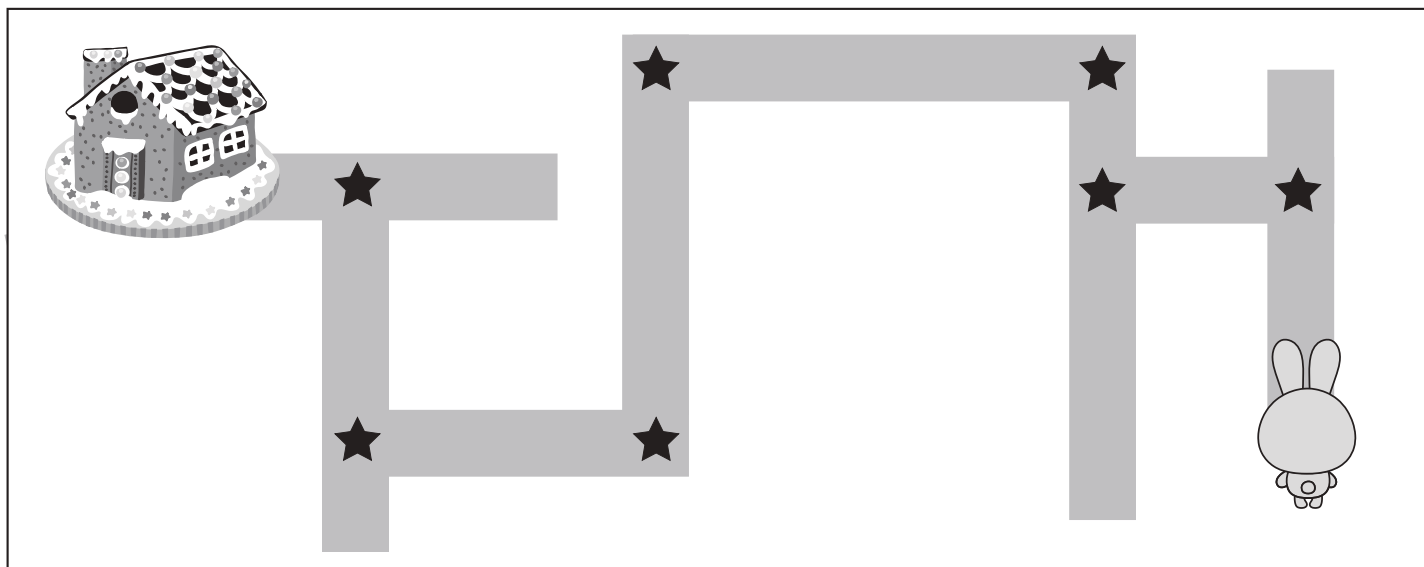
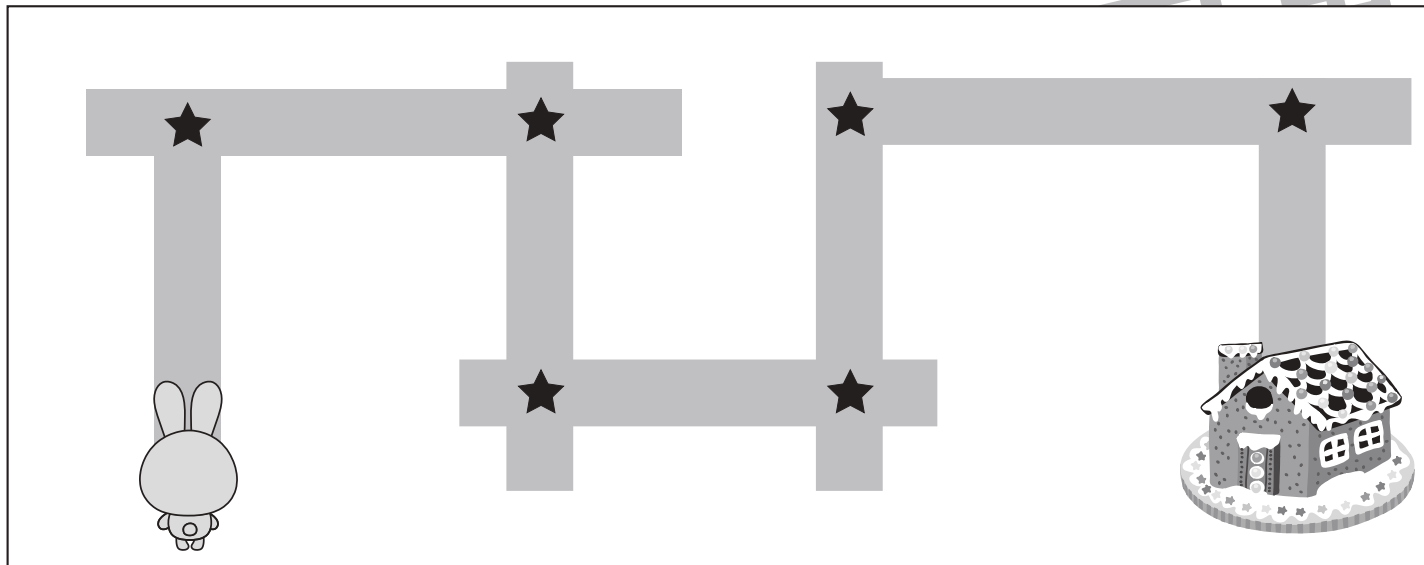


おうちで、やろう。

Study at home. 小学校受験の家庭学習教材

推理：地図の移動2

ウサギがお菓子の家まで歩いて行きます。途中の★のマークのある曲がり角ではウサギは右と左のどちらに曲がりますか。左に曲がる曲がり角の★に○をつけます。



※1. このプリントは、しながわ・目黒こどもスクールのウェブサイトからダウンロードできます。無断複製・引用はご遠慮ください。
 ※2. このプリントを活用したオンライン授業のスケジュールは、しながわ・目黒こどもスクールのウェブサイトでご確認ください。




おうちで、やろう。

Study at home. 小学校受験の家庭学習教材

数量：加減 34

上の四角の中の絵の数をかぞえて、下の四角の同じ絵の右にかぞえた数より3つ多い数だけ〇をかきます。



| | |
|---|--|
|  | |
|  | |
|  | |
|  | |
|  | |

※1. このプリントは、しながわ・目黒こどもスクールのウェブサイトでダウンロードができます。無断複写・引用はご遠慮ください。
※2. このプリントを活用したオンライン授業のスケジュールは、しながわ・目黒こどもスクールのウェブサイトでご確認ください。


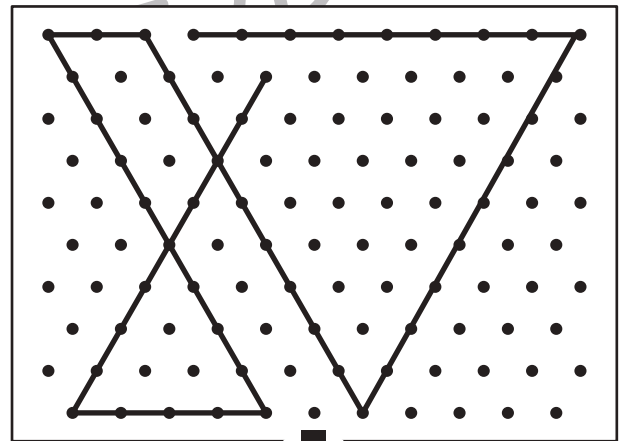

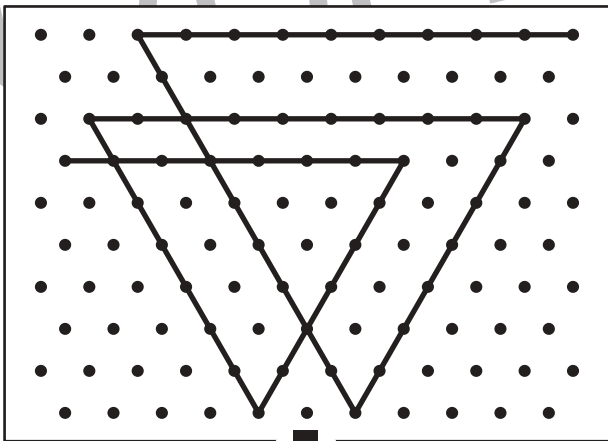

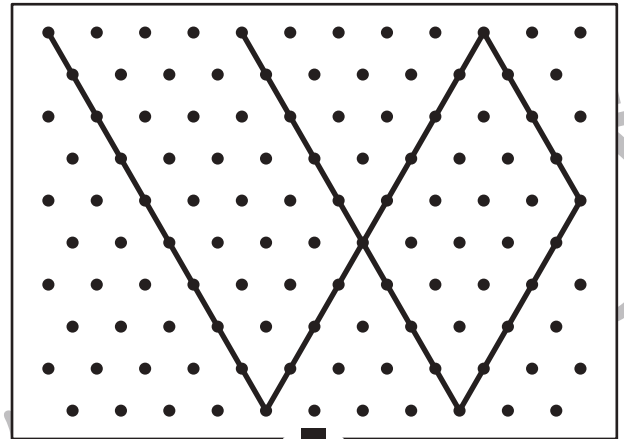

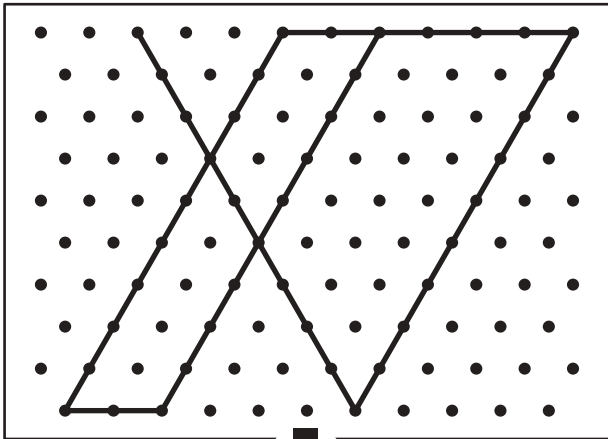


おうちで、やろう。

Study at home. 小学校受験の家庭学習教材

図形：点図形 51

上のお手本と同じになるように下の四角の点と点を結びます。※このプリントに解答はありません。



※1. このプリントは、しながわ・目黒こどもスクールのウェブサイトでダウンロードができます。無断複写・引用はご遠慮ください。
※2. このプリントを活用したオンライン授業のスケジュールは、しながわ・目黒こどもスクールのウェブサイトでご確認ください。

