



真ん中の太い線に鏡を置いて上のお手本を見ました。鏡に映っている様子を考えて下の点と点を結びます。

<hr/>	<hr/>	<hr/>	<hr/>
<hr/>	<hr/>	<hr/>	<hr/>
<hr/>	<hr/>	<hr/>	<hr/>
<hr/>	<hr/>	<hr/>	<hr/>
<hr/>	<hr/>	<hr/>	<hr/>

※1. このプリントは、しながわ・目黒こどもスクールのウェブサイトでダウンロードができます。無断複写・引用はご遠慮ください。
 ※2. このプリントを活用したオンライン授業のスケジュールは、しながわ・目黒こどもスクールのウェブサイトでご確認ください。



真ん中の太い線に鏡を置いて上のお手本を見ました。鏡に映っている様子を考えて下の点と点を結びます。

※1. このプリントは、しながわ・目黒こどもスクールのウェブサイトでダウンロードができます。無断複写・引用はご遠慮ください。

※2. このプリントを活用したオンライン授業のスケジュールは、しながわ・目黒こどもスクールのウェブサイトでご確認ください。



おうちで、やろう。

Study at home. 小学校受験の家庭学習教材

図形：鏡 30

真ん中の太い線に鏡を置いて上のお手本を見ました。鏡に映っている様子を考えて下の点と点を結びます。

※1. このプリントは、しながわ・目黒こどもスクールのウェブサイトでダウンロードができます。無断複写・引用はご遠慮ください。
 ※2. このプリントを活用したオンライン授業のスケジュールは、しながわ・目黒こどもスクールのウェブサイトでご確認ください。




おうちで、やろう。

Study at home. 小学校受験の家庭学習教材

数量：加減 35

上の四角の中の絵の数をかぞえて、下の四角の同じ絵の右にかぞえた数より2つ多い数だけ○をかきます。



○×8



○×10



○×11



○×12



○×13

※1. このプリントは、しながわ・目黒こどもスクールのウェブサイトでダウンロードができます。無断複写・引用はご遠慮ください。
※2. このプリントを活用したオンライン授業のスケジュールは、しながわ・目黒こどもスクールのウェブサイトでご確認ください。




おうちで、やろう。

Study at home. 小学校受験の家庭学習教材

数量：加減 36

上の四角の中の絵の数をかぞえて、下の四角の同じ絵の右にかぞえた数より3つ少ない数だけ○をかきます。



○×5



○×6



○×3



○×7



○×2



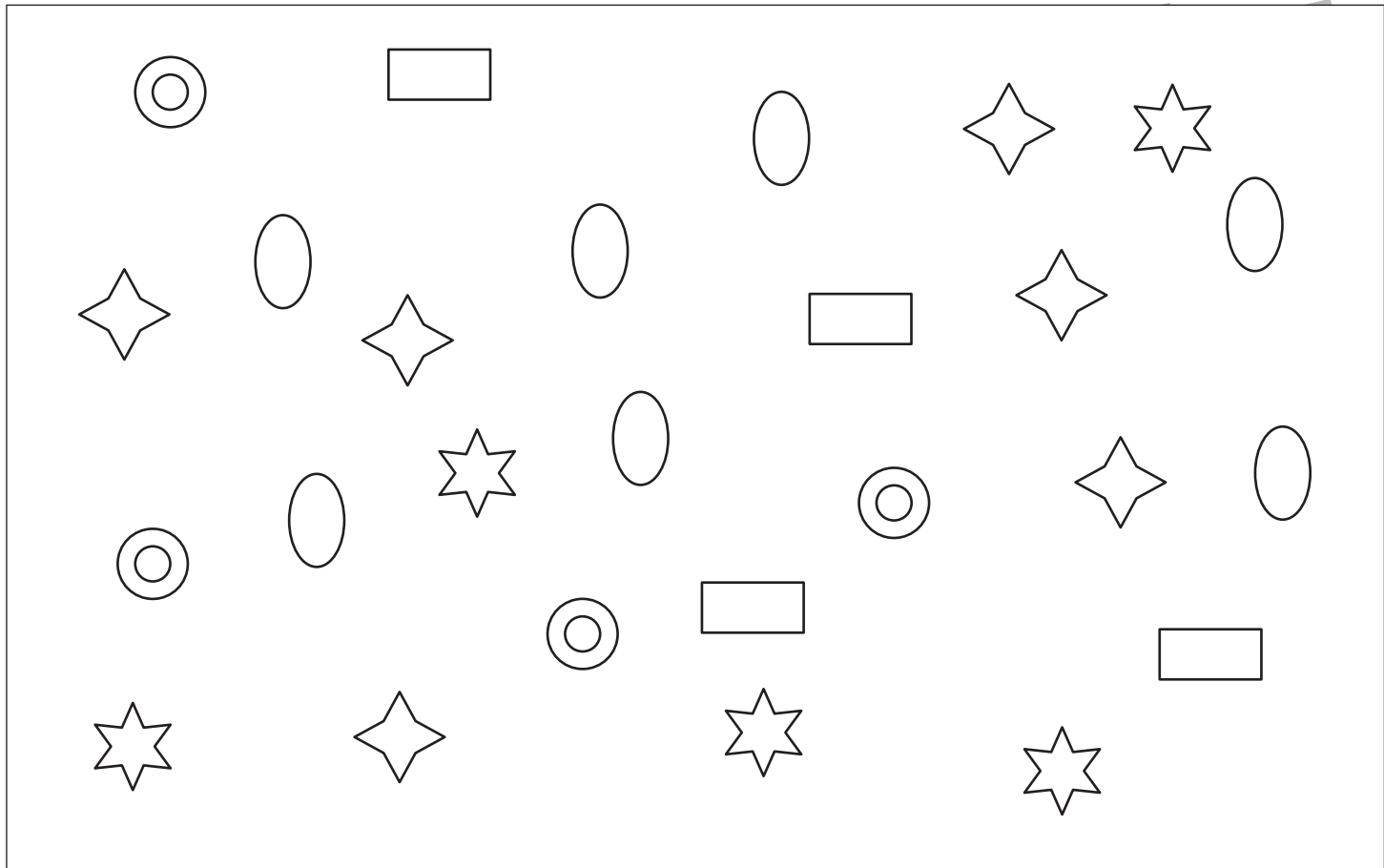
おうちで、やろう。






Study at home. 小学校受験の家庭学習教材

数量：加減 37

上の四角の中の絵の数をかぞえます。

角がある形は数えた数より3つ多く、角がない形は数えた数より2つ少ない数だけそれぞれの形に右に○をかきます。



	$\bigcirc \times 7$
	$\bigcirc \times 5$
	$\bigcirc \times 9$
	$\bigcirc \times 2$
	$\bigcirc \times 8$

※1. このプリントは、しながわ・目黒こどもスクールのウェブサイトからダウンロードできます。無断複写・引用はご遠慮ください。

※2. このプリントを活用したオンライン授業のスケジュールは、しながわ・目黒こどもスクールのウェブサイトでご確認ください。