



おうちで、よろう。

Study at home. 小学校受験の家庭学習教材

図形：折り重ね 41

透明な板に線をかいた四角を真ん中の太い線で矢印の方向へ折り重ねたときの見え方を考えて▷の右の四角に線をかきます。

※1. このプリントは、しながわ・目黒こどもスクールのウェブサイトでダウンロードができます。無断複写・引用はご遠慮ください。

※2. このプリントを活用したオンライン授業のスケジュールは、しながわ・目黒こどもスクールのウェブサイトでご確認ください。



おうちで、やろう。

Study at home. 小学校受験の家庭学習教材

図形：折り重ね 42

透明な板に線をかいた四角を真ん中の太い線で矢印の方向へ折り重ねたときの見え方を考えて▷の右の四角に線をかきます。

※1. このプリントは、しながわ・目黒こどもスクールのウェブサイトからダウンロードできます。無断複写・引用はご遠慮ください。

※2. このプリントを活用したオンライン授業のスケジュールは、しながわ・目黒こどもスクールのウェブサイトでご確認ください。




おうちで、やろう。

Study at home. 小学校受験の家庭学習教材

図形：折り重ね 43

透明な板に線をかいた四角を真ん中の太い線で矢印の方向へ折り重ねたときの見え方を考えて▷の右の四角に線をかきます。



※1. このプリントは、しながわ・目黒こどもスクールのウェブサイトからダウンロードできます。無断複写・引用はご遠慮ください。

※2. このプリントを活用したオンライン授業のスケジュールは、しながわ・目黒こどもスクールのウェブサイトでご確認ください。

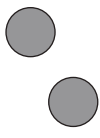

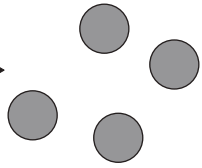

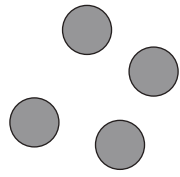

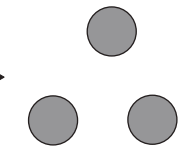
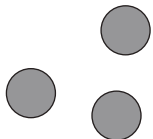



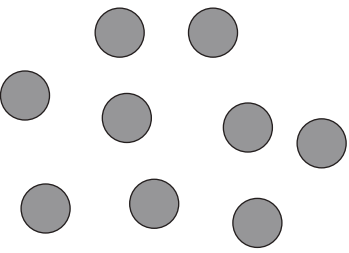




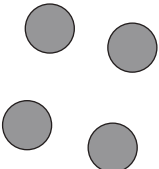



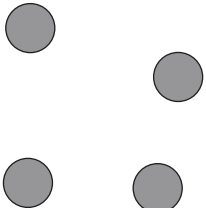






おうちで、よろう。

Study at home.

推理：ブラックボックス 15

上の太い四角の中が約束です。黒い星、白い星の箱の中に灰色の丸が入ると、数が変わって出てきます。この約束で星の箱を通して出できた灰色の丸が一番右になります。このとき、太い箱の星は黒と白どちらですか。ただし星に○をつけます。

	→		→				
	→		→				
	→		→		→		
	→		→		→		
	→		→		→		
	→		→		→		

※1. このプリントは、しながわ・目黒こどもスクールのウェブサイトでダウンロードができます。無断複写・引用はご遠慮ください。

※2. このプリントを活用したオンライン授業のスケジュールは、しながわ・目黒こどもスクールのウェブサイトでご確認ください。



おうちで、よろう。

Study at home.

推理：ブラックボックス 16

上の太い四角の中が約束です。黒い星、白い星の箱の中に灰色の丸が入ると、数が変わって出てきます。この約束で星の箱を通して出できた灰色の丸が一番右になります。このとき、太い箱の星は黒と白どちらですか。ただし星に○をつけます。

	→		→	
	→		→	
	→		→	
	→		→	

	→		→		→		
--	---	--	---	--	---	--	--

	→		→		→		
--	---	--	---	--	---	--	--

	→		→		→		
--	---	--	---	--	---	--	--

	→		→		→		
--	---	--	---	--	---	--	--

※1. このプリントは、しながわ・目黒こどもスクールのウェブサイトでダウンロードができます。無断複写・引用はご遠慮ください。
 ※2. このプリントを活用したオンライン授業のスケジュールは、しながわ・目黒こどもスクールのウェブサイトでご確認ください。



おうちで、よろう。

Study at home.

推理：ブラックボックス 17

上の太い四角の中が約束です。黒い星、白い星の箱の中に灰色の丸が入ると、数が変わって出てきます。この約束で星の箱を通して出できた丸が一番右になります。このとき、太い箱の星は黒と白どちらですか。ただし星に○をつけます。

※1. このプリントは、しながわ・目黒こどもスクールのウェブサイトでダウンロードができます。無断複写・引用はご遠慮ください。

※2. このプリントを活用したオンライン授業のスケジュールは、しながわ・目黒こどもスクールのウェブサイトでご確認ください。