




おうちで、やろう。

Study at home. 小学校受験の家庭学習教材

言語：音の理解 40

- ①絵の名前をはじめから読んでも、終わりからよんでも同じ名前の絵に○をつけます。
- ②絵の名前を終わりから読んだとき、違う名前になる絵に△をつけます。



※1. このプリントは、しながわ・目黒こどもスクールのウェブサイトからダウンロードできます。無断複写・引用はご遠慮ください。
※2. このプリントを活用したオンライン授業のスケジュールは、しながわ・目黒こどもスクールのウェブサイトでご確認ください。

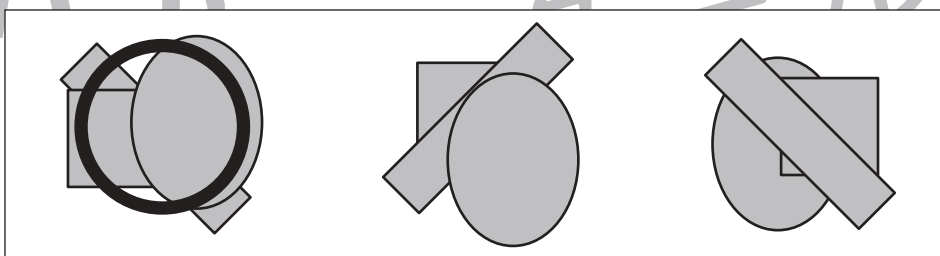
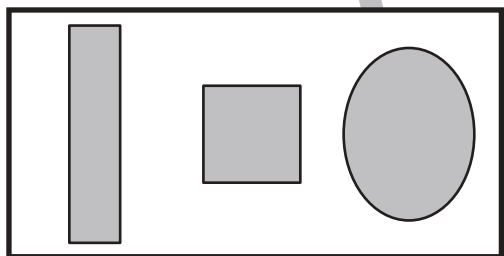
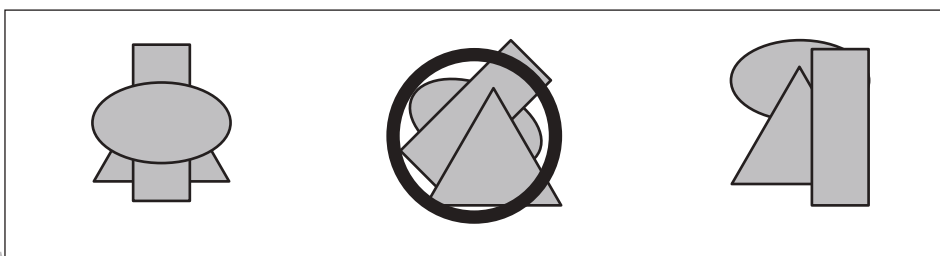
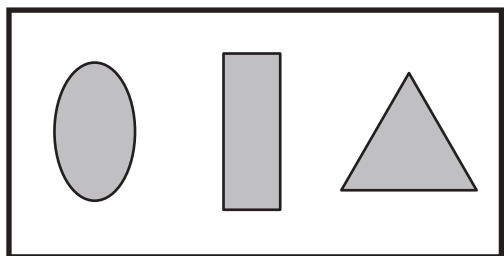
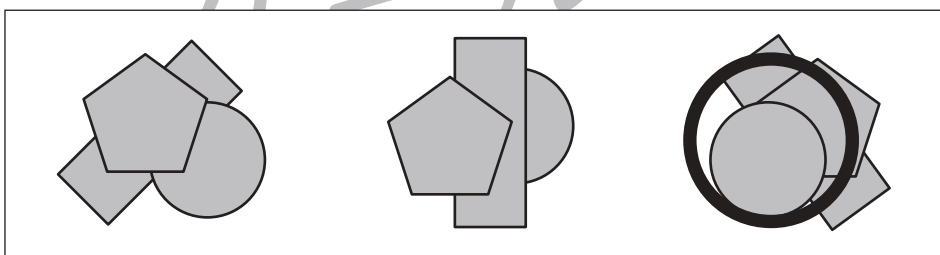
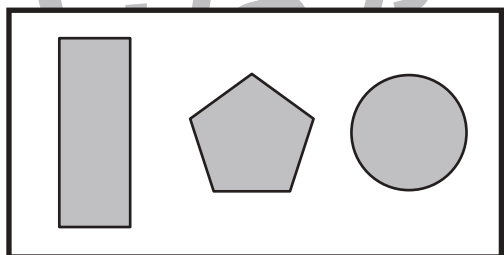
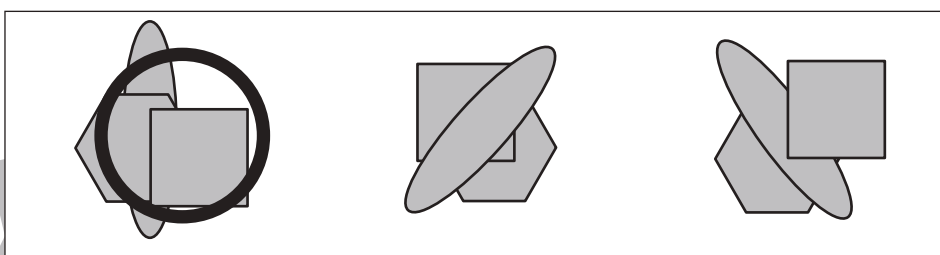
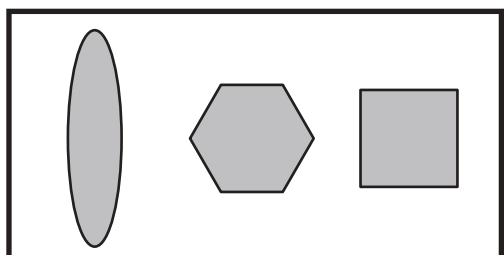
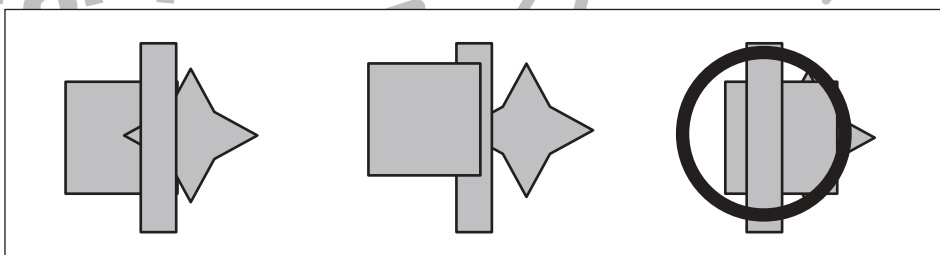
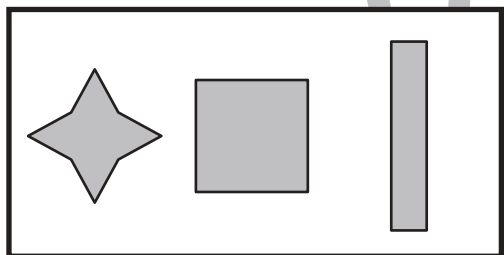
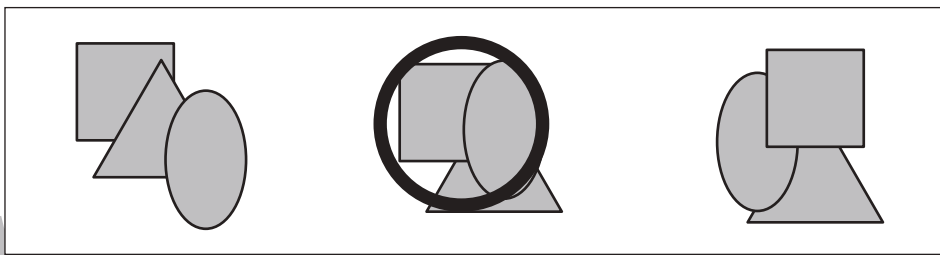
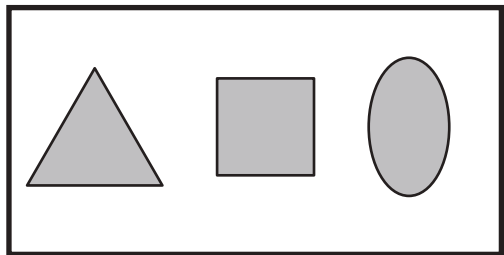


おうちで、やろう。

Study at home. 小学校受験の家庭学習教材

図形：重なり 21

左の太い四角の中の3つの形を重ねていきます。重ねる順番は左から順番に重ねて、一番左の形が一番下、一番右の形が一番上になるように重ねます。この時、正しいものを右の四角の中から選んで○をつけます。



※1. このプリントは、しながわ・目黒こどもスクールのウェブサイトでダウンロードができます。無断複写・引用はご遠慮ください。

※2. このプリントを活用したオンライン授業のスケジュールは、しながわ・目黒こどもスクールのウェブサイトでご確認ください。



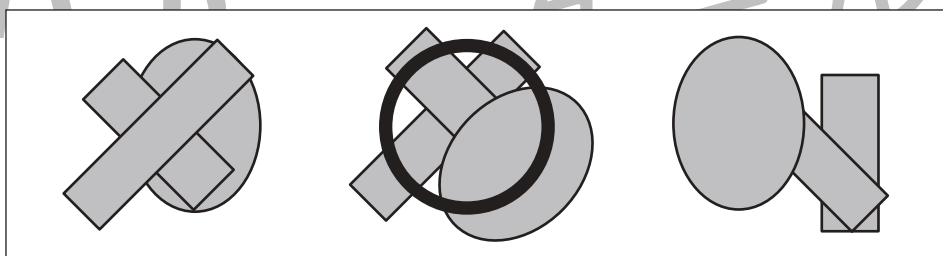
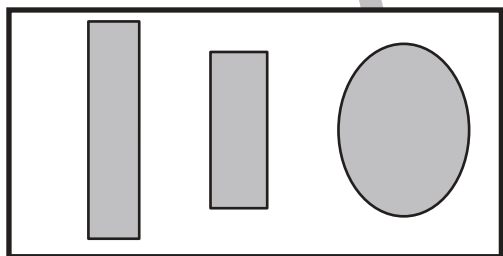
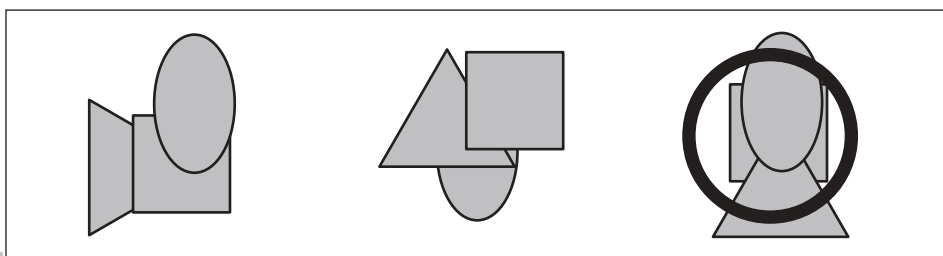
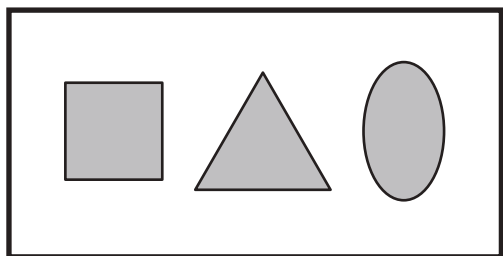
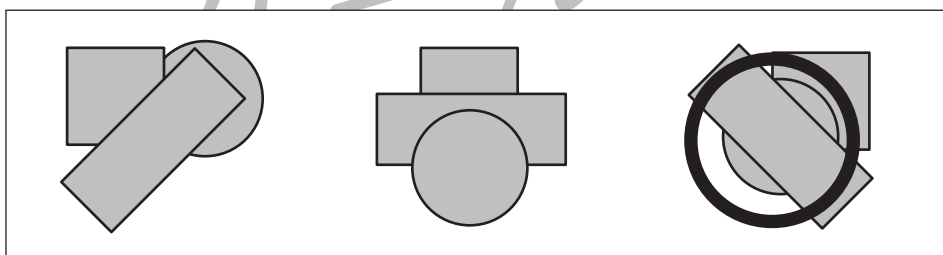
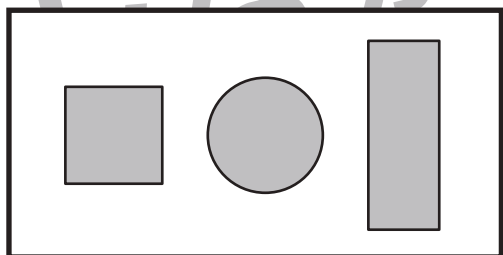
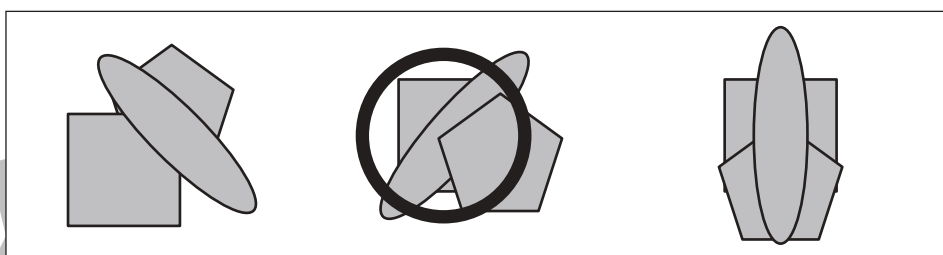
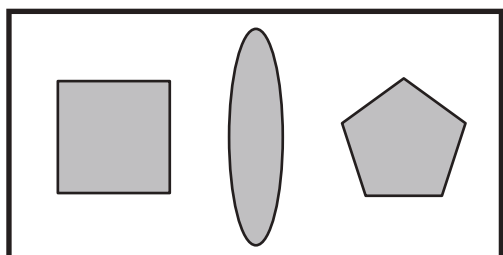
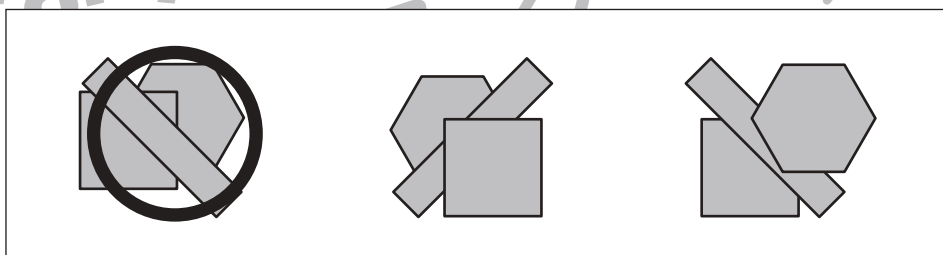
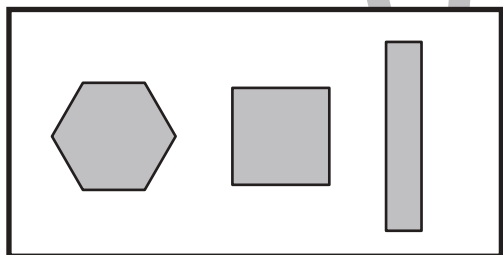
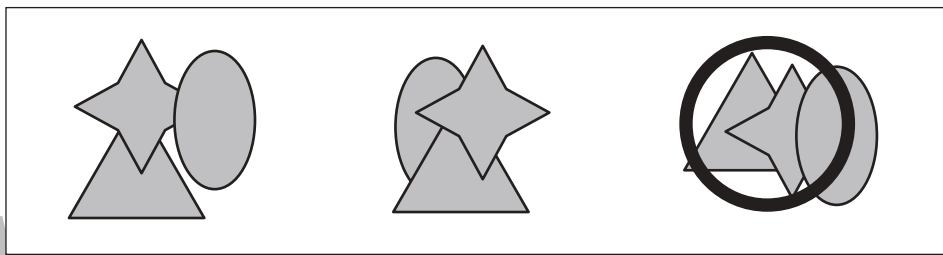
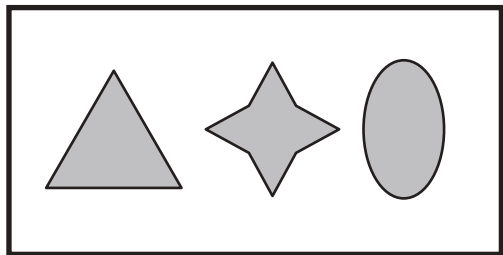


おうちで、やろう。

Study at home. 小学校受験の家庭学習教材

図形：重なり 22

左の太い四角の中の3つの形を重ねていきます。重ねる順番は左から順番に重ねて、一番左の形が一番下、一番右の形が一番上になるように重ねます。この時、正しいものを右の四角の中から選んで○をつけます。



※1. このプリントは、しながわ・目黒こどもスクールのウェブサイトからダウンロードできます。無断複写・引用はご遠慮ください。

※2. このプリントを活用したオンライン授業のスケジュールは、しながわ・目黒こどもスクールのウェブサイトでご確認ください。

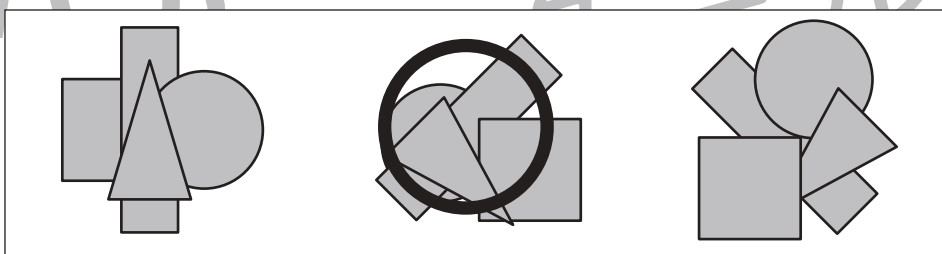
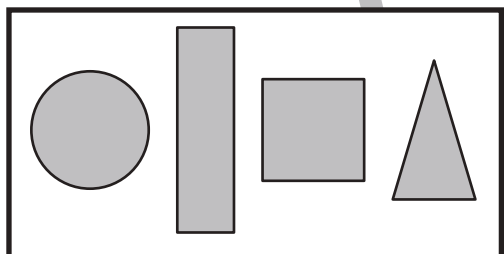
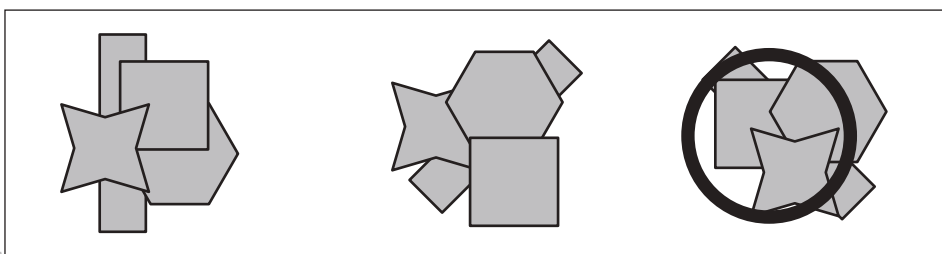
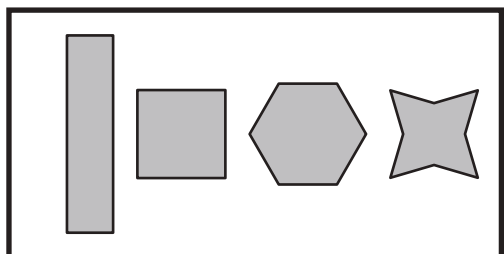


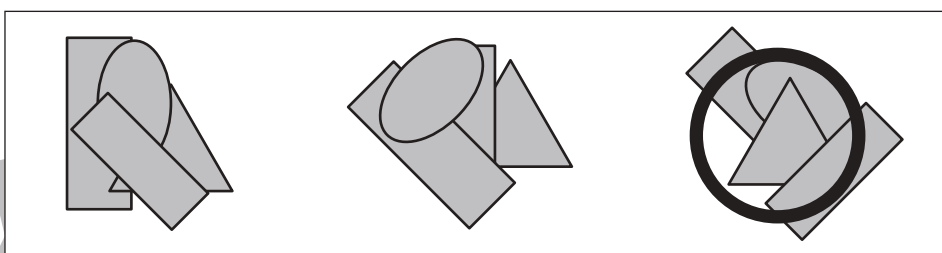
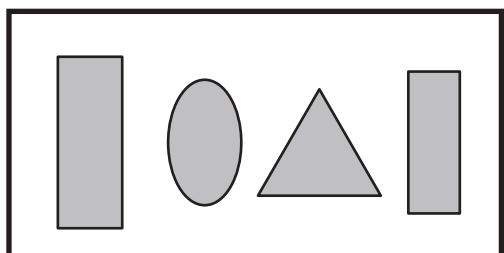
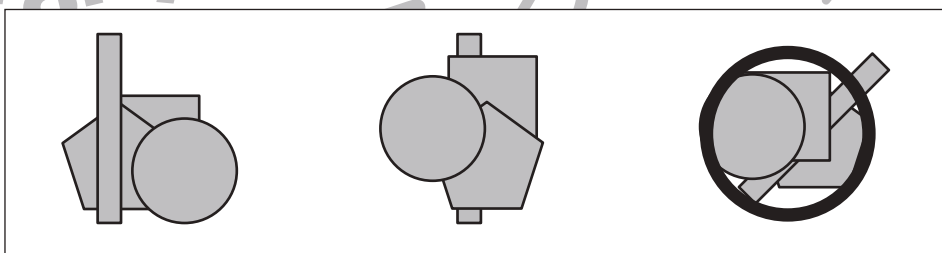
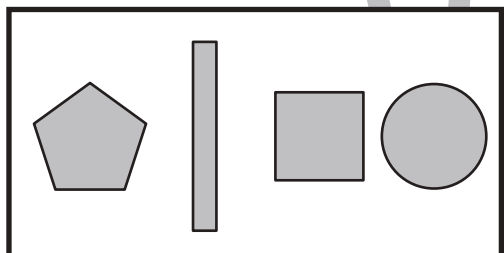
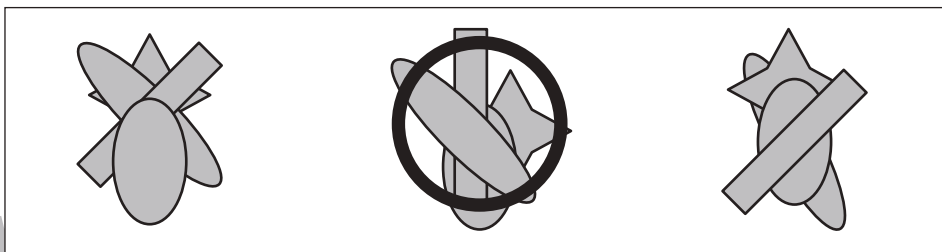
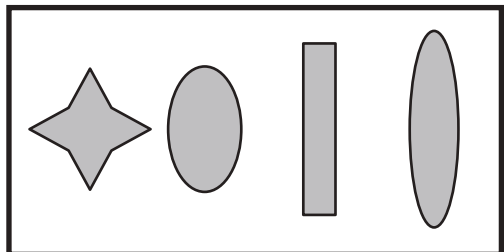


おうちで、やろう。

Study at home. 小学校受験の家庭学習教材

図形：重なり 23

左の太い四角の中の4つの形を重ねていきます。重ねる順番は左から順番に重ねて、一番左の形が一番下、一番右の形が一番上になるように重ねます。この時、正しいものを右の四角の中から選んで○をつけます。



※1. このプリントは、しながわ・目黒こどもスクールのウェブサイトからダウンロードできます。無断複写・引用はご遠慮ください。
※2. このプリントを活用したオンライン授業のスケジュールは、しながわ・目黒こどもスクールのウェブサイトでご確認ください。



おうちで、やろう。

Study at home. 小学校受験の家庭学習教材

推理：積み木 22

上の四角の中の積み木は白い積み木と黒い積み木で作った形です。隠れて見えない積み木はすべて白い積み木です。この時、白い積み木と黒い積み木はどちらが多いですか。下の四角の中の多い積み木に○をつけます。

※1. このプリントは、しながわ・目黒こどもスクールのウェブサイトでダウンロードができます。無断複写・引用はご遠慮ください。
 ※2. このプリントを活用したオンライン授業のスケジュールは、しながわ・目黒こどもスクールのウェブサイトでご確認ください。



おうちで、やろう。

Study at home. 小学校受験の家庭学習教材

推理：積み木 23

上の四角の中の積み木は白い積み木と黒い積み木で作った形です。隠れて見えない積み木はすべて白い積み木です。この時、白い積み木と黒い積み木はどちらが多いですか。下の四角の中の多い積み木に○をつけます。

下の四角に白い積み木と黒い積み木が示されています。白い積み木は○で囲まれています。

下の四角に白い積み木と黒い積み木が示されています。黒い積み木は○で囲まれています。

下の四角に白い積み木と黒い積み木が示されています。黒い積み木は○で囲まれています。

下の四角に白い積み木と黒い積み木が示されています。黒い積み木は○で囲まれています。

下の四角に白い積み木と黒い積み木が示されています。黒い積み木は○で囲まれています。

下の四角に白い積み木と黒い積み木が示されています。黒い積み木は○で囲まれています。

※1. このプリントは、しながわ・目黒こどもスクールのウェブサイトでダウンロードができます。無断複写・引用はご遠慮ください。
 ※2. このプリントを活用したオンライン授業のスケジュールは、しながわ・目黒こどもスクールのウェブサイトでご確認ください。



おうちで、やろう。

Study at home. 小学校受験の家庭学習教材

推理：積み木 24

上の四角の中の積み木は白い積み木と黒い積み木で作った形です。隠れて見えない積み木はすべて白い積み木です。この時、白い積み木と黒い積み木はどちらが多いですか。下の四角の中の多い積み木に○をつけます。

下の四角に○をつけてください。

下の四角に○をつけてください。

下の四角に○をつけてください。

下の四角に○をつけてください。

下の四角に○をつけてください。

下の四角に○をつけてください。

※1. このプリントは、しながわ・目黒こどもスクールのウェブサイトでダウンロードができます。無断複写・引用はご遠慮ください。
 ※2. このプリントを活用したオンライン授業のスケジュールは、しながわ・目黒こどもスクールのウェブサイトでご確認ください。







おうちで、やろう。

Study at home. 小学校受験の家庭学習教材

数量：複合7

上の四角の絵を見て、下の問題に答えましょう。それぞれの生き物が水槽の中に入っています。

- ①この中で水槽の中にある生き物が一番多いのはどれですか。その中にある生き物の数だけ○をかきます。
- ②同じ数だけ生き物がある水槽はどれですか。その水槽の中にある生き物の数だけ○をかきます。
- ③タコは全部で何匹いますか。その数だけ、○をかきます。
- ④チョウチンアンコウがエビを一匹ずつ食べてしまいました。残ったエビの数だけ○をかきます。



① ○ × 1 3

② ○ × 3

③ ○ × 4

④ ○ × 3




おうちで、やろう。

Study at home. 小学校受験の家庭学習教材

数量：複合8

上の四角の絵を見て、下の問題に答えましょう。

- ①この中で数が一番多い動物の数だけ○をかきます。
- ②この中で同じ数の動物がいます。その動物の数だけ○をかきます。
- ③アヒルの数だけ○をかきます。
- ④ウマがニワトリを2羽ずつ運びました。残ったニワトリの数だけ○をかきます。



① ○×8(にわとり)

② ○×5 (ブタと羊)

③ ○×7

④ ○×2



おうちで、やろう。

Study at home. 小学校受験の家庭学習教材

処理：模写 11

左の四角がお手本です。白いマスの場所を考えて右の四角の同じ場所に○をかきます。
この問題はスピードを意識して取り組む練習をしてみましょう。(1分30秒～2分)

| | | | |
|--|--|--|--|
| | | | |
| | | | |
| | | | |
| | | | |
| | | | |
| | | | |

※1. このプリントは、しながわ・目黒こどもスクールのウェブサイトダウンロードができます。無断複写・引用はご遠慮ください。
※2. このプリントを活用したオンライン授業のスケジュールは、しながわ・目黒こどもスクールのウェブサイトでご確認ください。