



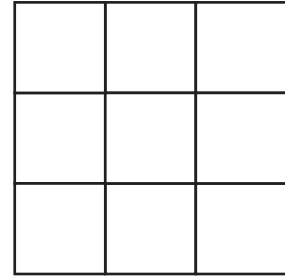
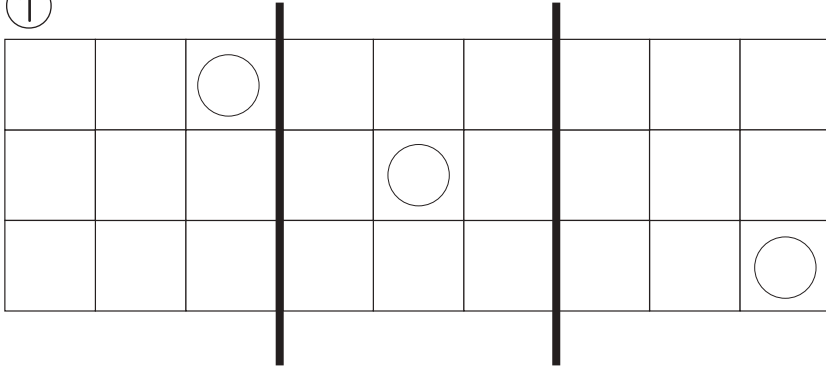
おうちで、やろう。

Study at home. 小学校受験の家庭学習教材

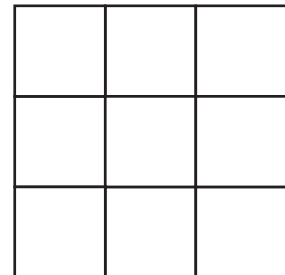
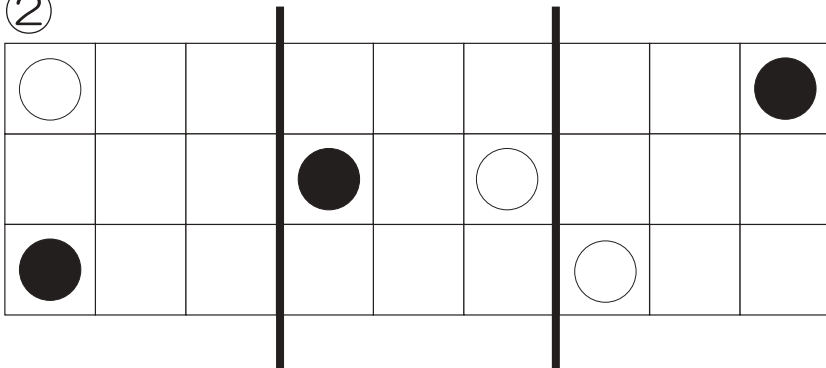
図形：折り重ね 44

透明な四角の中に白丸と黒丸がかかれています。太い線のところで真ん中に向かって折り重ねた時の見え方を考えて、右の四角に描きます。

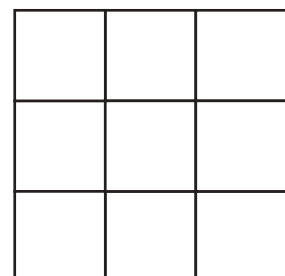
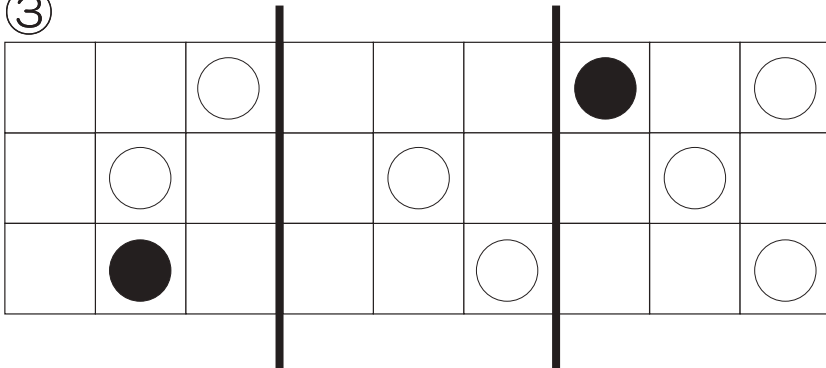
①



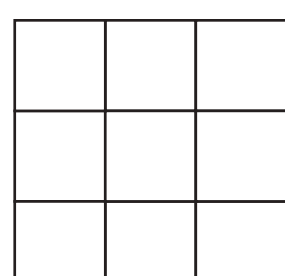
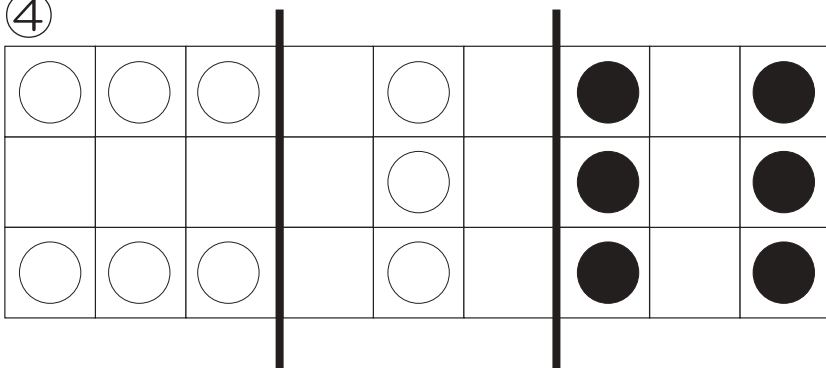
②



③



④



※1. このプリントは、しながわ・目黒こどもスクールのウェブサイトでダウンロードができます。無断複写・引用はご遠慮ください。
※2. このプリントを活用したオンライン授業のスケジュールは、しながわ・目黒こどもスクールのウェブサイトでご確認ください。



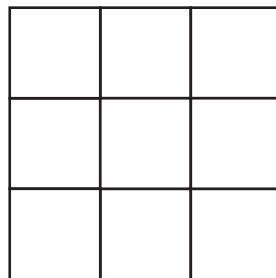
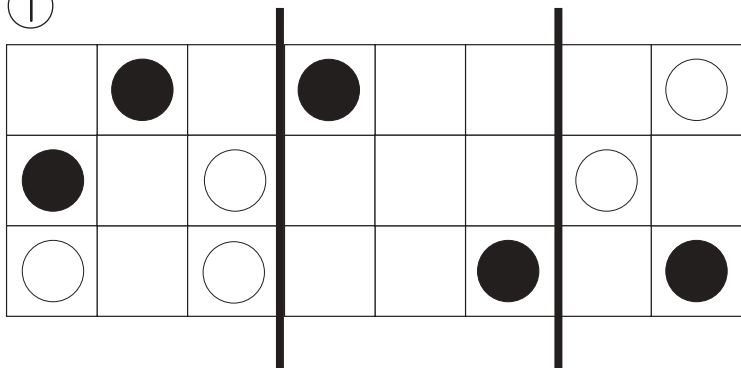
おうちで、やろう。

Study at home. 小学校受験の家庭学習教材

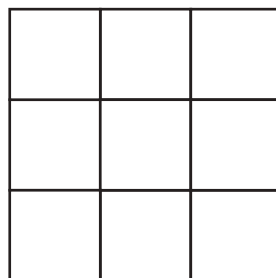
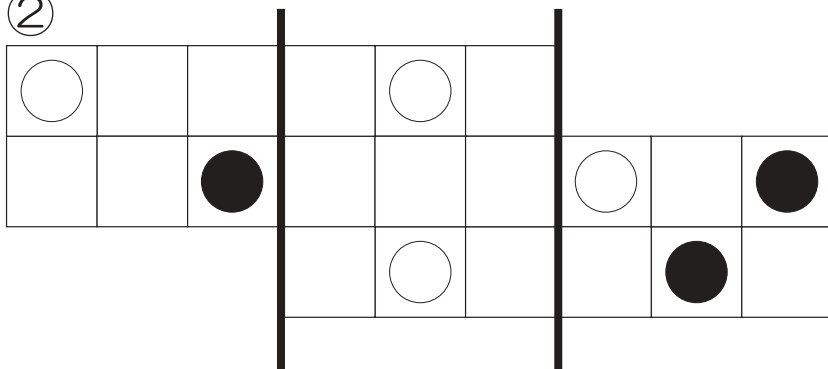
図形：折り重ね 45

透明な四角の中に白丸と黒丸がかかれています。太い線のところで真ん中に向かって折り重ねた時の見え方を考えて、右の四角に描きます。

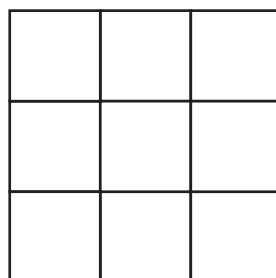
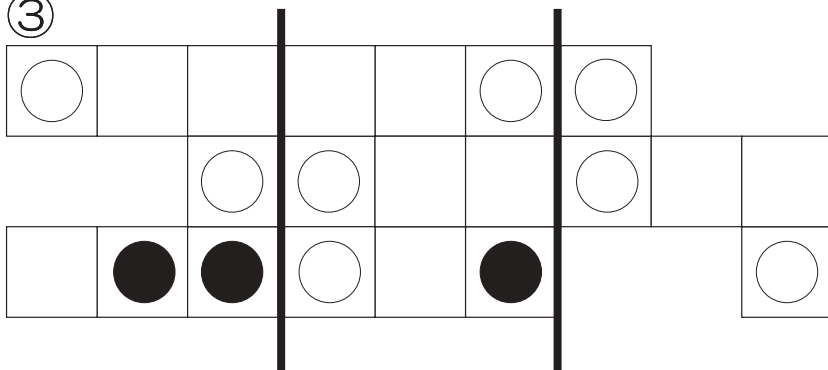
①



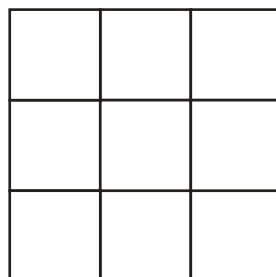
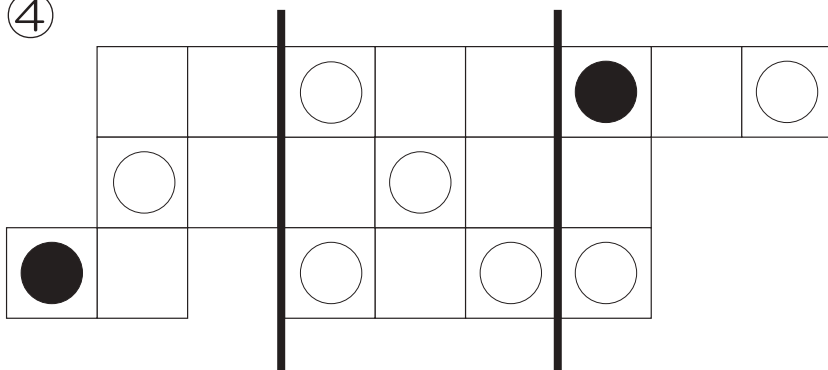
②



③



④



※1. このプリントは、しながわ・目黒こどもスクールのウェブサイトでダウンロードができます。無断複写・引用はご遠慮ください。

※2. このプリントを活用したオンライン授業のスケジュールは、しながわ・目黒こどもスクールのウェブサイトでご確認ください。



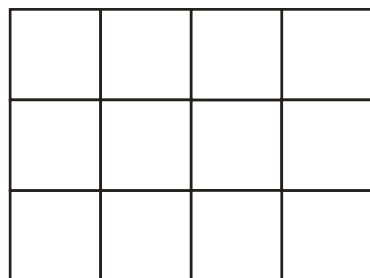
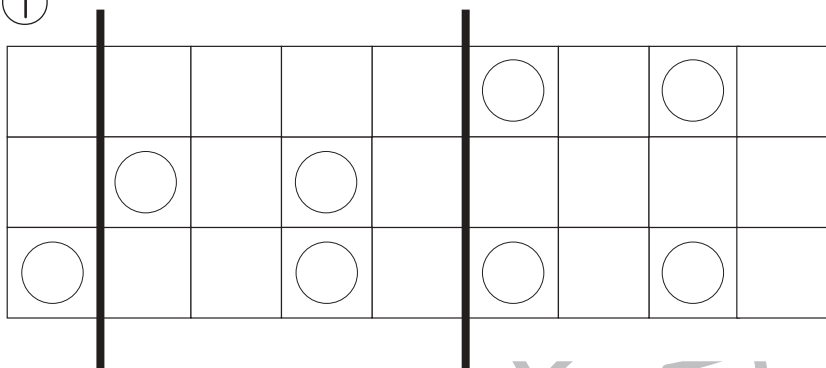
おうちで、やろう。

Study at home. 小学校受験の家庭学習教材

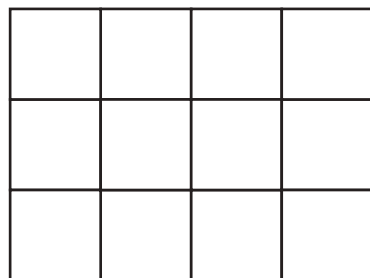
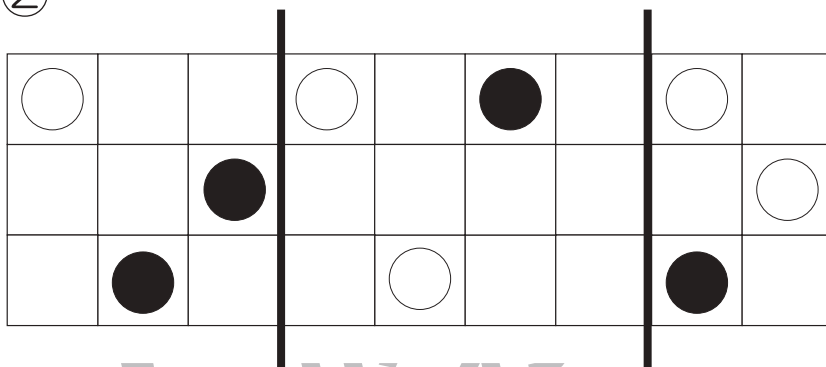
図形：折り重ね 46

透明な四角の中に白丸と黒丸がかかれています。太い線のところで真ん中に向かって折り重ねた時の見え方を考えて、右の四角に描きます。

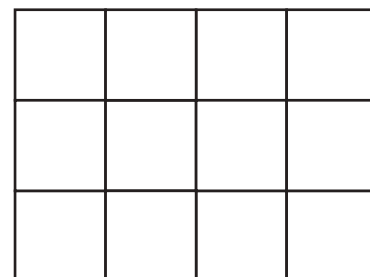
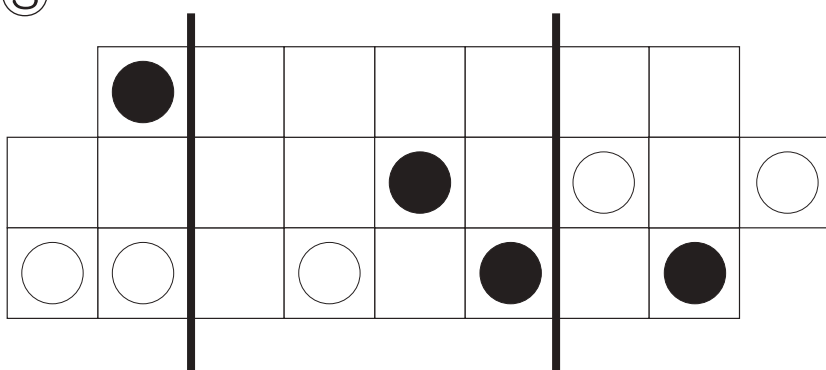
①



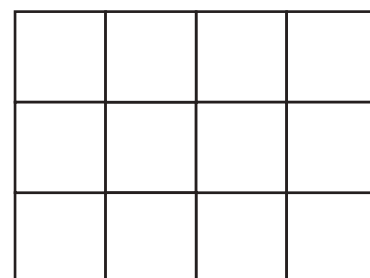
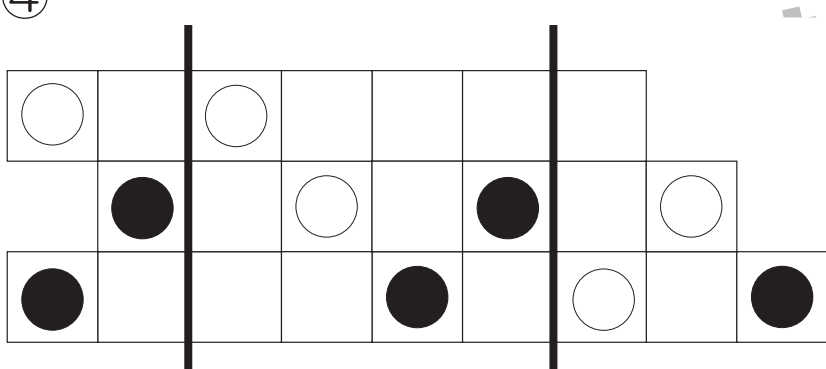
②



③



④



※1. このプリントは、しながわ・目黒こどもスクールのウェブサイトでダウンロードができます。無断複写・引用はご遠慮ください。
 ※2. このプリントを活用したオンライン授業のスケジュールは、しながわ・目黒こどもスクールのウェブサイトでご確認ください。





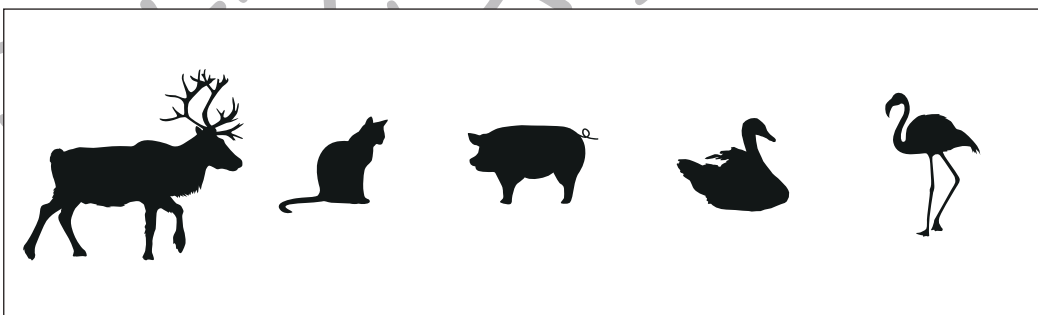





おうちで、やろう。

Study at home. 小学校受験の家庭学習教材

推理：シルエット9

左の太い四角の中には、動物が影になって重なっています。右の四角の中で、左の四角の中にいない動物を見つけて×をつけます。



※1. このプリントは、しながわ・目黒こどもスクールのウェブサイトでダウンロードができます。無断複写・引用はご遠慮ください。
※2. このプリントを活用したオンライン授業のスケジュールは、しながわ・目黒こどもスクールのウェブサイトでご確認ください。








おうちで、やろう。

Study at home. 小学校受験の家庭学習教材

推理：シルエット 10

左の太い四角の中には、人が影になって重なっています。右の四角の中で、左の四角の中にいない人を見つけて × をつけます。



※1. このプリントは、しながわ・目黒こどもスクールのウェブサイトでダウンロードができます。無断複写・引用はご遠慮ください。
※2. このプリントを活用したオンライン授業のスケジュールは、しながわ・目黒こどもスクールのウェブサイトでご確認ください。








おうちで、やろう。

Study at home. 小学校受験の家庭学習教材

推理：シルエット 11

左の太い四角の中には、葉っぱが影になって重なっています。右の四角の中で、左の四角の中に見えない葉っぱを見つけて × をつけます。



※1. このプリントは、しながわ・目黒こどもスクールのウェブサイトでダウンロードができます。無断複写・引用はご遠慮ください。
※2. このプリントを活用したオンライン授業のスケジュールは、しながわ・目黒こどもスクールのウェブサイトでご確認ください。





おうちで、やろう。

Study at home. 小学校受験の家庭学習教材

数量：加減 38

うさぎさんがいくつかの果物を持っています。くまさんとねこさんにいくつかあげると、一番右の四角の個数だけ果物が残りました。このとき、ねこさんにあげた果物の数はいくつですか。上の四角にはりんごの数だけ、下の四角にはぶどうの数だけ〇をかきます。

※1. このプリントは、しながわ・目黒こどもスクールのウェブサイトでダウンロードができます。無断複写・引用はご遠慮ください。

※2. このプリントを活用したオンライン授業のスケジュールは、しながわ・目黒こどもスクールのウェブサイトでご確認ください。



おうちで、やろう。

Study at home. 小学校受験の家庭学習教材

数量：加減 39

うさぎさんがいくつかの果物を持っています。くまさんとねこさんに持っている果物をいくつかあげました。

一番右の四角はくまさんとねこさんに果物をあげたあとのうさぎさんが持っている果物の数です。

このとき太い四角の動物が持っている果物はいくつですか。上の段にりんごの数だけ、下の段にぶどうの数だけを○でかきます。

※1. このプリントは、しながわ・目黒こどもスクールのウェブサイトからダウンロードできます。無断複写・引用はご遠慮ください。

※2. このプリントを活用したオンライン授業のスケジュールは、しながわ・目黒こどもスクールのウェブサイトでご確認ください。



おうちで、やろう。

Study at home. 小学校受験の家庭学習教材

数量：加減 40

うさぎさんがいくつかの果物を持っています。くまさんには四角の中の数だけ果物をあげて、ねこさんからは四角の中の数だけ果物をもらいました。一番右の四角はくまさんとねこさんにあげたりもらったりした後のうさぎさんが持っている果物の数です。このとき、太い四角の動物が持っている果物はいくつですか。上の段にりんごの数を、下の段にぶどうの数を○でかきます。

※1. このプリントは、しながわ・目黒こどもスクールのウェブサイトでダウンロードができます。無断複写・引用はご遠慮ください。
※2. このプリントを活用したオンライン授業のスケジュールは、しながわ・目黒こどもスクールのウェブサイトでご確認ください。





おうちで、やろう。

Study at home. 小学校受験の家庭学習教材

処理能力：抹消 6

上の太い四角の中の絵がお手本です。下のマスの中からお手本の絵をみつけて斜め線（/）をつけていきます。お手本を見つけるときは、一番上の段の左からはじめて、右端まで見ます。1段目ができたら2段目の左から右。次に3段目の左から右と順番に印をつけていきます。この問題はできるだけ早く印をつけます。それぞれ40秒以内を目指し取り組みましょう。



※1. このプリントは、しながわ・目黒こどもスクールのウェブサイトでダウンロードができます。無断複写・引用はご遠慮ください。
※2. このプリントを活用したオンライン授業のスケジュールは、しながわ・目黒こどもスクールのウェブサイトでご確認ください。