

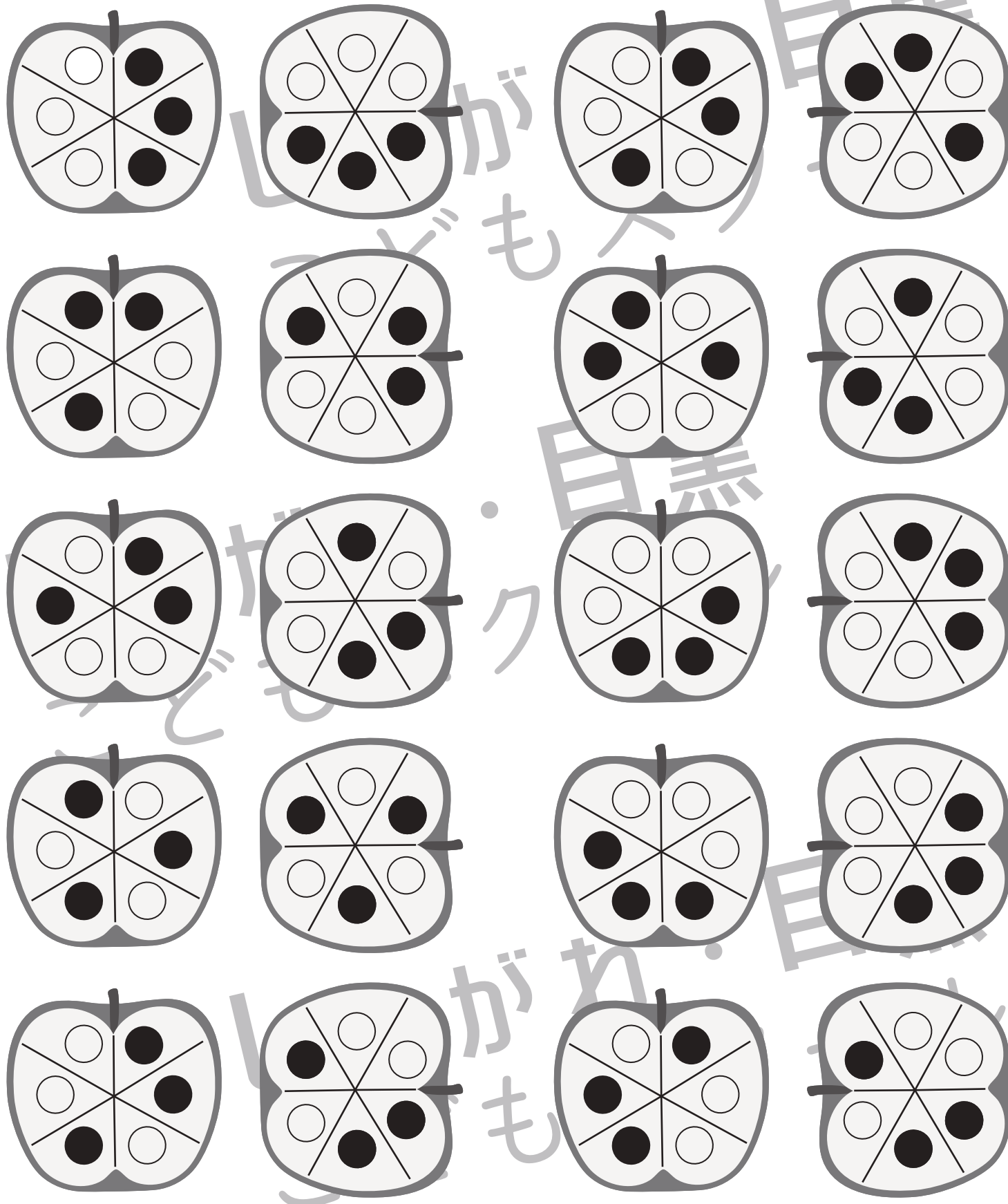


おうちで、やろう。

Study at home. 小学校受験の家庭学習教材

図形：回転 66

左のりんごを右の向きに回したときの見え方を考えて、○を塗ります。



※1. このプリントは、しながわ・目黒こどもスクールのウェブサイトからダウンロードできます。無断複写・引用はご遠慮ください。
 ※2. このプリントを活用したオンライン授業のスケジュールは、しながわ・目黒こどもスクールのウェブサイトでご確認ください。

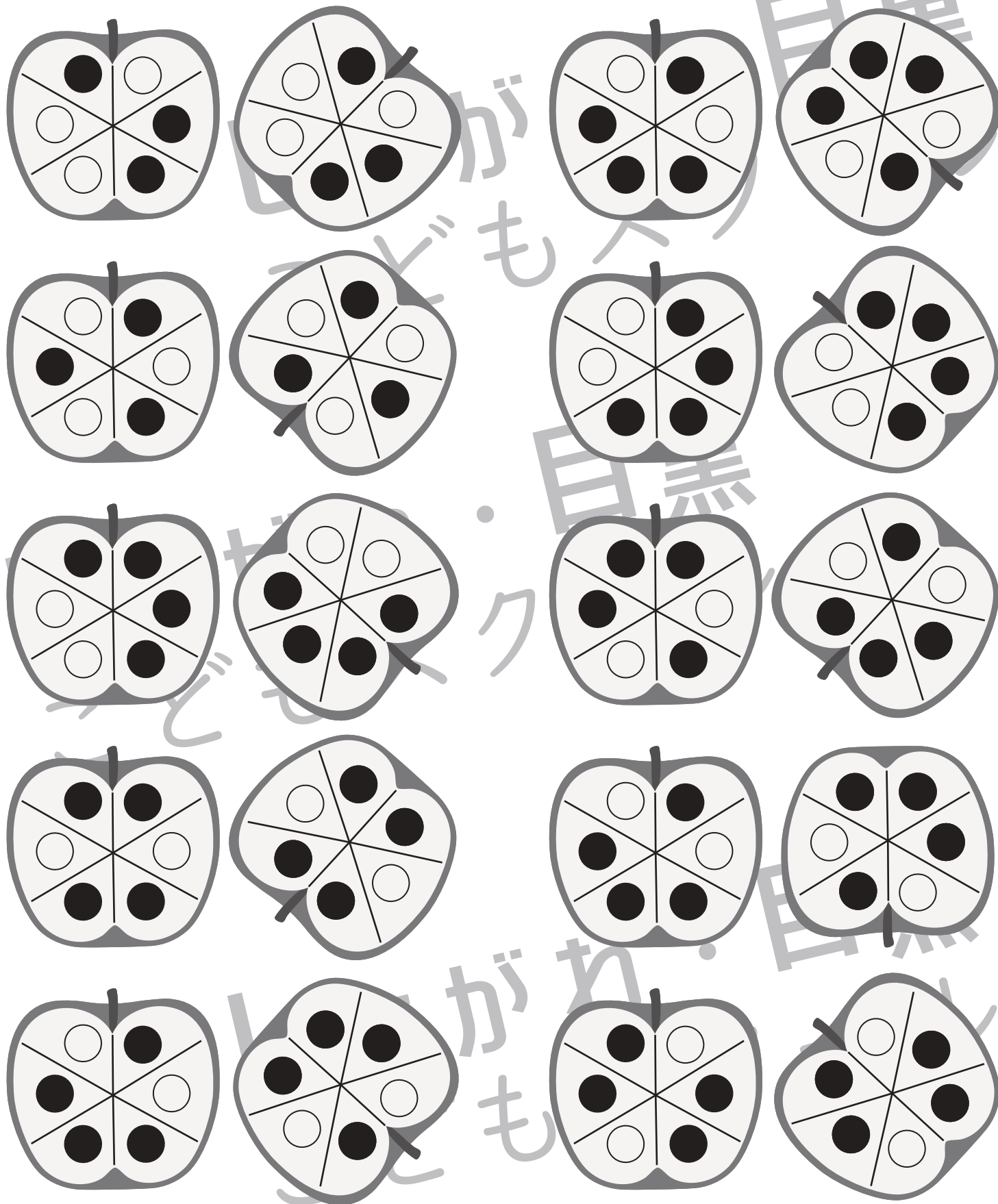


おうちで、やろう。

Study at home. 小学校受験の家庭学習教材

図形：回転 67

左のりんごを右の向きに回したときの見え方を考えて、○を塗ります。



※1. このプリントは、しながわ・目黒こどもスクールのウェブサイトでダウンロードができます。無断複写・引用はご遠慮ください。
 ※2. このプリントを活用したオンライン授業のスケジュールは、しながわ・目黒こどもスクールのウェブサイトでご確認ください。

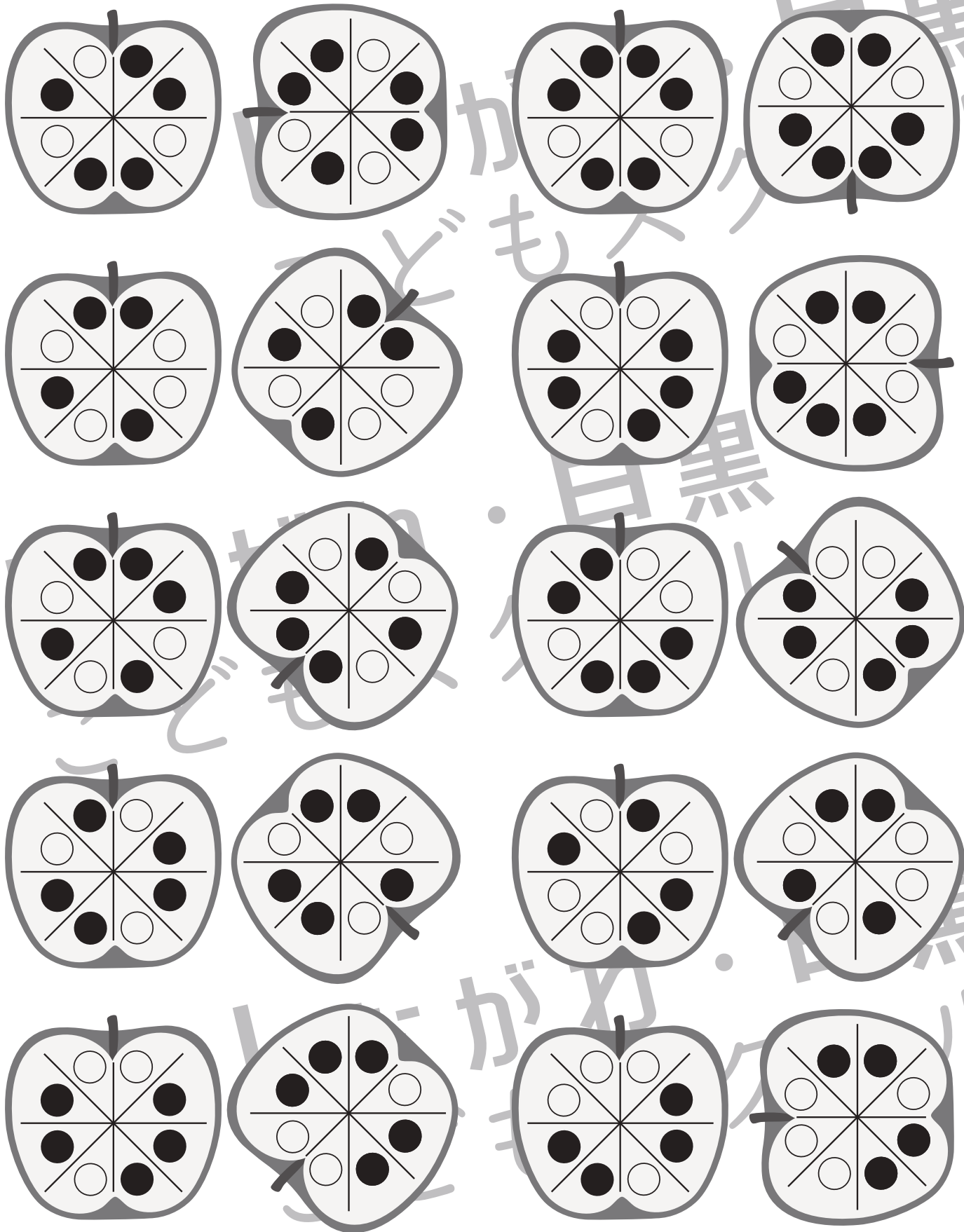


おうちで、やろう。

Study at home. 小学校受験の家庭学習教材

図形：回転 68

左のりんごを右の向きに回したときの見え方を考えて、○を塗ります。



※1. このプリントは、しながわ・目黒こどもスクールのウェブサイトからダウンロードできます。無断複写・引用はご遠慮ください。
 ※2. このプリントを活用したオンライン授業のスケジュールは、しながわ・目黒こどもスクールのウェブサイトでご確認ください。


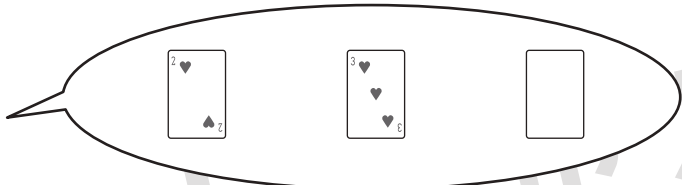




おうちで、やろう。


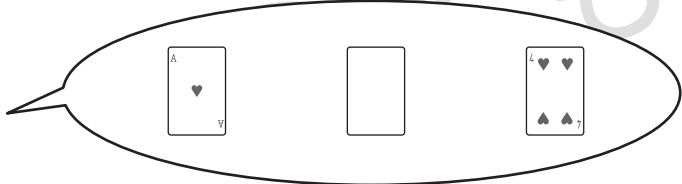

Study at home. 小学校受験の家庭学習教材


数量：合わせた数 17


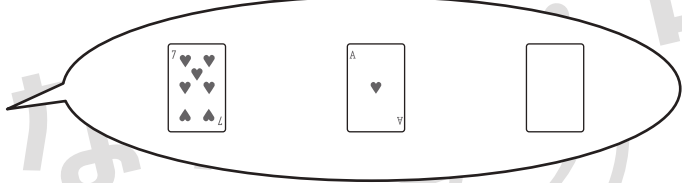

子どもたちがトランプで遊んでいます。子どもたちの持っているカードは白い枠の中にありますが、何枚か隠れて見えなくなっています。同じ目のカードは使わない約束で子どもたちはカードを持っているようです。また、手持ちのカードの目を合わせた数は白い枠の右に書いてあります。このヒントから、隠れて見えなくなっているトランプを下から選んで○をつけましょう。

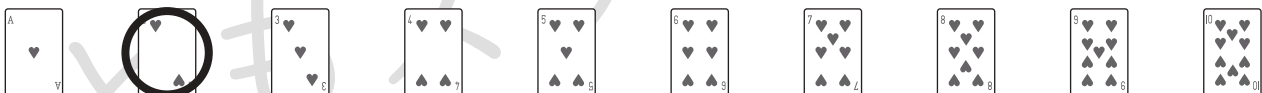
  あわせて 


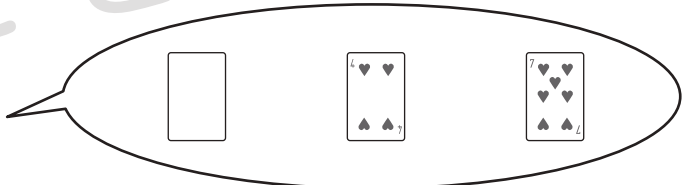




  あわせて 


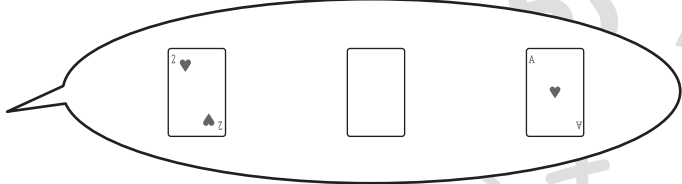



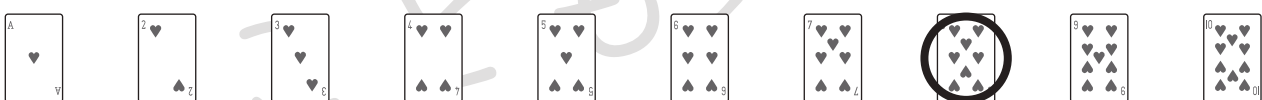
  あわせて 



  あわせて 



  あわせて 



※1. このプリントは、しながわ・目黒こどもスクールのウェブサイトでダウンロードができます。無断複写・引用はご遠慮ください。

※2. このプリントを活用したオンライン授業のスケジュールは、しながわ・目黒こどもスクールのウェブサイトでご確認ください。

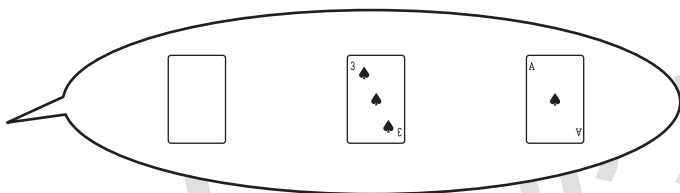


おうちで、やろう。


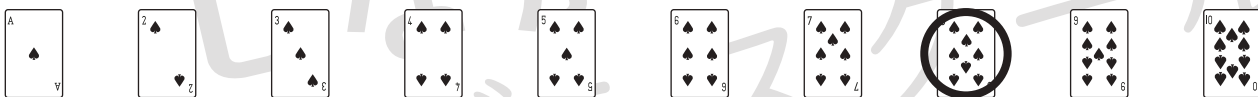
Study at home. 小学校受験の家庭学習教材

数量：合わせた数 18

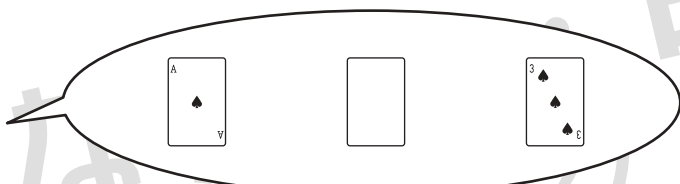
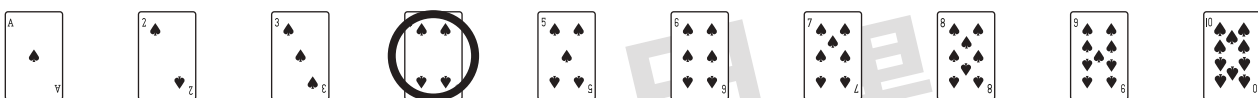
子どもたちがトランプで遊んでいます。子どもたちの持っているカードは白い枠の中にありますが、何枚か隠れて見えなくなっています。同じ目のカードは使わない約束で子どもたちはカードを持っているようです。また、手持ちのカードの目を合わせた数は子どもたちの下に書いてあります。このヒントから、隠れて見えなくなっているトランプを下から選んで〇をつけましょう。



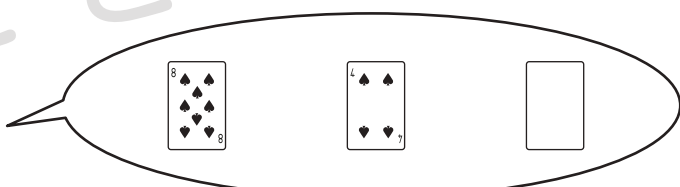

あわせて



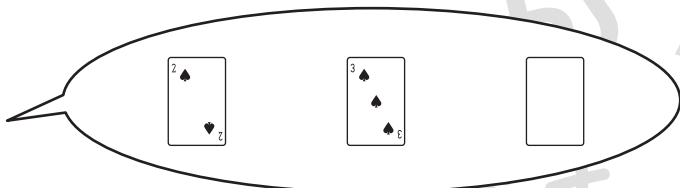
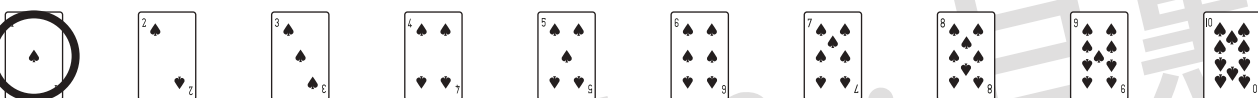

あわせて




あわせて



あわせて



あわせて



※1. このプリントは、しながわ・目黒こどもスクールのウェブサイトでダウンロードができます。無断複写・引用はご遠慮ください。

※2. このプリントを活用したオンライン授業のスケジュールは、しながわ・目黒こどもスクールのウェブサイトでご確認ください。





おうちで、やろう。

Study at home. 小学校受験の家庭学習教材

数量：合わせた数 19

子どもたちがトランプで遊んでいます。子どもたちの持っているカードは白い枠の中にありますが、何枚か隠れて見えなくなっています。同じ目のカードは使わない約束で子どもたちはカードを持っているようです。また、手持ちのカードの目を合わせた数は白い枠の右に書いてあります。このヒントから、隠れて見えなくなっているトランプを下から選んで○をつけましょう。




7
♡♡♡♡♡
♠♠♠♠♠

□

□

あわせて



2 ♠ ♣

3 ♠ ♣

4 ♠ ♠

□

あわせて




□

8 ♡ ♠

□

あわせて





2 ♠ ♣

□

♠

10 ♠ ♠

あわせて

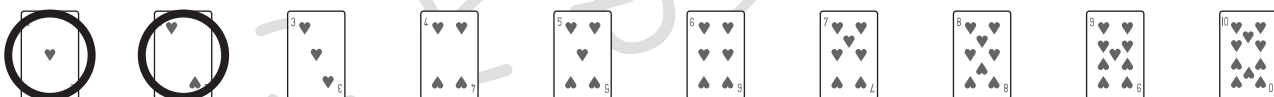


□

□

9 ♡ ♠

あわせて



※1. このプリントは、しながわ・目黒こどもスクールのウェブサイトでダウンロードができます。無断複写・引用はご遠慮ください。
 ※2. このプリントを活用したオンライン授業のスケジュールは、しながわ・目黒こどもスクールのウェブサイトでご確認ください。



おうちで、やろう。

Study at home. 小学校受験の家庭学習教材

数量：足りない数 15

左の子が持っている3枚のカードのうち、1枚を右の子が取りました。右にあるマークは左の子の手元に残ったカードの目の数が描かれています。右の子が何のカードを取ったのかを考えて、下から正しいカードを選んで○をつけましょう。

左の子が持っている3枚のカード：2♥, 4♥, 6♥

右の子が持っているカード：A♥, 2♥, 3♥, 4♥, 5♥, 6♥, 7♥, 8♥, 9♥, 10♥

右の子が持っているマーク：のこりの2まいをあわせて (5♥)

正解：5♥

左の子が持っている3枚のカード：6♥, 5♥, 4♥

右の子が持っているカード：A♥, 2♥, 3♥, 4♥, 5♥, 6♥, 7♥, 8♥, 9♥, 10♥

右の子が持っているマーク：のこりの2まいをあわせて (7♥)

正解：7♥

左の子が持っている3枚のカード：8♥, A♥, 5♥

右の子が持っているカード：A♥, 2♥, 3♥, 4♥, 5♥, 6♥, 7♥, 8♥, 9♥, 10♥

右の子が持っているマーク：のこりの2まいをあわせて (9♥)

正解：9♥

左の子が持っている3枚のカード：4♥, 10♥, 6♥

右の子が持っているカード：A♥, 2♥, 3♥, 4♥, 5♥, 6♥, 7♥, 8♥, 9♥, 10♥

右の子が持っているマーク：のこりの2まいをあわせて (10♥)

正解：10♥

※1. このプリントは、しながわ・目黒こどもスクールのウェブサイトでダウンロードができます。無断複写・引用はご遠慮ください。
 ※2. このプリントを活用したオンライン授業のスケジュールは、しながわ・目黒こどもスクールのウェブサイトでご確認ください。

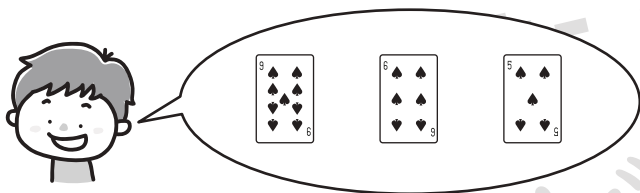
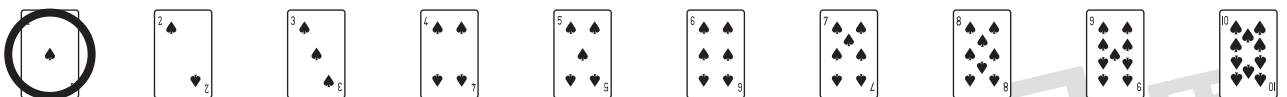
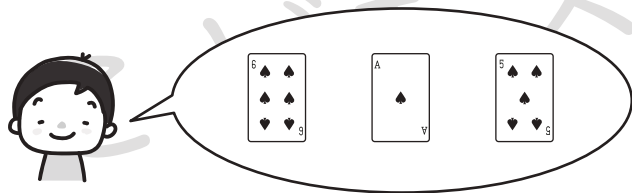
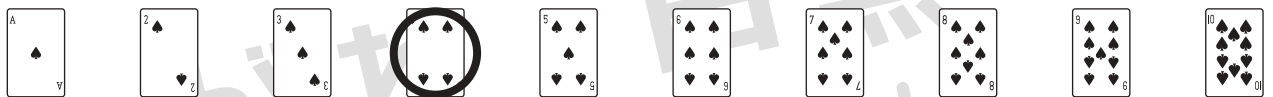
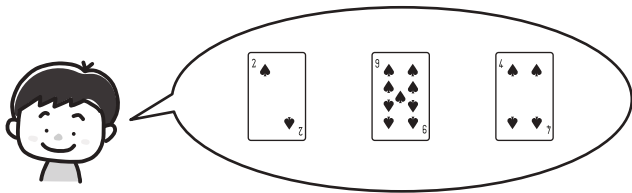
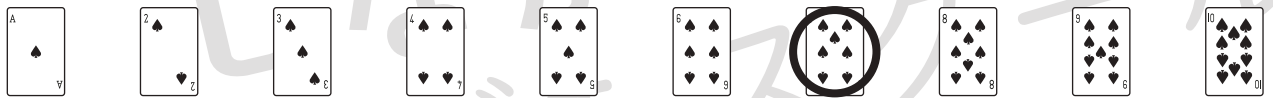
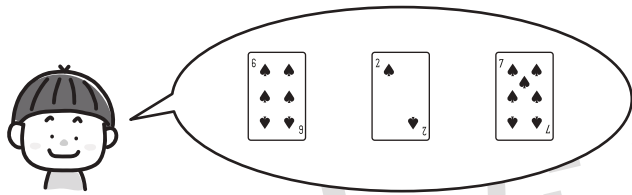


おうちで、やろう。

Study at home. 小学校受験の家庭学習教材

数量：足りない数 16

左の子が持っている3枚のカードのうち、1枚を右の子が取りました。右にあるマークは左の子の手元に残ったカードの目の数が描かれています。右の子が何のカードを取ったのかを考えて、下から正しいカードを選んで○をつけましょう。



※1. このプリントは、しながわ・目黒こどもスクールのウェブサイトでダウンロードができます。無断複写・引用はご遠慮ください。
※2. このプリントを活用したオンライン授業のスケジュールは、しながわ・目黒こどもスクールのウェブサイトでご確認ください。