












# おうちで、やろう。






Study at home. 小学校受験の家庭学習教材

## 言語：音の理解 41






左の四角の中の動物のはじめの音と終わりの音を考えます。右の四角の中の動物の中で左の動物と同じはじめの音の動物には○、終わりの音が同じ動物には×をつけます。

		 ○		 ×
---	---	---	---	---

		 ○		 ×
---	---	---	---	---

	 ×		 ○	
---	---	---	---	---

		 ×		 ○
---	---	---	---	---

	 ○		 ×	
---	---	---	---	---

※1. このプリントは、しながわ・目黒こどもスクールのウェブサイトでダウンロードができます。無断複写・引用はご遠慮ください。  
 ※2. このプリントを活用したオンライン授業のスケジュールは、しながわ・目黒こどもスクールのウェブサイトでご確認ください。



# おうちで、やろう。

Study at home. 小学校受験の家庭学習教材

## 言語：音の理解 42

左の四角の中の食べ物のはじめの音と終わりの音を考えます。右の四角の中の食べ物の中で左の食べ物と同じはじめの音の食べ物には○、終わりの音が同じ食べ物には×をつけます。

--	--	--	--	--

--	--	--	--	--

--	--	--	--	--

--	--	--	--	--

--	--	--	--	--

※1. このプリントは、しながわ・目黒こどもスクールのウェブサイトでダウンロードができます。無断複写・引用はご遠慮ください。  
 ※2. このプリントを活用したオンライン授業のスケジュールは、しながわ・目黒こどもスクールのウェブサイトでご確認ください。



# おうちで、やろう。

Study at home. 小学校受験の家庭学習教材

## 図形：鏡 31

左のお手本を真ん中の太い線に鏡を置いてみました。ただし、この鏡は魔法の鏡で白丸だけしかうつりません。鏡にうつった様子を右のマスにかきます。


※1. このプリントは、しながわ・目黒こどもスクールのウェブサイトでダウンロードができます。無断複写・引用はご遠慮ください。  
※2. このプリントを活用したオンライン授業のスケジュールは、しながわ・目黒こどもスクールのウェブサイトでご確認ください。



# おうちで、やろう。

Study at home. 小学校受験の家庭学習教材

## 図形：鏡 32

左のお手本を真ん中の太い線に鏡を置いてみました。ただし、この鏡は魔法の鏡で白丸は黒丸に、黒丸は白丸に変わって見えます。鏡にうつった様子を右のマスにかきます。


※1. このプリントは、しながわ・目黒こどもスクールのウェブサイトでダウンロードができます。無断複写・引用はご遠慮ください。  
※2. このプリントを活用したオンライン授業のスケジュールは、しながわ・目黒こどもスクールのウェブサイトでご確認ください。



# おうちで、やろう。

Study at home. 小学校受験の家庭学習教材

## 図形：鏡 33

左のお手本を真ん中の太い線に鏡を置いてみました。ただし、この鏡は魔法の鏡で白丸と黒丸はうつりません。その他の形はうつります。鏡にうつったようすを右のマスにかきます。


※1. このプリントは、しながわ・目黒こどもスクールのウェブサイトでダウンロードができます。無断複写・引用はご遠慮ください。  
※2. このプリントを活用したオンライン授業のスケジュールは、しながわ・目黒こどもスクールのウェブサイトでご確認ください。



# おうちで、やろう。

Study at home. 小学校受験の家庭学習教材

推理：弓矢 1

四角の中の風船を矢を放って割ります。左の太い四角の矢印の数だけその向きに矢を放つとすべての風船を割ることができます。矢の進む道を考えて線を描きます。


※1. このプリントは、しながわ・目黒こどもスクールのウェブサイトでダウンロードができます。無断複写・引用はご遠慮ください。  
 ※2. このプリントを活用したオンライン授業のスケジュールは、しながわ・目黒こどもスクールのウェブサイトでご確認ください。



# おうちで、やろう。

Study at home. 小学校受験の家庭学習教材

推理：弓矢 2

四角の中の風船を矢を放って割ります。左の太い四角の矢印の数だけその向きに矢を放つとすべての風船を割ることができます。矢の進む道を考えて線を描きます。


※1. このプリントは、しながわ・目黒こどもスクールのウェブサイトからダウンロードできます。無断複写・引用はご遠慮ください。

※2. このプリントを活用したオンライン授業のスケジュールは、しながわ・目黒こどもスクールのウェブサイトでご確認ください。

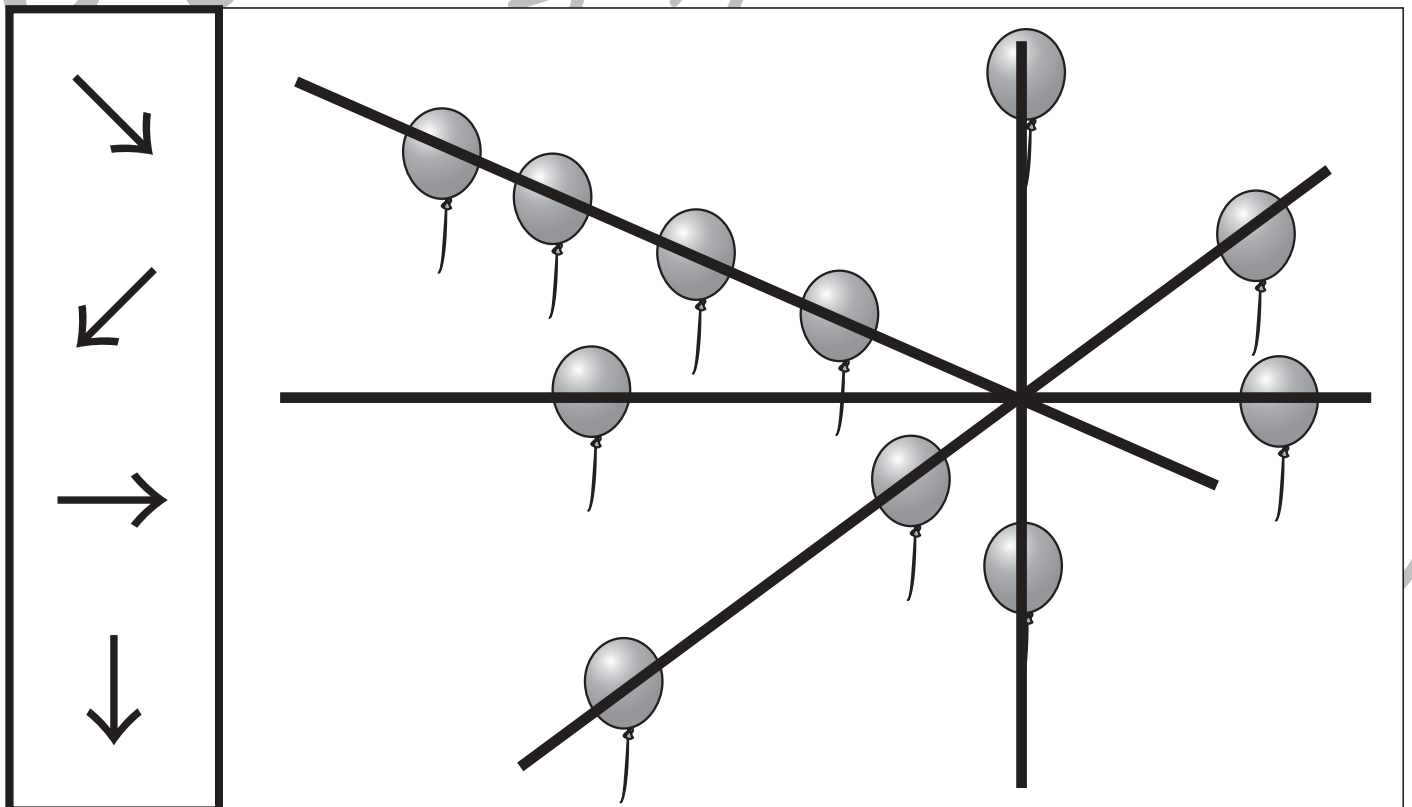
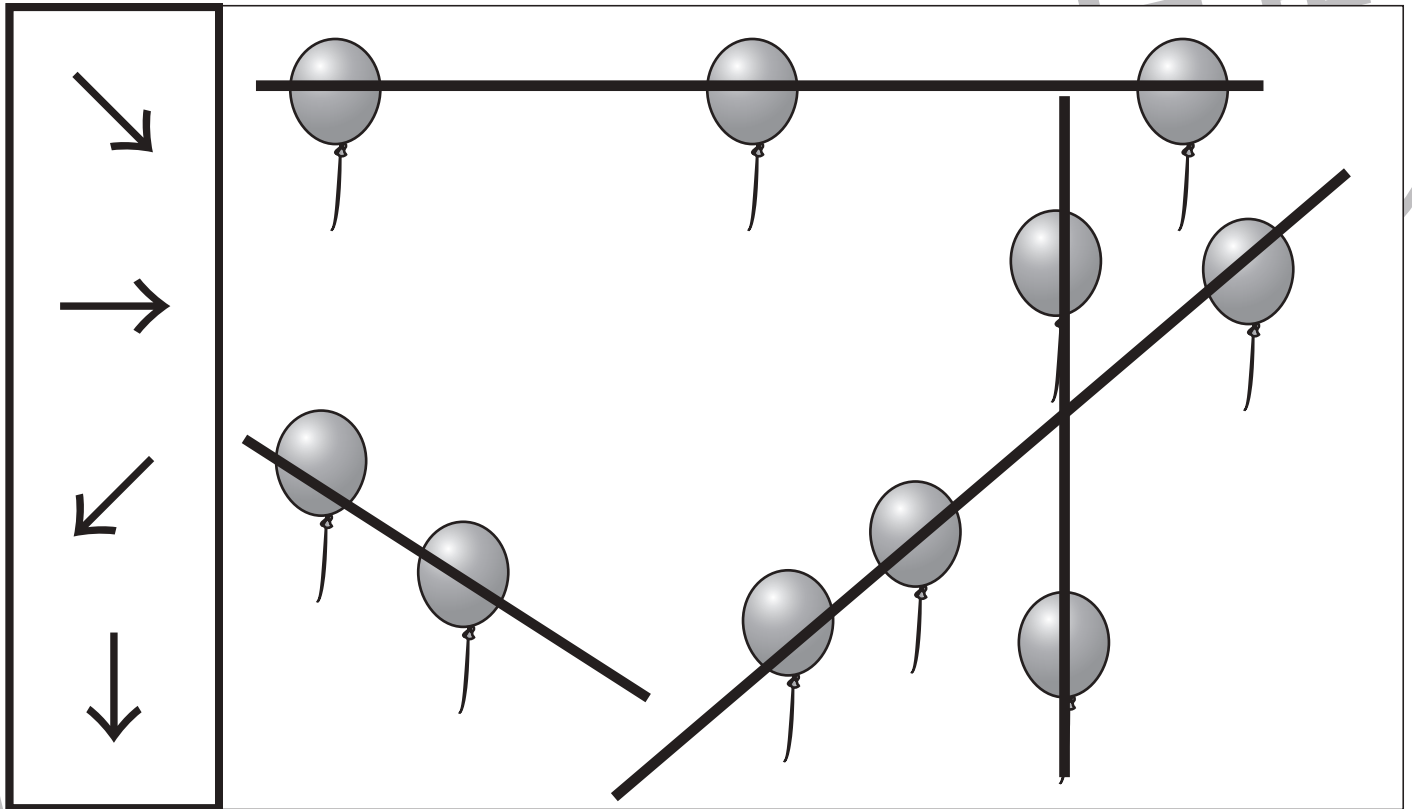


# おうちで、やろう。

Study at home. 小学校受験の家庭学習教材

推理：弓矢 3

四角の中の風船を矢を放って割ります。左の太い四角の矢印の数だけその向きに矢を放つとすべての風船を割ることができます。矢の進む道を考えて線を描きます。



※1. このプリントは、しながわ・目黒こどもスクールのウェブサイトでダウンロードができます。無断複写・引用はご遠慮ください。  
 ※2. このプリントを活用したオンライン授業のスケジュールは、しながわ・目黒こどもスクールのウェブサイトでご確認ください。










# おうちで、やろう。

Study at home. 小学校受験の家庭学習教材

処理：計数 14

上の四角の中の絵の数をかぞえて、下の四角の同じ絵の右にかぞえた数より2つ多い数の○をかきます。  
この問題はスピードを意識して取り組む練習をしてみましょう。(1分～1分30秒)



	○×10
	○×6
	○×7
	○×8
	○×8

※1. このプリントは、しながわ・目黒こどもスクールのウェブサイトからダウンロードできます。無断複写・引用はご遠慮ください。  
※2. このプリントを活用したオンライン授業のスケジュールは、しながわ・目黒こどもスクールのウェブサイトでご確認ください。



# おうちで、やろう。

Study at home. 小学校受験の家庭学習教材

処理：多少2

横に並んだ4つの四角の中の果物のうち数が2番目に多い方の四角に○、数が2番目に少ない四角に×をつけます。  
この問題はスピードを意識して取り組む練習をしてみましょう。(1分30秒～2分)


※1. このプリントは、しながわ・目黒こどもスクールのウェブサイトでダウンロードができます。無断複写・引用はご遠慮ください。

※2. このプリントを活用したオンライン授業のスケジュールは、しながわ・目黒こどもスクールのウェブサイトでご確認ください。