



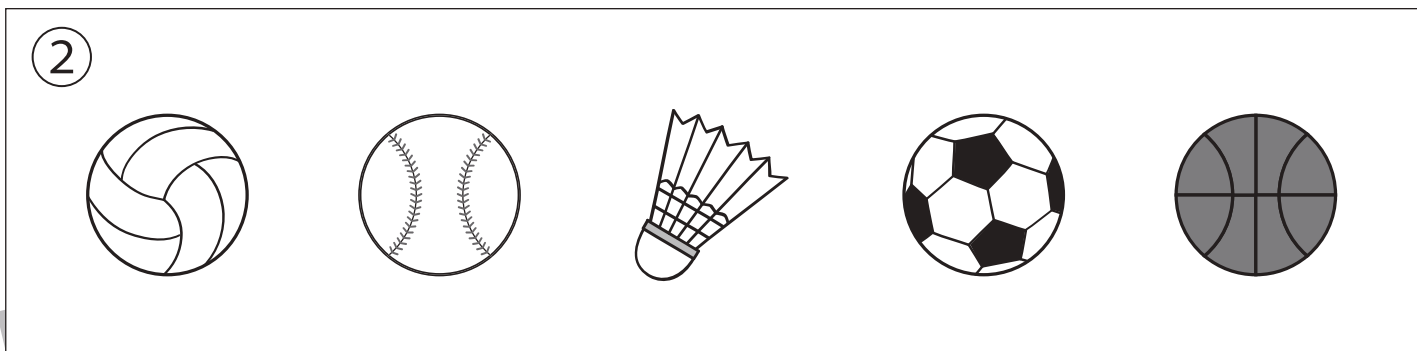



おうちで、やろう。

Study at home. 小学校受験の家庭学習教材

常識：スポーツ1

- ①卓球に○をつけます。
- ②バドミントンに使うものに○をつけます。
- ③竹刀を使うスポーツに○をつけます。
- ④1人1人で戦うのではなくチームみんなで戦うスポーツに○をつけます。



※1. このプリントは、しながわ・目黒こどもスクールのウェブサイトでダウンロードができます。無断複写・引用はご遠慮ください。
※2. このプリントを活用したオンライン授業のスケジュールは、しながわ・目黒こどもスクールのウェブサイトでご確認ください。




おうちで、やろう。

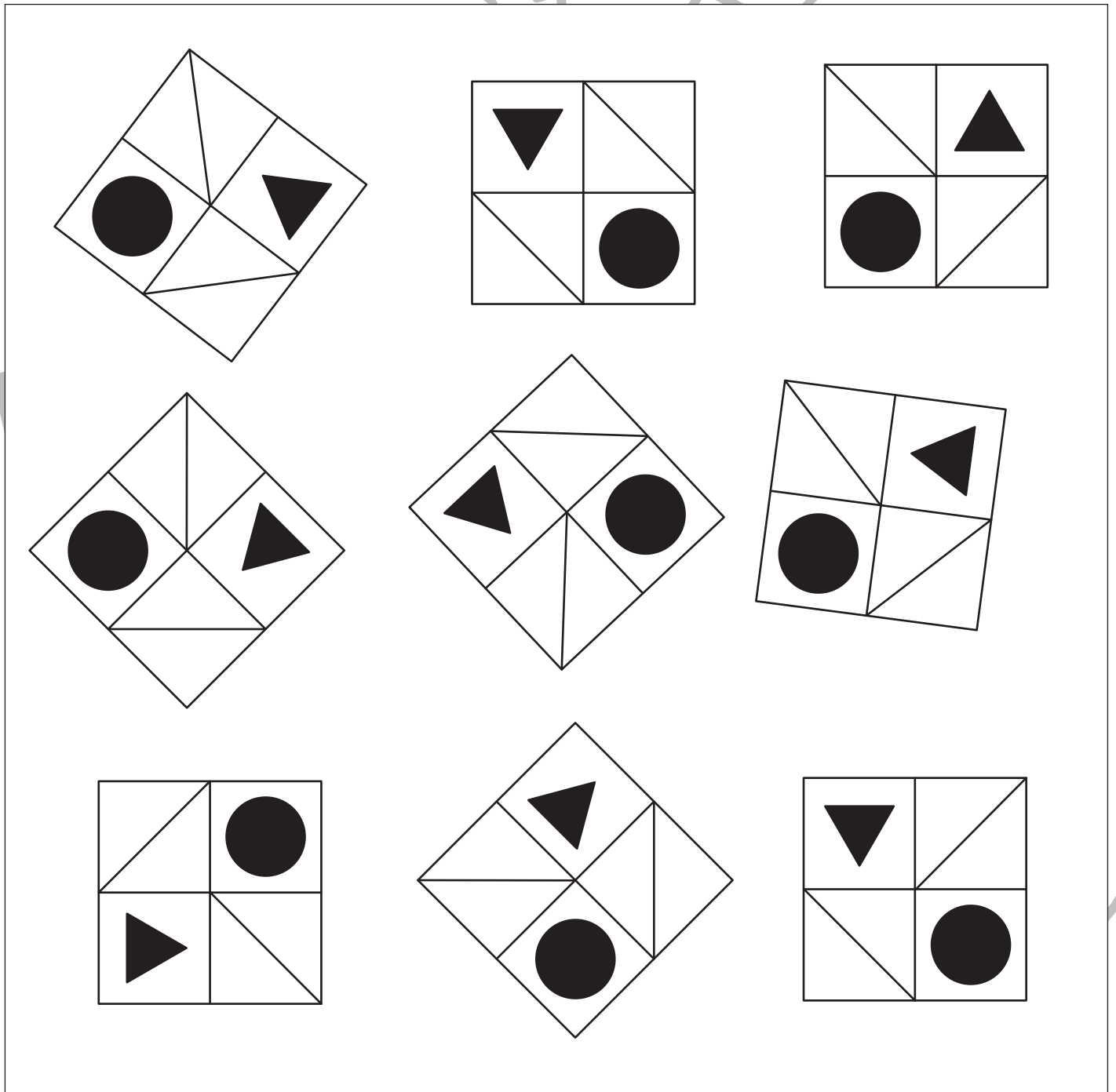
Study at home. 小学校受験の家庭学習教材

図形：回転 70

上のお手本と同じ形を下の中から全て選んで○をつけます。



しながわ・目黒
こどもスクール



※1. このプリントは、しながわ・目黒こどもスクールのウェブサイトでダウンロードができます。無断複写・引用はご遠慮ください。
※2. このプリントを活用したオンライン授業のスケジュールは、しながわ・目黒こどもスクールのウェブサイトでご確認ください。

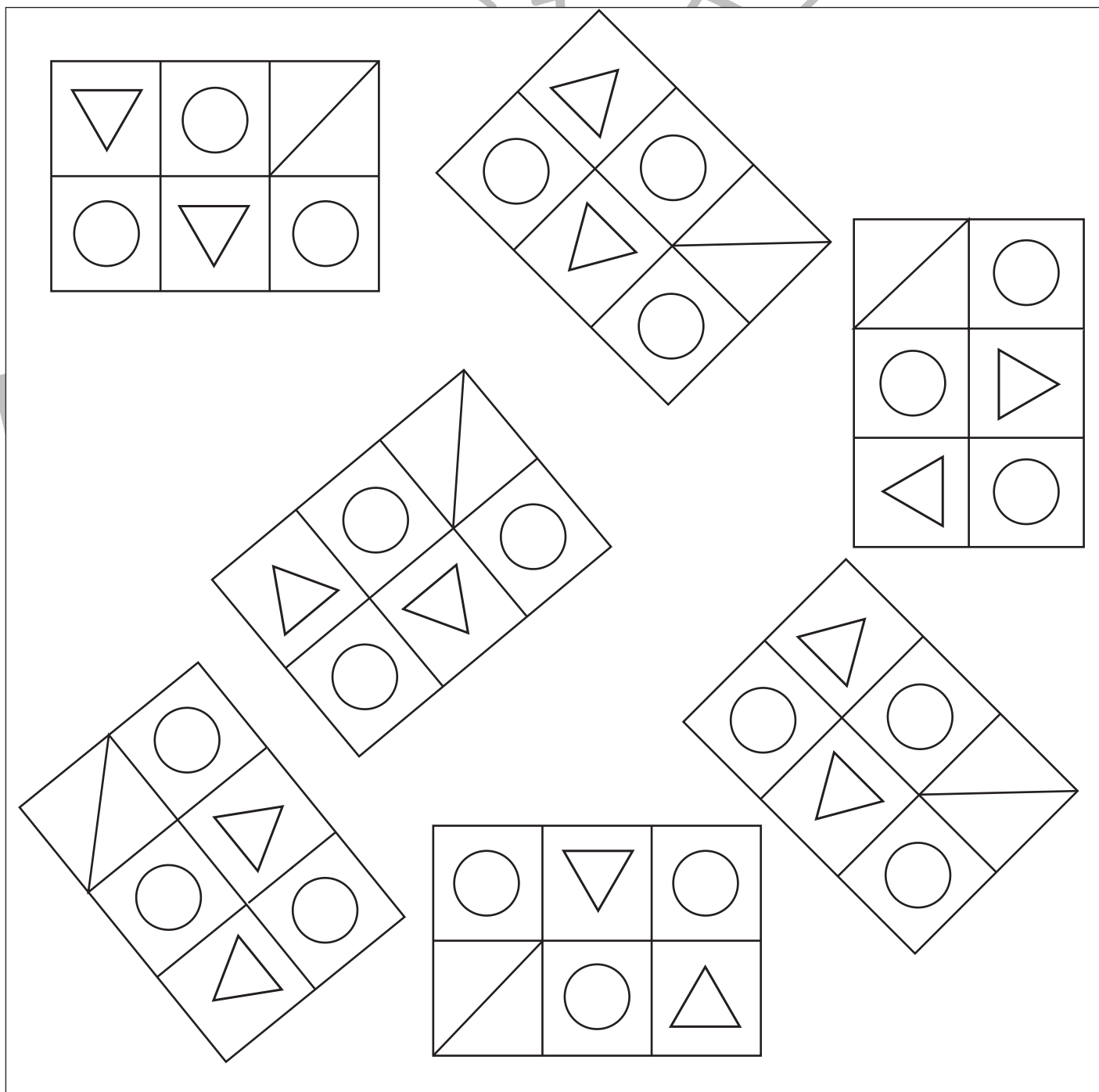



おうちで、やろう。

Study at home. 小学校受験の家庭学習教材

図形：回転 71

上のお手本と同じ形を下の中から全て選んで○をつけます。



※1. このプリントは、しながわ・目黒こどもスクールのウェブサイトでダウンロードができます。無断複写・引用はご遠慮ください。
 ※2. このプリントを活用したオンライン授業のスケジュールは、しながわ・目黒こどもスクールのウェブサイトでご確認ください。




おうちで、やろう。

Study at home. 小学校受験の家庭学習教材

図形：回転72

上のお手本と同じ形を下の中から全て選んで○をつけます。



※1. このプリントは、しながわ・目黒こどもスクールのウェブサイトでダウンロードができます。無断複写・引用はご遠慮ください。
 ※2. このプリントを活用したオンライン授業のスケジュールは、しながわ・目黒こどもスクールのウェブサイトでご確認ください。













おうちで、やろう。

Study at home. 小学校受験の家庭学習教材

数量：加減 41

左の2つの四角の中に灰色のマスはいくつありますか。
2つの四角の灰色のマス数を合わせた数だけ右の四角に○をかきます。



※1. このプリントは、しながわ・目黒こどもスクールのウェブサイトでダウンロードができます。無断複写・引用はご遠慮ください。
※2. このプリントを活用したオンライン授業のスケジュールは、しながわ・目黒こどもスクールのウェブサイトでご確認ください。



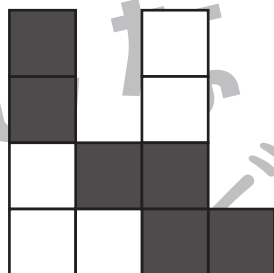



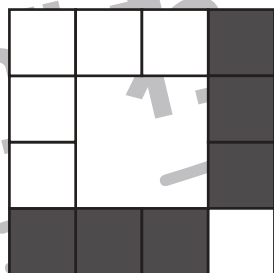
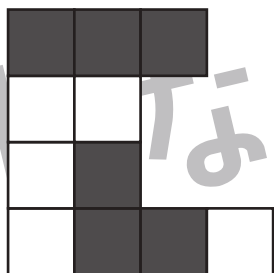
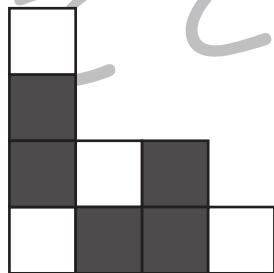





おうちで、やろう。

Study at home. 小学校受験の家庭学習教材

数量：加減 42

左の2つの四角の中に白いマスはいくつありますか。
2つの四角の白いマスの数を合わせた数だけ右の四角に○をかきます。



※1. このプリントは、しながわ・目黒こどもスクールのウェブサイトでダウンロードができます。無断複写・引用はご遠慮ください。
※2. このプリントを活用したオンライン授業のスケジュールは、しながわ・目黒こどもスクールのウェブサイトでご確認ください。





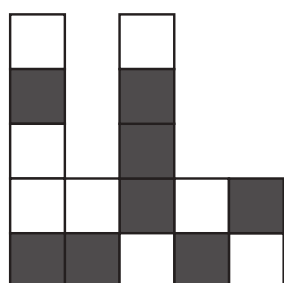
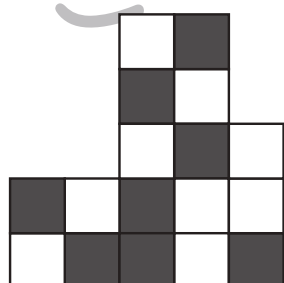

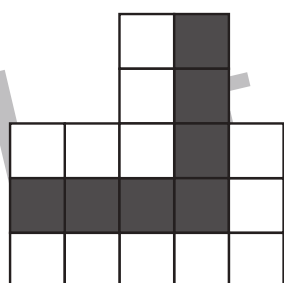

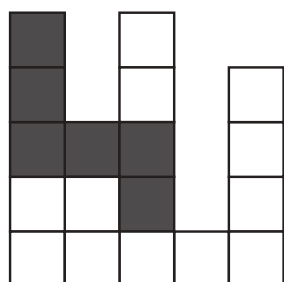
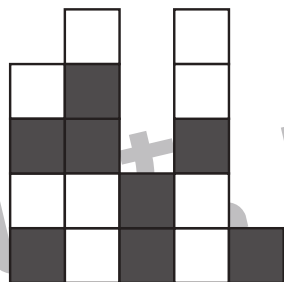



おうちで、やろう。

Study at home. 小学校受験の家庭学習教材

数量：加減 43

左の2つの四角の中に灰色のマスはいくつありますか。
2つの四角の灰色のマス数を合わせた数だけ右の四角に○をかきます。



※1. このプリントは、しながわ・目黒こどもスクールのウェブサイトでダウンロードができます。無断複写・引用はご遠慮ください。
※2. このプリントを活用したオンライン授業のスケジュールは、しながわ・目黒こどもスクールのウェブサイトでご確認ください。



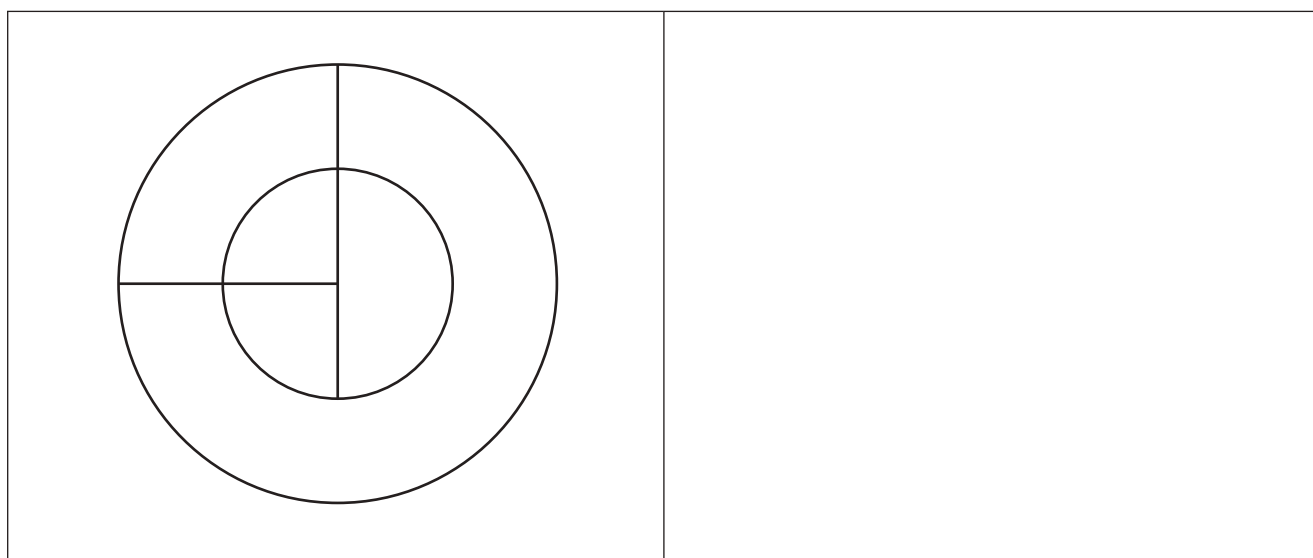
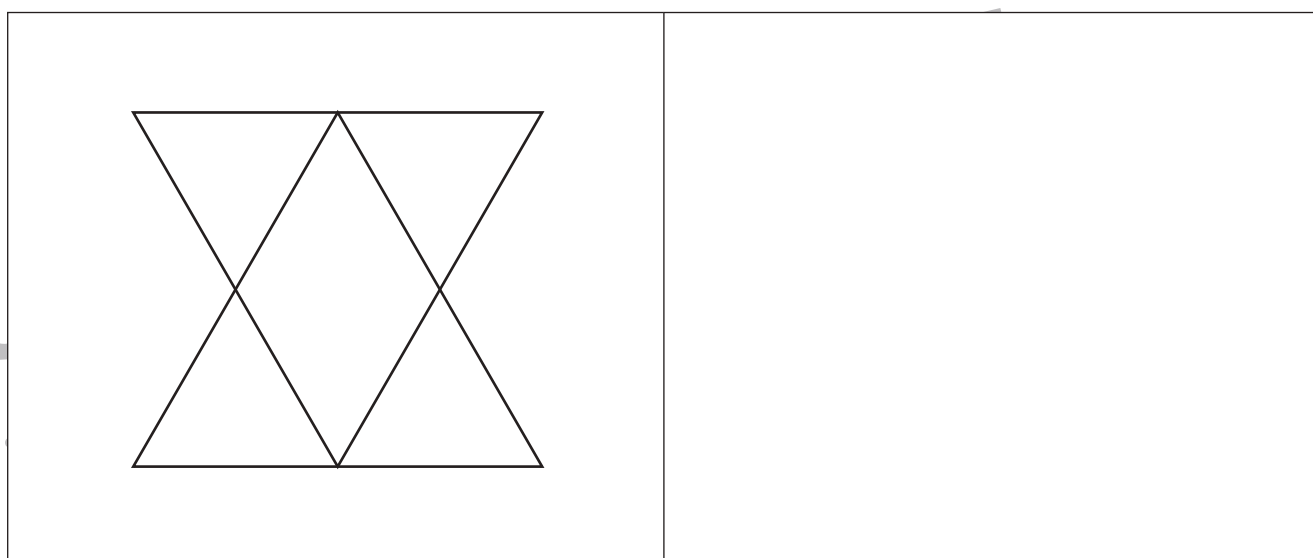
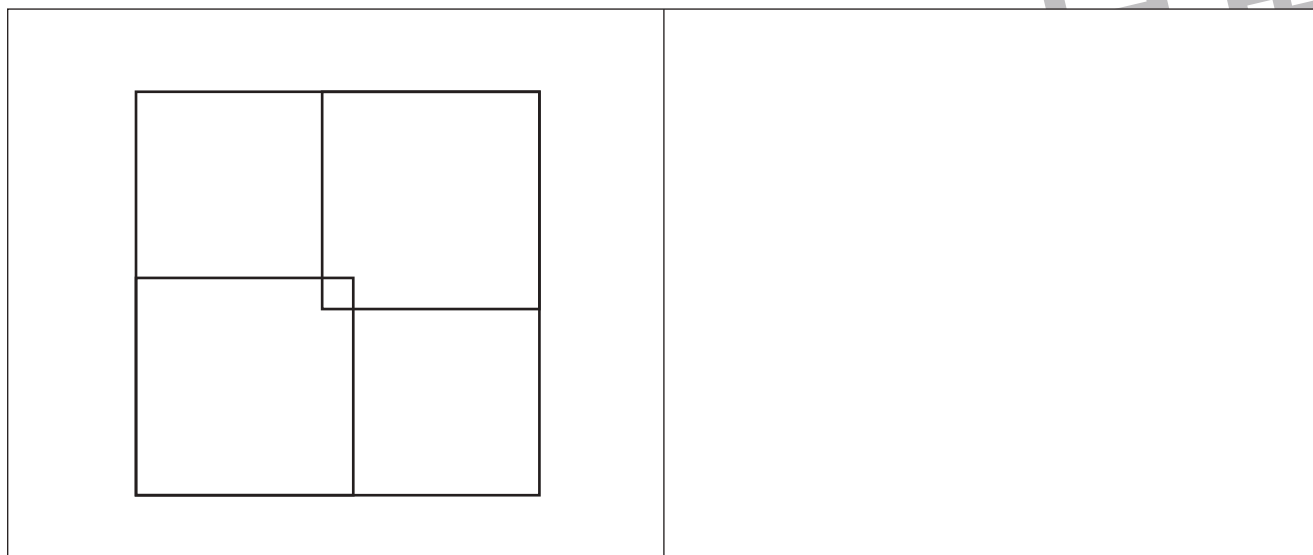


おうちで、やろう。

Study at home. 小学校受験の家庭学習教材

運筆：模写9

左のお手本と同じ形を四角に描きます。大きさや形に気を付けて描きましょう
※コピー、鉛筆、ラッシュンペンなどいろいろな筆記具で描いてみましょう。
※この問題に解答はありません。



※1. このプリントは、しながわ・目黒こどもスクールのウェブサイトでダウンロードができます。無断複写・引用はご遠慮ください。
※2. このプリントを活用したオンライン授業のスケジュールは、しながわ・目黒こどもスクールのウェブサイトでご確認ください。





おうちで、やろう。

Study at home. 小学校受験の家庭学習教材

巧緻性：ちぎり 16

①点線をはさみで切ります。

②それぞれの動物の太い線をちぎります。



※1. このプリントは、しながわ・目黒こどもスクールのウェブサイトでダウンロードができます。無断複写・引用はご遠慮ください。

※2. このプリントを活用したオンライン授業のスケジュールは、しながわ・目黒こどもスクールのウェブサイトでご確認ください。







おうちで、よろう。

Study at home. 小学校受験の家庭学習教材

巧緻性：ちぎり 17

①点線をはさみで切ります。

②それぞれの動物の太い線をちぎります。



※1. このプリントは、しながわ・目黒こどもスクールのウェブサイトでダウンロードができます。無断複写・引用はご遠慮ください。

※2. このプリントを活用したオンライン授業のスケジュールは、しながわ・目黒こどもスクールのウェブサイトでご確認ください。

