



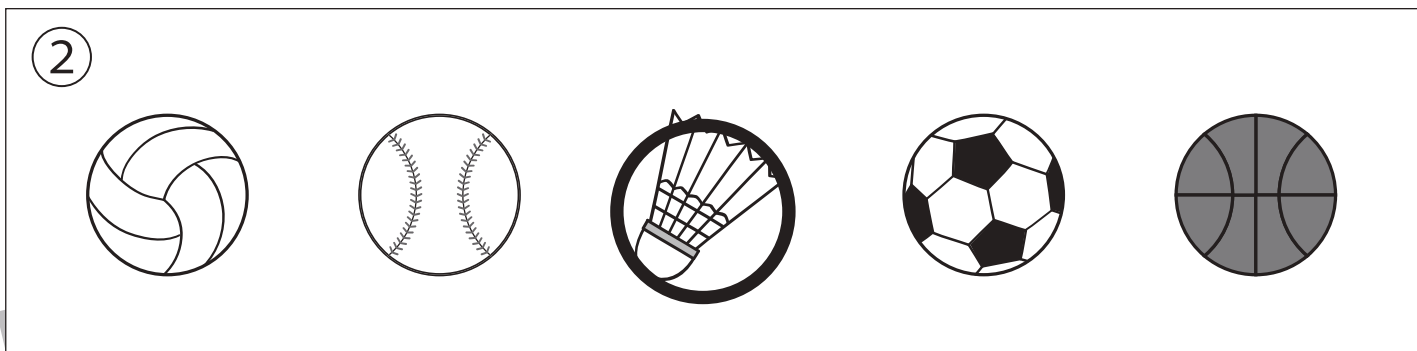



おうちで、やろう。

Study at home. 小学校受験の家庭学習教材

常識：スポーツ1

- ①卓球に○をつけます。
- ②バドミントンに使うものに○をつけます。
- ③竹刀を使うスポーツに○をつけます。
- ④1人1人で戦うのではなくチームみんなで戦うスポーツに○をつけます。



※1. このプリントは、しながわ・目黒こどもスクールのウェブサイトでダウンロードができます。無断複写・引用はご遠慮ください。
 ※2. このプリントを活用したオンライン授業のスケジュールは、しながわ・目黒こどもスクールのウェブサイトでご確認ください。




おうちで、やろう。

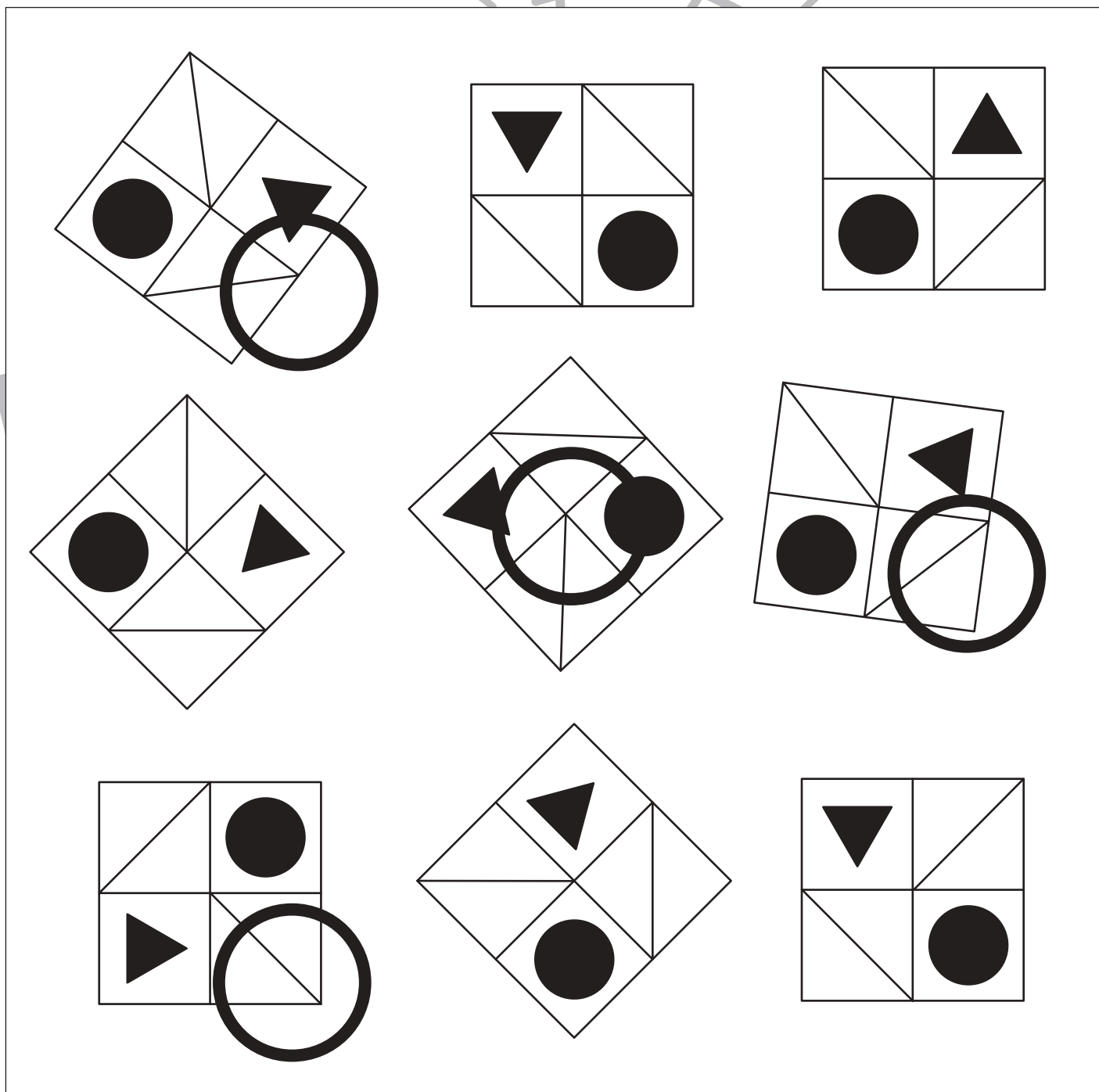
Study at home. 小学校受験の家庭学習教材

図形：回転 70

上のお手本と同じ形を下の中から全て選んで○をつけます。



しながわ・目黒
こどもスクール



※1. このプリントは、しながわ・目黒こどもスクールのウェブサイトでダウンロードができます。無断複写・引用はご遠慮ください。

※2. このプリントを活用したオンライン授業のスケジュールは、しながわ・目黒こどもスクールのウェブサイトでご確認ください。

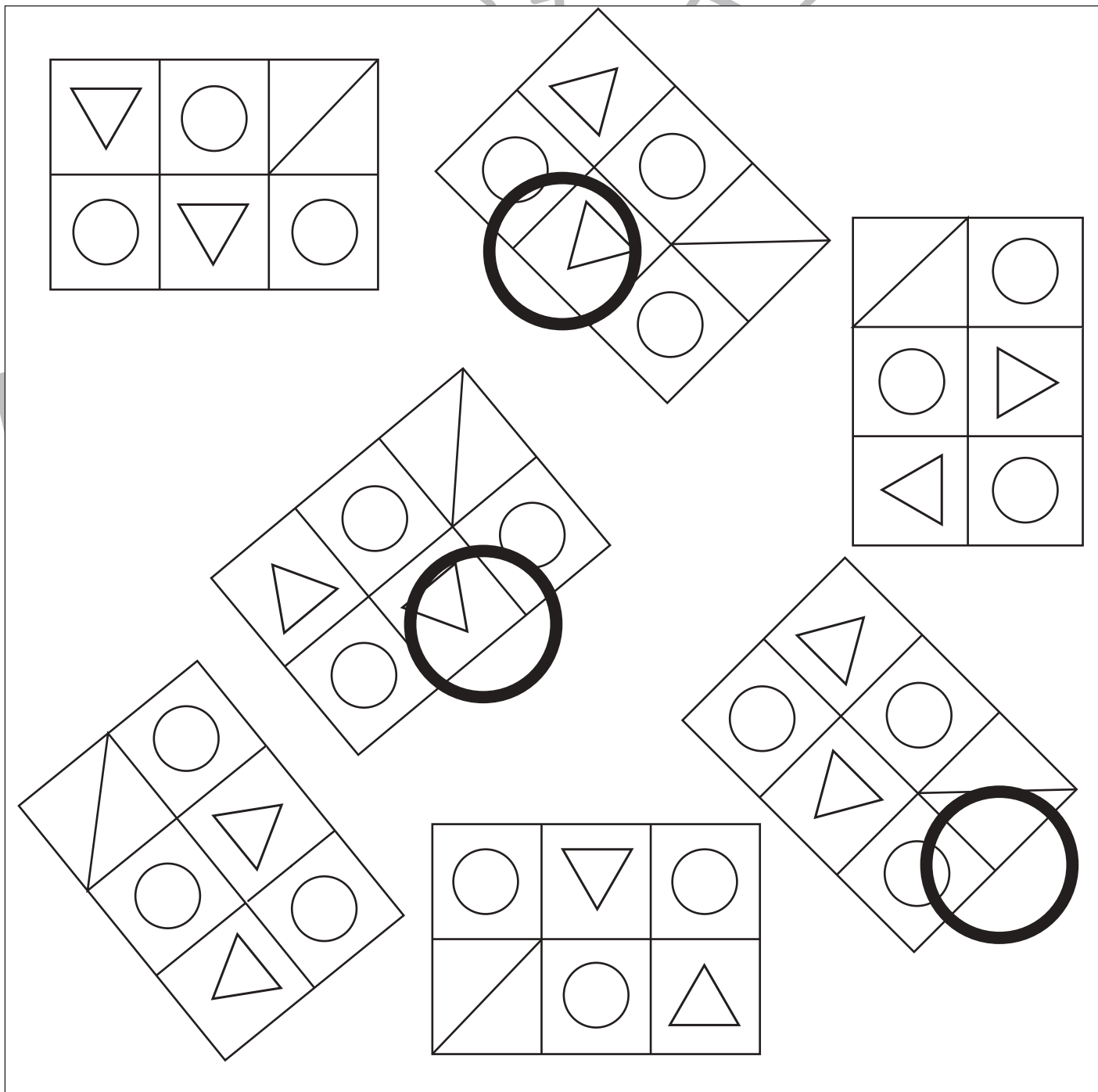



おうちで、やろう。

Study at home. 小学校受験の家庭学習教材

図形：回転 71

上のお手本と同じ形を下の中から全て選んで○をつけます。



※1. このプリントは、しながわ・目黒こどもスクールのウェブサイトでダウンロードができます。無断複写・引用はご遠慮ください。
 ※2. このプリントを活用したオンライン授業のスケジュールは、しながわ・目黒こどもスクールのウェブサイトでご確認ください。

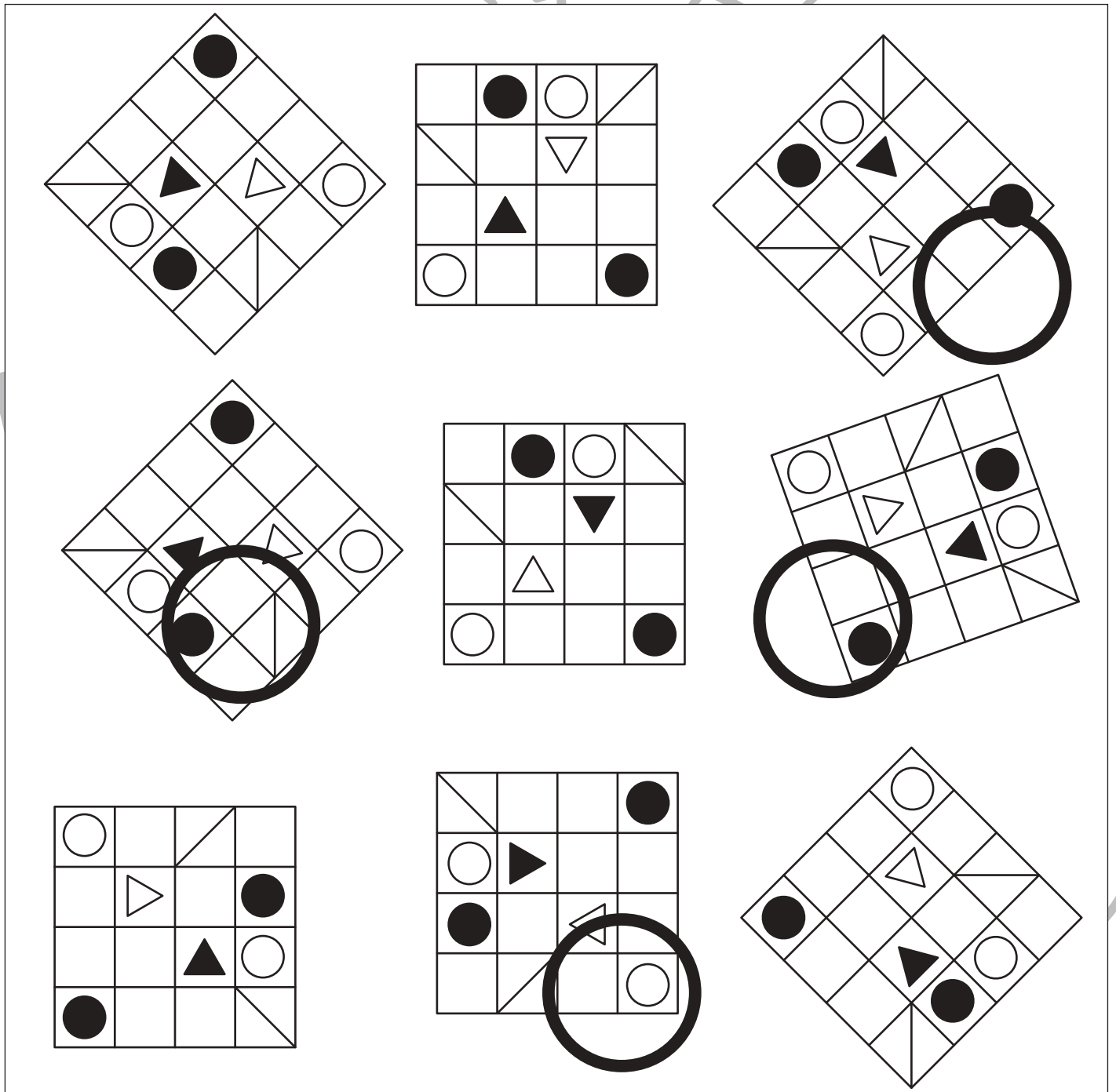
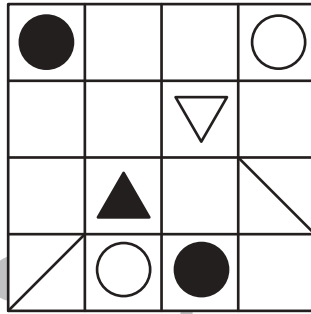


おうちで、やろう。

Study at home. 小学校受験の家庭学習教材

図形：回転72

上のお手本と同じ形を下の中から全て選んで○をつけます。



※1. このプリントは、しながわ・目黒こどもスクールのウェブサイトでダウンロードができます。無断複写・引用はご遠慮ください。
 ※2. このプリントを活用したオンライン授業のスケジュールは、しながわ・目黒こどもスクールのウェブサイトでご確認ください。





おうちで、やろう。



Study at home. 小学校受験の家庭学習教材

数量：加減 41



左の2つの四角の中に灰色のマスはいくつありますか。
2つの四角の灰色のマス数を合わせた数だけ右の四角に○をかきます。





○ × 9





○ × 10



○ × 11



○ × 12



○ × 13

※1. このプリントは、しながわ・目黒こどもスクールのウェブサイトでダウンロードができます。無断複写・引用はご遠慮ください。
※2. このプリントを活用したオンライン授業のスケジュールは、しながわ・目黒こどもスクールのウェブサイトでご確認ください。



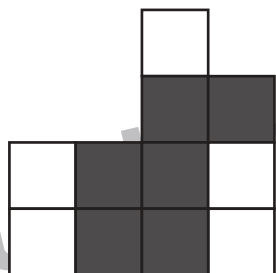
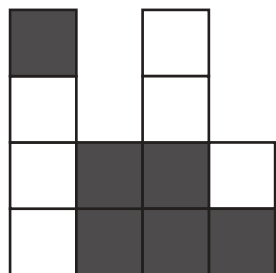


おうちで、やろう。

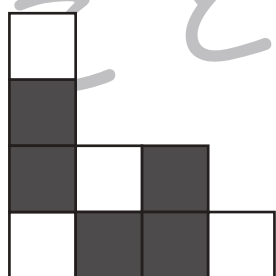
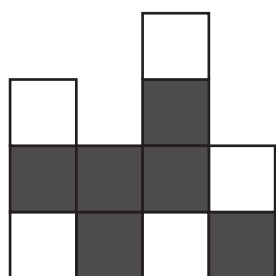
Study at home. 小学校受験の家庭学習教材

数量：加減 42

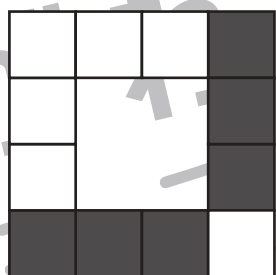
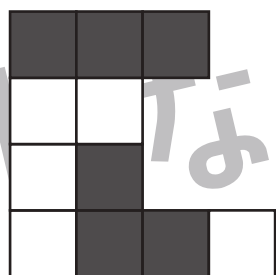
左の2つの四角の中に白いマスはいくつありますか。
2つの四角の白いマスの数を合わせた数だけ右の四角に○をかきます。





○ × 11



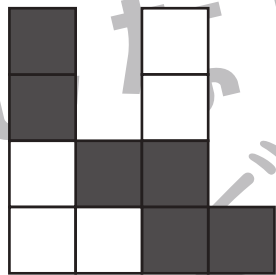

○ × 9



○ × 11



○ × 14



○ × 9

※1. このプリントは、しながわ・目黒こどもスクールのウェブサイトでダウンロードができます。無断複写・引用はご遠慮ください。

※2. このプリントを活用したオンライン授業のスケジュールは、しながわ・目黒こどもスクールのウェブサイトでご確認ください。



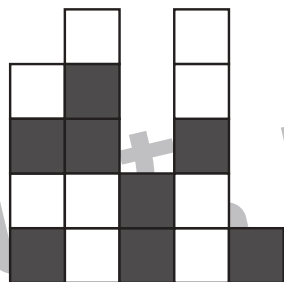



おうちで、やろう。


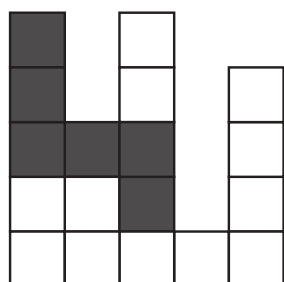
Study at home. 小学校受験の家庭学習教材

数量：加減 43


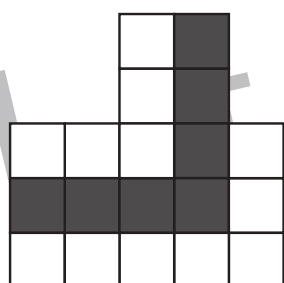
左の2つの四角の中に灰色のマスはいくつありますか。
2つの四角の灰色のマス数を合わせた数だけ右の四角に○をかきます。



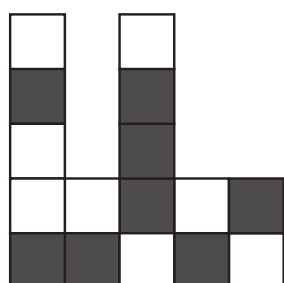
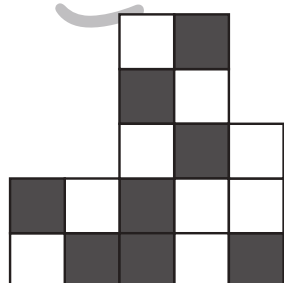
○ × 15





○ × 14



○ × 15



○ × 16



○ × 16

※1. このプリントは、しながわ・目黒こどもスクールのウェブサイトでダウンロードができます。無断複写・引用はご遠慮ください。

※2. このプリントを活用したオンライン授業のスケジュールは、しながわ・目黒こどもスクールのウェブサイトでご確認ください。

