



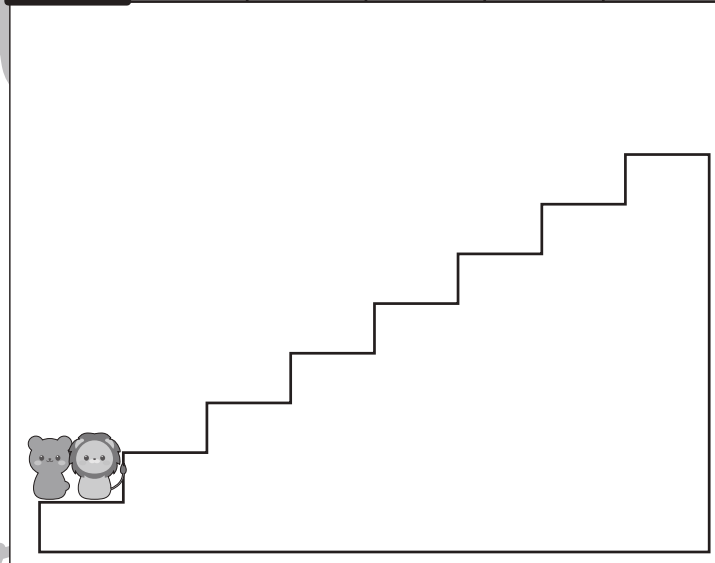
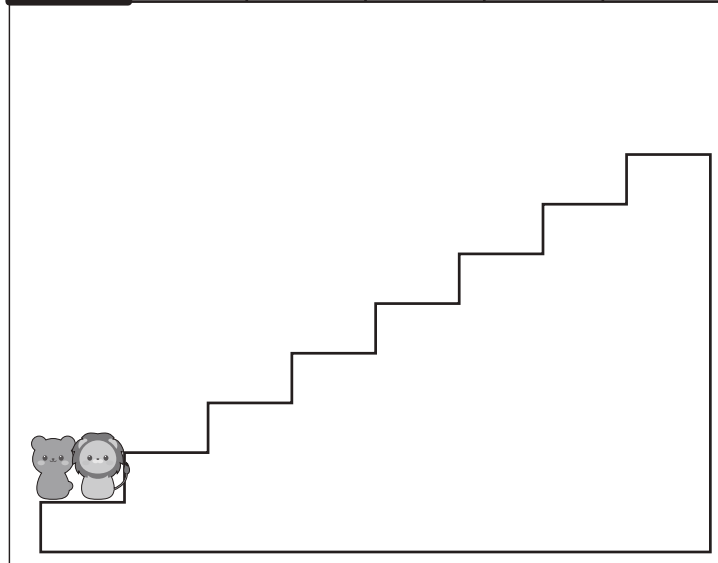
おうちで、やろう。

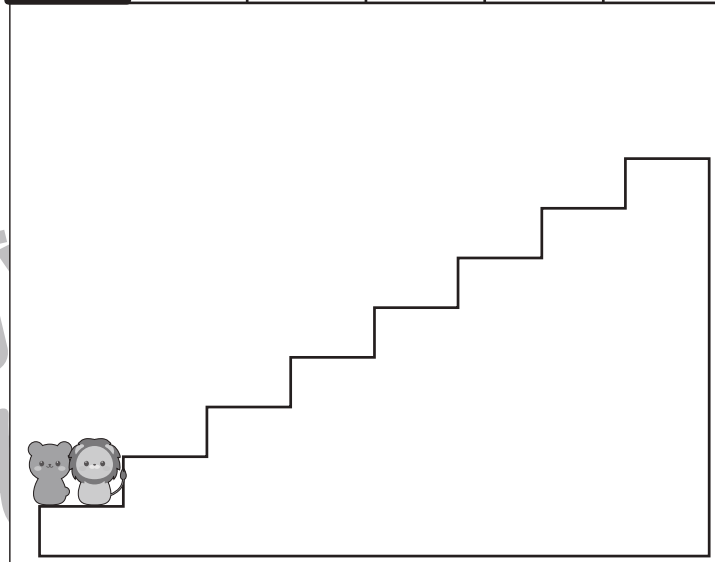
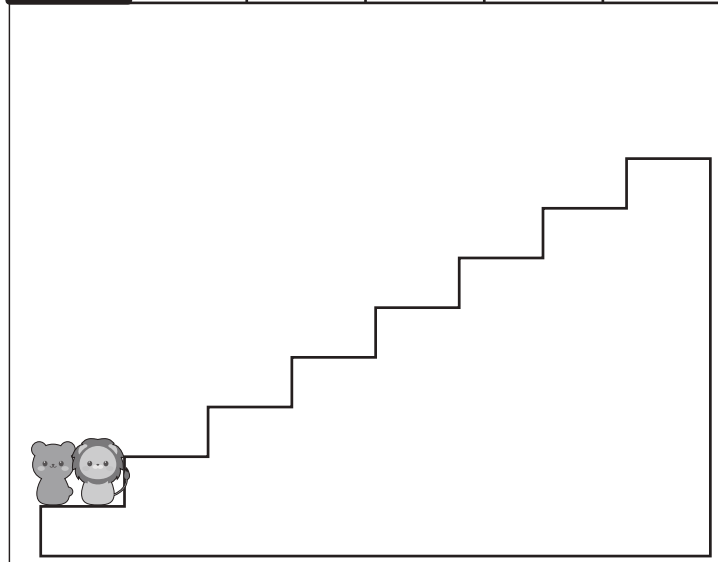
Study at home. 小学校受験の家庭学習教材

推理：条件推理 15

クマとライオンがじゃんけんをして勝った方が上の太い四角の中の約束通りに階段を上ることができます。じゃんけんが勝ったときは、上の約束の手の右にある○の数だけ階段を上ります。2匹がじゃんけんをした様子は階段の上の四角の中にあります。左から順番に見ていったとき、高くあがった動物に○をつけます。印はじゃんけんの手の場所の太い四角の中の動物につけます。

○ ○ ○	○	○ ○
-------	---	-----





※1. このプリントは、しながわ・目黒こどもスクールのウェブサイトでダウンロードができます。無断複写・引用はご遠慮ください。
 ※2. このプリントを活用したオンライン授業のスケジュールは、しながわ・目黒こどもスクールのウェブサイトでご確認ください。



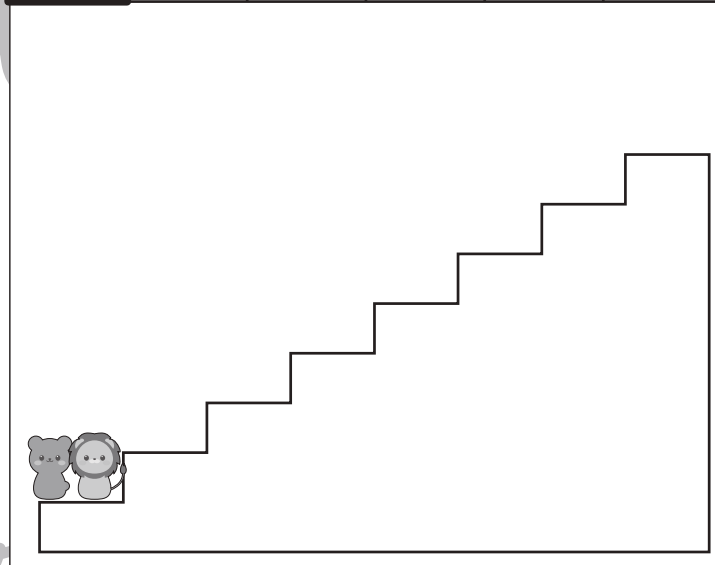
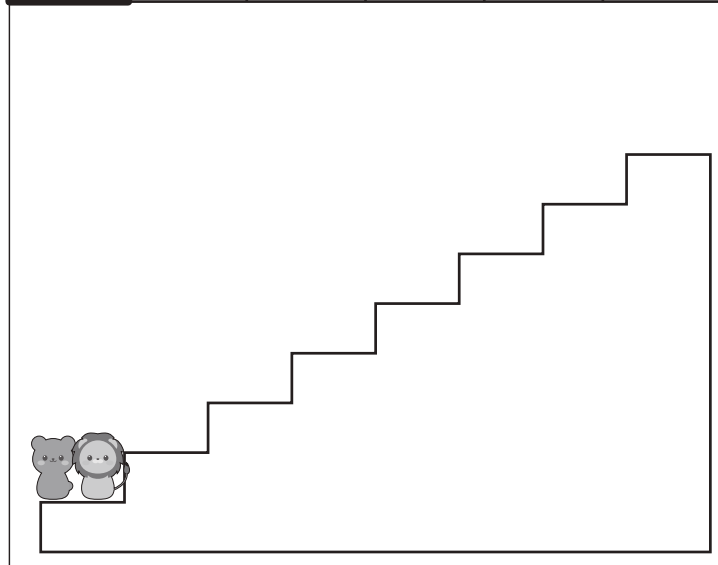
おうちで、やろう。

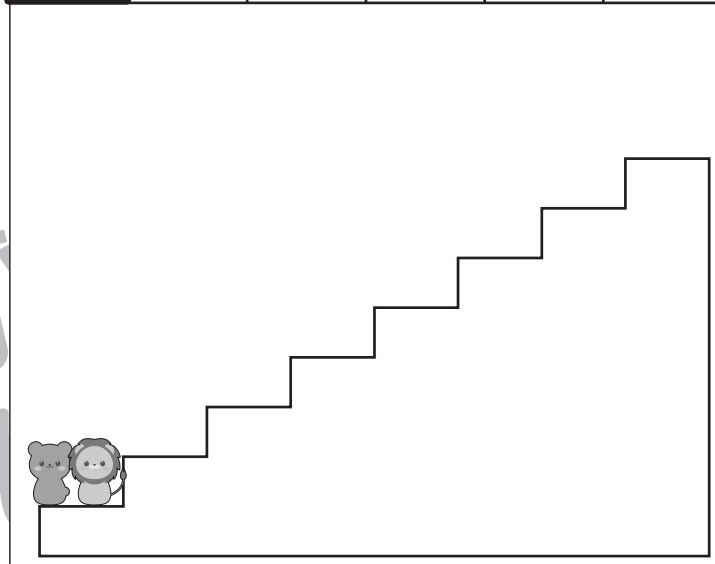
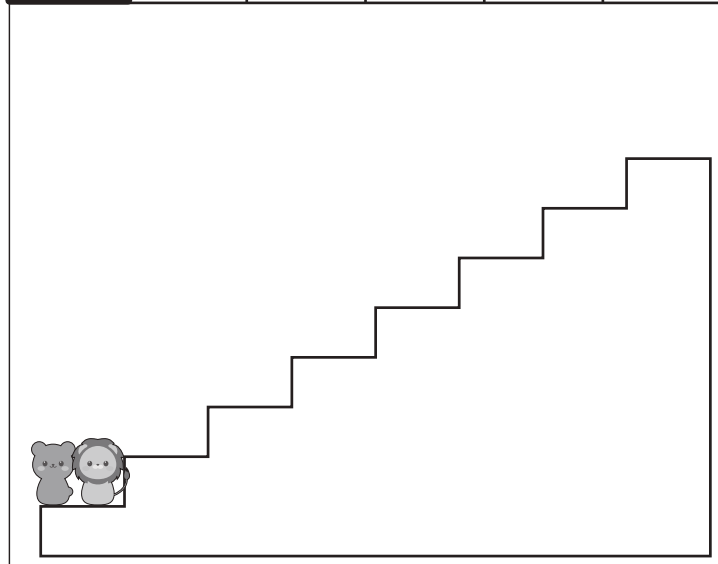
Study at home. 小学校受験の家庭学習教材

推理：条件推理 16

クマとライオンがじゃんけんをして勝った方が上の太い四角の中の約束通りに階段を上ることができます。じゃんけんが勝ったときは、上の約束の手の右にある○の数だけ階段を上ります。2匹がじゃんけんをした様子は階段の上の四角の中にあります。左から順番に見ていったとき、高くあがった動物に○をつけます。印はじゃんけんの手の場所の太い四角の中の動物につけます。

	○	○		○	○	○		○
--	---	---	--	---	---	---	--	---





※1. このプリントは、しながわ・目黒こどもスクールのウェブサイトでダウンロードができます。無断複写・引用はご遠慮ください。
 ※2. このプリントを活用したオンライン授業のスケジュールは、しながわ・目黒こどもスクールのウェブサイトでご確認ください。



おうちで、やろう。

Study at home. 小学校受験の家庭学習教材

推理：条件推理 17

それぞれの四角は表が白、裏が灰色のタイルを9つ集めて並べたものです。左のお手本を矢印の先の右のようにしたとき、お手本から裏返しにしたタイルに○をつけます。

The puzzles are arranged in 5 rows and 4 columns. Each row contains an example 3x3 grid, an arrow, and a target 3x3 grid. The tiles are either white (top) or grey (bottom).

White	White	Grey	→	Grey	White	Grey	White	Grey	White	→	White	White	White
White	Grey	White		White	Grey	White	Grey	Grey	Grey		Grey	White	Grey
Grey	White	Grey		Grey	Grey	Grey	White	Grey	White		Grey	Grey	Grey
Grey	Grey	White	→	White	White	Grey	White	Grey	Grey	→	White	Grey	White
White	Grey	Grey		White	Grey	Grey	Grey	Grey	White		White	Grey	White
White	White	White		Grey	White	White	White	Grey	White		White	Grey	White
Grey	White	Grey	→	Grey	Grey	Grey	White	Grey	White	→	White	Grey	White
White	Grey	White		White	Grey	White	Grey	Grey	Grey		White	Grey	White
Grey	White	White		Grey	White	White	White	Grey	White		White	Grey	White
White	Grey	Grey	→	White	Grey	Grey	Grey	White	Grey	→	White	Grey	White
White	White	White		Grey	Grey	Grey	White	Grey	White		White	Grey	White
Grey	White	Grey	→	White	White	White	Grey	Grey	Grey	→	White	Grey	White
White	Grey	White		White	White	White	White	Grey	White		White	Grey	White
Grey	Grey	Grey		White	White	White	White	Grey	White		White	Grey	White

※1. このプリントは、しながわ・目黒こどもスクールのウェブサイトでダウンロードができます。無断複写・引用はご遠慮ください。
 ※2. このプリントを活用したオンライン授業のスケジュールは、しながわ・目黒こどもスクールのウェブサイトでご確認ください。



おうちで、やろう。

Study at home. 小学校受験の家庭学習教材

推理：条件推理 18

それぞれの四角は表が白、裏が灰色のタイルを9つ集めて並べたものです。左のお手本を矢印の先の右のようにしたとき、お手本から裏返しにしたタイルに○をつけます。

The puzzles are arranged in a 5x4 grid. Each puzzle is a 3x3 grid of tiles. The tiles are either white (top) or grey (bottom). Arrows point from the original grid to a modified grid where some tiles are flipped. The goal is to identify which tiles were flipped.

	→			→	
	→			→	
	→			→	
	→			→	
	→			→	

※1. このプリントは、しながわ・目黒こどもスクールのウェブサイトでダウンロードができます。無断複写・引用はご遠慮ください。
 ※2. このプリントを活用したオンライン授業のスケジュールは、しながわ・目黒こどもスクールのウェブサイトでご確認ください。



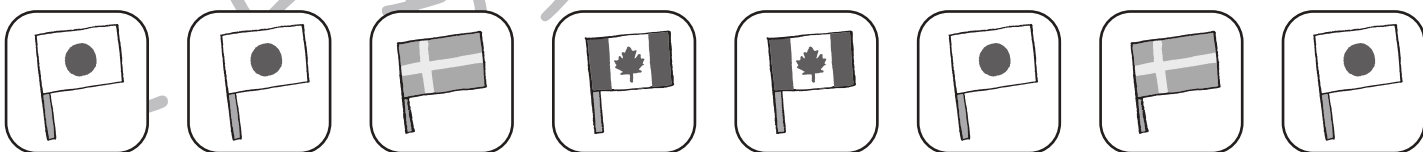



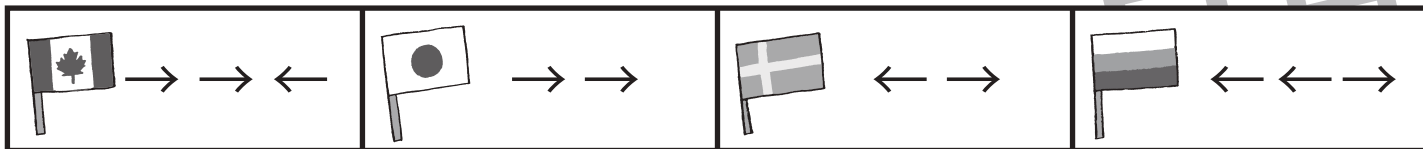


おうちで、やろう。

Study at home. 小学校受験の家庭学習教材

数量：すごろく6

これはすごろくゲームで、上の太い四角の中が約束です。サイコロで出た目で進むマスが違い、それぞれの絵の隣の矢印の数だけマスを進んだり、戻ったりすることができます。右向きの矢印は進み、左向きの矢印は戻ります。また、ウサギがいるマスは止まれませんので、とばして進みます。この約束で、上に並んだ目が出た時、★からスタートして最後についたマスに○をかきます。



※1. このプリントは、しながわ・目黒こどもスクールのウェブサイトでダウンロードができます。無断複写・引用はご遠慮ください。
 ※2. このプリントを活用したオンライン授業のスケジュールは、しながわ・目黒こどもスクールのウェブサイトでご確認ください。




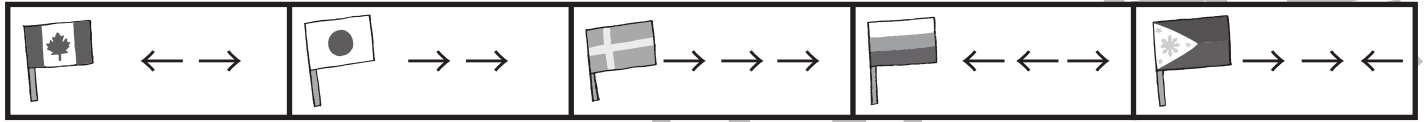


おうちで、やろう。

Study at home. 小学校受験の家庭学習教材

数量：すごろく7

これはすごろくゲームで、上の太い四角の中が約束です。サイコロで出た目で進むマスが違い、それぞれの絵の隣の矢印の数だけマスを進んだり、戻ったりすることができます。右向きの矢印は進み、左向きの矢印は戻ります。また、ウサギがいるマスは止まれませんので、とばして進みます。この約束で、上に並んだ目が出た時、★からスタートして最後についたマスに○をかきます。



※1. このプリントは、しながわ・目黒こどもスクールのウェブサイトでダウンロードができます。無断複写・引用はご遠慮ください。
※2. このプリントを活用したオンライン授業のスケジュールは、しながわ・目黒こどもスクールのウェブサイトでご確認ください。



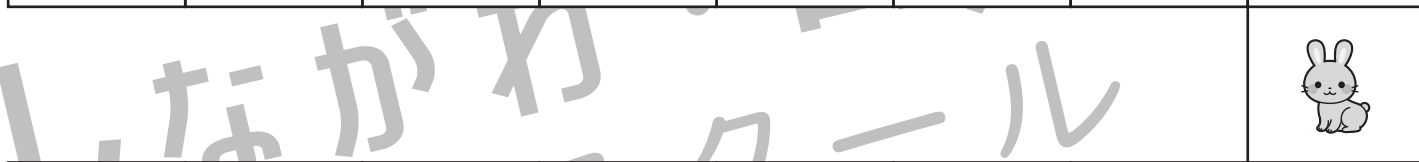


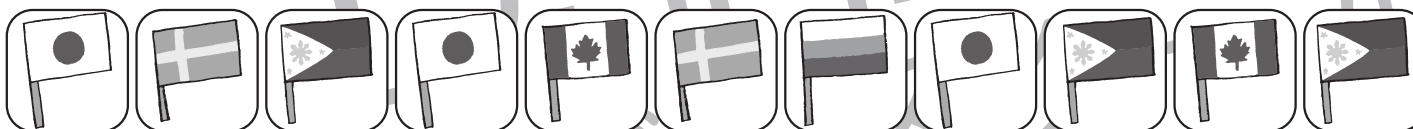
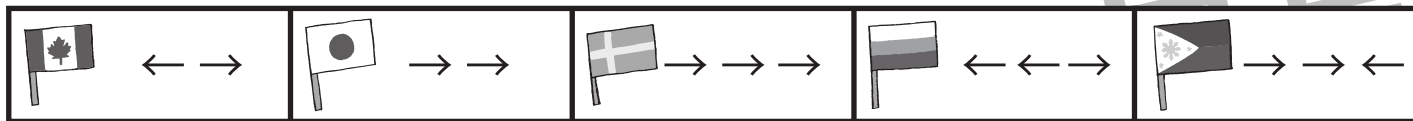


おうちで、やろう。

Study at home. 小学校受験の家庭学習教材

数量：すごろく 8

これはすごろくゲームで、上の太い四角の中が約束です。サイコロで出た目で進むマスが違い、それぞれの絵の隣の矢印の数だけマスを進んだり、戻ったりすることができます。右向きの矢印は進み、左向きの矢印は戻ります。また、ウサギがいるマスは止まれませんので、とばして進みます。この約束で、上に並んだ目が出た時、★からスタートして最後についたマスに○をかきます。



※1. このプリントは、しながわ・目黒こどもスクールのウェブサイトでダウンロードができます。無断複写・引用はご遠慮ください。
※2. このプリントを活用したオンライン授業のスケジュールは、しながわ・目黒こどもスクールのウェブサイトでご確認ください。


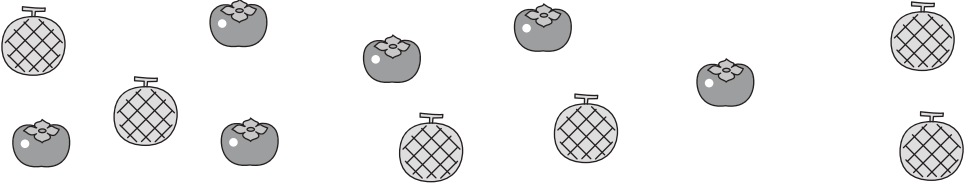



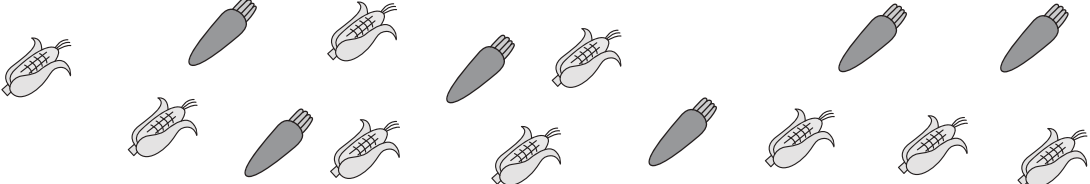






おうちで、やろう。

Study at home. 小学校受験の家庭学習教材

数量：分割 16

それぞれの果物や野菜を左の四角の中にお友だちで仲良く同じ数になるように分けたとき、1人分の果物や野菜の数だけ下の四角に○をかきます。

※1. このプリントは、しながわ・目黒こどもスクールのウェブサイトでダウンロードができます。無断複写・引用はご遠慮ください。

※2. このプリントを活用したオンライン授業のスケジュールは、しながわ・目黒こどもスクールのウェブサイトでご確認ください。



おうちで、やろう。

Study at home. 小学校受験の家庭学習教材

数量：分割 17

それぞれの食べ物を左の四角の中にお友だちで仲良く同じ数になるように分けるとき、1人分の食べ物の数だけ下の四角に○をかきます。

※1. このプリントは、しながわ・目黒こどもスクールのウェブサイトからダウンロードできます。無断複写・引用はご遠慮ください。

※2. このプリントを活用したオンライン授業のスケジュールは、しながわ・目黒こどもスクールのウェブサイトでご確認ください。

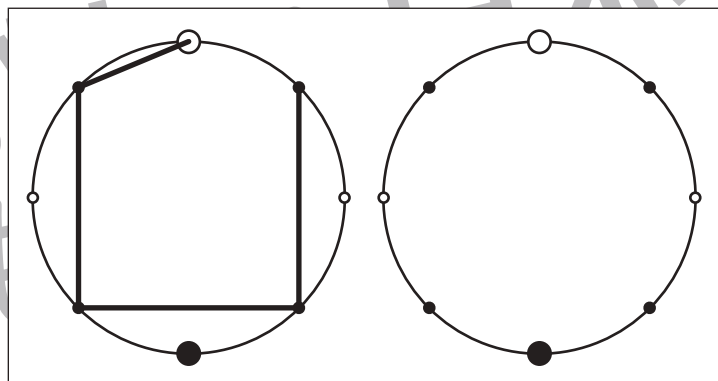
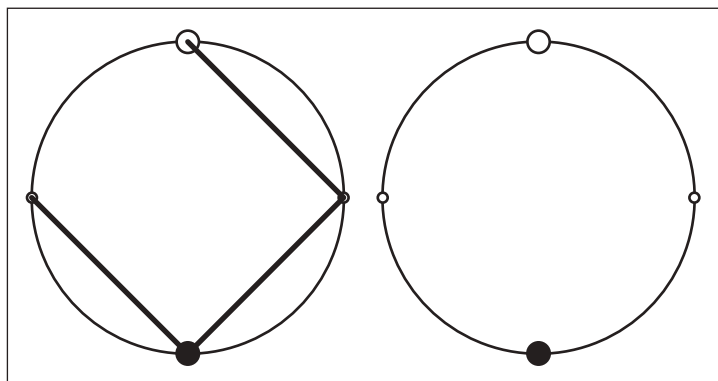
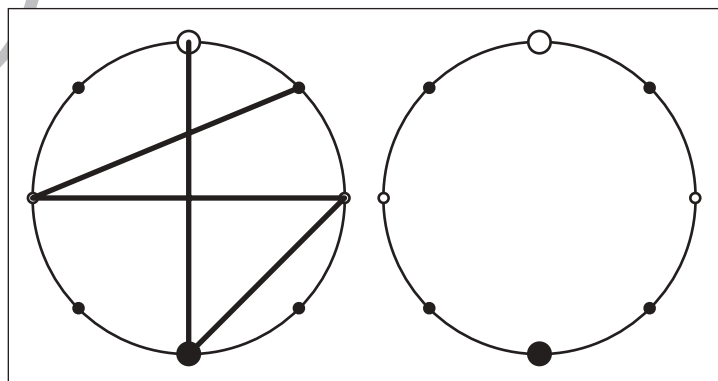
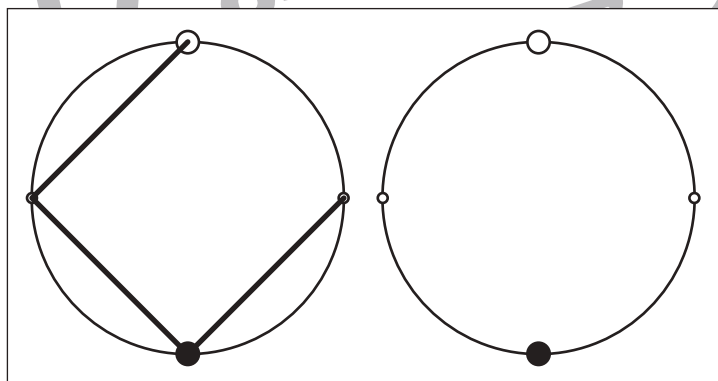
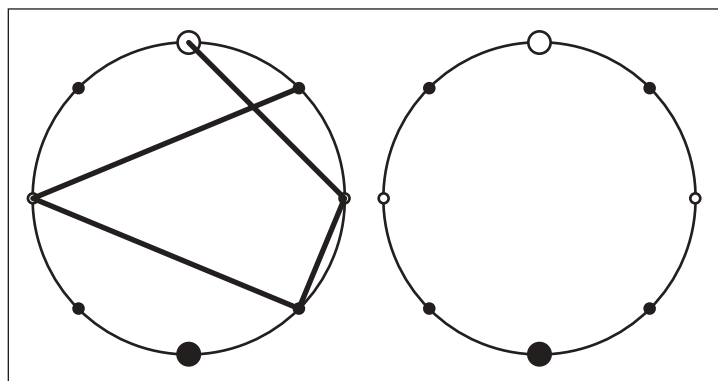
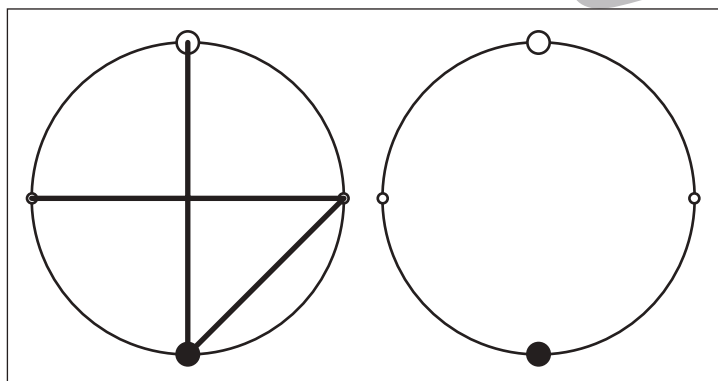
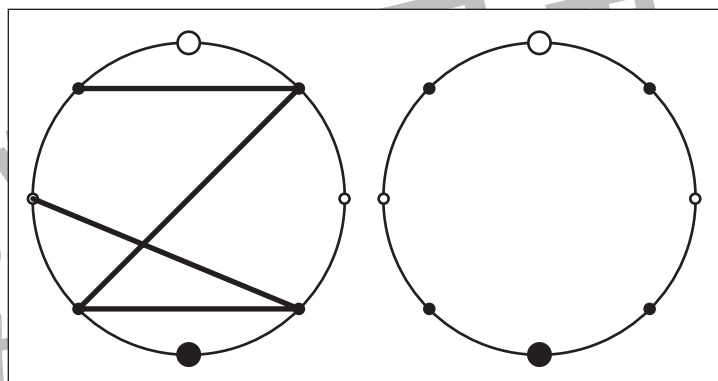
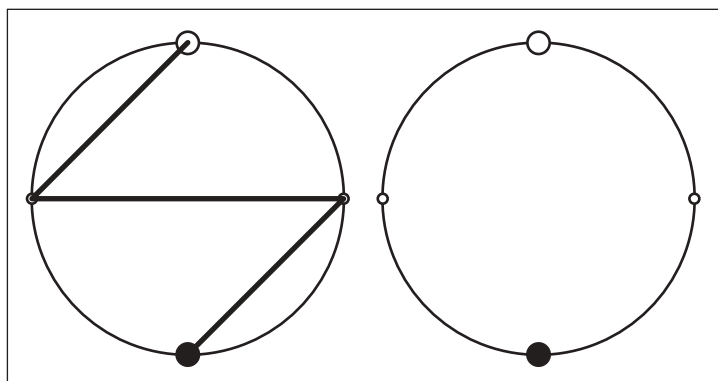


おうちで、やろう。

Study at home. 小学校受験の家庭学習教材

図形：点図形 53

左のお手本を見て、右にそっくり描き写しましょう。※このプリントに解答はありません。



※1. このプリントは、しながわ・目黒こどもスクールのウェブサイトからダウンロードできます。無断複写・引用はご遠慮ください。
※2. このプリントを活用したオンライン授業のスケジュールは、しながわ・目黒こどもスクールのウェブサイトでご確認ください。