



おうちで、やろう。

Study at home. 小学校受験の家庭学習教材

指示の聞き取り 18

それぞれお話をよく聞いて問題に取り組みます。お話は一度しか読みませんのでしっかり聞きましょう。

- ①一番上の段の左から3番目のマスに青のクーピーで○をかきます。
- ②一番下の段の左端のマスに黒のクーピーで△をかきます。
- ③上から2段目の右から3番目のマスに茶色のクーピーで□をかきます。
- ④上から5段目の左から4番目のマスに緑のクーピーで×をかきます。
- ⑤下から4段目の右から5番目のマスに青のクーピーで◎をかきます。
- ⑥下から3段目の左から4番目のマスを黄色のクーピーで塗ります。

		青 ○		
			茶 □	
	◎	青		
			黄色で 塗る	
			緑 ×	
△	黒			

※1. このプリントは、しながわ・目黒こどもスクールのウェブサイトでダウンロードができます。無断複写・引用はご遠慮ください。

※2. このプリントを活用したオンライン授業のスケジュールは、しながわ・目黒こどもスクールのウェブサイトでご確認ください。



おうちで、やろう。

Study at home. 小学校受験の家庭学習教材


指示の聞き取り 19


下の太い四角が約束です。モモと言ったら2マス、バナナと言ったら3マス、サクランボと言ったら5マス進めます。この約束で☆から進み、①～③の問題に答えましょう。

①モモ、モモ、ブドウ、サクランボ、モモ、ついた場所に○をつけます。





②サクランボ、ブドウ、モモ、サクランボ、ブドウ、ブドウ、ついた場所に×をつけます。

③ブドウ、ブドウ、サクランボ、サクランボ、モモ、モモ、サクランボ、ついた場所に◎をつけます。

	→	→
---	---	---

	→	→	→
---	---	---	---

	→	→	→	→	→
---	---	---	---	---	---

※1. このプリントは、しながわ・目黒こどもスクールのウェブサイトでダウンロードができます。無断複写・引用はご遠慮ください。

※2. このプリントを活用したオンライン授業のスケジュールは、しながわ・目黒こどもスクールのウェブサイトでご確認ください。

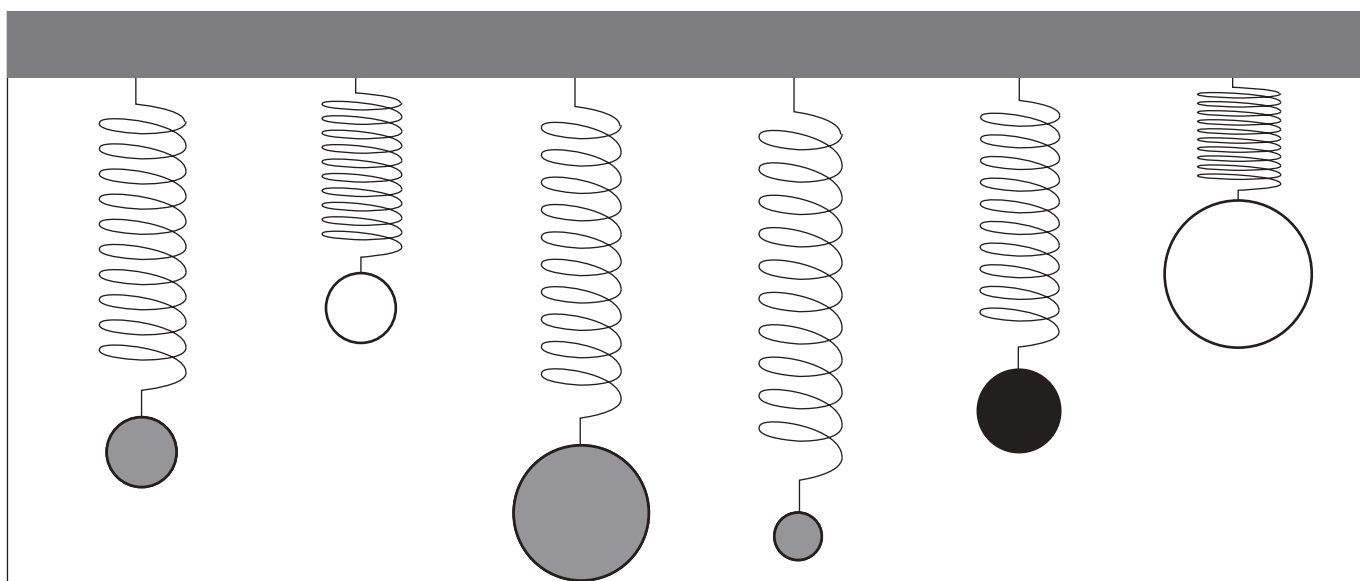
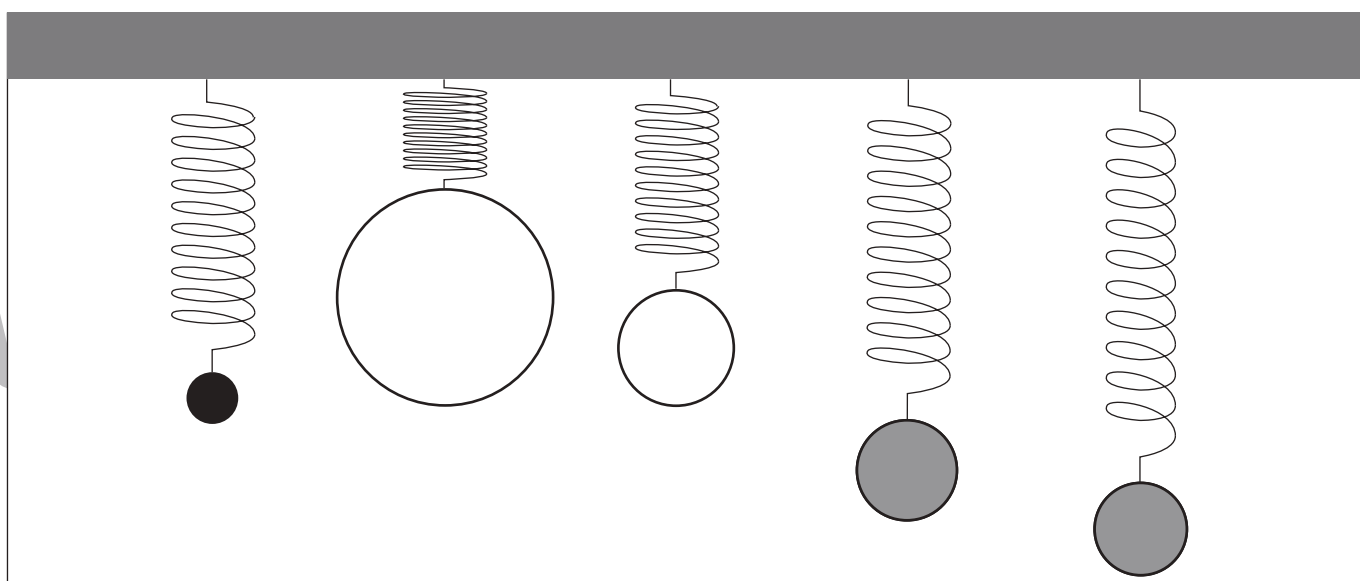
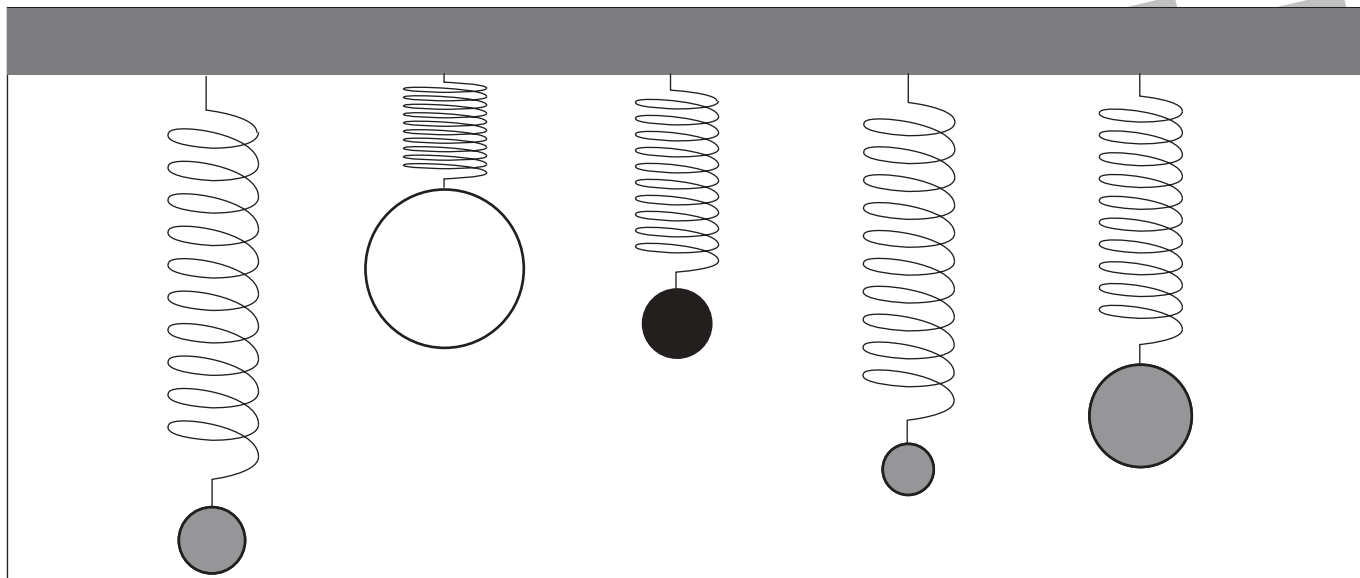


おうちで、やろう。

Study at home. 小学校受験の家庭学習教材

推理：重さ 15

バネにボールをつるして重さ比べをしました。黒いボールよりも重いボールを塗ります。



※1. このプリントは、しながわ・目黒こどもスクールのウェブサイトでダウンロードができます。無断複写・引用はご遠慮ください。

※2. このプリントを活用したオンライン授業のスケジュールは、しながわ・目黒こどもスクールのウェブサイトでご確認ください。

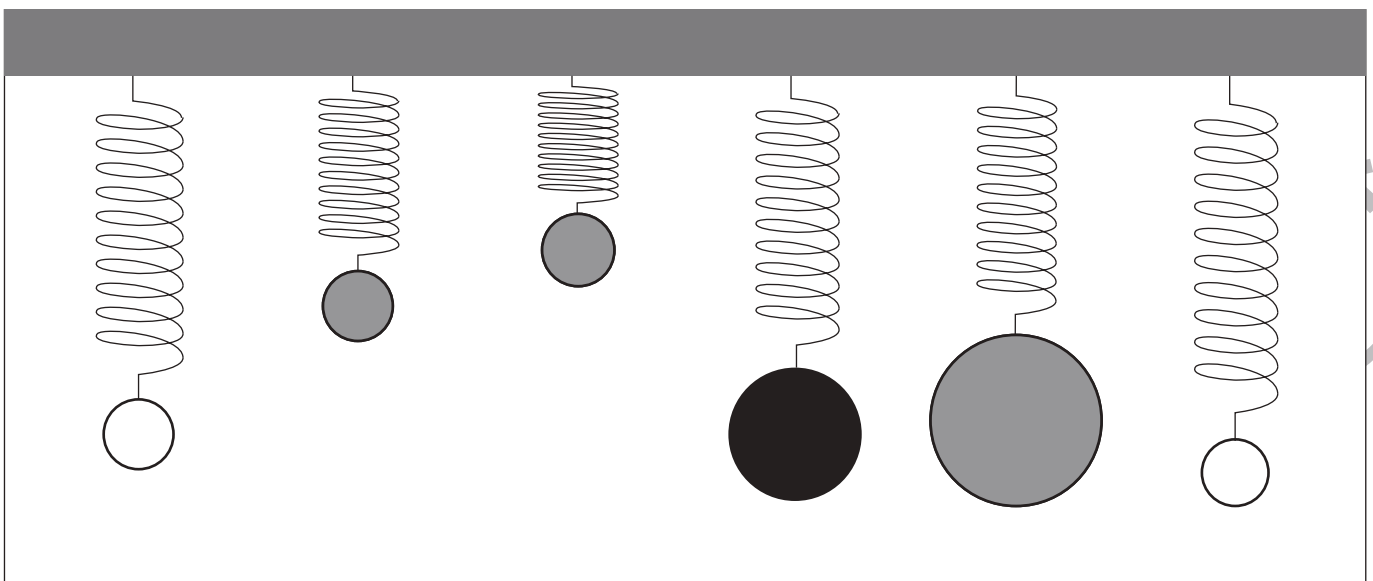
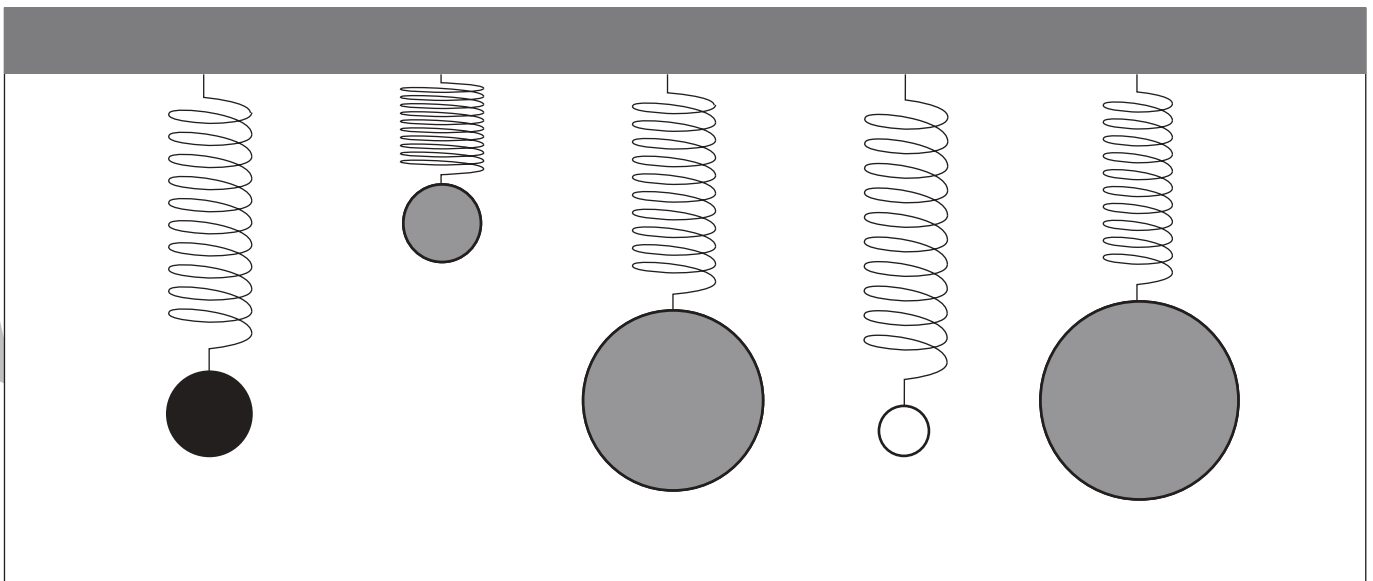
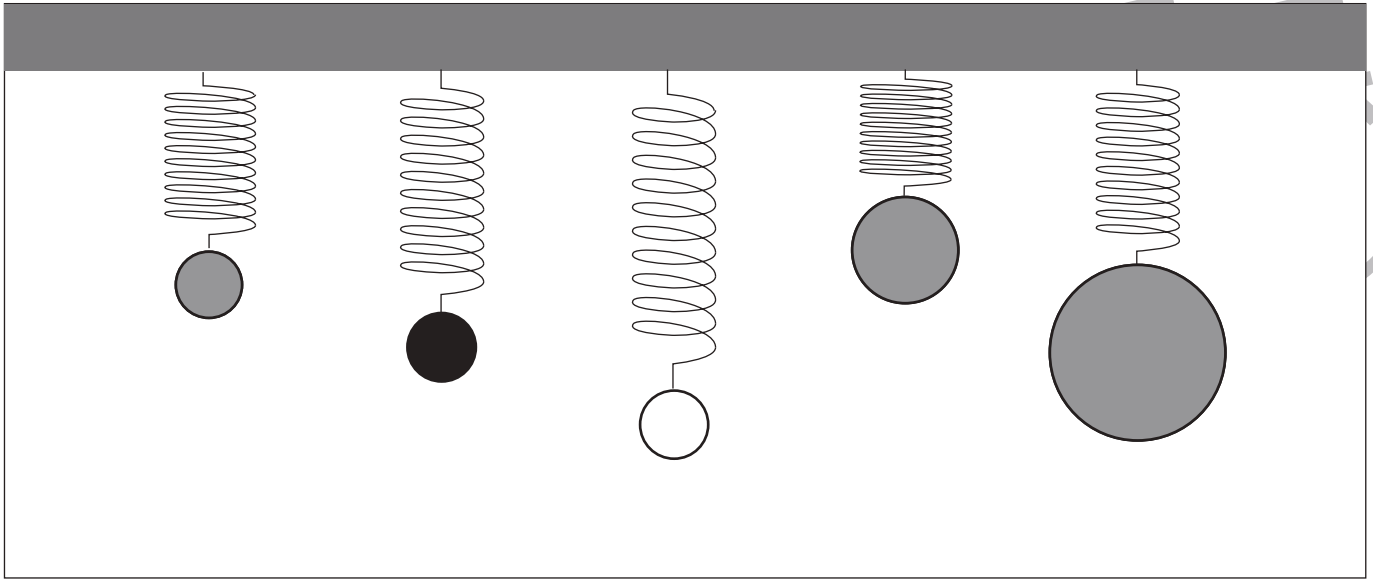


おうちで、やろう。

Study at home. 小学校受験の家庭学習教材

推理：重さ 16

バネにボールをつるして重さ比べをしました。黒いボールよりも軽いボールを塗ります。



※1. このプリントは、しながわ・目黒こどもスクールのウェブサイトでダウンロードができます。無断複写・引用はご遠慮ください。
 ※2. このプリントを活用したオンライン授業のスケジュールは、しながわ・目黒こどもスクールのウェブサイトでご確認ください。

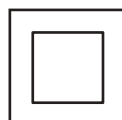
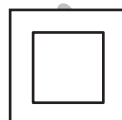
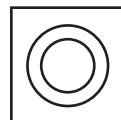
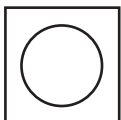
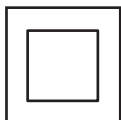
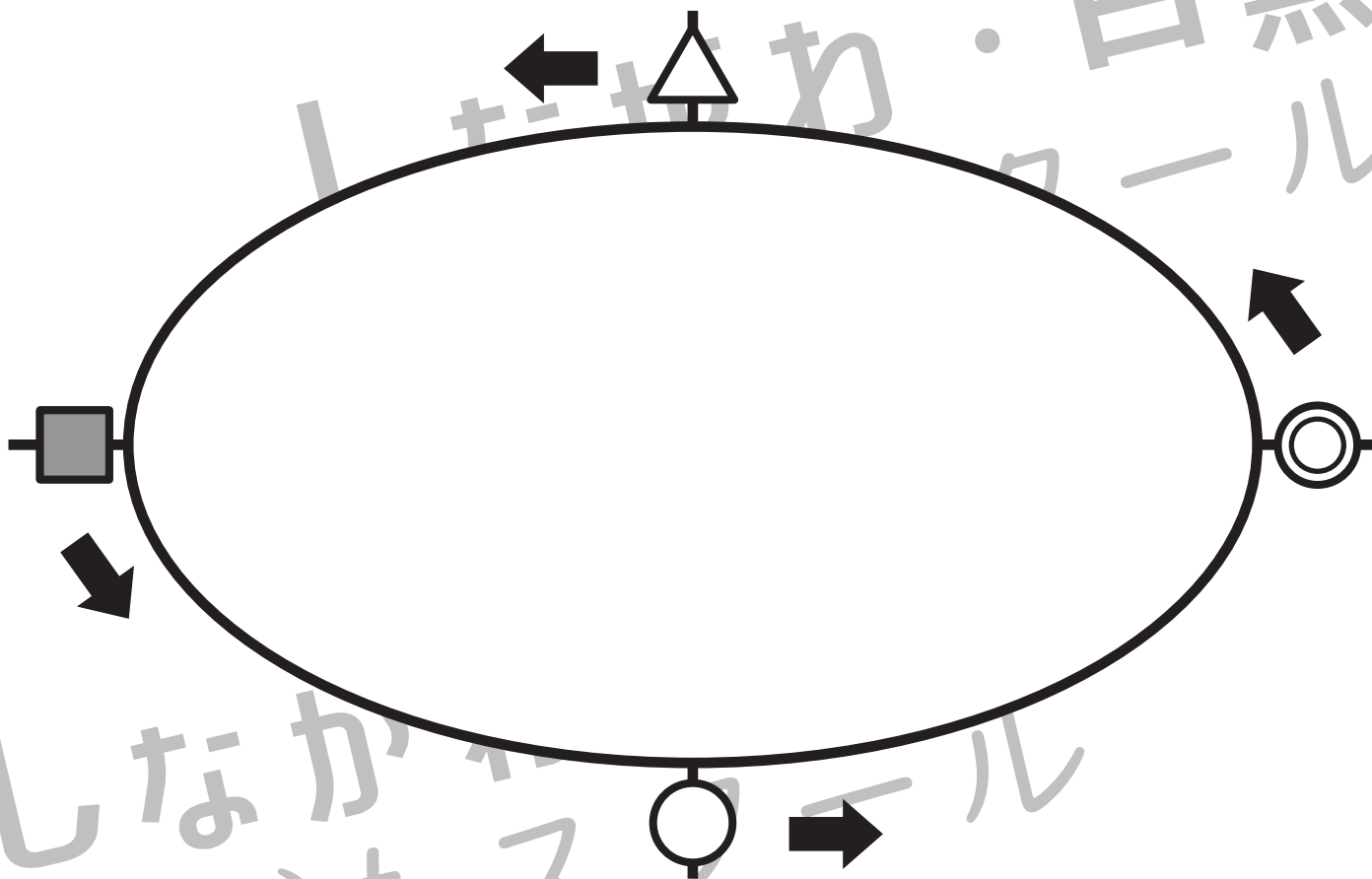


おうちで、やろう。

Study at home. 小学校受験の家庭学習教材

推理：条件推理 23

お友だちたちが下のトラック（長丸の周り）を走ってリレーをします。上の段の左端の女の子から順番に走り、下の段の右端の女の子が一番最後です。1番目の子はトラックの◎の場所からスタートし、2番目の子は△、3番目の子は□、4番目の子は○で待っています。その後も順番にそれぞれの記号の場所で待っています。下に並んでいるお友だちはそれぞれどの場所で待っていますか。それぞれの子の下に四角に待っている場所の記号をかきます。また、一番最後のお友だちがゴールをするのはどの記号ですか。トラックにある記号を塗ります。



※1. このプリントは、しながわ・目黒こどもスクールのウェブサイトでダウンロードができます。無断複写・引用はご遠慮ください。

※2. このプリントを活用したオンライン授業のスケジュールは、しながわ・目黒こどもスクールのウェブサイトでご確認ください。

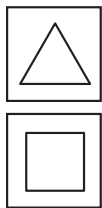
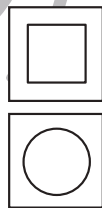
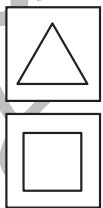
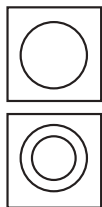
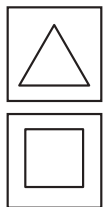
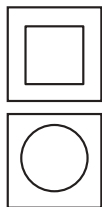
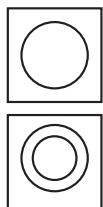
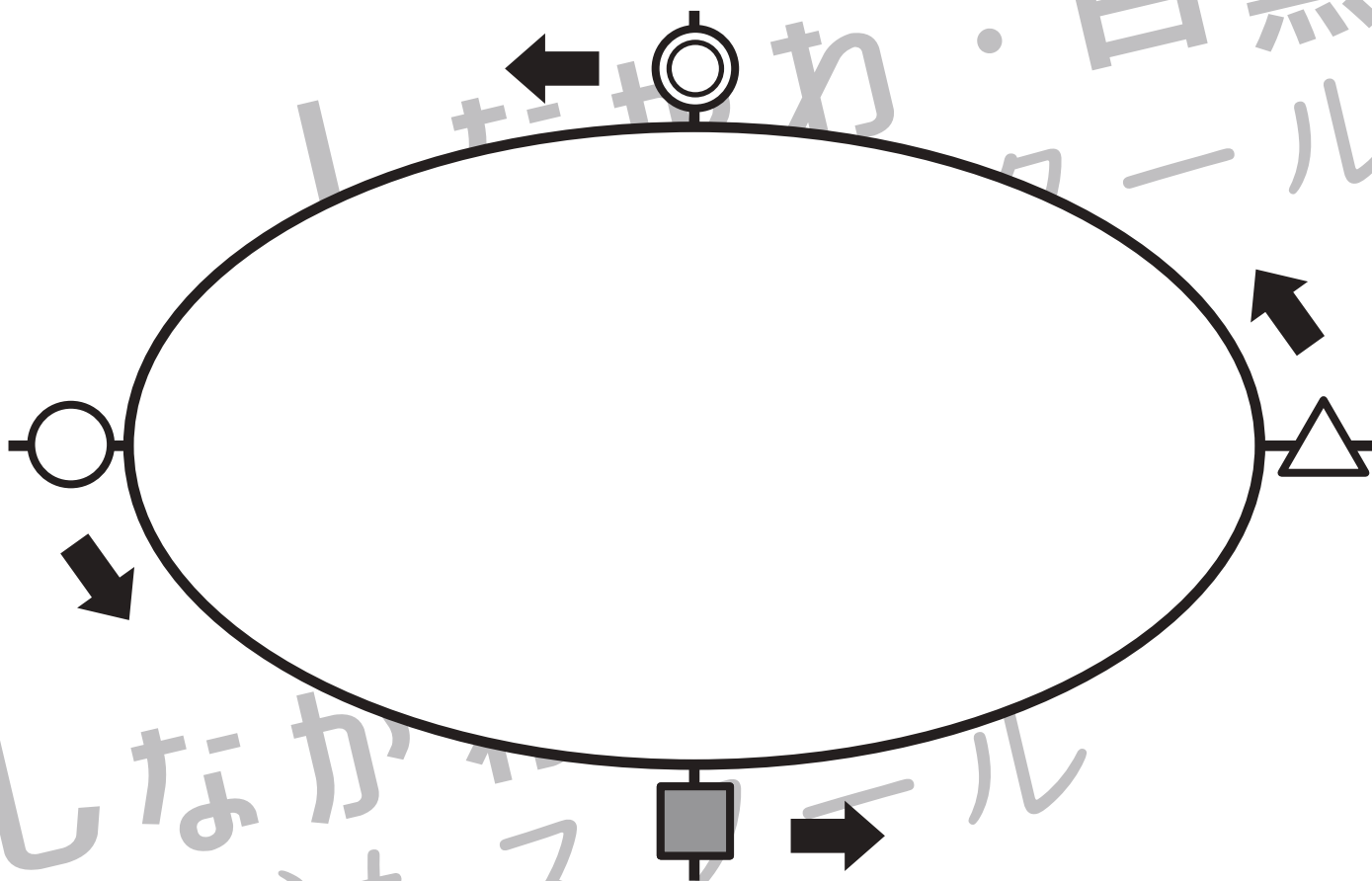


おうちで、やろう。

Study at home. 小学校受験の家庭学習教材

推理：条件推理 24

お友だちたちが下のトラック（長丸の周り）を走ってリレーをします。上の段の左端の女の子から順番に走り、下の段の右端の女の子が一番最後です。そして、このリレーは1人2回走ります。1番目の子はトラックの○の場所からスタートし、2番目の子は□、3番目の子は△、4番目の子は◎で待っています。その後も順番にそれぞれの記号の場所で待っています。下に並んでいるお友だちはそれぞれどの場所で待っていますか。それぞれの子の下の四角に待っている場所の記号をかきます。1回目の待っている場所は上の四角、2回目待っている場所は下の四角にかきます。また、一番最後のお友だちがゴールをするのはどの記号ですか。トラックにある記号を塗ります。



※1. このプリントは、しながわ・目黒こどもスクールのウェブサイトでダウンロードができます。無断複写・引用はご遠慮ください。
※2. このプリントを活用したオンライン授業のスケジュールは、しながわ・目黒こどもスクールのウェブサイトでご確認ください。



おうちで、やろう。

Study at home. 小学校受験の家庭学習教材

数量：的当てゲーム4

4人のお友だちでの的当てゲームをしました。的は左上の灰色の四角で動物の顔が描いてあるものです。この的にボールを投げて当たった場所に描いてある動物によって飴がもらえます。もらえる飴は的の下四角の中の数です。この約束で1人4回ボールを投げました。あたった的はそれぞれのお友だちの右にある太い3つの四角の中の絵です。×印の場所は飴を3つ返さなくてはなりません。○印の場所はボールが的から外れてどこにもあたりませんでした。この時、それぞれがもらった飴の数だけ一番右の四角の中に○をかきます。

×								
		×	3 candies	4 candies	2 candies	4 candies	1 candy	4 candies
	×							

			×		○×5
--	--	--	---	--	-----

		×	○		○×6
--	--	---	---	--	-----

			×	×	○×4
--	--	--	---	---	-----

	○			×	○×1
--	---	--	--	---	-----

※1. このプリントは、しながわ・目黒こどもスクールのウェブサイトでダウンロードができます。無断複写・引用はご遠慮ください。
 ※2. このプリントを活用したオンライン授業のスケジュールは、しながわ・目黒こどもスクールのウェブサイトでご確認ください。



おうちで、やろう。

Study at home. 小学校受験の家庭学習教材

数量：的当てゲーム5

4人のお友だちでの的当てゲームをしました。的は左上の灰色の四角で動物の顔が描いてあるものです。この的にボールを投げて当たった場所に描いてある動物によって飴がもらえます。もらえる飴は的の下四角の中の数です。この約束で1人4回ボールを投げました。あたった的はそれぞれのお友だちの右にある太い3つの四角の中の絵です。×印の場所は飴を3つ返さなくてはなりません。○印の場所はボールが的から外れてどこにもあたりませんでした。この時、それぞれがもらった飴の数だけ一番右の四角の中に○をかきます。

×								
		×	3 candies	5 candies	3 candies	4 candies	1 candy	4 candies
	×							

			×	×	○×2
--	--	--	---	---	-----

		×			○×7
--	--	---	--	--	-----

				×	○×5
--	--	--	--	---	-----

	○			×	○×1
--	---	--	--	---	-----

※1. このプリントは、しながわ・目黒こどもスクールのウェブサイトからダウンロードできます。無断複写・引用はご遠慮ください。
※2. このプリントを活用したオンライン授業のスケジュールは、しながわ・目黒こどもスクールのウェブサイトでご確認ください。



おうちで、やろう。

Study at home. 小学校受験の家庭学習教材

数量：的当てゲーム6

4人のお友だちでの的当てゲームをしました。的は左上の灰色の四角で動物の顔が描いてあるものです。この的にボールを投げて当たった場所に描いてある動物によって飴がもらえます。もらえる飴は的の下四角の中の数です。ただし、黒い飴はその数だけ返さなくてはなりません。この約束で1人4回ボールを投げました。あつた的はそれぞれのお友だちの右にある太い3つの四角の中の絵です。この時、それぞれがもらった飴の数だけ一番右の四角の中に○をかきます。

×								
		×	3 black candies	5 striped candies	3 striped candies	5 striped candies	5 striped candies	3 black candies
	×							

					○×5
--	--	--	--	--	-----

					○×3
--	--	--	--	--	-----

					○×6
--	--	--	--	--	-----

					○×5
--	--	--	--	--	-----

※1. このプリントは、しながわ・目黒こどもスクールのウェブサイトでダウンロードができます。無断複写・引用はご遠慮ください。
※2. このプリントを活用したオンライン授業のスケジュールは、しながわ・目黒こどもスクールのウェブサイトでご確認ください。




おうちで、やろう。

Study at home. 小学校受験の家庭学習教材

処理：計数 16

上の四角の中の絵の数をかぞえて、下の四角の同じ絵の右にかぞえた数だけ〇をかきます。
この問題はスピードを意識して取り組む練習をしてみましょう。(1分～1分30秒)



	○×7
	○×5
	○×6
	○×5
	○×5
	○×5
	○×5

※1. このプリントは、しながわ・目黒こどもスクールのウェブサイトでダウンロードができます。無断複写・引用はご遠慮ください。
※2. このプリントを活用したオンライン授業のスケジュールは、しながわ・目黒こどもスクールのウェブサイトでご確認ください。

