



おうちで、やろう。

Study at home. 小学校受験の家庭学習教材

図形：構成37

左の四角の中の二つの形と同じ関係のものを、右の四角の中で見つけて○をつけます。

※1. このプリントは、しながわ・目黒こどもスクールのウェブサイトからダウンロードできます。無断複写・引用はご遠慮ください。

※2. このプリントを活用したオンライン授業のスケジュールは、しながわ・目黒こどもスクールのウェブサイトでご確認ください。



おうちで、やろう。

Study at home. 小学校受験の家庭学習教材

推理：隠れた絵 6

それぞれの四角の中は決まった順番で絵が並んでいます。ところが、灰色の模様でいくつか隠れてしまった場所があります。点線の下
の四角の中の絵はいくつ隠れていますか。その数だけ→の右に○をかきます。

	→	○ × 3		→	○ × 2
--	---	-------	--	---	-------

	→	○ × 3		→	○ × 3
--	---	-------	--	---	-------

	→	○ × 3		→	○ × 2
--	---	-------	--	---	-------

	→	○ × 3		→	○ × 3
--	---	-------	--	---	-------

※1. このプリントは、しながわ・目黒こどもスクールのウェブサイトでダウンロードができます。無断複写・引用はご遠慮ください。

※2. このプリントを活用したオンライン授業のスケジュールは、しながわ・目黒こどもスクールのウェブサイトでご確認ください。



おうちで、やろう。

Study at home. 小学校受験の家庭学習教材

推理：隠れた絵 7

それぞれの四角の中は決まった順番で絵が並んでいます。ところが、灰色の模様でいくつか隠れてしまった場所があります。点線の下
の四角の中の絵はいくつ隠れていますか。その数だけ→の右に○をかきます。

	→	○ × 2		→	○ × 2
--	---	-------	--	---	-------

	→	○ × 2		→	○ × 1
--	---	-------	--	---	-------

	→	○ × 2		→	○ × 2
--	---	-------	--	---	-------

	→	○ × 3		→	○ × 4
--	---	-------	--	---	-------

※1. このプリントは、しながわ・目黒こどもスクールのウェブサイトでダウンロードができます。無断複写・引用はご遠慮ください。

※2. このプリントを活用したオンライン授業のスケジュールは、しながわ・目黒こどもスクールのウェブサイトでご確認ください。



























おうちで、やろう。













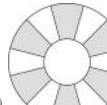









Study at home. 小学校受験の家庭学習教材



推理：隠れた絵 8























それぞれの四角の中は決まった順番で絵が並んでいます。ところが、灰色の模様でいくつか隠れてしまった場所があります。点線の下
の四角の中の絵はいくつ隠れていますか。その数だけ→の右に○をかきます。



										
										







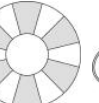











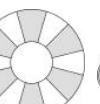



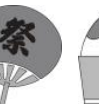

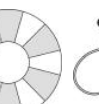

	→	○ × 2		→	○ × 2
---	---	-------	---	---	-------



										
										

	→	○ × 2		→	○ × 2
---	---	-------	---	---	-------

	→	○ × 1		→	○ × 3
---	---	-------	---	---	-------

	→	○ × 3		→	○ × 2
---	---	-------	---	---	-------

※1. このプリントは、しながわ・目黒こどもスクールのウェブサイトでダウンロードができます。無断複写・引用はご遠慮ください。

※2. このプリントを活用したオンライン授業のスケジュールは、しながわ・目黒こどもスクールのウェブサイトでご確認ください。



おうちで、やろう。

Study at home. 小学校受験の家庭学習教材

推理：規則性1

?マークのある箇所に当てはまるものを右から選んで○をつけましょう。

		?

マスの配置に合わせてある

		?

マスの配置に合わせてある・縦横マスと斜めマスの色が違う

	?	

(縦) 上から、まる、さんかく、しかく (横) 左から、まる、さんかく、しかく

※1. このプリントは、しながわ・目黒こどもスクールのウェブサイトでダウンロードができます。無断複写・引用はご遠慮ください。
 ※2. このプリントを活用したオンライン授業のスケジュールは、しながわ・目黒こどもスクールのウェブサイトでご確認ください。



おうちで、やろう。

Study at home. 小学校受験の家庭学習教材

推理：規則性2

?マークのある箇所に当てはまるものを右から選んで○をつけましょう。

⊗	?	+
▽+	▽⊗	▽≡
○≡	○+	○⊗

×

⊗

□

+

≡

I

まる、さんかく（反対）、しかくの並び・中の記号は3種類（線の本数が違う）が3つずつ

●	●	●
●	●	?
●	●	●

●

●

●

●

●

●

○の位置は上中下の3種類・各列にそれぞれのパターンがある

○	○	?
○	○	○
○	○	?

○

○

○

○

○

○

一本道でつながる

※1. このプリントは、しながわ・目黒こどもスクールのウェブサイトでダウンロードができます。無断複写・引用はご遠慮ください。
 ※2. このプリントを活用したオンライン授業のスケジュールは、しながわ・目黒こどもスクールのウェブサイトでご確認ください。



おうちで、やろう。

Study at home. 小学校受験の家庭学習教材

推理：規則性3

?マークのある箇所に当てはまるものを右から選んで○をつけましょう。

?					

直線が増える、四角のマスが増える、●が大きくなるの3種類が3マスずつ

		?			

1~9のタイルが並ぶうち6のみ消えている・タイルの並びの法則

		?			

左列と真ん中列のタイルを合わせると右列の形になる

※1. このプリントは、しながわ・目黒こどもスクールのウェブサイトでダウンロードができます。無断複写・引用はご遠慮ください。
 ※2. このプリントを活用したオンライン授業のスケジュールは、しながわ・目黒こどもスクールのウェブサイトでご確認ください。

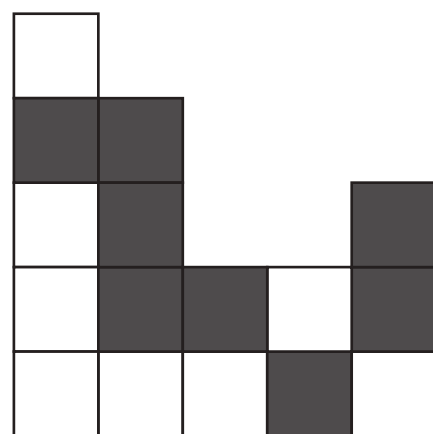

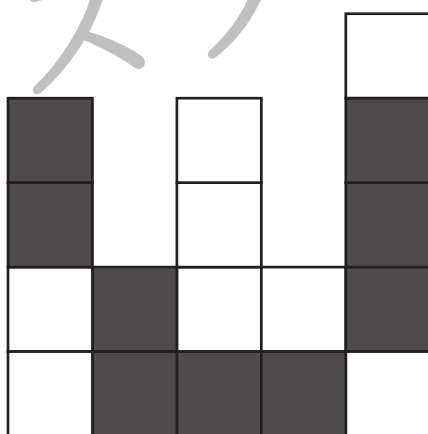



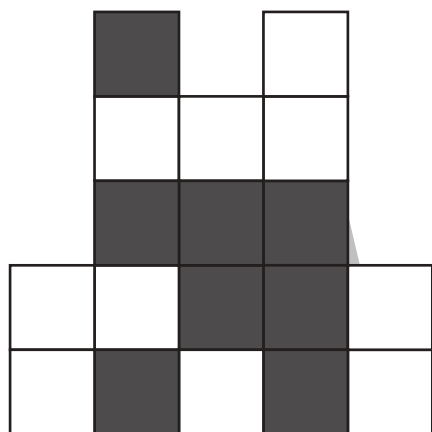


おうちで、やろう。

Study at home. 小学校受験の家庭学習教材

処理：計数 17

上の形の中で白いマスはいくつありますか。白いマスの数だけ下の四角に○をかきます。
この問題はスピードを意識して取り組む練習をしてみましょう。(1分～1分30秒)



※1. このプリントは、しながわ・目黒こどもスクールのウェブサイトでダウンロードができます。無断複写・引用はご遠慮ください。
※2. このプリントを活用したオンライン授業のスケジュールは、しながわ・目黒こどもスクールのウェブサイトでご確認ください。

