

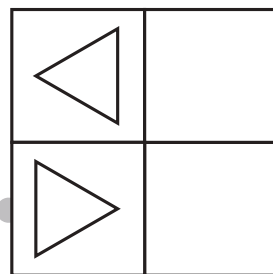
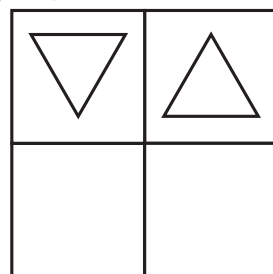
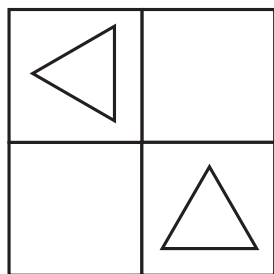
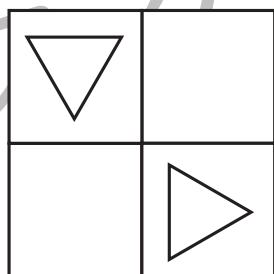

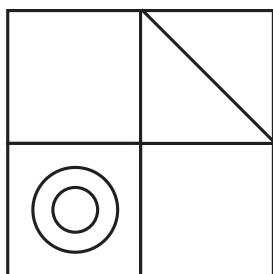
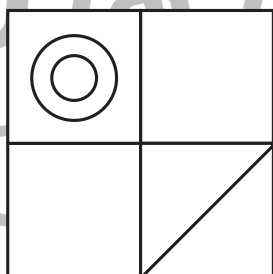
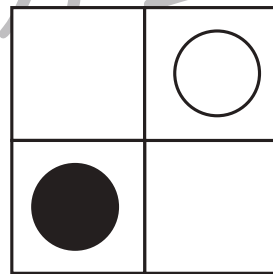
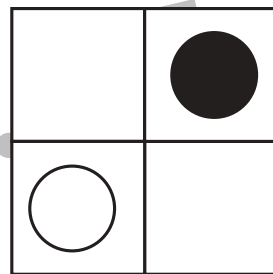

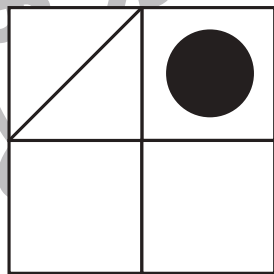
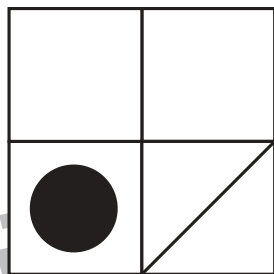


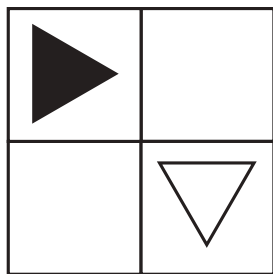


# おうちで、やろう。

Study at home. 小学校受験の家庭学習教材

図形：回転 73

上のお手本を右へ何回か倒したときの様子が下の四角です。何回倒したのかを考えて、その数だけ下の四角に○をかきます。倒した回数は1回～4回の中で考えましょう。



※1. このプリントは、しながわ・目黒こどもスクールのウェブサイトでダウンロードができます。無断複写・引用はご遠慮ください。  
※2. このプリントを活用したオンライン授業のスケジュールは、しながわ・目黒こどもスクールのウェブサイトでご確認ください。




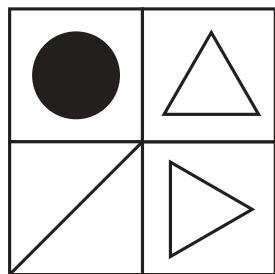
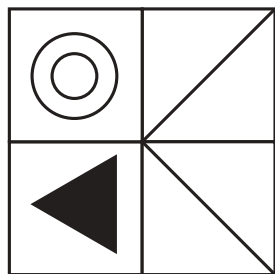


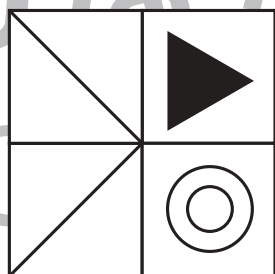



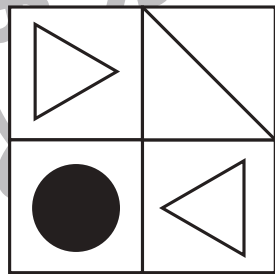

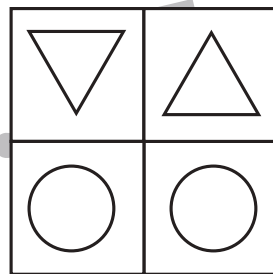

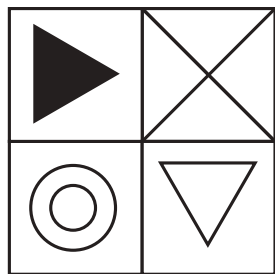


# おうちで、やろう。

Study at home. 小学校受験の家庭学習教材

## 図形：回転 74

上のお手本を右へ何回か倒したときの様子が下の四角です。何回倒したのかを考えて、その数だけ下の四角に○をかきます。  
倒した回数は 1 回～ 4 回の中で考えましょう。



※1. このプリントは、しながわ・目黒こどもスクールのウェブサイトでダウンロードができます。無断複写・引用はご遠慮ください。

※2. このプリントを活用したオンライン授業のスケジュールは、しながわ・目黒こどもスクールのウェブサイトでご確認ください。





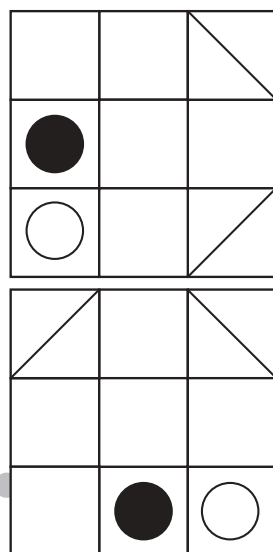
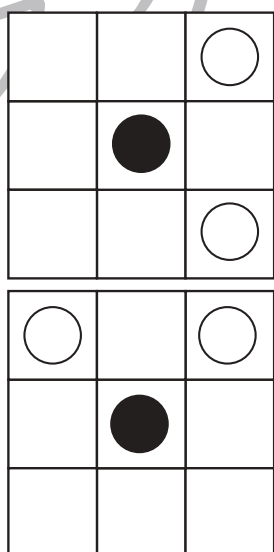
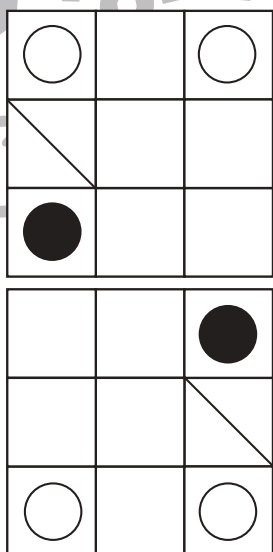



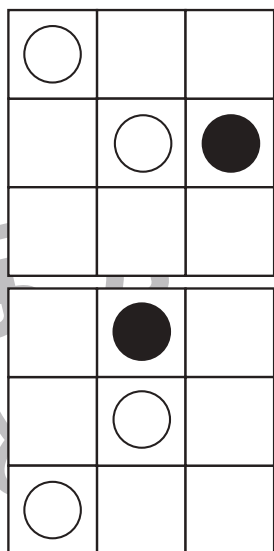
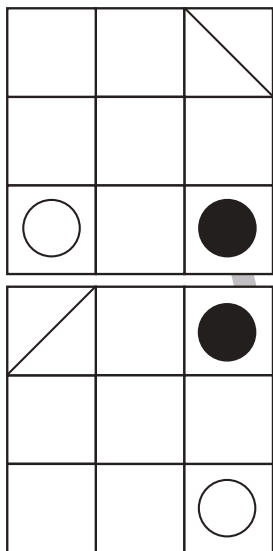


# おうちで、やろう。

Study at home. 小学校受験の家庭学習教材

図形：回転 75

上のお手本を左へ何回か倒したときの様子が下の四角です。何回倒したのかを考えて、その数だけ下の四角に○をかきます。倒した回数は1回～4回の中で考えましょう。



※1. このプリントは、しながわ・目黒こどもスクールのウェブサイトでダウンロードができます。無断複写・引用はご遠慮ください。  
※2. このプリントを活用したオンライン授業のスケジュールは、しながわ・目黒こどもスクールのウェブサイトでご確認ください。

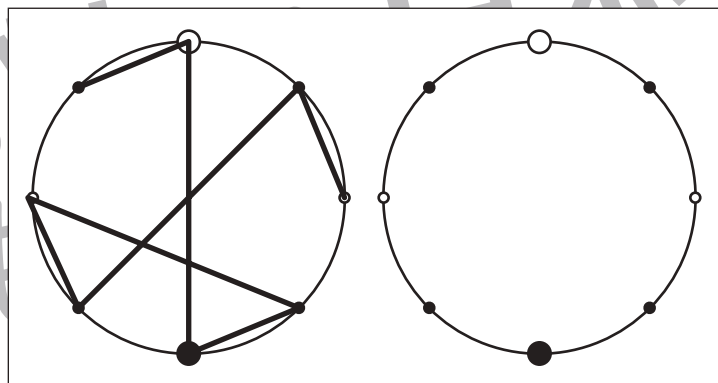
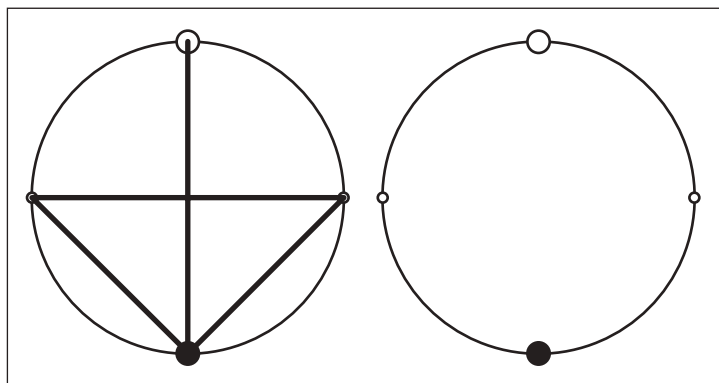
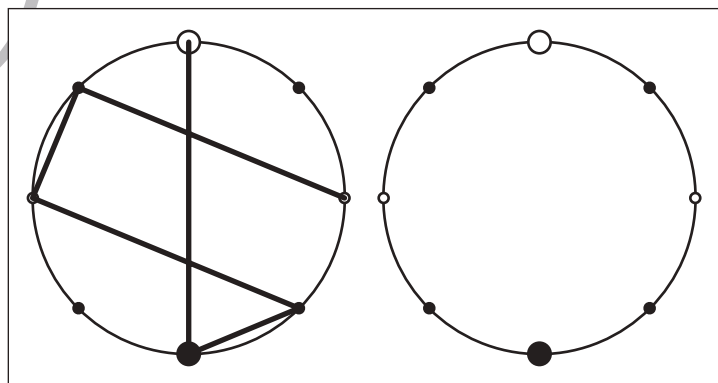
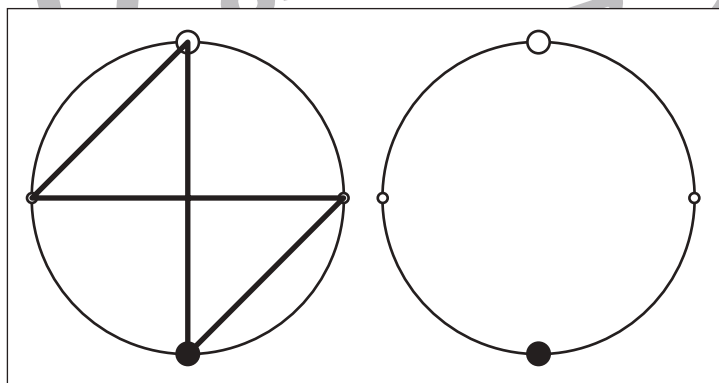
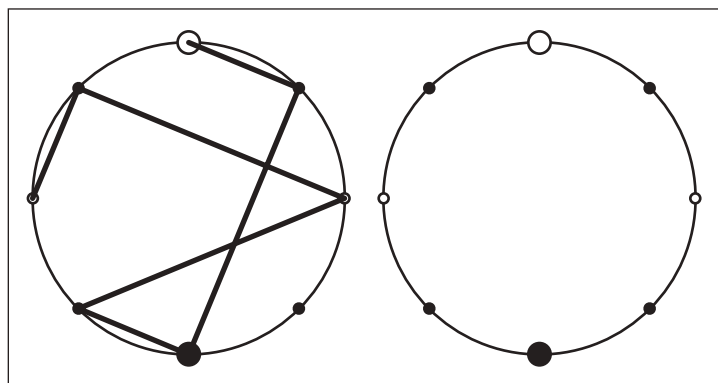
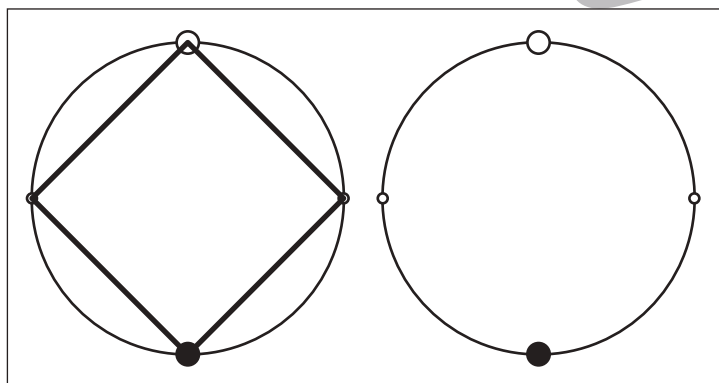
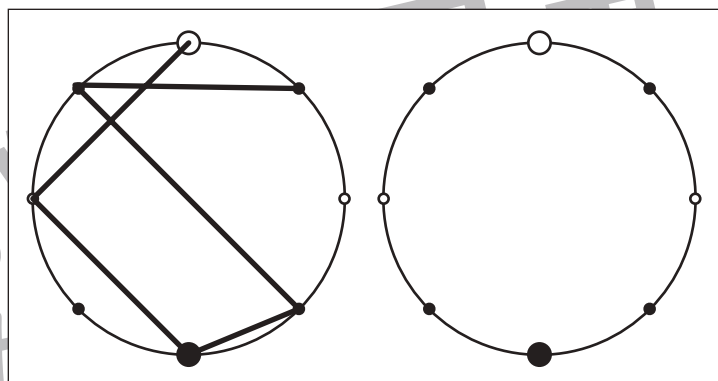
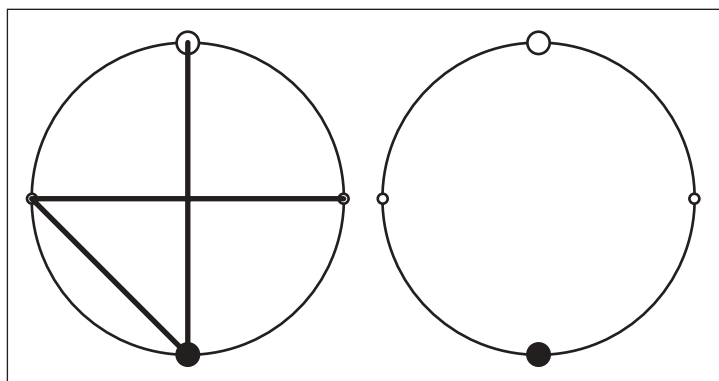


# おうちで、やろう。

Study at home. 小学校受験の家庭学習教材

## 図形：点図形 56

左のお手本を見て、右にそっくり描き写しましょう。※このプリントに解答はありません。



※1. このプリントは、しながわ・目黒こどもスクールのウェブサイトからダウンロードできます。無断複写・引用はご遠慮ください。  
※2. このプリントを活用したオンライン授業のスケジュールは、しながわ・目黒こどもスクールのウェブサイトでご確認ください。



# おうちで、やろう。

Study at home. 小学校受験の家庭学習教材

推理：左右6

左手をあげている人の手には○をつけます。



※1. このプリントは、しながわ・目黒こどもスクールのウェブサイトからダウンロードできます。無断複写・引用はご遠慮ください。  
※2. このプリントを活用したオンライン授業のスケジュールは、しながわ・目黒こどもスクールのウェブサイトでご確認ください。









# おうちで、やろう。

Study at home. 小学校受験の家庭学習教材

推理：左右7

右手をあげている人の手には○をつけます。



※1. このプリントは、しながわ・目黒こどもスクールのウェブサイトでダウンロードができます。無断複写・引用はご遠慮ください。  
※2. このプリントを活用したオンライン授業のスケジュールは、しながわ・目黒こどもスクールのウェブサイトでご確認ください。





# おうちで、やろう。

Study at home. 小学校受験の家庭学習教材


## 言語：お話づくり6

2枚の絵でお話づくりをします。1枚目のお友だちが何かが起きて2枚の表情にかわります。どんなことがあってお友だちの表情が変わったのか考えてお話を作ってみましょう。保護者の方がお子さまのお話した内容を下に記入してください。

<学習のアドバイス>お友だちの気持ちになって、何があったのかを考えてみましょう。



あなたの考えたお話



あなたの考えたお話

※1. このプリントは、しながわ・目黒こどもスクールのウェブサイトでダウンロードができます。無断複写・引用はご遠慮ください。  
 ※2. このプリントを活用したオンライン授業のスケジュールは、しながわ・目黒こどもスクールのウェブサイトでご確認ください。





# おうちで、やろう。

Study at home. 小学校受験の家庭学習教材

## 言語：お話づくり7

2枚の絵でお話づくりをします。1枚目のお友だちが何かが起きて2枚の表情にかわります。どんなことがあってお友だちの表情が変わったのか考えてお話を作ってみましょう。保護者の方がお子さまのお話した内容を下に記入してください。

<学習のアドバイス>お友だちの気持ちになって、何があったのかを考えてみましょう。



あなたの考えたお話



あなたの考えたお話

※1. このプリントは、しながわ・目黒こどもスクールのウェブサイトでダウンロードができます。無断複写・引用はご遠慮ください。  
 ※2. このプリントを活用したオンライン授業のスケジュールは、しながわ・目黒こどもスクールのウェブサイトでご確認ください。





# おうちで、やろう。

Study at home. 小学校受験の家庭学習教材

巧緻性：ちぎり 18

①点線をはさみで切ります。

②それぞれの動物の太い線をちぎります。



※1. このプリントは、しながわ・目黒こどもスクールのウェブサイトでダウンロードができます。無断複写・引用はご遠慮ください。

※2. このプリントを活用したオンライン授業のスケジュールは、しながわ・目黒こどもスクールのウェブサイトでご確認ください。








# おうちで、やろう。

Study at home. 小学校受験の家庭学習教材

巧緻性：ちぎり 19

- ①点線をはさみで切ります。
- ②それぞれの動物の太い線をちぎります。



※1. このプリントは、しながわ・目黒こどもスクールのウェブサイトでダウンロードができます。無断複写・引用はご遠慮ください。  
※2. このプリントを活用したオンライン授業のスケジュールは、しながわ・目黒こどもスクールのウェブサイトでご確認ください。

