

おうちで、やろう。お話の記憶 1-1、1-2 お話本文

本文 ※オンライン授業では録音音声聞き取ります。

クマちゃんとウサギさんとリスちゃんとカメさんの4匹が幼稚園のブランコの前に集まって、楽しかったことをお話しています。クマちゃんが「僕は富士山に登るのが楽しかったんだ。」と言うと、ウサギさんが「すごいね。私も登ってみたいな。」と言いました。それを聞いたリスちゃんが「明日、みんなで富士山に登ろうよ。」と言いました。クマちゃんが「そうだね。みんなで行こう。」と言うと、ウサギさんが「今は暑くて雨がたくさん降る季節だから、雨がっぱと帽子と水筒を持って行こうよ。」と言いました。そして、次の日、4匹は朝早くから公園に集まりました。「おはよう、今日は晴れていてよかったね。」とリスくん。「ちょっと暑いくらいだよ。ちゃんと帽子をかぶって行こう。」とクマくんが言いました。「そうだ、山登りははじめてだから、リーダーを決めようよ。」とカメさんが言うと、ウサギさんが「それだったら、一回登ったことのあるクマくんがいいよ。クマくんリーダーをお願いできるかな。」と聞くと、クマくんは「いいよ、じゃあ出発しよう。」と言って4匹は歩いて山へ向かいました。山のふもとに到着した4匹は、さっそく山を登り始めました。山の中ではそよ風が吹いて、緑の葉っぱがサラサラと揺れていました。「涼しくて気持ちがいいね。」とリスくんが言うと「そうだね、気持ちいい。」と、3匹は口々に言いました。そして、しばらく登っていくとタヌキくんを見かけました。タヌキくんが「やあ、みんなで山登りかい。僕も仲間に入れてよ。」と言いました。するとリーダーのクマくんが「タヌキくん、雨がっぱと帽子と水筒は持っているかい。」と尋ねました。タヌキくんは「今日は、持ってないよ。」と言うと、クマくんが「もし途中で雨が降ったら大変だから、タヌキくんはまた今度一緒に行こうよ。」と、提案しました。タヌキくんは「そうだね、わかった。ちゃんと準備をして、また今度一緒に行こうね。」と言って、手を振って家に帰って行きました。頂上まであと少し、と進んで来たところで、突然カメさんが「もうだめ、これ以上登れないよ。」と泣きそうな顔で言いました。ウサギさんとリスくんが心配そうな顔で見ていると、クマくんが「じゃあここで少し休憩しよう。」と言い、4匹は休むことにしました。カメさんがおやつのカッキーを8枚持っていたので、みんなで仲良く同じ数になるように分けて食べました。空を見上げると、太陽が雲に隠れて曇ってきました。リスくんが「雨が降りそうだね。」と言うと、クマくんが「僕たちは雨がっぱを持ってきているから、雨が降ってもへっちゃらさ。」と言い、みんなは安心しました。しばらく休憩した後、4匹はまた頂上を目指して登り始めました。そしてやっと頂上にたどり着きました。「わあ、眺めがきれいだね。」とカメさんが笑顔で言うと、クマくんが「みんなで頂上まで登りきることができてよかったよ。」と言いました。するとウサギさんが「もうお腹ペコペコだからお昼ご飯にしようよ。」と言うと、3匹も「賛成。」と言って、みんなで星のマークのシートを敷いてお弁当を食べました。ウサギさんとリスくんはサンドウィッチ、クマくんはおにぎり、カメさんは目玉焼きを食べました。4匹がお弁当を食べ終わったら、空からポツポツと雨が降り始めました。「大変だ、雨が降ってきたからみんな雨がっぱを着よう。」とクマくんが言うと、みんなは急いで雨がっぱを出しました。クマちゃんとリスくんは青色の雨がっぱを、ウサギさんとカメさんは赤色の雨がっぱを着ました。「今日は楽しかったね。」とウサギさん。クマくんも「とっても楽しかったね、雨が降り出したから今日は帰ろうか。」と言い、4匹はゆっくりと山を下りました。

問題

- ① 4匹が公園で山登りに持っていきこうと約束したものに○をつけます。
- ② 山登りのリーダーになった動物に○をつけます。
- ③ 山登りに出発したときの朝の天気にも○をつけます。
- ④ 山登りの途中で会った動物に○をつけます。
- ⑤ 山登りの途中で疲れて泣き言を言った動物に○をつけます。
- ⑥ 山登りの途中で休んでいたときに、カメさんが持っていたカッキーをみんなで分けて食べました。1匹が食べたカッキーの数だけ○を描きます。
- ⑦ お弁当を食べるときに用意したシートに付いていたマークにも○をつけます。
- ⑧ ウサギさんとリスくんが食べたお弁当にも○をつけます。
- ⑨ クマちゃんとリスくんのカッパの色で○を塗ります。
- ⑩ このお話の季節と同じ季節の絵にも○をつけます。


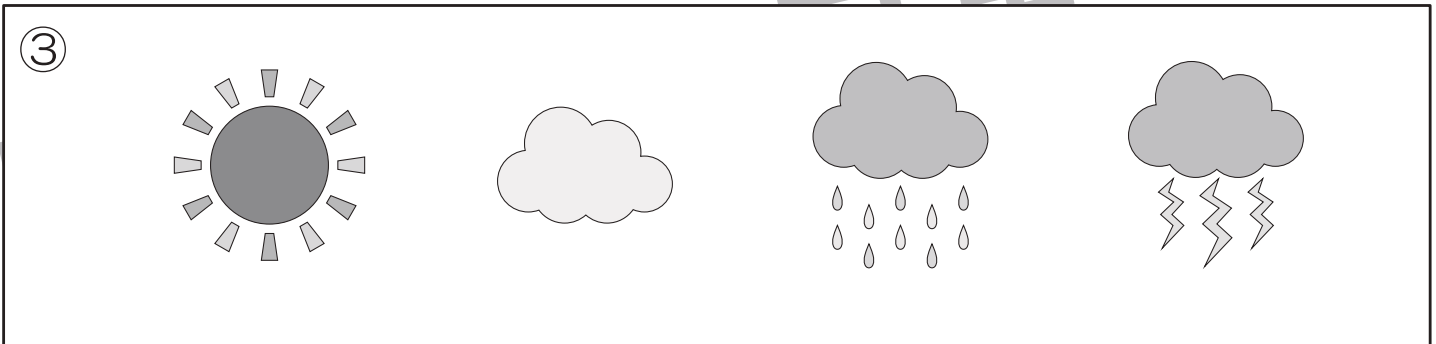




おうちで、やろう。

Study at home. 小学校受験の家庭学習教材

記憶：お話の記憶 1-1

お話を聞いて、問題に答えましょう。



※1. このプリントは、しながわ・目黒こどもスクールのウェブサイトでダウンロードができます。無断複写・引用はご遠慮ください。
※2. このプリントを活用したオンライン授業のスケジュールは、しながわ・目黒こどもスクールのウェブサイトでご確認ください。




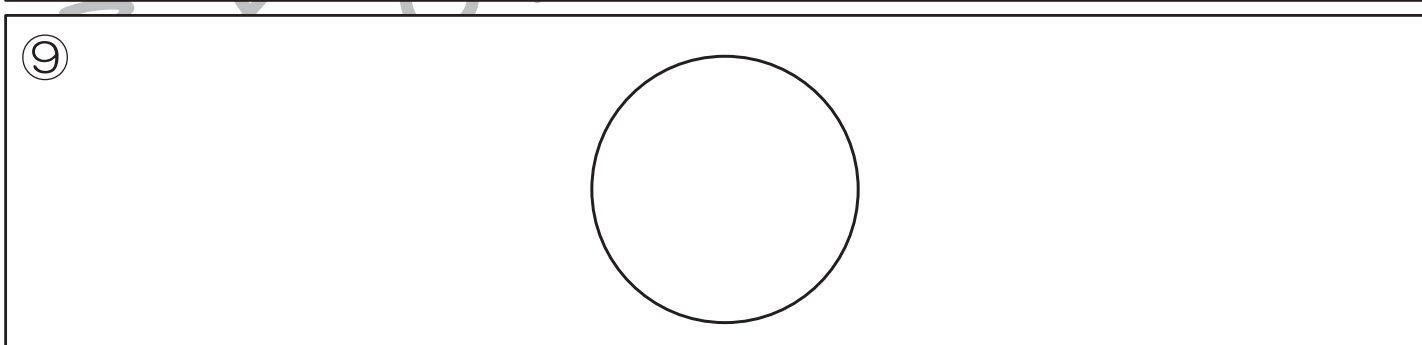
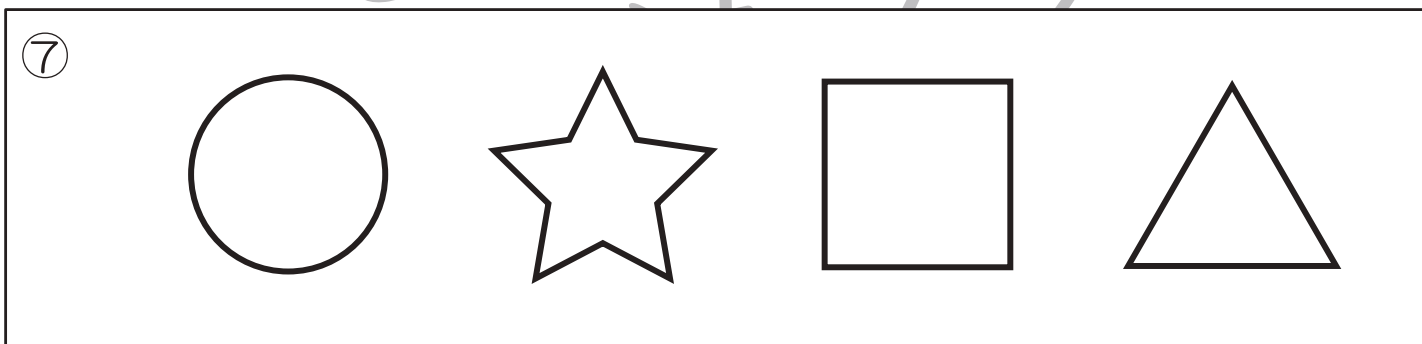
おうちで、やろう。

Study at home. 小学校受験の家庭学習教材

記憶：お話の記憶 1-2

お話を聞いて、問題に答えましょう。

⑥



※1. このプリントは、しながわ・目黒こどもスクールのウェブサイトからダウンロードできます。無断複写・引用はご遠慮ください。
※2. このプリントを活用したオンライン授業のスケジュールは、しながわ・目黒こどもスクールのウェブサイトでご確認ください。

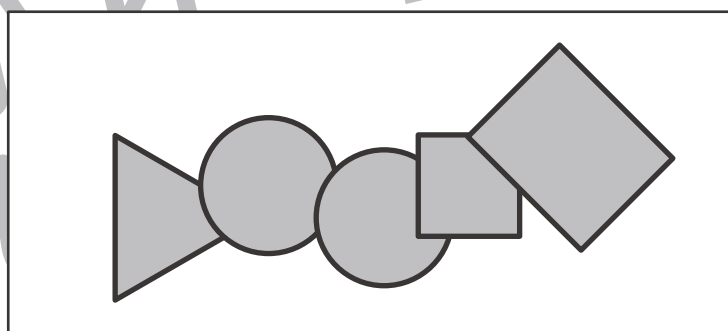
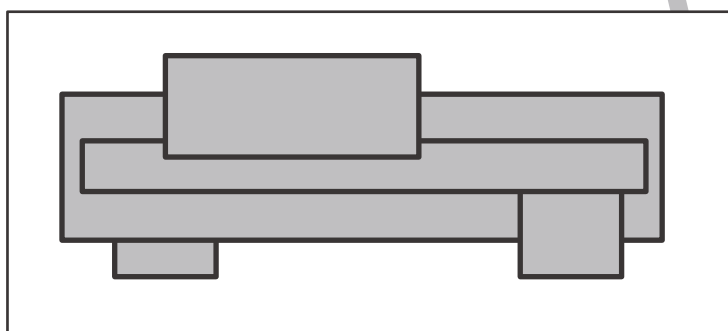
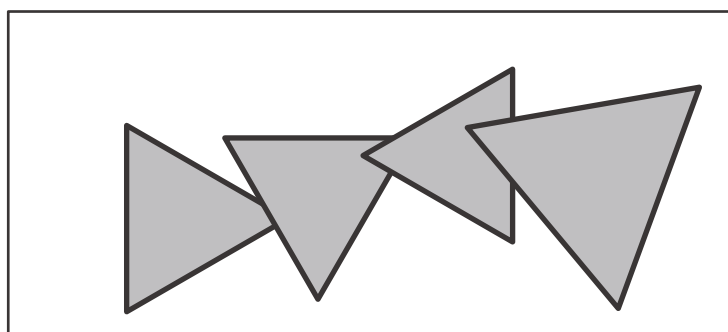
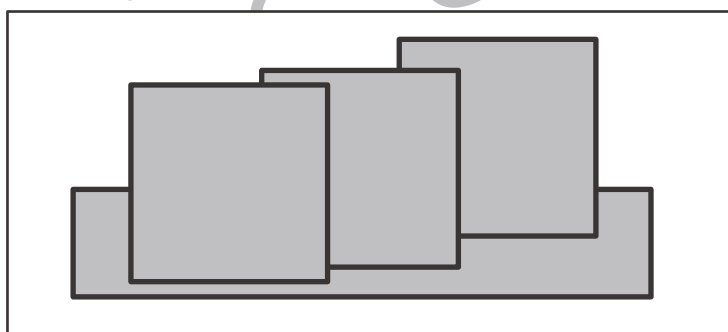
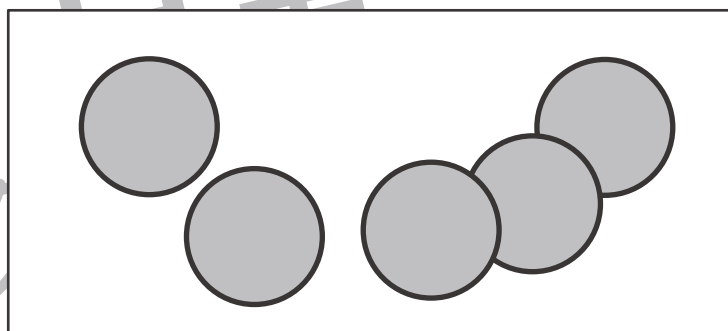
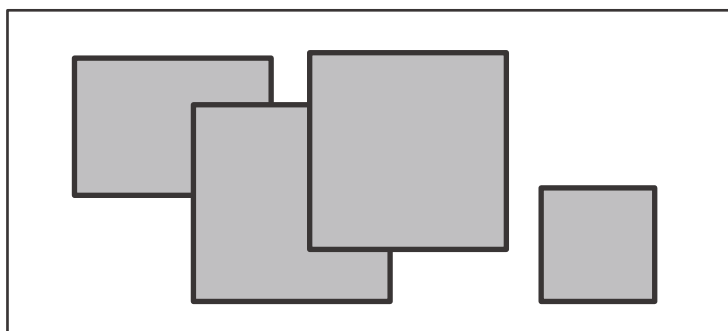
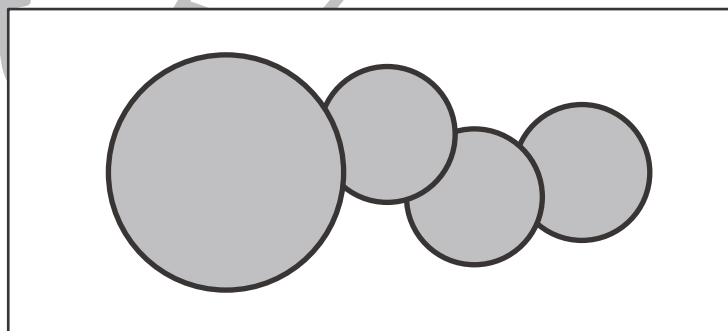
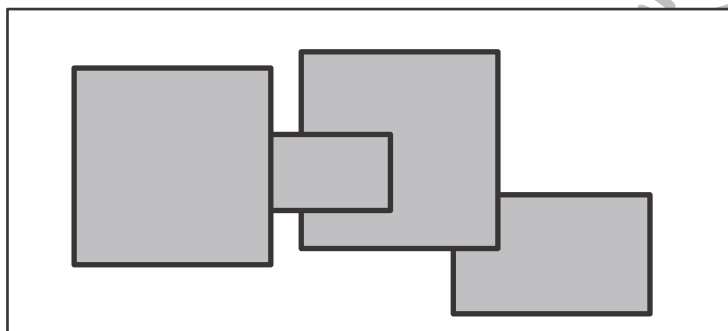
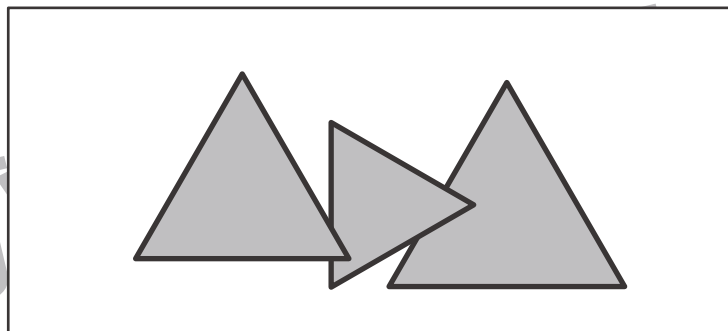
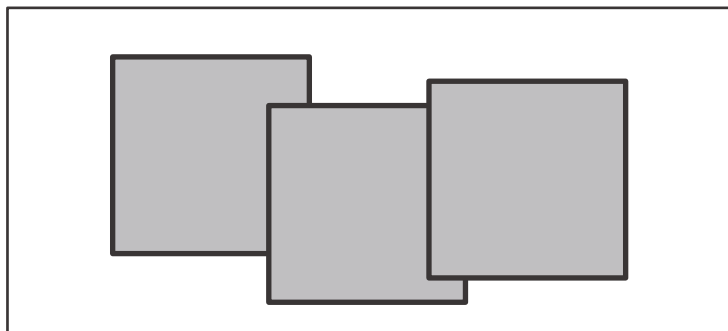


おうちで、やろう。

Study at home. 小学校受験の家庭学習教材

図形：重なり 24

下から2番目にある図形に○をつけましょう。



※1. このプリントは、しながわ・目黒こどもスクールのウェブサイトでダウンロードができます。無断複写・引用はご遠慮ください。

※2. このプリントを活用したオンライン授業のスケジュールは、しながわ・目黒こどもスクールのウェブサイトでご確認ください。



おうちで、やろう。

Study at home. 小学校受験の家庭学習教材

図形：折り重ね 47

透明な板に線をかいた四角を真ん中の太い線で矢印の方向へ折り重ねたときの見え方が一番右の四角です。
このとき、一番左のマスにある○を考えてかきます。

Diagram illustrating the process of overlapping a 3x5 grid onto a 3x3 grid. Each row shows the original grid, the fold line (indicated by a vertical arrow), and the resulting overlapping grid.

Row 1: Original grid has circles at (1,4), (2,4), (2,5), and (3,4). The fold line is between columns 3 and 4. The resulting grid has circles at (1,1), (1,2), (1,3), (2,1), (2,2), (2,3), (3,1), (3,2), and (3,3).

Row 2: Original grid has circles at (1,4), (2,4), and (3,4). The fold line is between columns 3 and 4. The resulting grid has circles at (1,1), (1,2), (1,3), (2,1), (2,2), (2,3), (3,1), (3,2), and (3,3).

Row 3: Original grid has circles at (1,4), (1,5), (2,4), and (2,5). The fold line is between columns 3 and 4. The resulting grid has circles at (1,1), (1,2), (1,3), (2,1), (2,2), (2,3), (3,1), (3,2), and (3,3).

Row 4: Original grid has circles at (1,4), (1,5), and (3,4). The fold line is between columns 3 and 4. The resulting grid has circles at (1,1), (1,2), (1,3), (2,1), (2,2), (2,3), (3,1), (3,2), and (3,3).

Row 5: Original grid has circles at (1,4), (1,5), and (2,5). The fold line is between columns 3 and 4. The resulting grid has circles at (1,1), (1,2), (1,3), (2,1), (2,2), (2,3), (3,1), (3,2), and (3,3).

※1. このプリントは、しながわ・目黒こどもスクールのウェブサイトでダウンロードができます。無断複写・引用はご遠慮ください。
※2. このプリントを活用したオンライン授業のスケジュールは、しながわ・目黒こどもスクールのウェブサイトでご確認ください。



おうちで、やろう。

Study at home. 小学校受験の家庭学習教材

図形：折り重ね 48

透明な板に線をかいた四角を真ん中の太い線で矢印の方向へ折り重ねたときの見え方が一番右の四角です。
このとき、一番左のマスにある○を考えてかきます。

Diagram illustrating the process of overlapping a 3x5 grid onto a 3x3 grid. Each row shows the original grid, a vertical fold line with an arrow, and the resulting overlapping grid.

Row 1: Original grid has circles at (1,4), (1,5), (2,5), and (3,1). The fold line is between columns 3 and 4. The resulting grid has circles at (1,1), (1,2), (1,3), (2,3), (2,4), (3,1), and (3,2).

Row 2: Original grid has circles at (1,2), (1,4), (2,4), and (3,1). The fold line is between columns 3 and 4. The resulting grid has circles at (1,1), (1,2), (1,3), (2,3), (2,4), (3,1), and (3,2).

Row 3: Original grid has circles at (1,2), (1,5), (2,2), (2,5), and (3,1). The fold line is between columns 3 and 4. The resulting grid has circles at (1,1), (1,2), (1,3), (2,3), (2,4), (3,1), and (3,2).

Row 4: Original grid has circles at (1,2), (1,3), (2,2), (2,3), (3,1), and (3,4). The fold line is between columns 3 and 4. The resulting grid has circles at (1,1), (1,2), (1,3), (2,3), (2,4), (3,1), and (3,2).

Row 5: Original grid has circles at (1,4), (1,5), (2,4), (2,5), (3,1), and (3,4). The fold line is between columns 3 and 4. The resulting grid has circles at (1,1), (1,2), (1,3), (2,3), (2,4), (3,1), and (3,2).

※1. このプリントは、しながわ・目黒こどもスクールのウェブサイトでダウンロードができます。無断複写・引用はご遠慮ください。
※2. このプリントを活用したオンライン授業のスケジュールは、しながわ・目黒こどもスクールのウェブサイトでご確認ください。
















おうちで、やろう。








Study at home. 小学校受験の家庭学習教材









推理：条件推理 25










旗が先頭で動物たちが順番に並んでいます。そこへ、後から右の太い四角の中の動物がやってきて先頭に並びました。そのとき、前から3番目の動物は誰ですか。その動物に○をつけます。

					
---	---	---	---	---	---

						
--	--	--	--	--	--	---

						
---	---	---	---	---	---	---

							
---	---	---	---	---	--	---	---

								
---	---	---	---	---	---	--	---	---

※1. このプリントは、しながわ・目黒こどもスクールのウェブサイトでダウンロードができます。無断複写・引用はご遠慮ください。
 ※2. このプリントを活用したオンライン授業のスケジュールは、しながわ・目黒こどもスクールのウェブサイトでご確認ください。
















おうちで、やろう。








Study at home. 小学校受験の家庭学習教材









推理：条件推理 26










旗が先頭で動物たちが順番に並んでいます。そこへ、後から右の太い四角の中の動物がやってきて前から2番目に並びました。このとき、前から4番目の動物は誰ですか。その動物に○をつけます。

					
---	---	---	---	---	---

						
--	--	--	--	---	--	---

						
---	---	---	---	---	---	---

							
---	---	---	---	---	--	---	---

								
---	---	---	---	---	---	--	---	---

※1. このプリントは、しながわ・目黒こどもスクールのウェブサイトでダウンロードができます。無断複写・引用はご遠慮ください。
 ※2. このプリントを活用したオンライン授業のスケジュールは、しながわ・目黒こどもスクールのウェブサイトでご確認ください。


















おうちで、やろう。

Study at home. 小学校受験の家庭学習教材

数量：多少 14

3つの四角の中には白いマス、灰色のマス、黒いマスがあります。左は白、真ん中は黒、右は灰色の数をかぞえて、一番多いマスの数だけ右の四角に○をかきます。



※1. このプリントは、しながわ・目黒こどもスクールのウェブサイトでダウンロードができます。無断複写・引用はご遠慮ください。
※2. このプリントを活用したオンライン授業のスケジュールは、しながわ・目黒こどもスクールのウェブサイトでご確認ください。


















おうちで、やろう。

Study at home. 小学校受験の家庭学習教材

数量：多少 15

3つの四角の中には白いマス、灰色のマス、黒いマスがあります。左は灰色、真ん中は白、右は黒の数をかぞえて、一番多いマスの数だけ右の四角に○をかきます。



※1. このプリントは、しながわ・目黒こどもスクールのウェブサイトでダウンロードができます。無断複写・引用はご遠慮ください。
※2. このプリントを活用したオンライン授業のスケジュールは、しながわ・目黒こどもスクールのウェブサイトでご確認ください。



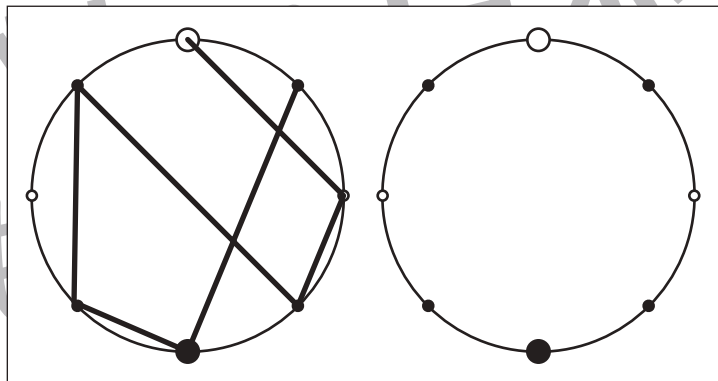
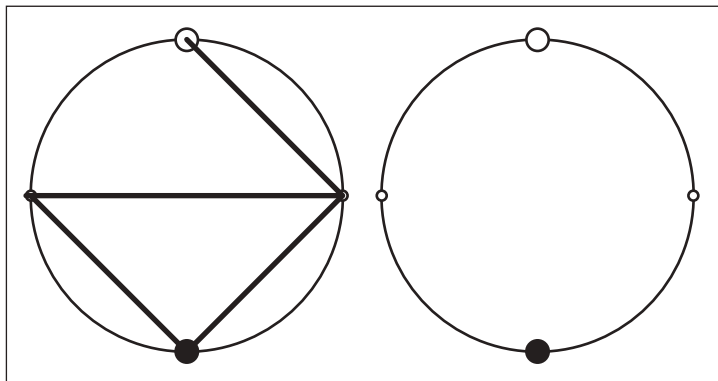
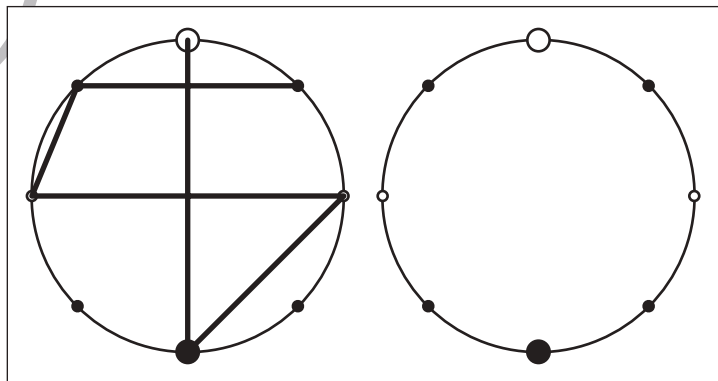
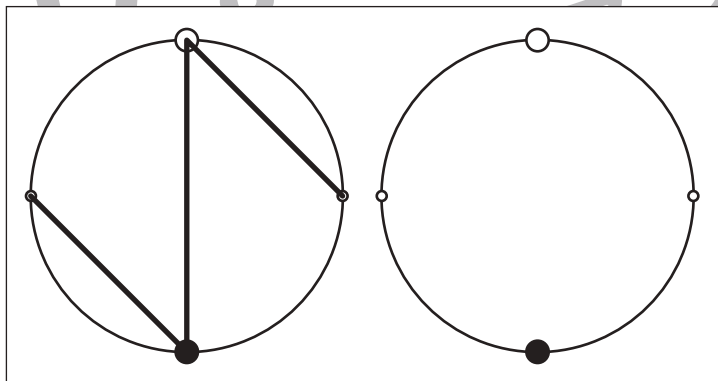
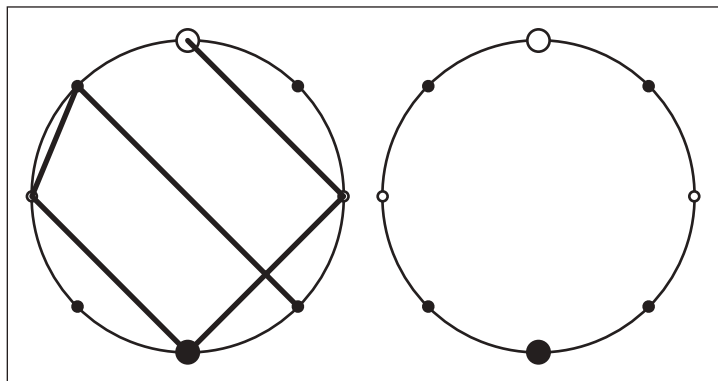
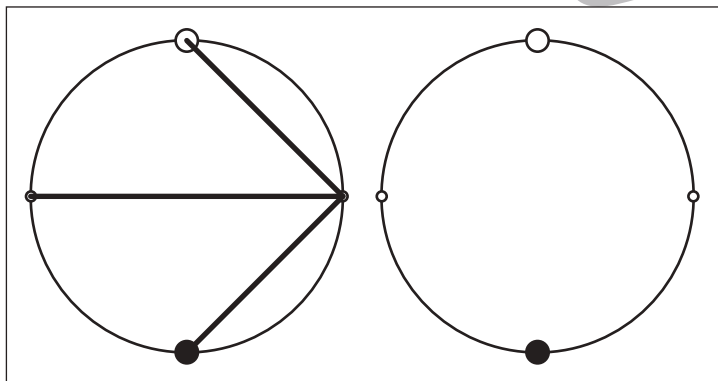
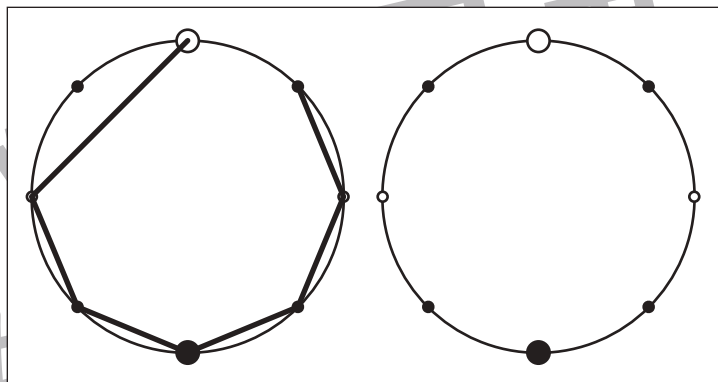
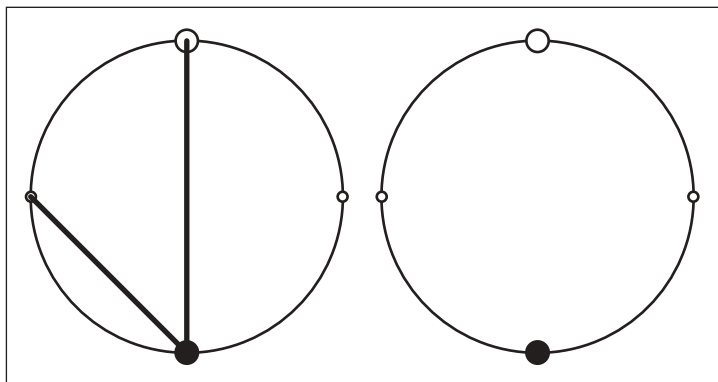


おうちで、やろう。

Study at home. 小学校受験の家庭学習教材

図形：点図形 57

左のお手本を見て、右にそっくり描き写しましょう。※このプリントに解答はありません。



※1. このプリントは、しながわ・目黒こどもスクールのウェブサイトでダウンロードができます。無断複写・引用はご遠慮ください。
※2. このプリントを活用したオンライン授業のスケジュールは、しながわ・目黒こどもスクールのウェブサイトでご確認ください。