





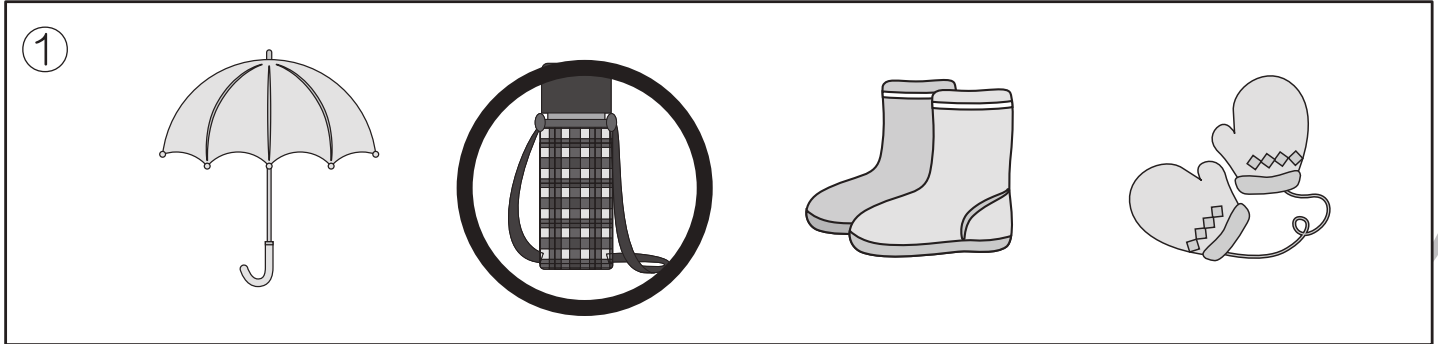


おうちで、やろう。

Study at home. 小学校受験の家庭学習教材

記憶：お話の記憶 1-1

お話を聞いて、問題に答えましょう。



※1. このプリントは、しながわ・目黒こどもスクールのウェブサイトでダウンロードができます。無断複写・引用はご遠慮ください。
※2. このプリントを活用したオンライン授業のスケジュールは、しながわ・目黒こどもスクールのウェブサイトでご確認ください。






おうちで、やろう。

Study at home. 小学校受験の家庭学習教材

記憶：お話の記憶 1-2

お話を聞いて、問題に答えましょう。



※1. このプリントは、しながわ・目黒こどもスクールのウェブサイトからダウンロードできます。無断複写・引用はご遠慮ください。
※2. このプリントを活用したオンライン授業のスケジュールは、しながわ・目黒こどもスクールのウェブサイトでご確認ください。

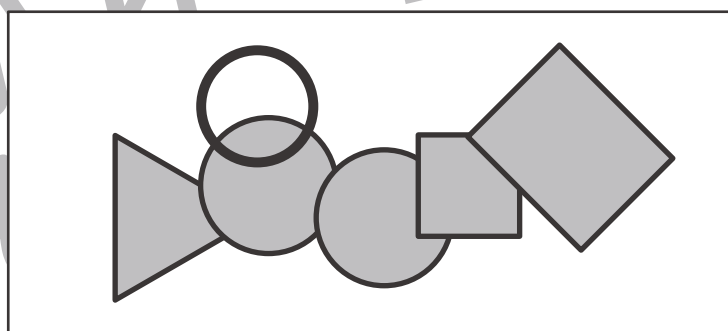
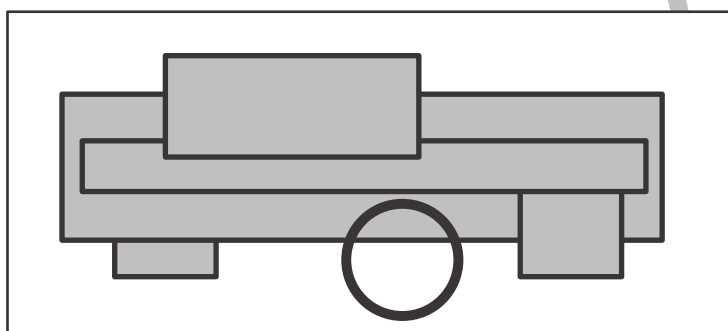
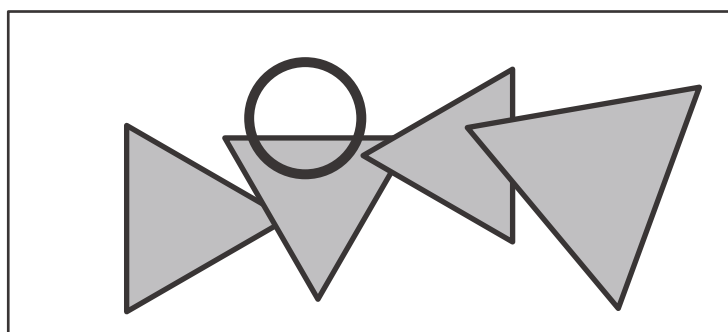
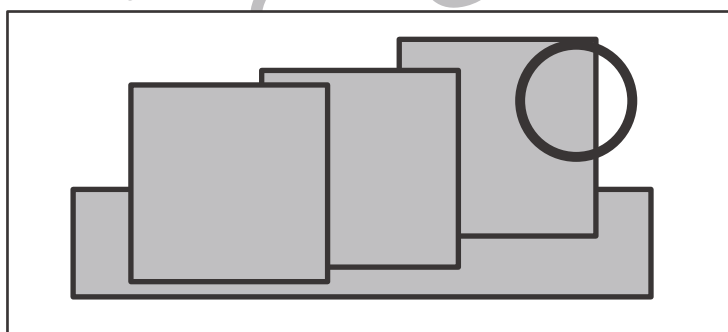
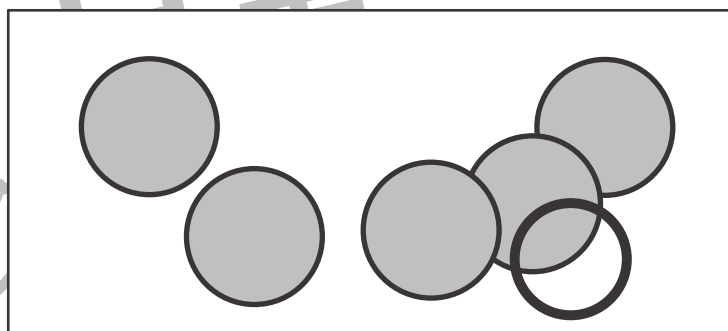
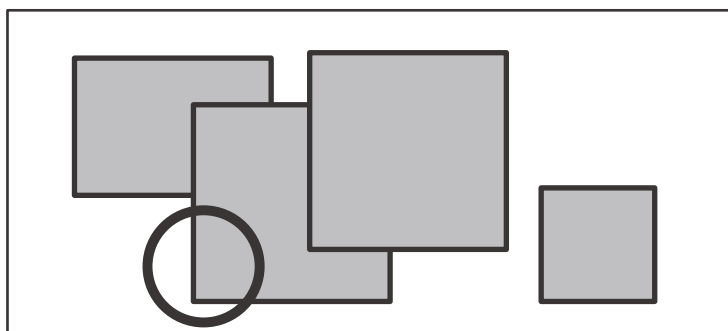

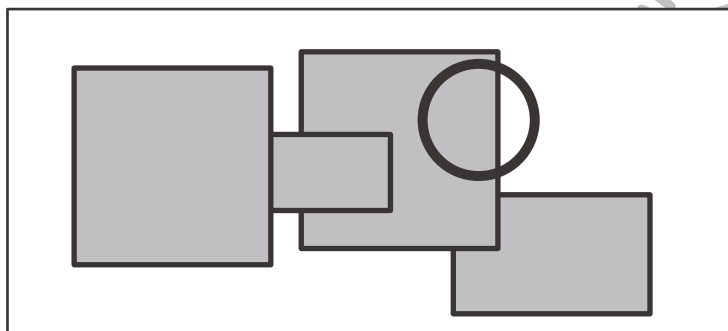
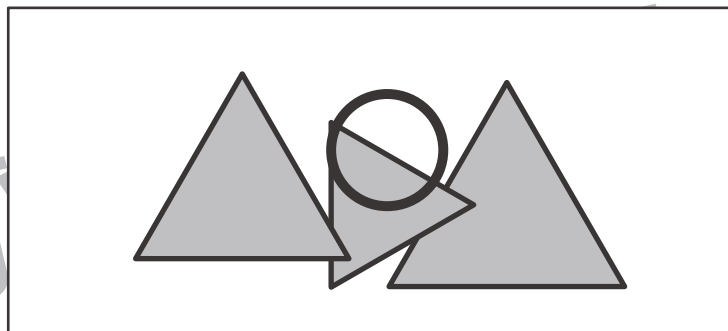
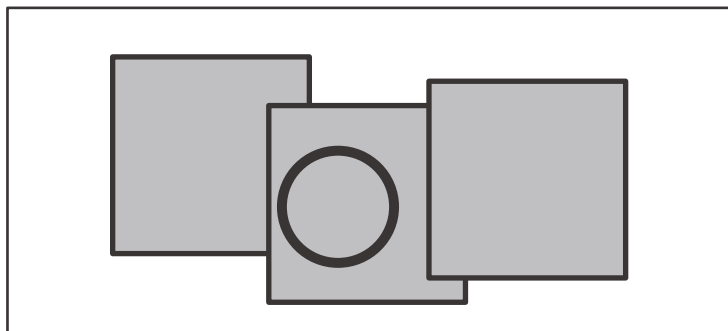


おうちで、やろう。

Study at home. 小学校受験の家庭学習教材

図形：重なり 24

下から 2 番目にある図形に○をつけましょう。



※1. このプリントは、しながわ・目黒こどもスクールのウェブサイトでダウンロードができます。無断複写・引用はご遠慮ください。

※2. このプリントを活用したオンライン授業のスケジュールは、しながわ・目黒こどもスクールのウェブサイトでご確認ください。





おうちで、やろう。

Study at home. 小学校受験の家庭学習教材

図形：折り重ね 47

透明な板に線をかいた四角を真ん中の太い線で矢印の方向へ折り重ねたときの見え方が一番右の四角です。
このとき、一番左のマスにある○を考えてかきます。

Diagram illustrating the process of overlapping a 3x5 grid onto a 3x3 grid. Each row shows the initial grid, a vertical fold line with an arrow, and the resulting overlapping grid. The circles in the overlapping grid are the result of the circles from the original grid being folded over.

Row 1: Original grid has circles at (1,1), (1,3), (1,4), (2,2), (2,3), (3,1). Fold line at column 3. Resulting grid has circles at (1,1), (1,3), (1,4), (2,2), (2,3), (3,1).

Row 2: Original grid has circles at (1,4), (2,2), (2,3), (3,1). Fold line at column 3. Resulting grid has circles at (1,4), (2,2), (2,3), (3,1).

Row 3: Original grid has circles at (1,3), (1,4), (1,5), (2,1), (2,2), (2,3). Fold line at column 3. Resulting grid has circles at (1,3), (1,4), (1,5), (2,1), (2,2), (2,3).

Row 4: Original grid has circles at (1,1), (1,3), (1,4), (2,2), (3,4), (3,5). Fold line at column 3. Resulting grid has circles at (1,1), (1,3), (1,4), (2,2), (3,4), (3,5).

Row 5: Original grid has circles at (1,1), (1,3), (1,4), (2,2), (2,3), (3,4), (3,5). Fold line at column 3. Resulting grid has circles at (1,1), (1,3), (1,4), (2,2), (2,3), (3,4), (3,5).

※1. このプリントは、しながわ・目黒こどもスクールのウェブサイトでダウンロードができます。無断複写・引用はご遠慮ください。
※2. このプリントを活用したオンライン授業のスケジュールは、しながわ・目黒こどもスクールのウェブサイトでご確認ください。



おうちで、やろう。

Study at home. 小学校受験の家庭学習教材

図形：折り重ね 48

透明な板に線をかいた四角を真ん中の太い線で矢印の方向へ折り重ねたときの見え方が一番右の四角です。
このとき、一番左のマスにある○を考えてかきます。

Diagram illustrating the process of overlapping a 3x5 grid of squares. Each row of the grid contains circles in various positions. A thick vertical line with an arrow indicates the fold direction. The final view on the right shows the overlapping result.

Row 1: [○][][][○][○][] → [○][○][○] → [][][○][][○][○] → [○][○][○]

Row 2: [][][][][○][] → [][][○][] → [○][][][○][][] → [○][][○]

Row 3: [○][○][][○][][] → [○][○][○] → [][○][][○][][] → [○][○][○]

Row 4: [○][][][○][○][] → [○][○][○] → [][][][○][○][] → [○][○][]

Row 5: [○][][][][○][○][] → [][][○][○][] → [○][][][○][][○][] → [○][][○][○]

※1. このプリントは、しながわ・目黒こどもスクールのウェブサイトでダウンロードができます。無断複写・引用はご遠慮ください。
※2. このプリントを活用したオンライン授業のスケジュールは、しながわ・目黒こどもスクールのウェブサイトでご確認ください。
















おうちで、やろう。








Study at home. 小学校受験の家庭学習教材









推理：条件推理 25










旗が先頭で動物たちが順番に並んでいます。そこへ、後から右の太い四角の中の動物がやってきて先頭に並びました。そのとき、前から3番目の動物は誰ですか。その動物に○をつけます。

					
---	---	---	---	---	---

						
--	--	--	--	--	--	---

						
---	---	---	---	---	---	---

							
---	---	---	---	---	--	---	---

								
---	---	---	---	---	---	--	---	---

※1. このプリントは、しながわ・目黒こどもスクールのウェブサイトでダウンロードができます。無断複写・引用はご遠慮ください。
 ※2. このプリントを活用したオンライン授業のスケジュールは、しながわ・目黒こどもスクールのウェブサイトでご確認ください。
















おうちで、やろう。








Study at home. 小学校受験の家庭学習教材









推理：条件推理 26










旗が先頭で動物たちが順番に並んでいます。そこへ、後から右の太い四角の中の動物がやってきて前から2番目に並びました。このとき、前から4番目の動物は誰ですか。その動物に○をつけます。

					
---	---	---	---	---	---

						
--	--	--	--	--	--	---

						
---	---	---	---	---	---	---

							
---	---	---	---	---	--	---	---

								
---	---	---	---	---	---	--	---	---

※1. このプリントは、しながわ・目黒こどもスクールのウェブサイトでダウンロードができます。無断複写・引用はご遠慮ください。
※2. このプリントを活用したオンライン授業のスケジュールは、しながわ・目黒こどもスクールのウェブサイトでご確認ください。















おうちで、やろう。

Study at home. 小学校受験の家庭学習教材

数量：多少 14

3つの四角の中には白いマス、灰色のマス、黒いマスがあります。左は白、真ん中は黒、右は灰色の数をかぞえて、一番多いマスの数だけ右の四角に○をかきます。



※1. このプリントは、しながわ・目黒こどもスクールのウェブサイトでダウンロードができます。無断複写・引用はご遠慮ください。
※2. このプリントを活用したオンライン授業のスケジュールは、しながわ・目黒こどもスクールのウェブサイトでご確認ください。















おうちで、やろう。

Study at home. 小学校受験の家庭学習教材

数量：多少 15

3つの四角の中には白いマス、灰色のマス、黒いマスがあります。左は灰色、真ん中は白、右は黒の数をかぞえて、一番多いマスの数だけ右の四角に○をかきます。



※1. このプリントは、しながわ・目黒こどもスクールのウェブサイトでダウンロードができます。無断複写・引用はご遠慮ください。
※2. このプリントを活用したオンライン授業のスケジュールは、しながわ・目黒こどもスクールのウェブサイトでご確認ください。