





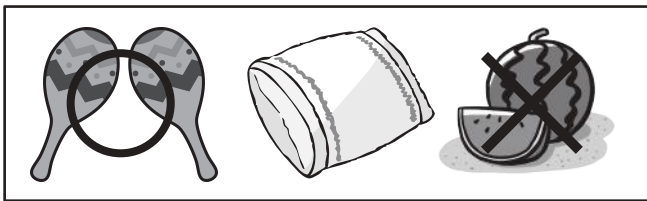




# おうちで、やろう。

Study at home. 小学校受験の家庭学習教材

言語：しりとり 16

縦と横のマスをしりとりでつなげます。横は左から右へ、縦は上から下へしりとりでつなげます。このとき、○と×に入る絵を下の四角の中から選び、それぞれの記号をつけます。



※1. このプリントは、しながわ・目黒こどもスクールのウェブサイトでダウンロードができます。無断複写・引用はご遠慮ください。  
 ※2. このプリントを活用したオンライン授業のスケジュールは、しながわ・目黒こどもスクールのウェブサイトでご確認ください。










# おうちで、やろう。

Study at home. 小学校受験の家庭学習教材

言語：しりとり 17

縦と横のマスをしりとりでつなげます。横は左から右へ、縦は上から下へしりとりでつなげます。このとき、○と×に入る絵を下の四角の中から選び、それぞれの記号をつけます。



※1. このプリントは、しながわ・目黒こどもスクールのウェブサイトからダウンロードできます。無断複写・引用はご遠慮ください。  
 ※2. このプリントを活用したオンライン授業のスケジュールは、しながわ・目黒こどもスクールのウェブサイトでご確認ください。



# おうちで、やろう。

Study at home. 小学校受験の家庭学習教材

言語：しりとり 18

縦と横のマスをしりとりでつなげます。横は左から右へ、縦は上から下へしりとりでつなげます。このとき、それぞれの記号に入る絵を下の四角の中から選び、それぞれの記号をつけます。



※1. このプリントは、しながわ・目黒こどもスクールのウェブサイトでダウンロードができます。無断複写・引用はご遠慮ください。  
 ※2. このプリントを活用したオンライン授業のスケジュールは、しながわ・目黒こどもスクールのウェブサイトでご確認ください。



# おうちで、やろう。

Study at home. 小学校受験の家庭学習教材

## 常識：季節 12

それぞれの四角の中の絵の季節が春のものなら○、夏のものなら△、秋のものなら□、冬のものなら◎をつけます。



※1. このプリントは、しながわ・目黒こどもスクールのウェブサイトでダウンロードができます。無断複写・引用はご遠慮ください。

※2. このプリントを活用したオンライン授業のスケジュールは、しながわ・目黒こどもスクールのウェブサイトでご確認ください。

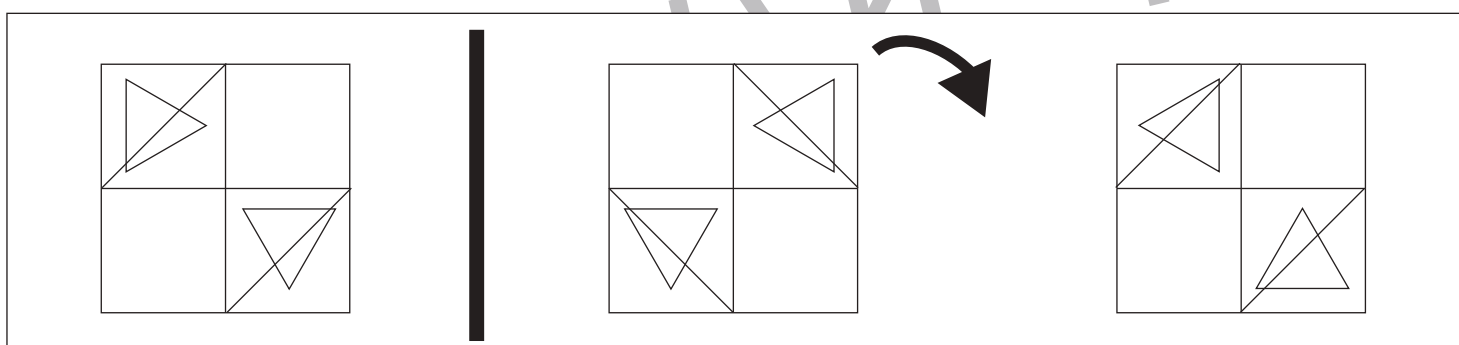
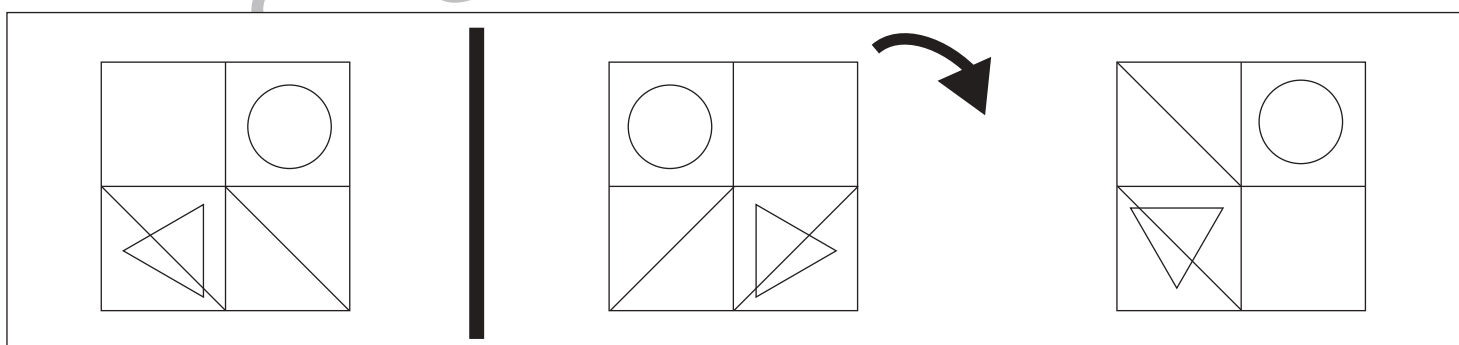
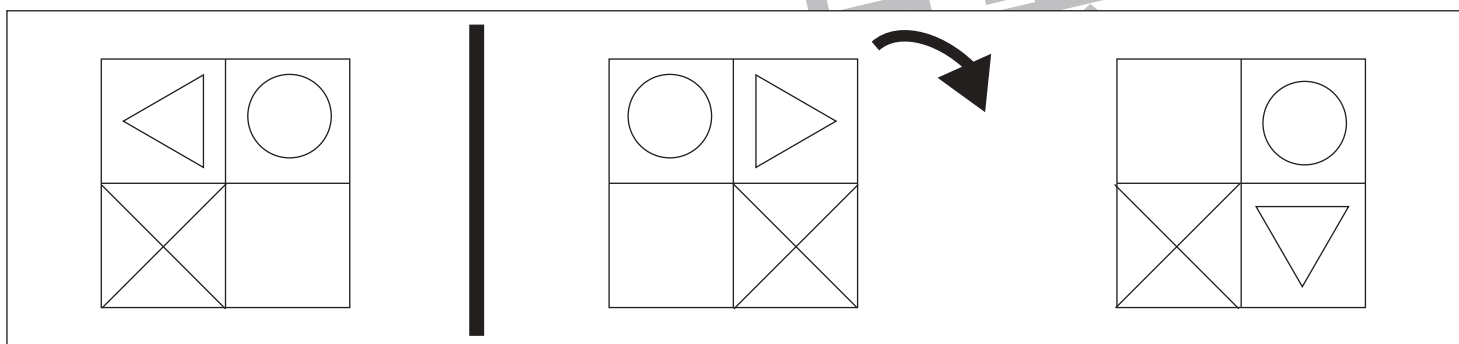
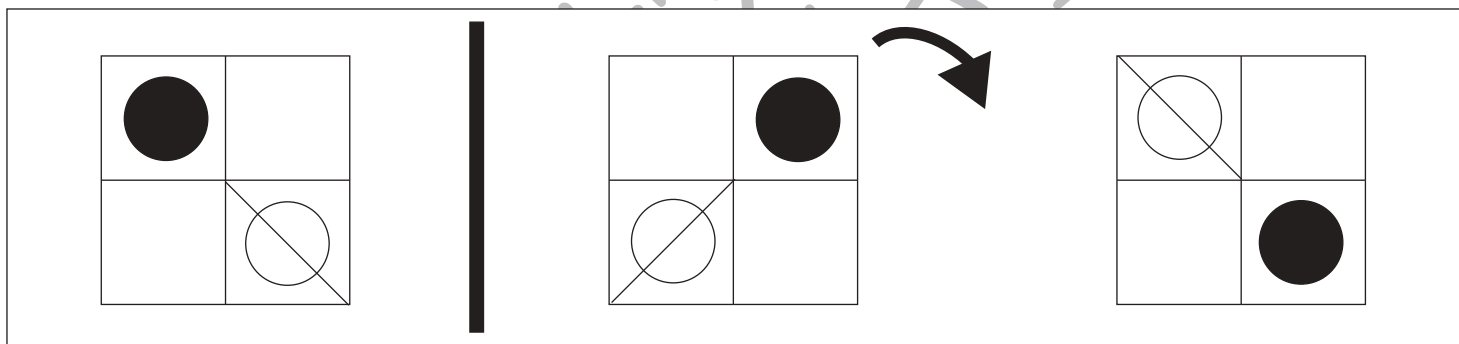
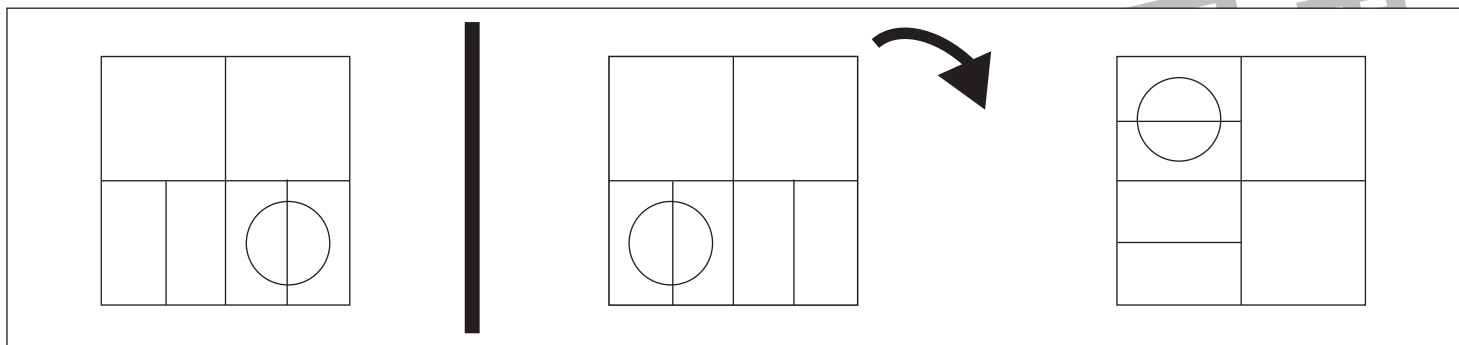


# おうちで、やろう。

Study at home. 小学校受験の家庭学習教材

## 図形：回転鏡 7

左の四角のマスを鏡に映した時の見え方を考えて、真ん中の四角にかきます。その後その形を矢印の方向へ 1 回倒した時の見え方を考えて一番右のマスのマスにかきます。



※1. このプリントは、しながわ・目黒こどもスクールのウェブサイトでダウンロードができます。無断複写・引用はご遠慮ください。

※2. このプリントを活用したオンライン授業のスケジュールは、しながわ・目黒こどもスクールのウェブサイトでご確認ください。



# おうちで、やろう。

Study at home. 小学校受験の家庭学習教材

## 図形：回転鏡 8

左の四角のマスに鏡に映した時の見え方を考えて、真ん中の四角にかきます。その後その形を矢印の方向へ1回倒した時の見え方を考えて一番右のマスにかきます。

<table border="1" style="width: 100%; height: 100%; border-collapse: collapse;"> <tr><td> </td><td> </td><td>●</td></tr> <tr><td> </td><td>△</td><td>○</td></tr> <tr><td>●</td><td> </td><td> </td></tr> </table>			●		△	○	●				<table border="1" style="width: 100%; height: 100%; border-collapse: collapse;"> <tr><td>●</td><td> </td><td> </td></tr> <tr><td>○</td><td>△</td><td> </td></tr> <tr><td> </td><td> </td><td>●</td></tr> </table>	●			○	△				●	↘	<table border="1" style="width: 100%; height: 100%; border-collapse: collapse;"> <tr><td> </td><td>○</td><td>●</td></tr> <tr><td> </td><td>▷</td><td> </td></tr> <tr><td>●</td><td> </td><td> </td></tr> </table>		○	●		▷		●		
		●																													
	△	○																													
●																															
●																															
○	△																														
		●																													
	○	●																													
	▷																														
●																															

<table border="1" style="width: 100%; height: 100%; border-collapse: collapse;"> <tr><td>●</td><td> </td><td>△</td></tr> <tr><td> </td><td>●</td><td> </td></tr> <tr><td>□</td><td> </td><td>●</td></tr> </table>	●		△		●		□		●		<table border="1" style="width: 100%; height: 100%; border-collapse: collapse;"> <tr><td>△</td><td> </td><td>●</td></tr> <tr><td> </td><td>●</td><td> </td></tr> <tr><td>●</td><td> </td><td>□</td></tr> </table>	△		●		●		●		□	↘	<table border="1" style="width: 100%; height: 100%; border-collapse: collapse;"> <tr><td>●</td><td> </td><td>▷</td></tr> <tr><td> </td><td>●</td><td> </td></tr> <tr><td>□</td><td> </td><td>●</td></tr> </table>	●		▷		●		□		●
●		△																													
	●																														
□		●																													
△		●																													
	●																														
●		□																													
●		▷																													
	●																														
□		●																													

<table border="1" style="width: 100%; height: 100%; border-collapse: collapse;"> <tr><td> </td><td>△</td><td> </td></tr> <tr><td>▷</td><td>□</td><td> </td></tr> <tr><td> </td><td>◁</td><td> </td></tr> </table>		△		▷	□			◁			<table border="1" style="width: 100%; height: 100%; border-collapse: collapse;"> <tr><td> </td><td>△</td><td> </td></tr> <tr><td> </td><td>□</td><td>◁</td></tr> <tr><td> </td><td>▷</td><td> </td></tr> </table>		△			□	◁		▷		↘	<table border="1" style="width: 100%; height: 100%; border-collapse: collapse;"> <tr><td> </td><td> </td><td> </td></tr> <tr><td>▽</td><td>□</td><td>▷</td></tr> <tr><td> </td><td>△</td><td> </td></tr> </table>				▽	□	▷		△	
	△																														
▷	□																														
	◁																														
	△																														
	□	◁																													
	▷																														
▽	□	▷																													
	△																														

<table border="1" style="width: 100%; height: 100%; border-collapse: collapse;"> <tr><td>□</td><td> </td><td> </td></tr> <tr><td>▷</td><td>○</td><td>◁</td></tr> <tr><td> </td><td>●</td><td> </td></tr> </table>	□			▷	○	◁		●			<table border="1" style="width: 100%; height: 100%; border-collapse: collapse;"> <tr><td> </td><td> </td><td>□</td></tr> <tr><td>▷</td><td>○</td><td>◁</td></tr> <tr><td> </td><td>●</td><td> </td></tr> </table>			□	▷	○	◁		●		↘	<table border="1" style="width: 100%; height: 100%; border-collapse: collapse;"> <tr><td> </td><td>▽</td><td> </td></tr> <tr><td>●</td><td>○</td><td> </td></tr> <tr><td> </td><td>△</td><td>□</td></tr> </table>		▽		●	○			△	□
□																															
▷	○	◁																													
	●																														
		□																													
▷	○	◁																													
	●																														
	▽																														
●	○																														
	△	□																													

<table border="1" style="width: 100%; height: 100%; border-collapse: collapse;"> <tr><td>●</td><td>□</td><td>●</td></tr> <tr><td>▷</td><td>●</td><td> </td></tr> <tr><td> </td><td> </td><td>●</td></tr> </table>	●	□	●	▷	●				●		<table border="1" style="width: 100%; height: 100%; border-collapse: collapse;"> <tr><td>●</td><td>□</td><td>●</td></tr> <tr><td> </td><td>●</td><td>◁</td></tr> <tr><td>●</td><td> </td><td> </td></tr> </table>	●	□	●		●	◁	●			↘	<table border="1" style="width: 100%; height: 100%; border-collapse: collapse;"> <tr><td>●</td><td> </td><td>●</td></tr> <tr><td> </td><td>●</td><td>□</td></tr> <tr><td> </td><td>△</td><td>●</td></tr> </table>	●		●		●	□		△	●
●	□	●																													
▷	●																														
		●																													
●	□	●																													
	●	◁																													
●																															
●		●																													
	●	□																													
	△	●																													

※1. このプリントは、しながわ・目黒こどもスクールのウェブサイトでダウンロードができます。無断複写・引用はご遠慮ください。

※2. このプリントを活用したオンライン授業のスケジュールは、しながわ・目黒こどもスクールのウェブサイトでご確認ください。



# おうちで、やろう。

Study at home. 小学校受験の家庭学習教材

## 図形：回転鏡 9

左の四角のマスを鏡に映した時の見え方を考えて、真ん中の四角にかきます。その後その形を矢印の方向へ 1 回倒した時の見え方を考えて一番右のマスのマスにかきます。

			↷	
			↷	
			↷	
			↷	
			↷	

※1. このプリントは、しながわ・目黒こどもスクールのウェブサイトでダウンロードができます。無断複写・引用はご遠慮ください。

※2. このプリントを活用したオンライン授業のスケジュールは、しながわ・目黒こどもスクールのウェブサイトでご確認ください。











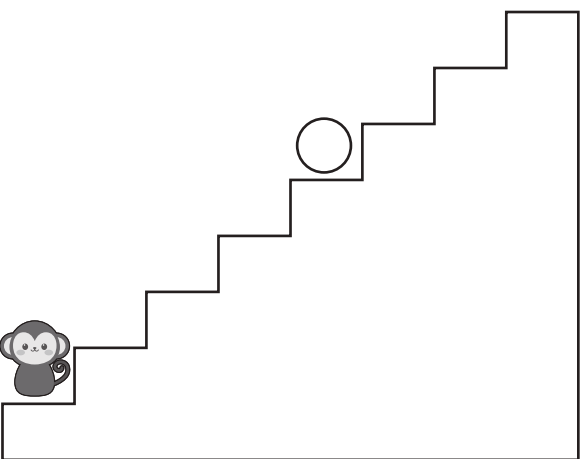
# おうちで、やろう。






Study at home. 小学校受験の家庭学習教材






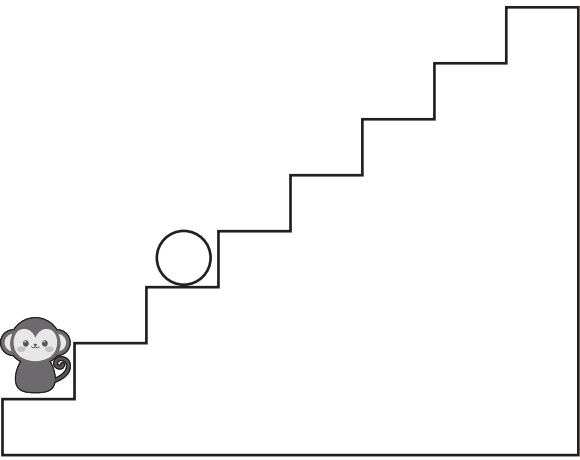
## 推理：条件推理 28






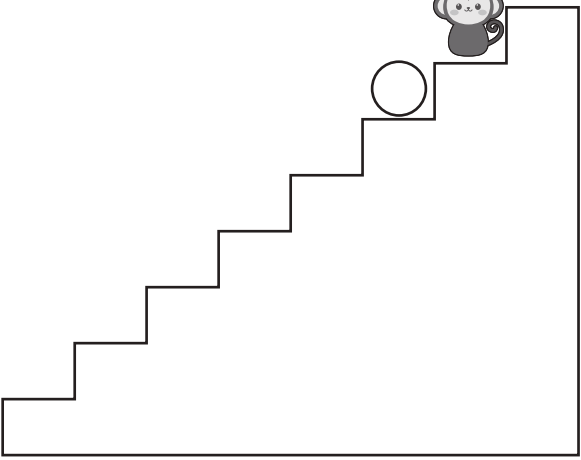
サルが階段を上ったり、下りたりします。この約束は上の太い四角の中にあります。上向きの矢印はその数だけ階段を上がり、下向きの矢印はその数だけ下がります。サルが階段の途中にいるとき、上の果物を左から順番に見て約束通りに上ったり、下がったりしたとき最後にいる場所に○をかきます。

 ↑	 ↑ ↑	 ↓	 ↓ ↓
---	---	---	---

※1. このプリントは、しながわ・目黒こどもスクールのウェブサイトでダウンロードができます。無断複写・引用はご遠慮ください。  
 ※2. このプリントを活用したオンライン授業のスケジュールは、しながわ・目黒こどもスクールのウェブサイトでご確認ください。













# おうちで、やろう。


Study at home. 小学校受験の家庭学習教材





## 推理：条件推理 29


サルが階段を上ったり、下りたりします。この約束は上の太い四角の中にあります。上向き矢印はその数だけ階段を上がり、下向き矢印はその数だけ下がります。サルが階段の途中にいるとき、上の果物を左から順番に見て約束通りに上ったり、下がったりしたとき最後にいる場所に○をかきます。






 ↑ ↑ ↑	 ↑ ↑	 ↓ ↓ ↓	 ↓ ↓
---	---	---	---


			
---	---	---	---









			
---	---	---	---



				
---	---	---	---	---



				
---	---	---	---	---



※1. このプリントは、しながわ・目黒こどもスクールのウェブサイトでダウンロードができます。無断複写・引用はご遠慮ください。

※2. このプリントを活用したオンライン授業のスケジュールは、しながわ・目黒こどもスクールのウェブサイトでご確認ください。



# おうちで、やろう。

Study at home. 小学校受験の家庭学習教材

処理：多少3

横に並んだ2つの四角の中の果物の数をかぞえます。左の四角の数が多いときは○、左の四角の数が少ないときは×を左の四角の中にかきます。この問題はスピードを意識して取り組みましょう。(1分30秒～2分)


※1. このプリントは、しながわ・目黒こどもスクールのウェブサイトでダウンロードができます。無断複写・引用はご遠慮ください。

※2. このプリントを活用したオンライン授業のスケジュールは、しながわ・目黒こどもスクールのウェブサイトでご確認ください。