



おうちで、やろう。

Study at home. 小学校受験の家庭学習教材

言語：音の数 19

動物たちは上の食べ物を食べるとその食べ物の音の数だけ矢印の方向へマスを進みます。乗り物のときは矢印と反対方向へ戻ります。この約束で動物がマスを進み、最後についたマスに○をかきます。



								←	



						→			



	↓								

※1. このプリントは、しながわ・目黒こどもスクールのウェブサイトでダウンロードができます。無断複写・引用はご遠慮ください。
※2. このプリントを活用したオンライン授業のスケジュールは、しながわ・目黒こどもスクールのウェブサイトでご確認ください。




おうちで、やろう。

Study at home. 小学校受験の家庭学習教材

処理能力：抹消 7

上の太い四角の中の絵がお手本です。下のマスの中からお手本の絵をみつけて斜め線（/）をつけていきます。お手本を見つけるときは、一番上の段の左からはじめて、右端まで見ます。1段目ができたら2段目の左から右。次に3段目の左から右と順番に印をつけていきます。この問題はできるだけ早く印をつけます。それぞれ40秒以内を目指し取り組みましょう。



※1. このプリントは、しながわ・目黒こどもスクールのウェブサイトでダウンロードができます。無断複写・引用はご遠慮ください。
※2. このプリントを活用したオンライン授業のスケジュールは、しながわ・目黒こどもスクールのウェブサイトでご確認ください。




おうちで、やろう。

Study at home. 小学校受験の家庭学習教材


数量：順番 1

花の芽が出ています。①～④の問題に答えましょう。


①左から 4 番目、8 番目の芽が一番先に花が咲きました。その芽に○をつけます。




②左から 2 番目、6 番目、10 番目の芽が一番先に花が咲きました。その芽に○をつけます。



③右から 4 番目、6 番目、11 番目の芽が一番先に花が咲きました。その芽に○をつけます。



④右端、左から 3 番目、真ん中の芽が一番先に花が咲きました。その芽に○をつけます。






おうちで、やろう。

Study at home. 小学校受験の家庭学習教材


数量：順番2

花の芽が出ています。①～④の問題に答えましょう。


①左端の芽に○をつけて、ひとつおきに芽に○をつけます。




②右端の芽に○をつけて、ひとつおきに芽に○をつけます。



③左端の芽に○をつけて2つおきに芽に○をつけます。



④右端の芽に○をつけて3つおきに芽に○をつけます。





おうちで、やろう。

Study at home. 小学校受験の家庭学習教材

数量：分割 18

みんなで公園でたくさんのクワガタとカブトムシを取ってきました。
左のように虫かごの中にクワガタとカブトムシを分けると、必要な虫かごはいくつですか。
その数だけ右の四角に〇をかきます。

※1. このプリントは、しながわ・目黒こどもスクールのウェブサイトでダウンロードができます。無断複写・引用はご遠慮ください。
※2. このプリントを活用したオンライン授業のスケジュールは、しながわ・目黒こどもスクールのウェブサイトでご確認ください。




おうちで、やろう。

Study at home. 小学校受験の家庭学習教材

数量：分割 19

みんなで公園でたくさんのクワガタとカブトムシを取ってきました。
左のように虫かごの中にクワガタとカブトムシを分けると、必要な虫かごはいくつですか。
その数だけ右の四角に〇をかきます。



※1. このプリントは、しながわ・目黒こどもスクールのウェブサイトでダウンロードができます。無断複写・引用はご遠慮ください。

※2. このプリントを活用したオンライン授業のスケジュールは、しながわ・目黒こどもスクールのウェブサイトでご確認ください。

































おうちで、やろう。

Study at home. 小学校受験の家庭学習教材

図形：置き換え 13

上の太枠がお手本です。それぞれの絵を、すぐ横にある数字に変身させます。上のマスの絵の場所をよく見て、下のマスに答えを描きましょう。変身させる絵は一段に1つずつあります。この問題は時間をはかってやりましょう。(目安1分～1分30秒)

	1		2		3
	4		5		6

※1. このプリントは、しながわ・目黒こどもスクールのウェブサイトでダウンロードができます。無断複写・引用はご遠慮ください。
 ※2. このプリントを活用したオンライン授業のスケジュールは、しながわ・目黒こどもスクールのウェブサイトでご確認ください。





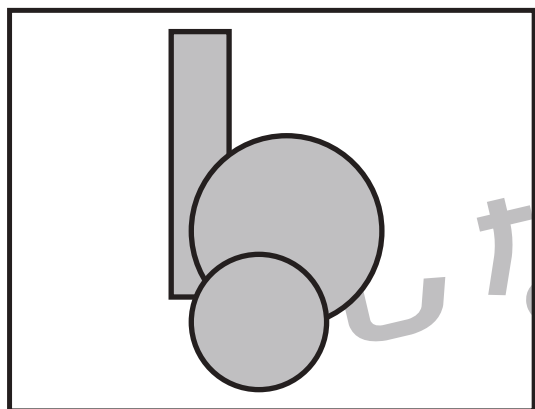


おうちで、やろう。

Study at home. 小学校受験の家庭学習教材

巧緻性：はさみ 11

- ①点線のところをはさみで切ります。
 - ②切った下の部分にある灰色の○、口をはさみで切ります。
 - ③切った上の部分にある形の中に左上のお手本と同じになるようにのりで貼ります。
- ※この問題に解答はありません。



※1. このプリントは、しながわ・目黒こどもスクールのウェブサイトでダウンロードができます。無断複写・引用はご遠慮ください。
※2. このプリントを活用したオンライン授業のスケジュールは、しながわ・目黒こどもスクールのウェブサイトでご確認ください。




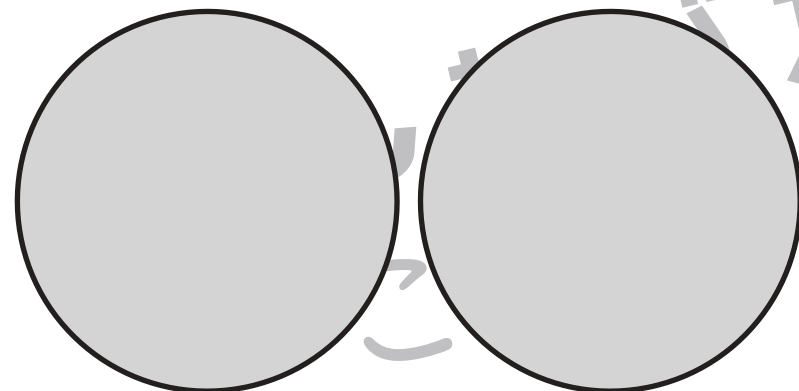


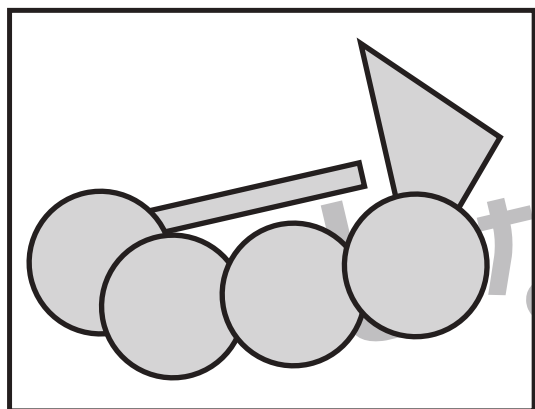


おうちで、やろう。

Study at home. 小学校受験の家庭学習教材

巧緻性：はさみ 12

- ①点線のところをはさみで切ります。 ②切った下の部分にある灰色の○、□、△をはさみで切ります。
 - ③切った上の部分にある形の中に左上のお手本と同じになるようにのりで貼ります。
- ※この問題に解答はありません。



※1. このプリントは、しながわ・目黒こどもスクールのウェブサイトでダウンロードができます。無断複写・引用はご遠慮ください。
 ※2. このプリントを活用したオンライン授業のスケジュールは、しながわ・目黒こどもスクールのウェブサイトでご確認ください。

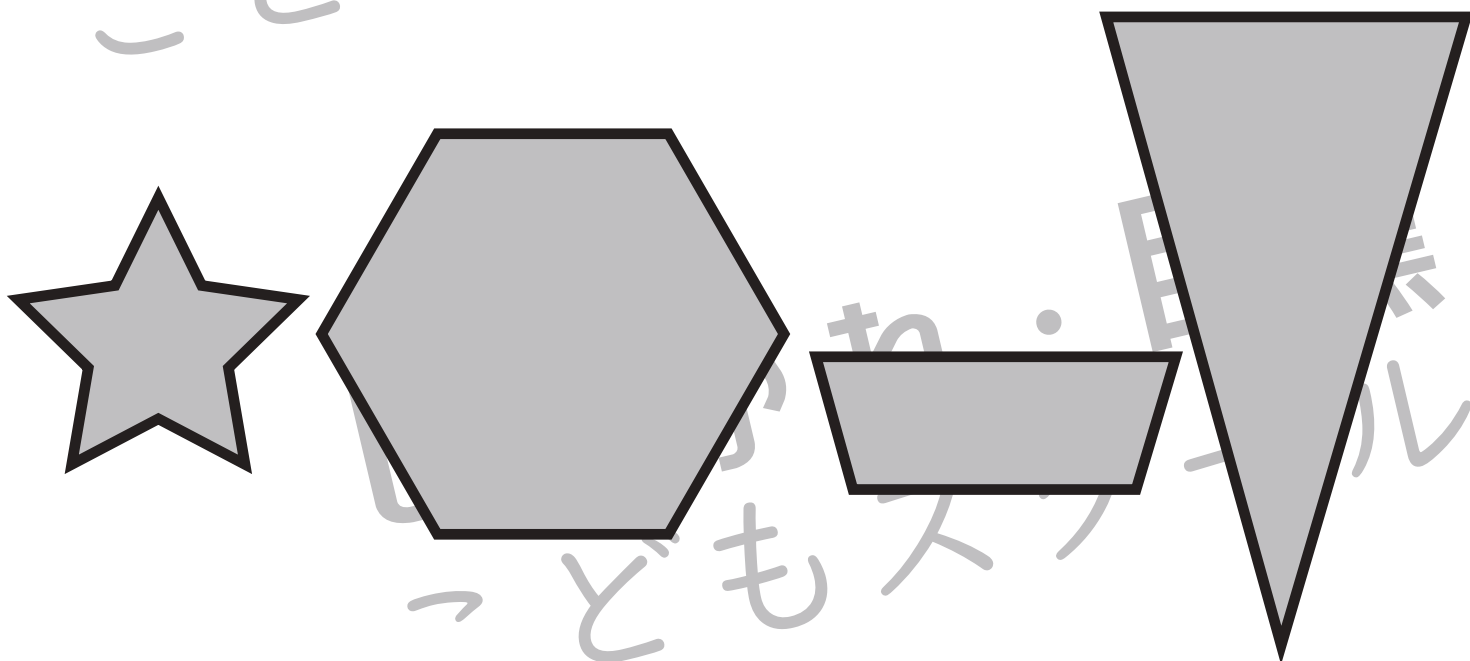




おうちで、やろう。

Study at home. 小学校受験の家庭学習教材

巧緻性：はさみ 13

- ①点線のところをはさみで切ります。
 - ②切った下の部分にある灰色の形をはさみで切ります。
 - ③切った上の部分にある形の中に左上のお手本と同じになるようにのりで貼ります。
- ※この問題に解答はありません。



※1. このプリントは、しながわ・目黒こどもスクールのウェブサイトでダウンロードができます。無断複写・引用はご遠慮ください。
※2. このプリントを活用したオンライン授業のスケジュールは、しながわ・目黒こどもスクールのウェブサイトでご確認ください。