








# おうちで、やろう。

Study at home. 小学校受験の家庭学習教材

## 推理：歯車1

歯車がいくつか並んでいます。その中の1つが矢印の方向に進んだ時、四角の近くにある歯車は右回り、左回りどちらに動きますか。動く向きに矢印をかきます。



※1. このプリントは、しながわ・目黒こどもスクールのウェブサイトからダウンロードできます。無断複写・引用はご遠慮ください。  
※2. このプリントを活用したオンライン授業のスケジュールは、しながわ・目黒こどもスクールのウェブサイトでご確認ください。










# おうちで、やろう。

Study at home. 小学校受験の家庭学習教材

## 推理：歯車2

歯車がいくつか並んでいます。その中の1つが矢印の方向に進んだ時、四角の近くにある歯車は右回り、左回りどちらに動きますか。動く向きに矢印をかきます。



※1. このプリントは、しながわ・目黒こどもスクールのウェブサイトでダウンロードができます。無断複写・引用はご遠慮ください。

※2. このプリントを活用したオンライン授業のスケジュールは、しながわ・目黒こどもスクールのウェブサイトでご確認ください。










# おうちで、やろう。

Study at home. 小学校受験の家庭学習教材

## 図形：歯車3

歯車がいくつか並んでいます。その中の1つが矢印の方向に進んだ時、四角の近くにある歯車は右回り、左回りどちらに動きますか。動く向きに矢印をかきます。



※1. このプリントは、しながわ・目黒こどもスクールのウェブサイトでダウンロードができます。無断複写・引用はご遠慮ください。

※2. このプリントを活用したオンライン授業のスケジュールは、しながわ・目黒こどもスクールのウェブサイトでご確認ください。















# おうちで、やろう。









Study at home. 小学校受験の家庭学習教材


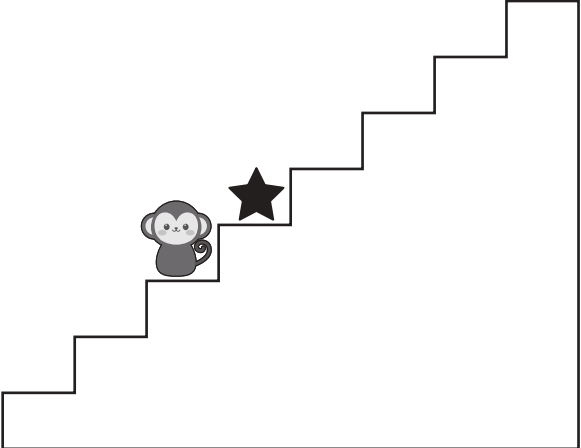
## 推理：条件推理 30










サルが階段を上ったり、下りたりします。この約束は上の太い四角の中にあります。上向きの矢印はその数だけ階段を上がり、下向きの矢印はその数だけ下がります。サルが階段の途中にいるとき、上の果物を左から順番に見て約束通りに上ったり、下がったりしたとき最後にいる場所が★です。★の場所に着くためには最後はどの果物になりますか。太い四角の中から選んで○をつけます。










 ↓	 ↑ ↑	 ↑	 ↓ ↓
---	---	---	---


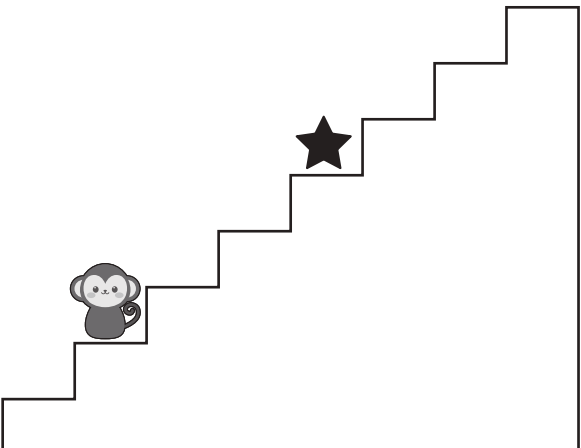
				 ○	 ○	 ○	 ○
---	---	---	---	---	---	---	---

				 ○	 ○	 ○	 ○
---	--	---	---	---	---	---	---

					 ○	 ○	 ○	 ○
---	---	---	---	---	---	---	---	---

					 ○	 ○	 ○	 ○
---	--	---	---	---	---	---	---	---

※1. このプリントは、しながわ・目黒こどもスクールのウェブサイトでダウンロードができます。無断複写・引用はご遠慮ください。

※2. このプリントを活用したオンライン授業のスケジュールは、しながわ・目黒こどもスクールのウェブサイトでご確認ください。















# おうちで、やろう。









Study at home. 小学校受験の家庭学習教材










## 推理：条件推理 31










サルが階段を上ったり、下りたりします。この約束は上の太い四角の中にあります。上向きの矢印はその数だけ階段を上がり、下向きの矢印はその数だけ下がります。サルが階段の途中にいるとき、上の果物を左から順番に見て約束通りに上ったり、下がったりしたとき最後にいる場所が★です。★の場所に着くためには最後はどの果物になりますか。太い四角の中から選んで○をつけます。

 ↑ ↓	 ↑ ↑	 ↑ ↑ ↑	 ↓ ↓ ↑
---	---	---	---

※1. このプリントは、しながわ・目黒こどもスクールのウェブサイトでダウンロードができます。無断複写・引用はご遠慮ください。  
※2. このプリントを活用したオンライン授業のスケジュールは、しながわ・目黒こどもスクールのウェブサイトでご確認ください。















# おうちで、やろう。









Study at home. 小学校受験の家庭学習教材

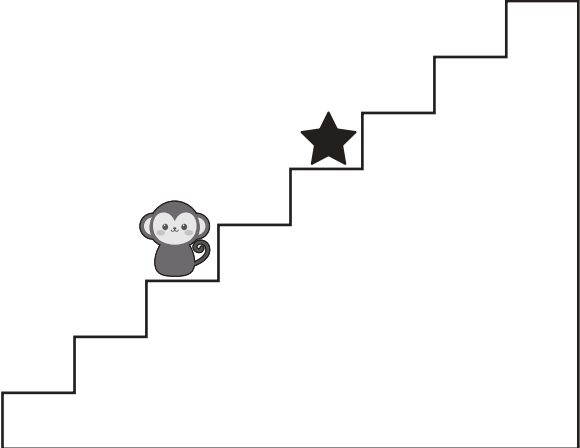
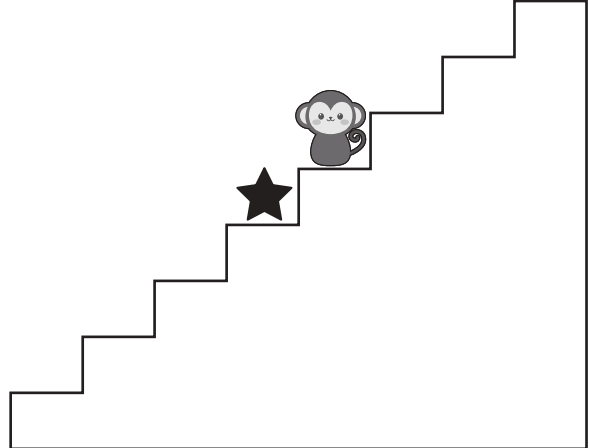
## 推理：条件推理 32










サルが階段を上ったり、下りたりします。この約束は上の太い四角の中にあります。上向き矢印はその数だけ階段を上がり、下向き矢印はその数だけ下がります。サルが階段の途中にいるとき、上の果物を左から順番に見て約束通りに上ったり、下がったりしたとき最後にいる場所が★です。★の場所に着くためには最後はどの果物になりますか。太い四角の中から選んで○をつけます。










 ↑ ↓ ↑	 ↓ ↓	 ↑ ↑ ↑	 ↓ ↑ ↓
---	---	---	---

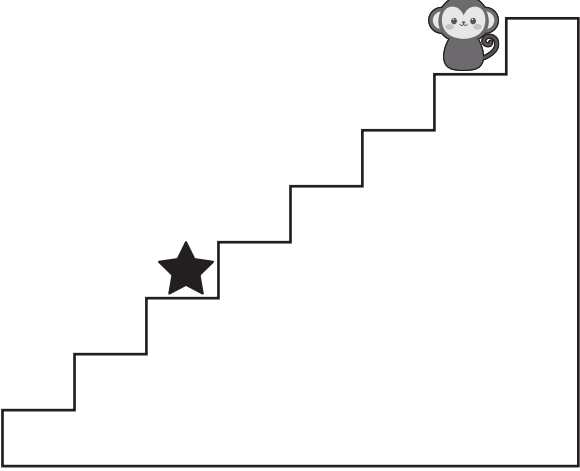
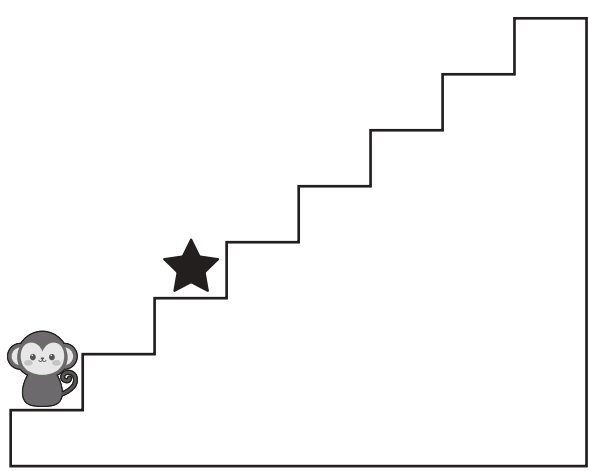
							
---	---	---	---	---	---	---	---

							
---	--	---	---	---	---	---	---

								
---	---	---	---	---	---	---	---	---

								
---	--	---	---	---	---	---	---	---

※1. このプリントは、しながわ・目黒こどもスクールのウェブサイトでダウンロードができます。無断複写・引用はご遠慮ください。  
※2. このプリントを活用したオンライン授業のスケジュールは、しながわ・目黒こどもスクールのウェブサイトでご確認ください。



# おうちで、やろう。

Study at home. 小学校受験の家庭学習教材

## 推理：広さ 20

左上の四角の中がお手本でお手本の灰色のマスの方を考えます。お手本の灰色のマスの方より広いものを選んで○をつけます。


※1. このプリントは、しながわ・目黒こどもスクールのウェブサイトからダウンロードできます。無断複写・引用はご遠慮ください。  
 ※2. このプリントを活用したオンライン授業のスケジュールは、しながわ・目黒こどもスクールのウェブサイトでご確認ください。



# おうちで、やろう。

Study at home. 小学校受験の家庭学習教材

推理：広さ21

左上の四角の中がお手本でお手本の灰色のマスの方を考えます。お手本の灰色のマスの方より広いものを選んで○をつけます。

<table border="1"> <tbody> <tr><td></td><td>■</td><td></td><td></td><td></td></tr> <tr><td></td><td>■</td><td></td><td></td><td>■</td></tr> <tr><td>■</td><td></td><td>■</td><td>■</td><td></td></tr> <tr><td></td><td>■</td><td>■</td><td></td><td>■</td></tr> </tbody> </table>		■					■			■	■		■	■			■	■		■	<table border="1"> <tbody> <tr><td></td><td></td><td></td><td></td><td>■</td></tr> <tr><td>■</td><td>■</td><td>■</td><td>■</td><td></td></tr> <tr><td></td><td></td><td></td><td>■</td><td></td></tr> <tr><td></td><td></td><td>■</td><td></td><td>■</td></tr> </tbody> </table>					■	■	■	■	■					■				■		■	<table border="1"> <tbody> <tr><td>■</td><td></td><td>■</td><td></td><td></td></tr> <tr><td></td><td></td><td></td><td>■</td><td></td></tr> <tr><td>■</td><td>■</td><td>■</td><td></td><td>■</td></tr> <tr><td></td><td>■</td><td>■</td><td></td><td>■</td></tr> </tbody> </table>	■		■						■		■	■	■		■		■	■		■
	■																																																													
	■			■																																																										
■		■	■																																																											
	■	■		■																																																										
				■																																																										
■	■	■	■																																																											
			■																																																											
		■		■																																																										
■		■																																																												
			■																																																											
■	■	■		■																																																										
	■	■		■																																																										
<table border="1"> <tbody> <tr><td></td><td></td><td></td><td></td><td>■</td></tr> <tr><td></td><td></td><td>■</td><td>■</td><td>■</td></tr> <tr><td>■</td><td></td><td>■</td><td></td><td>■</td></tr> <tr><td>■</td><td>■</td><td></td><td>■</td><td></td></tr> </tbody> </table>					■			■	■	■	■		■		■	■	■		■		<table border="1"> <tbody> <tr><td></td><td></td><td>■</td><td></td><td>■</td></tr> <tr><td>■</td><td></td><td></td><td></td><td></td></tr> <tr><td></td><td>■</td><td></td><td>■</td><td></td></tr> <tr><td></td><td></td><td>■</td><td></td><td>■</td></tr> </tbody> </table>			■		■	■						■		■				■		■	<table border="1"> <tbody> <tr><td></td><td></td><td>■</td><td></td><td></td></tr> <tr><td>■</td><td></td><td></td><td>■</td><td></td></tr> <tr><td></td><td>■</td><td>■</td><td></td><td>■</td></tr> <tr><td>■</td><td></td><td></td><td>■</td><td></td></tr> </tbody> </table>			■			■			■			■	■		■	■			■	
				■																																																										
		■	■	■																																																										
■		■		■																																																										
■	■		■																																																											
		■		■																																																										
■																																																														
	■		■																																																											
		■		■																																																										
		■																																																												
■			■																																																											
	■	■		■																																																										
■			■																																																											
<table border="1"> <tbody> <tr><td></td><td>■</td><td></td><td></td><td>■</td></tr> <tr><td>■</td><td></td><td>■</td><td>■</td><td></td></tr> <tr><td></td><td>■</td><td>■</td><td></td><td></td></tr> <tr><td>■</td><td>■</td><td>■</td><td></td><td>■</td></tr> </tbody> </table>		■			■	■		■	■			■	■			■	■	■		■	<table border="1"> <tbody> <tr><td></td><td></td><td>■</td><td>■</td><td>■</td></tr> <tr><td></td><td>■</td><td></td><td></td><td></td></tr> <tr><td>■</td><td></td><td>■</td><td>■</td><td></td></tr> <tr><td>■</td><td></td><td>■</td><td></td><td></td></tr> </tbody> </table>			■	■	■		■				■		■	■		■		■			<table border="1"> <tbody> <tr><td></td><td>■</td><td>■</td><td>■</td><td></td></tr> <tr><td></td><td></td><td></td><td></td><td></td></tr> <tr><td>■</td><td></td><td></td><td>■</td><td></td></tr> <tr><td>■</td><td>■</td><td>■</td><td>■</td><td></td></tr> </tbody> </table>		■	■	■							■			■		■	■	■	■	
	■			■																																																										
■		■	■																																																											
	■	■																																																												
■	■	■		■																																																										
		■	■	■																																																										
	■																																																													
■		■	■																																																											
■		■																																																												
	■	■	■																																																											
■			■																																																											
■	■	■	■																																																											

※1. このプリントは、しながわ・目黒こどもスクールのウェブサイトからダウンロードできます。無断複写・引用はご遠慮ください。

※2. このプリントを活用したオンライン授業のスケジュールは、しながわ・目黒こどもスクールのウェブサイトでご確認ください。






# おうちで、やろう。

Study at home. 小学校受験の家庭学習教材

処理能力：抹消 8

上の太い四角の中の絵がお手本です。下のマスの中からお手本の絵をみつけて斜め線（/）をつけていきます。お手本を見つけるときは、一番上の段の左からはじめて、右端まで見ます。1段目ができたら2段目の左から右。次に3段目の左から右と順番に印をつけていきます。この問題はできるだけ早く印をつけます。それぞれ40秒以内を目指し取り組みましょう。







※1. このプリントは、しながわ・目黒こどもスクールのウェブサイトでダウンロードができます。無断複写・引用はご遠慮ください。  
※2. このプリントを活用したオンライン授業のスケジュールは、しながわ・目黒こどもスクールのウェブサイトでご確認ください。




# おうちで、やろう。

Study at home. 小学校受験の家庭学習教材

巧緻性：ちぎり 20

①点線をはさみで切ります。

②それぞれの動物の太い線をちぎります。



※1. このプリントは、しながわ・目黒こどもスクールのウェブサイトでダウンロードができます。無断複写・引用はご遠慮ください。

※2. このプリントを活用したオンライン授業のスケジュールは、しながわ・目黒こどもスクールのウェブサイトでご確認ください。

