




おうちで、やろう。

Study at home. 小学校受験の家庭学習教材


数量：順番 3

花の芽が出ています。①～④の問題に答えましょう。


①左から 3 番目とその右の芽に○をつけます。




②左から 2 番目と右から 5 番目の間にある芽を○で囲みます。



③左から 6 番目と右から 3 番目の間にある芽を○で囲みます。



④真ん中のと右端の芽の間にある芽を○で囲みます。



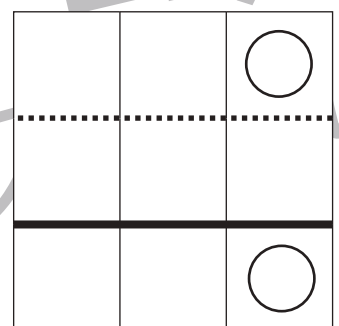
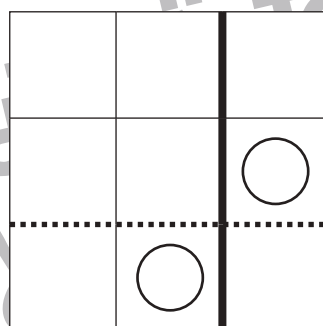
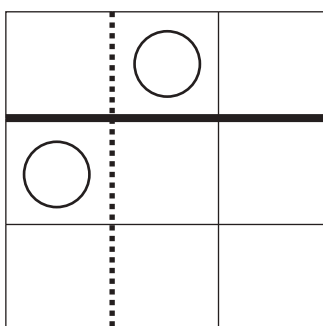
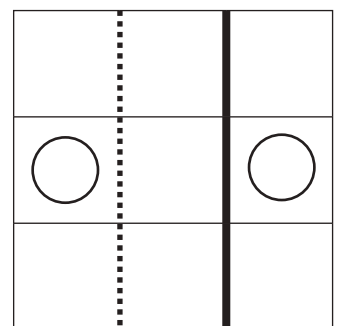
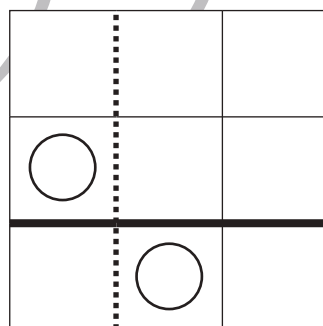
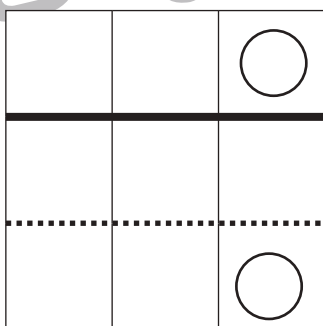
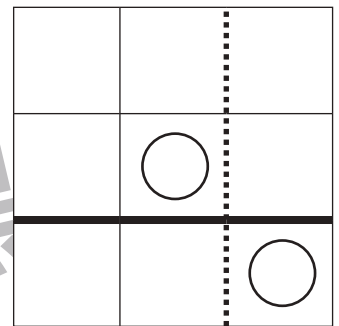
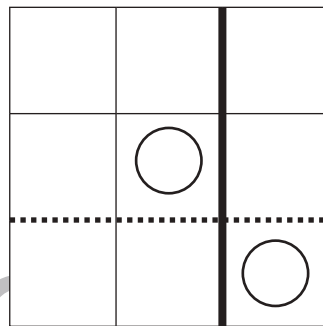
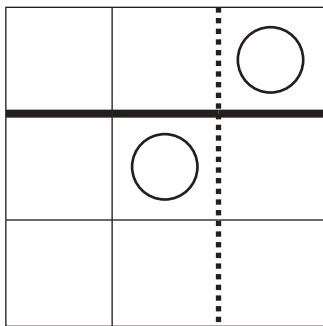
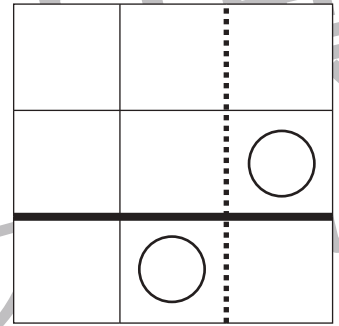
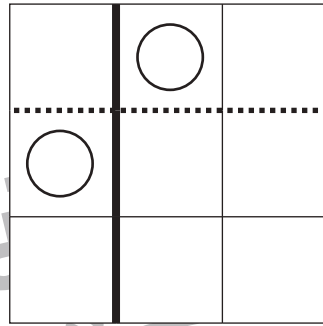
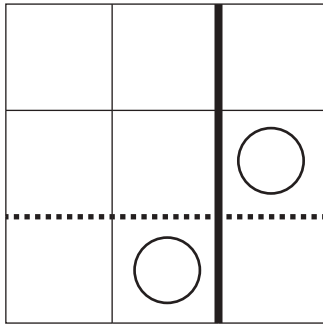


おうちで、やろう。

Study at home. 小学校受験の家庭学習教材

図形：折り重ね 49

それぞれの四角を黒い線で折り重ね、一度開いてからその後に点線で折り重ねたときの○の場所を考えて○をかきます。
折り重ねるときは○がある方を重ねます。



※1. このプリントは、しながわ・目黒こどもスクールのウェブサイトでダウンロードができます。無断複写・引用はご遠慮ください。
※2. このプリントを活用したオンライン授業のスケジュールは、しながわ・目黒こどもスクールのウェブサイトでご確認ください。



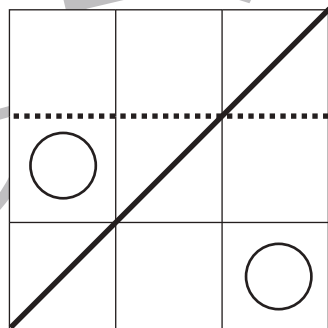
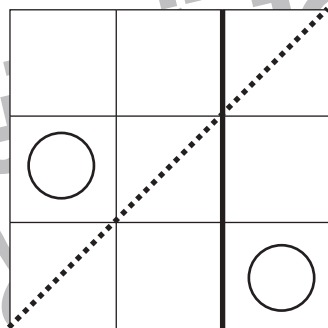
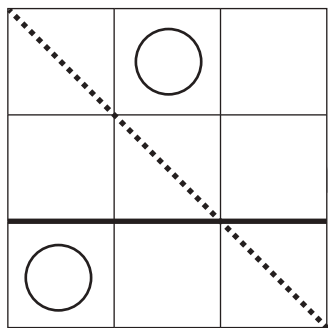
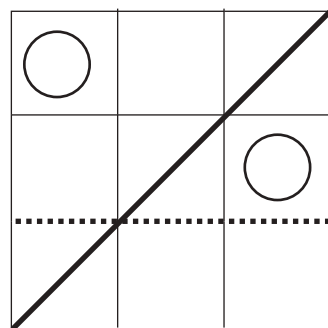
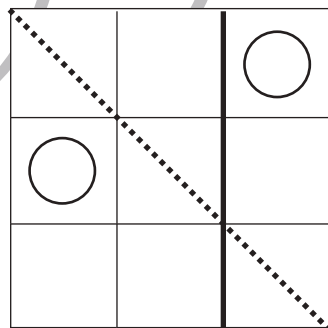
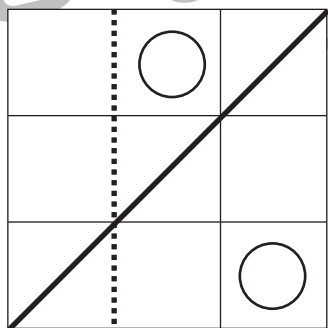
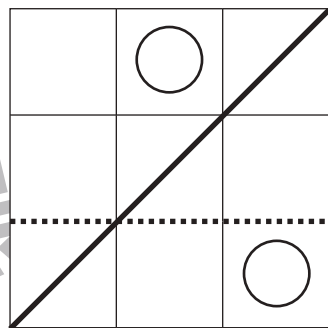
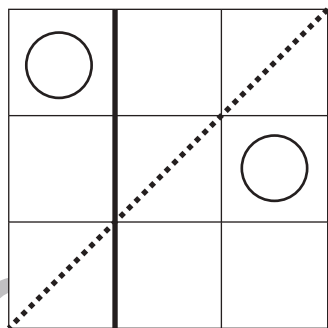
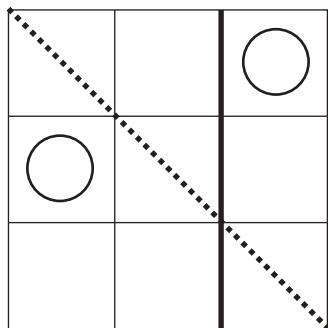
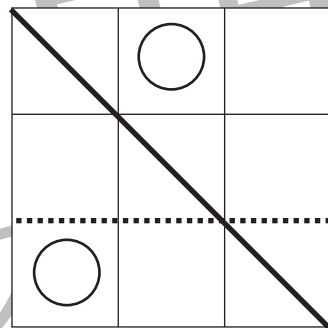
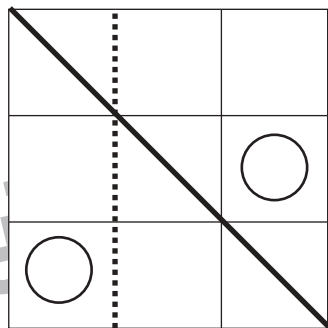
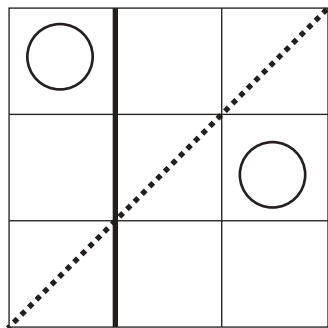


おうちで、やろう。

Study at home. 小学校受験の家庭学習教材

図形：折り重ね 50

それぞれの四角を黒い線で折り重ね、一度開いてからその後に点線で折り重ねたときの○の場所を考えて○をかきます。
折り重ねるときは○がある方を重ねます。



※1. このプリントは、しながわ・目黒こどもスクールのウェブサイトでダウンロードができます。無断複写・引用はご遠慮ください。
※2. このプリントを活用したオンライン授業のスケジュールは、しながわ・目黒こどもスクールのウェブサイトでご確認ください。



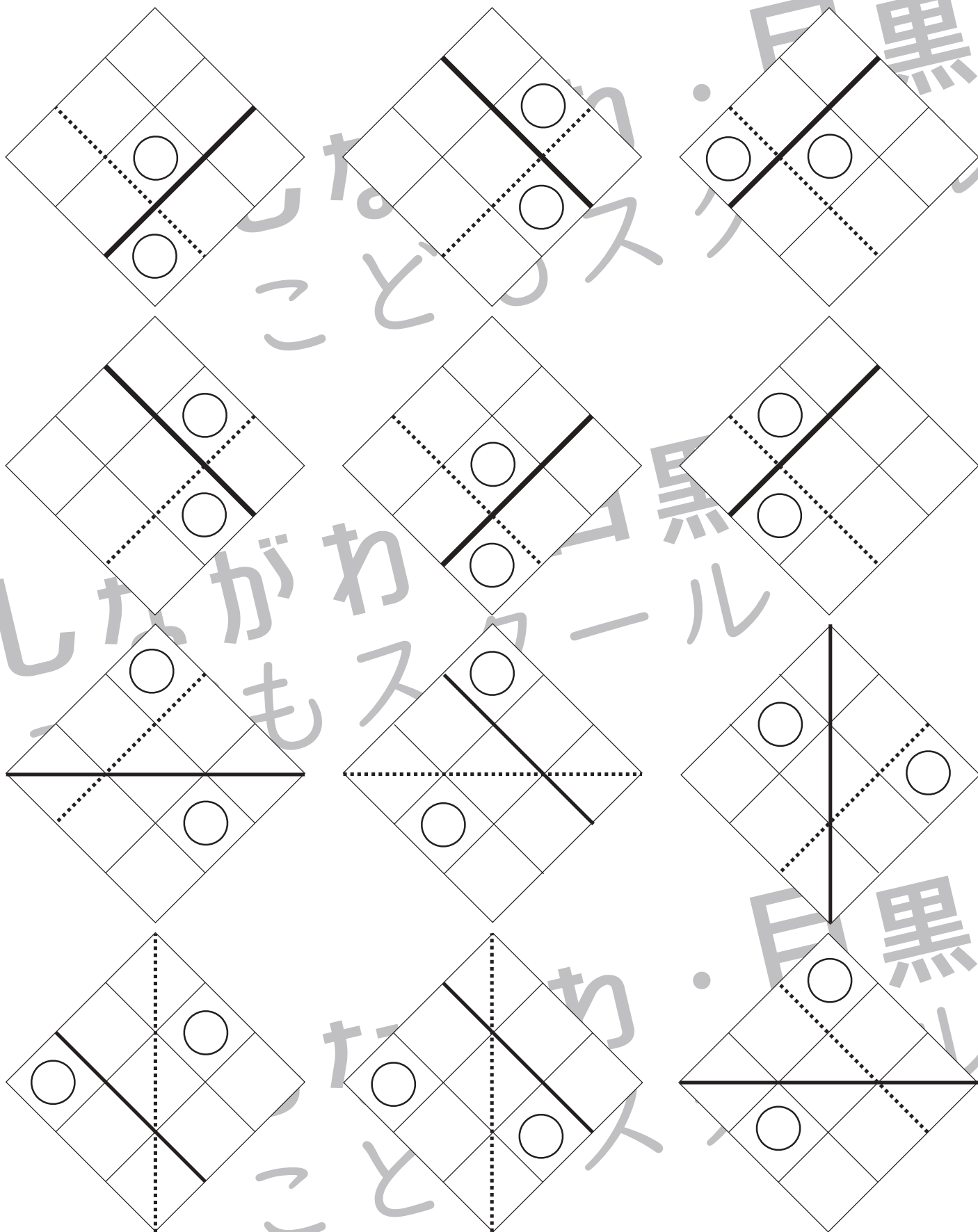


おうちで、やろう。

Study at home. 小学校受験の家庭学習教材

図形：折り重ね51

それぞれの四角を黒い線で折り重ね、一度開いてからその後に点線で折り重ねたときの○の場所を考えて○をかきます。
折り重ねるときは○がある方を重ねます。



※1. このプリントは、しながわ・目黒こどもスクールのウェブサイトでダウンロードができます。無断複写・引用はご遠慮ください。
※2. このプリントを活用したオンライン授業のスケジュールは、しながわ・目黒こどもスクールのウェブサイトでご確認ください。



おうちで、やろう。

Study at home. 小学校受験の家庭学習教材

推理：条件推理 33

縦と横に3つずつ並んだマスにそれぞれの問題の上の太い四角の中にある2種類の記号をかきます。その時、上と下、左と右が同じ記号にならないようにします。この約束の時、空いているマスに入る記号をかきます。答えは上の四角にかきますが、間違えてしまった場合は下の四角にかきなおしましょう。

○ ×		
○	×	○
×	○	×
○	×	○
	×	○
		×
○		

○ ×		
×	○	×
○	×	○
×	○	×
	○	
×		×

○ △		
△	○	△
○	△	○
△	○	△
		△
○		
		△

○ □		
□	○	□
○	□	○
□	○	□
○		
□		□

△ ×		
×	△	×
△	×	△
×	△	×
×		
	×	

□ △		
△	□	△
□	△	□
△	□	△
	△	

※1. このプリントは、しながわ・目黒こどもスクールのウェブサイトでダウンロードができます。無断複写・引用はご遠慮ください。

※2. このプリントを活用したオンライン授業のスケジュールは、しながわ・目黒こどもスクールのウェブサイトでご確認ください。



おうちで、やろう。

Study at home. 小学校受験の家庭学習教材

推理：条件推理 34

縦と横に3つずつ並んだマスにそれぞれの問題の上の太い四角の中にある3種類の記号を3つずつかきます。その時、上と下、左と右が同じ記号にならないようにします。この約束の時、空いているマスに入る記号をかきます。答えは上の四角にかきますが、間違えてしまった場合は下の四角にかきなおしましょう。

○ △ ×		
△	×	○
×	○	△
○	△	×
△		○
○		×

○ △ ×		
△	○	×
○	×	△
×	△	○
△	○	
×		○

○ △ ×		
×	○	△
○	△	×
△	×	○
×		△
	△	
	×	

□ ○ △		
△	○	□
□	△	○
○	□	△
	○	
□		○
	□	

□ × △		
×	△	□
△	□	×
□	×	△
		□
	□	
□		△

□ ○ △		
△	□	○
□	○	△
○	△	□
	□	
	○	△
○		

※1. このプリントは、しながわ・目黒こどもスクールのウェブサイトでダウンロードができます。無断複写・引用はご遠慮ください。

※2. このプリントを活用したオンライン授業のスケジュールは、しながわ・目黒こどもスクールのウェブサイトでご確認ください。









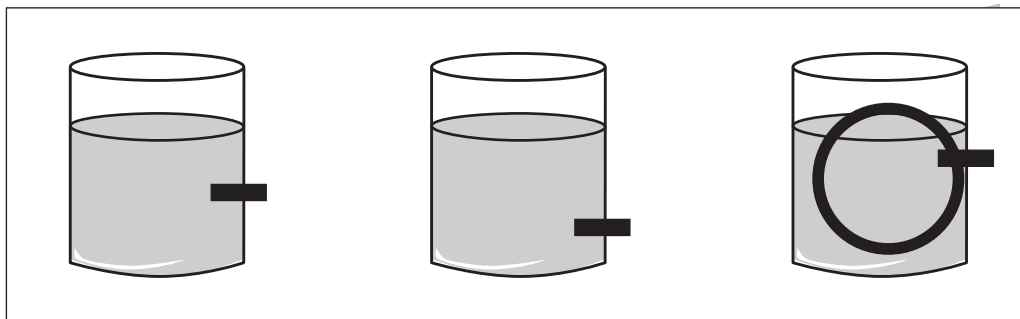



おうちで、やろう。

Study at home. 小学校受験の家庭学習教材

推理：水量 16

左の太い四角の中のコップには水が入っています。これはお手本の水の量です。右の3つのコップにもお手本と同じ量だけ水が入っています。このとき黒い四角のところで穴をあけて水を抜きます。水を抜いたあと、コップに残った水の量が一番多いコップに○をつけます。



※1. このプリントは、しながわ・目黒こどもスクールのウェブサイトでダウンロードができます。無断複写・引用はご遠慮ください。

※2. このプリントを活用したオンライン授業のスケジュールは、しながわ・目黒こどもスクールのウェブサイトでご確認ください。




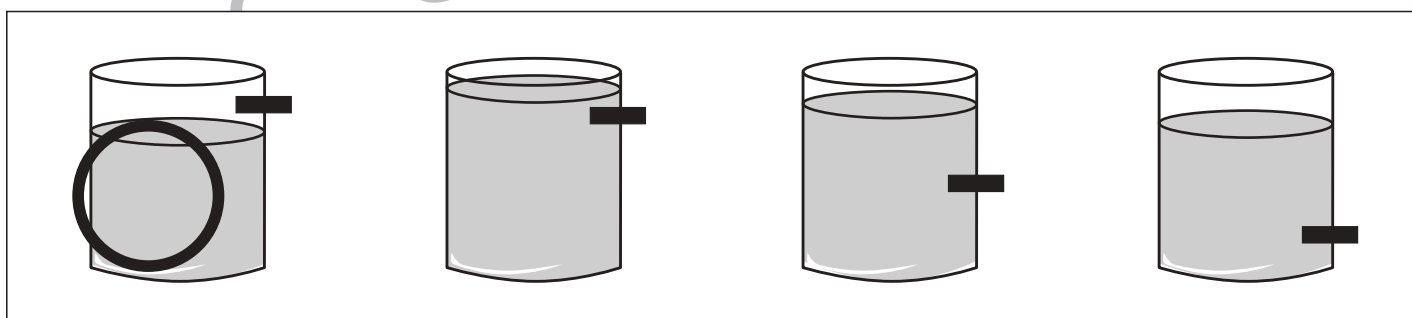


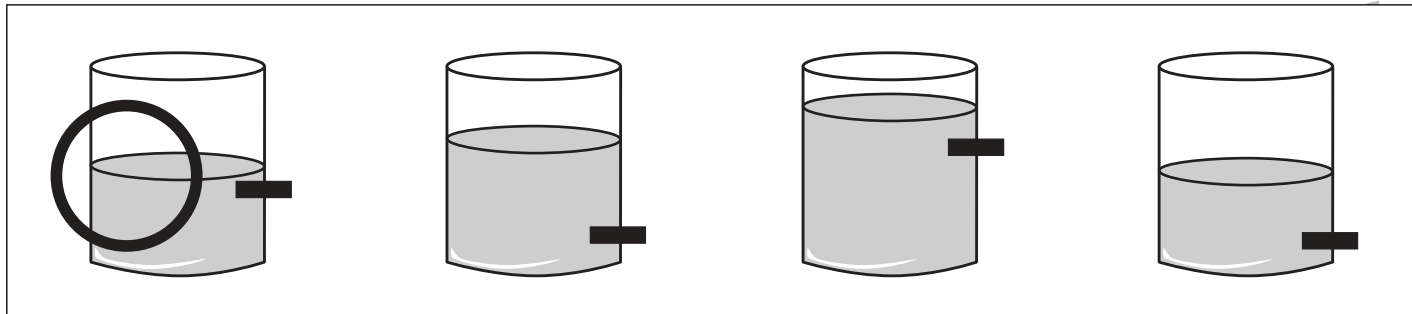


おうちで、やろう。

Study at home. 小学校受験の家庭学習教材

推理：水量 17

4つのコップの中にそれぞれ水が入っています。それぞれのコップの黒い四角のところを穴をあけて水を抜きます。水を抜いたあと、コップに残った水の量が2番目に多いコップに○をつけます。



※1. このプリントは、しながわ・目黒こどもスクールのウェブサイトでダウンロードができます。無断複写・引用はご遠慮ください。
※2. このプリントを活用したオンライン授業のスケジュールは、しながわ・目黒こどもスクールのウェブサイトでご確認ください。



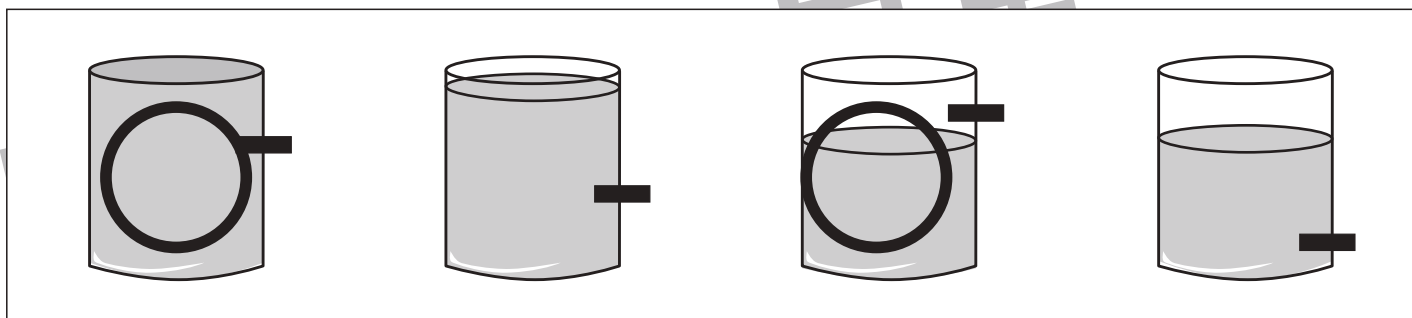




おうちで、やろう。

Study at home. 小学校受験の家庭学習教材

推理：水量 18

4つのコップの中にそれぞれ水が入っています。それぞれのコップの黒い四角のところを穴をあけて水を抜きます。水を抜いたあと、コップに残った水の量が同じもの2つに○をつけます。



※1. このプリントは、しながわ・目黒こどもスクールのウェブサイトでダウンロードができます。無断複写・引用はご遠慮ください。
※2. このプリントを活用したオンライン授業のスケジュールは、しながわ・目黒こどもスクールのウェブサイトでご確認ください。






おうちで、やろう。

Study at home. 小学校受験の家庭学習教材

処理能力：抹消9

上の太い四角の中の絵がお手本です。下のマスの中からお手本の絵をみつけて斜め線（/）をつけていきます。お手本を見つけるときは、一番上の段の左からはじめて、右端まで見ます。1段目ができたら2段目の左から右。次に3段目の左から右と順番に印をつけていきます。この問題はできるだけ早く印をつけます。それぞれ40秒以内を目指し取り組みましょう。



※1. このプリントは、しながわ・目黒こどもスクールのウェブサイトでダウンロードができます。無断複写・引用はご遠慮ください。
※2. このプリントを活用したオンライン授業のスケジュールは、しながわ・目黒こどもスクールのウェブサイトでご確認ください。